

Nazwa kwalifikacji: **Prowadzenie gospodarstwa agroturystycznego**

Oznaczenie kwalifikacji: **T.08**

Wersja arkusza: **X**

T.08-X-15.08

Czas trwania egzaminu: **60 minut**

EGZAMIN POTWIERDZAJĄCY KWALIFIKACJE W ZAWODZIE

Rok 2015

CZEŚĆ PISEMNA

Instrukcja dla zdającego

1. Sprawdź, czy arkusz egzaminacyjny zawiera 9 stron. Ewentualny brak stron lub inne usterki zgłoś przewodniczącemu zespołu nadzorującego.
2. Do arkusza dołączona jest KARTA ODPOWIEDZI, na której w oznaczonych miejscach:
 - wpisz oznaczenie kwalifikacji,
 - zamaluj kratkę z oznaczeniem wersji arkusza,
 - wpisz swój numer PESEL*,
 - wpisz swoją datę urodzenia,
 - przyklej naklejkę ze swoim numerem PESEL.
3. Arkusz egzaminacyjny zawiera test składający się z 40 zadań.
4. Za każde poprawnie rozwiązane zadanie możesz uzyskać 1 punkt.
5. Aby zdać część pisemną egzaminu musisz uzyskać co najmniej 20 punktów.
6. Czytaj uważnie wszystkie zadania.
7. Rozwiązania zaznaczaj na KARCIE ODPOWIEDZI długopisem lub piórem z czarnym tuszem/atramentem.
8. Do każdego zadania podane są cztery możliwe odpowiedzi: A, B, C, D. Odpowiada im następujący układ kratek w KARCIE ODPOWIEDZI:

A	B	C	D
---	---	---	---

9. Tylko jedna odpowiedź jest poprawna.
10. Wybierz właściwą odpowiedź i zamaluj kratkę z odpowiadającą jej literą – np., gdy wybrałeś odpowiedź „A”:

■	B	C	D
---	---	---	---

11. Staraj się wyraźnie zaznaczać odpowiedzi. Jeżeli się pomylisz i błędnie zaznaczysz odpowiedź, otocz ją kółkiem i zaznacz odpowiedź, którą uważasz za poprawną, np.

(■)	B	C	■
-----	---	---	---

12. Po rozwiązaniu testu sprawdź, czy zaznaczyłeś wszystkie odpowiedzi na KARCIE ODPOWIEDZI i wprowadziłeś wszystkie dane, o których mowa w punkcie 2 tej instrukcji.

Pamiętaj, że oddajesz przewodniczącemu zespołu nadzorującego tylko KARTĘ ODPOWIEDZI.

Powodzenia!

* w przypadku braku numeru PESEL – seria i numer paszportu lub innego dokumentu potwierdzającego tożsamość

Zadanie 1.

Konferencja to odmiana

- A. śliwy.
- B. gruszy.
- C. jabłoni.
- D. czereśni.

Zadanie 2.

Z której zimozielonej rośliny wykonano przedstawiony na zdjęciu żywopłot?

- A. Głogu.
- B. Berberysu.
- C. Bukszpanu.
- D. Różanecznika.



Zadanie 3.

W celu prawidłowego przechowywania i transportu siana zwija się je w bele o nazwie

- A. kopa.
- B. balot.
- C. snopek.
- D. mendel.

Zadanie 4.

Dzikię pędy obcinane w czasie pielęgnacji drzew owocowych to

- A. wilki.
- B. różgi.
- C. witki.
- D. rozłogi.

Zadanie 5.


Które zdjęcie przedstawia perliczkę?




A.



B.



C.



D.

Zadanie 6.

Podstawowymi elementami składowymi obornika są:

- A. ściółka, torf.
- B. torf, odchody zwierząt.
- C. ściółka, odpady roślinne.
- D. odchody zwierząt, ściółka.

Zadanie 7.

W celu uzupełnienia niedoboru soli i składników mineralnych bydłu podaje się

- A. śrutę.
- B. siano.
- C. lizawkę.
- D. zielonkę.

Zadanie 8.

Zgrzebło służy do

- A. strzyżenia runa leśnego.
- B. czesania sierści konia.
- C. obcinania rogów jelenia.
- D. czyszczenia racic świni.

Zadanie 9.

Cielną krowę gospodarz powinien „zasuszyć”, czyli

- A. wstrzymać udój.
- B. ograniczyć wypas.
- C. ograniczyć żywienie.
- D. odizolować od stada.

Zadanie 10.

Maszyna przedstawiona na zdjęciu służy do

- A. zgrabiania siana.
- B. wyrównania gleby.
- C. spulchniania gleby.
- D. pogłębiania bruzdy ornej.



Zadanie 11.

W celu wyrównania gleby bezpośrednio po orce należy zastosować

- A. wał
- B. bronę.
- C. włók.
- D. kultywator.

Zadanie 12.

Maksymalny termin rejestracji cielęcia po urodzeniu w biurze powiatowym ARiMR wynosi

- A. 7 dni.
- B. 10 dni.
- C. 14 dni.
- D. 1 miesiąc.

Zadanie 13.

Zgłoszenia zwierząt gospodarskich do rejestru oraz zdarzeń ich dotyczących dokonuje się

- A. w Biurze Powiatowym ARiMR.
- B. w Państwowej Inspekcji Sanitarnej.
- C. w Powiatowym Biurze Weterynarza.
- D. w Wojewódzkim Ośrodku Doradztwa Rolniczego.

Zadanie 14.

Szczepienie drzewek owocowych ma głównie na celu

- A. ochronę przed szkodnikami.
- B. uzyskanie lepszych odmian.
- C. zapobieganie przed mrozem.
- D. dostarczenie soli mineralnych.

Zadanie 15.

Słomiana ochrona zakładana na krzewy ozdobne to

- A. stroisz.
- B. chochoł.
- C. włóknina.
- D. cieniówka.

Zadanie 16.

Do stosowania środków ochrony roślin w czasie prac polowych używa się

- A. sadzarki.
- B. siewnika.
- C. posypywarki.
- D. opryskiwacza.

Zadanie 17.

Najbardziej ekologiczną metodą hodowli kur w gospodarstwie jest chów

- A. fermowy.
- B. klatkowy.
- C. ściółkowy.
- D. wolnowybiegowy.

Zadanie 18.

Zgodnie z Kodeksem Dobrej Praktyki Rolniczej nie należy stosować nawożenia gleb

- A. inicjalnych.
- B. zamrzniętych.
- C. nieprzepuszczalnych.
- D. położonych na stokach.

Zadanie 19.

Nawożenie pogłównie stosuje się

- A. po ich zbiorze roślin.
- B. przed zbiorem roślin.
- C. bezpośrednio po orce.
- D. w okresie wegetacyjnym roślin.

Zadanie 20.

Gospodarstwo prowadzące hodowlę drobiu – brojlerów, nastawione jest na pozyskanie

- A. piór.
- B. jajek.
- C. mięsa.
- D. niosek.

Zadanie 21.

Według norm unijnych, mleko przeznaczone do sprzedaży, bezpośrednio po udoju, powinno być schłodzone i przechowywane

- A. w kankach.
- B. w bańkach.
- C. w basenach.
- D. w wannach.

Zadanie 22.

Która z roślin produkowana w gospodarstwie jest najbardziej opłacalna?

	Rodzaj	Poniesione koszty produkcji uprawy/1 ha	Cena za tonę	Uzyskany plon w tonach/1 ha
A.	żyto	300,00 zł	600,00 zł	5
B.	rzepak	400,00 zł	700,00 zł	6
C.	pszenica	400,00 zł	600,00 zł	6
D.	jęczmień	400,00 zł	800,00 zł	4

Zadanie 23.

W celu uzyskania dowolnej kategorii gospodarstwo agroturystyczne podlega ocenie dokonywanej przez

- A. PFTW GG.
- B. ARiMR.
- C. WODR.
- D. PIH.

Zadanie 24.

Gospodarz kwatery wiejskiej, prowadząc warsztaty rymarskie, powinien posiadać sprzęt do wyrobu

- A. sieci.
- B. siodeł.
- C. serów.
- D. beczek.

Zadanie 25.

W którym miejscu w kuchni, zgodnie z zasadami funkcjonalności, powinna znajdować się lodówka?

- A. Przy oknie.
- B. Obok zlewozmywaka.
- C. Przy drzwiach wejściowych.
- D. Obok kuchenki elektrycznej.

Zadanie 26.

Sklasyfikowanym obiektem noclegowym, zgodnie z ustawą o usługach turystycznych jest

- A. gościniec.
- B. pensjonat.
- C. pole namiotowe.
- D. dom letniskowy.

Zadanie 27.

Jaką powierzchnię powinny mieć pokoje gościnne w gospodarstwie agroturystycznym, które posiada kategorię trzy słoneczka?

Powierzchnie pokoi gościnnych:

- pokój 1-osobowy – 8 m²,
- pokój 2-osobowy – 10 m²,
- pokój 3-osobowy – 14 m²,
- pokój 4-osobowy – 16 m².

A.

Powierzchnie pokoi gościnnych:

- pokój 1-osobowy – 10 m²,
- pokój 2-osobowy – 12 m²,
- pokój 3-osobowy – 16 m²,
- pokój 4-osobowy – 20 m².

B.

Powierzchnie pokoi gościnnych:

- pokój 1-osobowy – 10 m²,
- pokój 2-osobowy – 12 m²,
- pokój 3-osobowy – 14 m²,
- pokój 4-osobowy – 16 m².

C.

Powierzchnie pokoi gościnnych:

- pokój 1-osobowy – 10 m²,
- pokój 2-osobowy – 14 m²,
- pokój 3-osobowy – 16 m²,
- pokój 4-osobowy – 20 m².

D.

Zadanie 28.

Gospodarstwo agroturystyczne, które chce przyjmować gości korzystających z noclegu, pełnego wyżywienia i ćwiczeń wzmacniających mięśnie brzucha, powinno zaproponować pakiet o nazwie

- A. BB + step.
- B. HB + joga.
- C. FB + pilates.
- D. OV + stretching.

Zadanie 29.

Właściciel gospodarstwa agroturystycznego świadczącego usługi aromaterapii powinien

- A. założyć sad.
- B. posadzić brzozy i wiklinę.
- C. zwiększyć i urozmaicić uprawę ziół.
- D. wprowadzić hodowlę zwierząt egzotycznych.

Zadanie 30.

Przystępując do kategoryzacji WBN, gospodarstwo agroturystyczne musi spełnić minimalne wymagania ustawy

- A. o turystyce.
- B. o usługach turystycznych.
- C. o działalności turystycznej.
- D. o świadczeniu usług na rzecz turystów.

Zadanie 31.

Obiektami noclegowymi ocenianymi w procedurze kategoryzacyjnej PFTW „Gospodarstwa Gościnne” są

- A. mieszkania i domki turystyczne.
- B. pola biwakowe i pokoje prywatne.
- C. kwatery prywatne i jednostki rezydencjonalne.
- D. samodzielne jednostki mieszkalne i pokoje gościnne.

Zadanie 32.

Minimalny wymiar materaca łóżka dwuosobowego w pokoju gościnnym gospodarstwa agroturystycznego najwyższej kategorii powinien wynosić

- A. 80/180 cm.
- B. 90/190 cm.
- C. 120/200 cm.
- D. 140/200 cm.

Zadanie 33.

Który obiekt posiada minimum 7 pokoi i świadczy całodzienne wyżywienie dla swoich gości?

- A. Hotel.
- B. Motel.
- C. Pensjonat.
- D. Schronisko.

Zadanie 34.


Które zdjęcie przedstawia umeblowanie pokoju typu double?



A.



B.



C.



D.

Zadanie 35.

Po wyjeździe gości, osoba prowadząca gospodarstwo agroturystyczne wykonała mycie okien, pranie dywanów i firan. Czynności te należą do sprzątanania

- A. bieżącego.
- B. awaryjnego.
- C. specjalnego.
- D. gruntownego.

Zadanie 36.

Gospodarstwo agroturystyczne na Kaszubach, które ma w swoim jadłospisie słodkie drożdżowe racuchy, serwuje

- A. moskole.
- B. ruchanki.
- C. cepeliny.
- D. fafernuchy.

Zadanie 37.

Serwatka z mleka owczego ściętego podpuszczką, oferowana gościom w gospodarstwie agroturystycznym na Podhalu, to

- A. zentyca.
- B. bryndza.
- C. maślanka.
- D. kogel-mogel.

Zadanie 38.

Do sporządzenia typowej zasmażki używa się przede wszystkim

- A. mąki.
- B. cebuli.
- C. boczku.
- D. mleka.

Zadanie 39.

Kopytka przygotowywane są

- A. z wody, mąki, jajek.
- B. z twarogu, mąki, wody.
- C. z ziemniaków, mąki, jajek.
- D. z ziemniaków, mleka, boczku.

Zadanie 40.

Do potraw z cielęciny należy podać wino

- A. białe słodkie.
- B. białe wytrawne.
- C. czerwone słodkie.
- D. czerwone wytrawne.