

Nazwa kwalifikacji: **Prowadzenie gospodarstwa agroturystycznego**Oznaczenie kwalifikacji: **T.08**Wersja arkusza: **X**

*Arkusz zawiera informacje prawnie chronione  
do momentu rozpoczęcia egzaminu*

**T.08-X-15.01**Czas trwania egzaminu: **60 minut**

Układ graficzny © CKE 2015

**EGZAMIN POTWIERDZAJĄCY KWALIFIKACJE W ZAWODZIE****Rok 2015****CZĘŚĆ PISEMNA****Instrukcja dla zdającego**

1. Sprawdź, czy arkusz egzaminacyjny zawiera 10 stron. Ewentualny brak stron lub inne usterki zgłoś przewodniczącemu zespołu nadzorującego.
2. Do arkusza dołączona jest KARTA ODPOWIEDZI, na której w oznaczonych miejscach:
  - wpisz oznaczenie kwalifikacji,
  - zamaluj kratkę z oznaczeniem wersji arkusza,
  - wpisz swój numer *PESEL*\*
  - wpisz swoją datę urodzenia,
  - przyklej naklejkę ze swoim numerem *PESEL*.
3. Arkusz egzaminacyjny zawiera test składający się z 40 zadań.
4. Za każde poprawnie rozwiązane zadanie możesz uzyskać **1 punkt**.
5. Aby zdać część pisemną egzaminu musisz uzyskać co najmniej **20 punktów**.
6. Czytaj uważnie wszystkie zadania.
7. Rozwiązania zaznaczaj na KARCIE ODPOWIEDZI długopisem lub piórem z czarnym tuszem/atramentem.
8. Do każdego zadania podane są cztery możliwe odpowiedzi: A, B, C, D. Odpowiada im następujący układ krerek w KARCIE ODPOWIEDZI:

A	B	C	D
---	---	---	---

9. Tylko jedna odpowiedź jest poprawna.
10. Wybierz właściwą odpowiedź i zamaluj kratkę z odpowiadającą jej literą – np., gdy wybrałeś odpowiedź „A”:

■	B	C	D
---	---	---	---

11. Staraj się wyraźnie zaznaczać odpowiedzi. Jeżeli się pomylisz i błędnie zaznaczysz odpowiedź, otocz ją kółkiem i zaznacz odpowiedź, którą uważasz za poprawną, np.

●	B	C	■
---	---	---	---

12. Po rozwiązaniu testu sprawdź, czy zaznaczyłeś wszystkie odpowiedzi na KARCIE ODPOWIEDZI i wprowadziłeś wszystkie dane, o których mowa w punkcie 2 tej instrukcji.

**Pamiętaj, że oddajesz przewodniczącemu zespołu nadzorującego tylko KARTĘ ODPOWIEDZI.**

***Powodzenia!***

\* w przypadku braku numeru *PESEL* – seria i numer paszportu lub innego dokumentu potwierdzającego tożsamość

### Zadanie 1.

Roślina przedstawiona na fotografii, która osiąga imponujące rozmiary i kojarzy się z sielskim krajobrazem, dawniej bardzo popularna ozdoba wiejskich ogrodów i dworców szlacheckich, to

- A. różanecznik.
- B. dziki bez.
- C. malwa.
- D. głąg.



### Zadanie 2.

Która roślina uprawiana w ogródku jest źródłem naturalnej fruktozy?

- A. Dynia.
- B. Marchew.
- C. Truskawka.
- D. Burak czerwony.

### Zadanie 3.

Rozgarnianie kretowisk, kopców i innych nierówności na powierzchni łąk ma miejsce podczas

- A. bronowania.
- B. włókania.
- C. talerzowania.
- D. kultywatorowania.

### Zadanie 4.

Planując zabiegi agrotechniczne przed zasianiem zbóż, rolnik powinien wykonać kolejno:

- A. podorywkę, orkę, bronowanie, kultywatorowanie.
- B. orkę, bronowanie, kultywatorowanie, podorywkę.
- C. bronowanie, podorywkę, orkę, kultywatorowanie.
- D. podorywkę, kultywatorowanie, orkę, bronowanie.

### Zadanie 5.

Bielenie pni drzew owocowych wapnem ma na celu głównie ochronę przed

- A. procesem butwienia pnia.
- B. działalnością szkodników.
- C. uszkodzeniami gałęzi.
- D. zmianami temperatury.

### Zadanie 6.

W celu zapewnienia owocowania, w ogródku przydomowym, należy posadzić obok siebie – parami krzewy

- A. malin.
- B. agrestu.
- C. borówki.
- D. porzeczki.

### Zadanie 7.


Przed wysianiem warzyw w przydomowym ogródku należy wykonać kolejno:

- A. kopanie, nawożenie, grabienie, wytyczenie grządki.
- B. nawożenie, kopanie, wytyczenie grządki, grabienie.
- C. grabienie, kopanie, nawożenie, wytyczenie grządki.
- D. wytyczenie grządki, kopanie, nawożenie, grabienie.

### Zadanie 8.

Gatunek drobiu przedstawiony na ilustracji to

- A. bażant.
- B. indyczka.
- C. perliczka.
- D. kuropatwa.



### Zadanie 9.

Merynos i suffolk to rasy

- A. owiec.
- B. świń.
- C. kur.
- D. kóz.

### Zadanie 10.

Zakładając stawy hodowlane ryb słodkowodnych, rolnik powinien zakupić narybek

- A. dorady.
- B. białugi.
- C. sandacza.
- D. morszczuka.

### Zadanie 11.

Program ochrony zasobów genetycznych dotyczy rasy koni

- A. arabskich.
- B. huculskich.
- C. angielskich.
- D. trakeńskich.

### Zadanie 12.

Do podstawowych zabiegów higieniczno-pielęgnacyjnych bydła zalicza się


- A. korekcję racic.
- B. redukcję kłów.
- C. strzyżenie runa.
- D. obcinanie ogona.

### Zadanie 13.


Na której fotografii przedstawiono bronę talerzową służącą do wykonywania zabiegu talerzowania w pracach polowych?



A.



B.



C.




D.

### Zadanie 14.

Siewnik służący do zasiewu zbóż przedstawiony jest na fotografii



A.



B.



C.



D.

### **Zadanie 15.**

Zgodnie z przepisami Unii Europejskiej do rejestracji owiec i kóz używa się kolczyków, na których umieszcza się

- A. region gospodarstwa.
- B. nazwisko właściciela.
- C. certyfikat zwierzęcia w UE.
- D. numer identyfikacyjny zwierzęcia.

### **Zadanie 16.**

Bydło przywiezione do Polski z krajów, które nie są członkiem Unii Europejskiej, należy oznakować

- A. polskim kolczykiem.
- B. identyfikacyjną opaską.
- C. kolczykiem kraju pochodzenia.
- D. numerem wytatuowanym na skórze zwierzęcia.

### **Zadanie 17.**

Przed przystąpieniem do czyszczenia maszyny rolniczej przyczepionej do ciągnika należy

- A. włączyć bieg jałowy.
- B. wyłączyć napęd i silnik.
- C. zaciągnąć hamulec ręczny.
- D. odpiąć osłonę wału napędowego.

### **Zadanie 18.**

Tradycyjne wypalanie traw na wiosnę zgodnie ze Zwykłą Dobrą Praktyką Rolniczą

- A. użyźnia glebę.
- B. niszczy chwasty.
- C. jest niedozwolone.
- D. oczyszcza pole ze szkodników.

### **Zadanie 19.**

Jaja przeznaczone do sprzedaży, oznakowane symbolem „0”, pochodzą od kur z chowu

- A. klatkowego.
- B. ściółkowego.
- C. ekologicznego.
- D. z wolnego wybiegu.

**Zadanie 20.**

Która z roślin produkowana w gospodarstwie jest najbardziej opłacalna?

	Rodzaj	Poniesione koszty produkcji uprawy/1ha	Cena za tonę	Uzyskany plon w tonach/1ha
A.	żyto	300,00 zł	600,00 zł	5
B.	rzepak	400,00 zł	700,00 zł	6
C.	pszenica	400,00 zł	600,00 zł	6
D.	jęczmień	400,00 zł	800,00 zł	4

**Zadanie 21.**

Korzyścią z uprawiania turystyki wiejskiej dla gospodarstwa agroturystycznego i dla wsi jest

- A. aktywizacja społeczności wiejskiej.
- B. bezpośredni kontakt z przyrodą.
- C. aktywny wypoczynek na wsi.
- D. świeża żywność.

**Zadanie 22.**

O pozwolenie na adaptację dawnego siedliska wiejskiego na cele agroturystyczne, które zostało wpisane do rejestru zabytków, gospodarz powinien ubiegać się

- A. w Urzędzie Gminy.
- B. u Generalnego Konserwatora Zabytków.
- C. u Wojewódzkiego Konserwatora Zabytków.
- D. u Ministra Kultury i Dziedzictwa Narodowego.

**Zadanie 23.**

Planując pokazy i zajęcia z tradycyjnego wyrobu beczek, w gospodarstwie agroturystycznym, należy zorganizować warsztaty

- A. dekarskie.
- B. snycerskie.
- C. płatnerskie.
- D. bednarskie.

**Zadanie 24.**

W gospodarstwie agroturystycznym o specjalności winiarskiej zorganizowano specjalną salę degustacji wina. Pomieszczenie powinno być wyposażone

- A. w słoje, gąsiorki, pipety.
- B. w kotły warzelne, kadzie, kielichy.
- C. w odsączacze, bańki, rurki fermentacyjne.
- D. w stoły detaszerskie, cysterny, separatory.

**Zadanie 25.**

Tabela zawiera cennik usług czterech gospodarstw agroturystycznych. W którym gospodarstwie najtaniej będzie mogła spędzić czas grupa 10-osobowa w terminie od 22.04 do 24.04.?

Gospodarstwo	Cena			
	Sezon niski (1.01-30.04)		Sezon wysoki (1.05-31.08)	
	indywidualni	grupa	indywidualni	grupa
A.	30 zł/os.	15 zł/os.	40 zł/os.	30 zł /os.
B.	40 zł/os.	20 zł/os.	60 zł/os.	40 zł /os.
C.	45 zł/os.	28 zł/os.	70 zł /os.	50 zł/os.
D.	50 zł/os.	25 zł/os.	80 zł /os.	60 zł /os.

**Zadanie 26.**

Zgodnie z przedstawionym cennikiem, koszt pełnego wyżywienia dla 5 osób, które przebywały w gospodarstwie agroturystycznym w terminie od obiadu 10.08 do śniadania 12.08 wyniesie

Rodzaj wyżywienia	Cena jednostkowa	Koszt ogółem
śniadanie	10,00 zł/os	.....
obiad	30,00 zł/os	.....
kolacja	15,00 zł/os	.....
Razem		.....

- A. 55,00 zł.
- B. 110,00 zł.
- C. 275,00 zł.
- D. 550,00 zł.

**Zadanie 27.**

Pensjonat to obiekt posiadający co najmniej

- A. 7 pokoi, świadczący dla swoich klientów całodzienne wyżywienie.
- B. 7 pokoi, świadczący dla swoich klientów szeroki zakres usług.
- C. 7 miejsc noclegowych, świadczący dla klientów minimum obiady.
- D. 7 miejsc noclegowych, oferujący domową atmosferę i gościnność.

**Zadanie 28.**

Według przepisów kategoryzacyjnych PFTW "Gospodarstwa Gościnne" standard wiejskiej bazy noclegowej oznacza się

- A. cyframi rzymskimi.
- B. cyframi arabskimi.
- C. gwiazdkami.
- D. słoneczkami.

**Zadanie 29.**

Którą kategorię otrzyma całe gospodarstwo agroturystyczne, jeżeli spośród 4 zgłoszonych pokoi gościnnych, 3 pokoje otrzymały kategorię trzecią, a 1 pokój kategorię standard?

- A. Drugą.
- B. Trzecią.
- C. Standard.
- D. Pierwszą.

**Zadanie 30.**

Zgodnie z warunkami kategoryzacji wiejskiej bazy noclegowej, kategorii przyznaje się obiektom, które wpisane są już do ewidencji obiektów noclegowych

- A. Urzędu Miasta/Gminy.
- B. Ministerstwa Sportu i Turystyki.
- C. Ministerstwa Rolnictwa i Rozwoju Wsi.
- D. Agencji Restrukturyzacji i Modernizacji Rolnictwa.

**Zadanie 31.**

Integralną częścią zamówienia usług noclegowych w gospodarstwie agroturystycznym jest umowa z turystą na

- A. wczasy pod gruszą.
- B. wynajem kwatery wiejskiej.
- C. świadczenie usług turystycznych.
- D. uczestnictwo w imprezie turystycznej.

**Zadanie 32.**

Potwierdzenie rezerwacji na pobyt gościa w gospodarstwie agroturystycznym powinno zawierać przede wszystkim informacje

- A. o zasadach płatności.
- B. o wyposażeniu pokoi gościnnych.
- C. o godzinach podawania posiłków.
- D. o atrakcjach turystycznych okolicy.

**Zadanie 33.**

Którą narodową potrawę powinna podać gospodyni podczas wieczoru czeskiego zorganizowanego dla gości?

- A. Kopytka.
- B. Knedliki.
- C. Kartacze.
- D. Zeppeliny.



### **Zadanie 34.**

Musaka to tradycyjna potrawa grecka, która przygotowywana jest jako

- A. szaszłyk z baraniny.
- B. zupa z owoców morza.
- C. sałatka z oliwek i pomidorów.
- D. zapiekanka z bakłażana i mięsa.

### **Zadanie 35.**

„Czarna polewka” to atrakcja kulinarna w gospodarstwie agroturystycznym, która znana jest także pod nazwą

- A. flaczki.
- B. solanka.
- C. czernina.
- D. śliwianka.

### **Zadanie 36.**

Roślina znana w kraju jako polska cytryna, z której owoców sporządza się domowe syropy, nalewki czy konfitury, to

- A. aronia.
- B. pigwa.
- C. jeżyna.
- D. żurawina.

### **Zadanie 37.**

Do sporządzenia tradycyjnego bigosu wiejskiego należy użyć kapusty

- A. słodkiej.
- B. kiszanej.
- C. duszonej.
- D. kwaszonej.

### **Zadanie 38.**

Produktami, które należy uwzględnić w planowaniu diety lekkostrawnej dla osoby starszej, są

- A. płatki ryżowe i jabłka pieczone.
- B. warzywa i kiełbasa smażona.
- C. kasza gryczana i kapusta kiszona.
- D. jaja na miękko i fasola.

**Zadanie 39.**

Zgodnie z angielskim zwyczajem herbatę powinno podawać się

- A. w kubkach.
- B. w czarkach.
- C. w filiżankach.
- D. w szklankach.

**Zadanie 40.**

Wodę mineralną niegazowaną przeznaczoną dla kilkunastu osób w czasie obiadu powinno podawać się

- A. w karafkach.
- B. w gobletach.
- C. w dzbankach.
- D. w szklankach.