

Nazwa kwalifikacji: **Jeździectwo i trening koni**

Oznaczenie kwalifikacji: **RL.06**

Wersja arkusza: **SG**

Czas trwania egzaminu: **60 minut**

RL.06-SG-21.06

EGZAMIN POTWIERDZAJĄCY KWALIFIKACJE W ZAWODZIE

Rok 2021

CZĘŚĆ PISEMNA

**PODSTAWA PROGRAMOWA
2017**

Instrukcja dla zdającego

1. Sprawdź, czy arkusz egzaminacyjny zawiera 10 stron. Ewentualny brak stron lub inne usterki zgłoś przewodniczącemu zespołu nadzorującego.
2. Do arkusza dołączona jest KARTA ODPOWIEDZI, na której w oznaczonych miejscach:
 - wpisz oznaczenie kwalifikacji,
 - zamaluj kratkę z oznaczeniem wersji arkusza,
 - wpisz swój numer PESEL*,
 - wpisz swoją datę urodzenia,
 - przyklej naklejkę ze swoim numerem PESEL.
3. Arkusz egzaminacyjny zawiera test składający się z 40 zadań.
4. Za każde poprawnie rozwiązane zadanie możesz uzyskać 1 punkt.
5. Aby zdać część pisemną egzaminu musisz uzyskać co najmniej 20 punktów.
6. Czytaj uważnie wszystkie zadania.
7. Rozwiązania zaznaczaj na KARCIE ODPOWIEDZI długopisem lub piórem z czarnym tuszem/atramentem.
8. Do każdego zadania podane są cztery możliwe odpowiedzi: A, B, C, D. Odpowiada im następujący układ krerek w KARCIE ODPOWIEDZI:

| | | | |
|---|---|---|---|
| A | B | C | D |
|---|---|---|---|

9. Tylko jedna odpowiedź jest poprawna.
10. Wybierz właściwą odpowiedź i zamaluj kratkę z odpowiadającą jej literą – np., gdy wybrałeś odpowiedź „A”:

| | | | |
|-------------------------------------|---|---|---|
| <input checked="" type="checkbox"/> | B | C | D |
|-------------------------------------|---|---|---|

11. Staraj się wyraźnie zaznaczać odpowiedzi. Jeżeli się pomylisz i błędnie zaznaczysz odpowiedź, otocz ją kółkiem i zaznacz odpowiedź, którą uważasz za poprawną, np.

| | | | |
|-------------------------------------|---|---|-------------------------------------|
| <input checked="" type="checkbox"/> | B | C | <input checked="" type="checkbox"/> |
|-------------------------------------|---|---|-------------------------------------|

12. Po rozwiązaniu testu sprawdź, czy zaznaczyłeś wszystkie odpowiedzi na KARCIE ODPOWIEDZI i wprowadziłeś wszystkie dane, o których mowa w punkcie 2 tej instrukcji.

Pamiętaj, że oddajesz przewodniczącemu zespołu nadzorującego tylko KARTĘ ODPOWIEDZI.

Powodzenia!

* w przypadku braku numeru PESEL – seria i numer paszportu lub innego dokumentu potwierdzającego tożsamość

Zadanie 1.


Koń, w rodowodzie którego znajdują się konie ras HOL lub BWP, najlepiej sprawdzi się w konkurencji

- A. wyścigi kłusaków.
- B. sportowe rajdy konne.
- C. powożenie zaprzęgami.
- D. skoki przez przeszkody.

Zadanie 2.

Nałóg konia polegający na przestępowaniu z nogi na nogę, z jednoczesnym wykonywaniem ruchu wahadłowego głową i szyją, pokazany na rysunku to

- A. tkanie.
- B. łykanie.
- C. bujanie.
- D. heblowanie.

**Zadanie 3.**

Przyrząd przedstawiony na rysunku służy do

- A. przerywania grzywy koni.
- B. tarnikowania podszwy kopyta.
- C. czyszczenia szczotki do sierści konia.
- D. tarnikowania zębów trzonowych i przedtrzonowych.

**Zadanie 4.**

Wskaż substancję chemiczną, którą należy zastosować na kopyto pokazane na rysunku, w celu zahamowania gnicia strzałek.

- A. Mocznik.
- B. Chlorek sodu.
- C. Siarczan miedzi.
- D. Nadmanganian potasu.

**Zadanie 5.**

Ostatnie szczepienie na grypę u koni I, II, III i IV zostało wykonane w następujących terminach:

- Koń I - 02.01.2019 r.
- Koń II - 01.10.2019 r.
- Koń III - 10.01.2020 r.
- Koń IV - 31.08.2020 r.

Który koń zostanie dopuszczony do międzynarodowych zawodów w ujeżdżeniu, jeżeli odbędą się 10.02.2021 r. ze względu na prawidłowy kalendarz szczepień?

- A. Koń I
- B. Koń II
- C. Koń III
- D. Koń IV

Zadanie 6.

Pojemność żołądka jednokomorowego gruczołowego u konia o masie ciała 500-600 kg wynosi

- A. 4 ÷ 7 litrów.
- B. 8 ÷ 15 litrów.
- C. 17 ÷ 24 litrów.
- D. 35 ÷ 50 litrów.

Zadanie 7.

Minimalna dobową ilość siana dla konia rasy polski koń szlachetny półkrwi o masie ciała 600 kg, startującego w konkurencji skoki przez przeszkody na poziomie klasy P wynosi

- A. 3 kg
- B. 4 kg
- C. 5 kg
- D. 6 kg

Zadanie 8.

Świeżo zebrane z pola ziarno owsa można podać koniom do skarmiania po upływie

- A. 2 dni.
- B. 6 dni.
- C. 2 tygodni.
- D. 6 tygodni.

Zadanie 9.

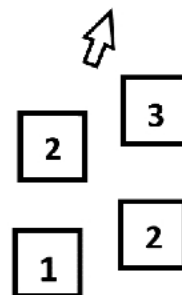
Wskaż rasę koni, której przedstawiciele biorą udział w gonitwie Wielka Warszawska na Torze Wyścigów Konnych Warszawa-Służewiec.

- A. Czysta krew arabska.
- B. Pełna krew angielska.
- C. Czysta krew angloarabska.
- D. Polski koń szlachetny półkrwi.

Zadanie 10.

Który chód konia przedstawiono na schemacie?

- A. Kłus na lewą nogę.
- B. Cwał na lewą nogę
- C. Galop z prawej nogi.
- D. Kontrgalop z prawo.



Zadanie 11.

Konie ras półkwi zajeżdża się pod siodłem w wieku

- A. 1 roku.
- B. 2 lat.
- C. 3 lat.
- D. 4 lat.

Zadanie 12.

Minimalna powierzchnia boksu dla konia o wysokości w kłębie do 147 cm powinna wynosić

- A. 6 m²
- B. 9 m²
- C. 12 m²
- D. 15 m²

Zadanie 13.

Utrzymywanie koni na stanowiskach uwięziowych jest

- A. całkowicie zabronione.
- B. zabronione dla koni sportowych.
- C. dozwolone tylko dla koni ras zimnokrwistych.
- D. dozwolone z zachowaniem minimalnych wymiarów stanowiska.

Zadanie 14.

Białe odmiany na ciele konia w paszporcie konia zaznacza się na diagramie kolorem

- A. czarnym.
- B. zielonym.
- C. niebieskim.
- D. czerwonym.

Zadanie 15.

Znak szczególny, pokazany na rysunku tzw. pchnięcie lancą, w opisie graficznym konia na diagramie w paszporcie konia oznacza się

- A. kółkiem.
- B. trójkątem.
- C. kwadratem.
- D. krzyżykiem.



Zadanie 16.

Lśniąca sierść, żywe oko, zainteresowanie otoczeniem, lekko zarysowane żebra, dobry stan odżywienia, brak obwisłego brzucha, lekko zarysowane mięśnie pod skórą to cechy charakterystyczne dla konia w kondycji

- A. roboczej.
- B. głodowej.
- C. hodowlanej.
- D. wyścigowej.

Zadanie 17.



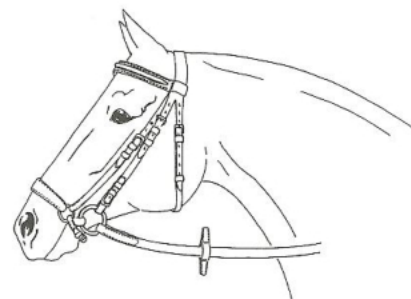
Na rysunkach przedstawiono siodła w następującej kolejności, licząc od lewej strony:

- A. westernowe, rajdowe, wszechstronne, ujeżdżeniowe.
- B. ujeżdżeniowe, rajdowe, westernowe, wszechstronne.
- C. wszechstronne, rajdowe, ujeżdżeniowe, westernowe.
- D. rajdowe, wszechstronne, westernowe, ujeżdżeniowe.

Zadanie 18.

Ustal rodzaj nachrapnika pokazany na rysunku.

- A. Polski.
- B. Worcester.
- C. Hanowerski.
- D. Meksykański.



Zadanie 19.

Odległość pomiędzy kolejnymi cavaletti do pokonywania ich w klusie dla przeciętnego konia półkrwi wynosi

- A. 1,2 – 1,3 m
- B. 1,8 – 2,0 m
- C. 2,5 – 2,7 m
- D. 3,0 – 3,2 m

Zadanie 20.

Rodzaj dosiadu pokazany na rysunku to

- A. półsiad.
- B. dosiad widłowy.
- C. dosiad fotelowy.
- D. dosiad ujeżdżeniowy.

**Zadanie 21.**


Pomoc łydki **nie działa**

- A. aktywizująco.
- B. przesuwająco.
- C. wstrzymująco.
- D. ograniczająco.

Zadanie 22.

Ćwiczenie ujeżdżeniowe pokazane na rysunku to

- A. oddawanie i nabieranie wodzy.
- B. koń na swobodnej wodzy.
- C. żucie z ręki.
- D. półparada.

**Zadanie 23.**

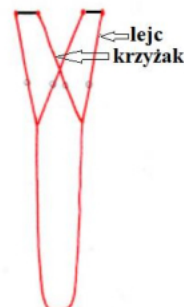
Kanat w terminologii wyścigowej oznacza

- A. krótki palcat używany w treningu koni wyścigowych.
- B. kurtkę dżokeja w barwach właściciela stajni.
- C. cienki czaprak z numerem startowym.
- D. wewnętrzny płot toru wyścigowego.

Zadanie 24.

W uprzęży parokonnej, dla przeciętnej wielkości koni rasy śląskiej, krzyżaki są dłuższe od lejcy o

- A. 6 cm
- B. 12 cm
- C. 18 cm
- D. 24 cm



Zadanie 25.

Jeźdźcy A i B jadą klusem. W zaistniałej sytuacji

- A. jeździec A pozostaje na pierwszym śladzie, jeździec B zjeżdża do wewnątrz ujeżdżalni na drugi ślad.
- B. jeździec B pozostaje na pierwszym śladzie, jeździec A zjeżdża do wewnątrz ujeżdżalni na drugi ślad.
- C. jeźdźcy A i B równocześnie przechodzą do stępa i mijają się na prawe ręce.
- D. jeździec B wykonuje woltę w lewo, a jeździec A jedzie dalej prosto.

Zadanie 26.

Zastęp 10 koni poruszający się drogą publiczną przejeżdża na drugą stronę jezdni w następujący sposób:

- A. w zależności od sytuacji jeździec podejmuje samodzielną decyzję o przejściu.
- B. pojedynczo w odstępach czasowych, na polecenie prowadzącego.
- C. za czołowym, koń za koniem wszyscy śladem pierwszego konia.
- D. wszyscy przejeżdżają jednocześnie na komendę prowadzącego.

Zadanie 27.

Pokazane na rysunku buty do jazdy konnej to

- A. czapsy.
- B. sztylpy.
- C. oficerki.
- D. sztyblety.

**Zadanie 28.**

Kończąc jazdę terenową, ostatni kilometr w kierunku do stajni zastęp 10 koni powinien pokonać

- A. klusem dwójkami.
- B. stępem za czołowym.
- C. galopem, w szyku zwanym rojem.
- D. dowolnym chodem, za prowadzącym.

Zadanie 29.

Stosując skalę szkoleniową jeździec w fazie przyzwyczajania pracuje nad rozwijaniem u konia

- A. taktu, impulsu i zebrania.
- B. taktu, rozluźnienia i kontaktu.
- C. rozluźnienia, impulsu i prostowania.
- D. przepuszczalności, impulsu i prostowania.

Zadanie 30.

Natychmiastowa reakcja konia na pomoce jeźdźca, posłusznie i bez przymusu, to

- A. parada.
- B. zebranie.
- C. rozluźnienie.
- D. przepuszczalność.

Zadanie 31.

Który opis cech wzroku konia jest błędny?

- A. Pole widzenia konia wynosi 200° .
- B. Konia nie oślepia światło słoneczne.
- C. W nocy koń widzi dwukrotnie lepiej niż człowiek.
- D. Koń doskonale widzi ruch nawet drobnych przedmiotów.

Zadanie 32.

Minimalny wiek konia w konkursie klasy C w skokach przez przeszkody wynosi

- A. 4 lata.
- B. 5 lat.
- C. 6 lat.
- D. 7 lat.

Zadanie 33.

Najlepszym sposobem lonżowania konia jest lonżowanie za pomocą lonży przypiętej do

- A. kawecanu.
- B. zewnętrznego pierścienia wędzidła.
- C. wewnętrznego pierścienia wędzidła.
- D. zewnętrznego pierścienia wędzidła przez potylicę.

Zadanie 34.

Wodze pomocnicze powodujące ograniczenie boczne konia w czasie lonżowania to

- A. gogue.
- B. czambon.
- C. wypinacz potrójny.
- D. wypinacz podwójny.

Zadanie 35.

Wskaż zbędny element w wyposażeniu lonżującego.

- A. Rękawiczki.
- B. Ostrogi na butach.
- C. Lonża długości $7 \div 8$ m.
- D. Bat z długim rzemieniem.

Zadanie 36.

W której kolumnie podane są prawidłowe parametry życiowe u konia w spoczynku?

| Parametry | A | B | C | D |
|-------------------------------|-------------|-------------|-------------|-------------|
| Tętno uderzenia/min | 45 - 65 | 16 - 24 | 28 - 40 | 60 - 80 |
| Temperatura ciała °C | 36,5 - 37,5 | 39,0 - 40,0 | 37,5 - 38,5 | 39,5 - 40,5 |
| Liczba oddechów (oddechy/min) | 4 - 10 | 20 - 24 | 8 - 16 | 15 - 20 |

Zadanie 37.

Pomieszczenie i wyposażenie pokazane na rysunku służy do

- A. leczenia konia z kurzą ślepotą.
- B. osuszenia konia po treningu.
- C. wykonywania zdjęć RTG.
- D. masażu kończyn koni.

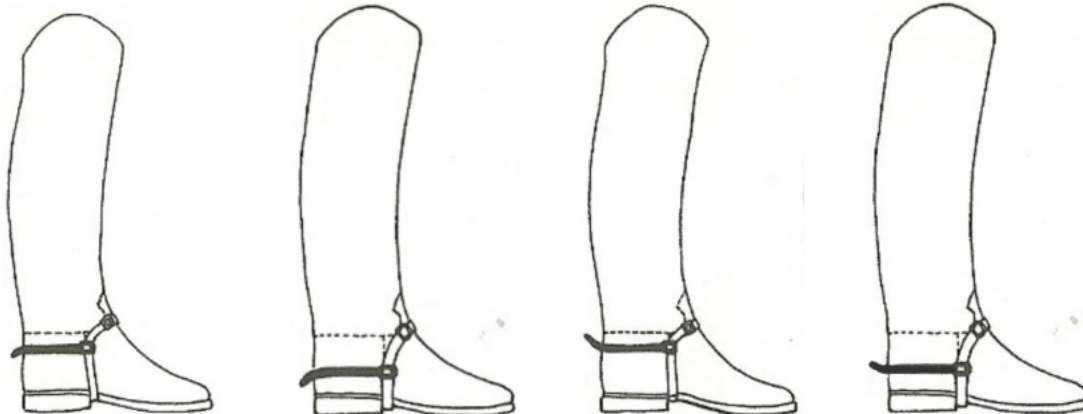
**Zadanie 38.**

Przeszkoda przedstawiona na rysunku to

- A. okser.
- B. stacjonarna.
- C. triplebarre.
- D. doublebarre.

**Zadanie 39.**

Który rysunek prezentuje poprawnie przypięte ostrogi?



A.

B.

C.

D.

Zadanie 40.

Obiekt przedstawiony na rysunku to

- A. bieżnia.
- B. karuzela.
- C. hipodrom.
- D. lonżownik.

