

Nazwa kwalifikacji: **Jeździectwo i trening koni**  
 Oznaczenie kwalifikacji: **R.27**  
 Wersja arkusza: **X**

**R.27-X-19.06**Czas trwania egzaminu: **60 minut**

**EGZAMIN POTWIERDZAJĄCY KWALIFIKACJE W ZAWODZIE**  
**Rok 2019**  
**CZEŚĆ PISEMNA**

**Instrukcja dla zdającego**

1. Sprawdź, czy arkusz egzaminacyjny zawiera 10 stron. Ewentualny brak stron lub inne usterki zgłoś przewodniczącemu zespołu nadzorującego.
2. Do arkusza dołączona jest KARTA ODPOWIEDZI, na której w oznaczonych miejscach:
  - wpisz oznaczenie kwalifikacji,
  - zamaluj kratkę z oznaczeniem wersji arkusza,
  - wpisz swój numer PESEL\*,
  - wpisz swoją datę urodzenia,
  - przyklej naklejkę ze swoim numerem PESEL.
3. Arkusz egzaminacyjny zawiera test składający się z 40 zadań.
4. Za każde poprawnie rozwiązane zadanie możesz uzyskać 1 punkt.
5. Aby zdać część pisemną egzaminu musisz uzyskać co najmniej 20 punktów.
6. Czytaj uważnie wszystkie zadania.
7. Rozwiązania zaznaczaj na KARCIE ODPOWIEDZI długopisem lub piórem z czarnym tuszem/atramentem.
8. Do każdego zadania podane są cztery możliwe odpowiedzi: A, B, C, D. Odpowiada im następujący układ krerek w KARCIE ODPOWIEDZI:

A	B	C	D
---	---	---	---

9. Tylko jedna odpowiedź jest poprawna.
10. Wybierz właściwą odpowiedź i zamaluj kratkę z odpowiadającą jej literą – np., gdy wybrałeś odpowiedź „A”:

■	B	C	D
---	---	---	---

11. Staraj się wyraźnie zaznaczać odpowiedzi. Jeżeli się pomylisz i błędnie zaznaczysz odpowiedź, otocz ją kółkiem i zaznacz odpowiedź, którą uważasz za poprawną, np.

○■	B	C	■
----	---	---	---

12. Po rozwiązaniu testu sprawdź, czy zaznaczyłeś wszystkie odpowiedzi na KARCIE ODPOWIEDZI i wprowadziłeś wszystkie dane, o których mowa w punkcie 2 tej instrukcji.

**Pamiętaj, że oddajesz przewodniczącemu zespołu nadzorującego tylko KARTĘ ODPOWIEDZI.**

***Powodzenia!***

\* w przypadku braku numeru PESEL – seria i numer paszportu lub innego dokumentu potwierdzającego tożsamość

### Zadanie 1.

Wskaż rasę konia opisaną w ramce.


- A. Konik polski.
- B. Małopolska.
- C. Fryzyjska.
- D. Huculska.

Górska rasa koni, hodowana na Podkarpaciu. Doskonale zwierzę juczne, nadaje się do pracy w zaprzęgu. Małe i krępe, o mocnym grzbiecie, zadzie oraz twardych kopytach. Przeważa maść gniada, lecz często zdarza się srokata.

### Zadanie 2.

Koń przedstawiony na rysunku reprezentuje typ konia do

- A. WKKW.
- B. reiningu.
- C. powożenia.
- D. wołyżerki.



### Zadanie 3.

Werkowania kopyt u koni wykonuje się co

- A. 6 - 8 tygodni.
- B. 10 - 12 tygodni.
- C. 6 - 8 miesięcy.
- D. 10 - 12 miesięcy.

### Zadanie 4.

Na rysunku przedstawiono

- A. widie.
- B. hacele.
- C. wkręty.
- D. zatyczki.



### Zadanie 5.

Preparat o silnym działaniu odkażającym i dezynfekującym, stosowany do leczenia zgniłych strzałek kopytowych, to

- A. maść ichtiolowa.
- B. maść kamforowa.
- C. zasypka alantanowa.
- D. dziegieć.

**Zadanie 6.**

„Nadwyrężenie mięśni piersiowych konia z powodu przemieszczania się ich pod mocno dopiętym poprzęgiem. Może to nastąpić podczas schylania się lub obracania konia w wąskiej przestrzeni, np. w wąskim stanowisku z mocno dopiętym poprzęgiem.”

Opisany uraz mięśni to

- A. zagwożdżenie.
- B. zapoprzęzenie.
- C. odsednienie.
- D. gruda.

**Zadanie 7.**

Przedmiot przedstawiony na rysunku służy do

- A. czyszczenia sierści konia.
- B. zaplatania grzywy u koni zimnokrwistych.
- C. czyszczenia szczotki w trakcie czyszczenia sierści konia.
- D. naciągania pasów pociągowych w zaprzęgu czterokonnym.

**Zadanie 8.**

W jakich odstępach czasu koń systematycznie wyjeżdżający na zawody musi mieć wykonywane szczepienia przypominające na grypę i w którym dokumencie musi być to odnotowane?

- A. Co 3 miesiące – Książeczka szczepień konia.
- B. Co 6 miesięcy – Paszport konia Polskiego Związku Hodowców Koni.
- C. Co 12 miesięcy - Książeczka szczepień konia.
- D. Co 24 miesiące – Paszport konia Polskiego Związku Hodowców Koni.

**Zadanie 9.**

Jednostka chorobowa objawiająca się zakłóceniem pracy żołądka, jelit i silnymi bólami to

- A. gruda.
- B. ochwat.
- C. morzysko.
- D. mięśniochwat.

**Zadanie 10.**

Gorący, ciastowaty obrzęk kłębu, powstały na skutek ucisku siodła, to

- A. opój.
- B. gruda.
- C. zatrat.
- D. odsednienie.

**Zadanie 11.****Minimalne warunki utrzymywania koni**

§ 22.1. Powierzchnia boksu, o którym mowa w § 21 ust. 1 pkt 1, powinna wynosić, w przypadku utrzymywania:

1. koni dorosłych, których wysokość w kłębie wynosi do 1,47 m – co najmniej 6 m<sup>2</sup>;
2. koni dorosłych, których wysokość w kłębie wynosi powyżej 1,47 m – co najmniej 9 m<sup>2</sup>;
3. klaczy ze źrebięciem – co najmniej 12 m<sup>2</sup>.

§ 22.2. Wymiary stanowiska, o którym mowa w § 21 ust. 1 pkt 2, powinny wynosić w przypadku utrzymywania:

1. koni dorosłych, których wysokość w kłębie wynosi do 1,47 m:
  - a) szerokość – co najmniej 1,6 m,
  - b) długość – co najmniej 2,1 m;
2. koni dorosłych, których wysokość w kłębie wynosi powyżej 1,47 m:
  - a) szerokość – co najmniej 1,8 m,

Na podstawie informacji zawartych w tabeli określ wielkość stanowiska, które spełnia minimalne warunki utrzymania konia o wysokości w kłębie 141 cm.

- A. Szerokość 1,5 m, długość 3,2 m.
- B. Szerokość 1,7 m, długość 3,0 m.
- C. Szerokość 1,4 m, długość 1,7 m.
- D. Szerokość 2,0 m, długość 1,5 m.

**Zadanie 12.**

Która pasza w układzie pokarmowym konia pęcznieje pod wpływem soków trawiennych, skleja się w grudki, które mogą wywołać kolikę?

- A. Ziarno żyta.
- B. Otręby pszenne.
- C. Siano z lucerny.
- D. Ześrutowane ziarno owsa.

**Zadanie 13.**

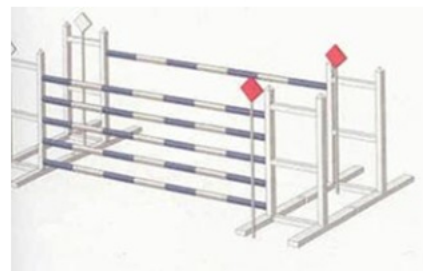
Świeżo zebrane ziarno owsa można skarmiać koniom

- A. bezpośrednio po zbiorze.
- B. tydzień po zbiorze, tylko gniecione lub ześrutowane.
- C. po 2 tygodniach od zbioru po wcześniejszym namoczeniu.
- D. po 4 – 6 tygodniach, po tzw. „wypoceniu się ziarna”.

**Zadanie 14.**

Przeszkoda przedstawiona na rysunku to

- A. okser.
- B. stacjonarna.
- C. triplebarre.
- D. doublebarre.



**Zadanie 15.**

Cztery podstawowe składniki meszu dla koni to:

- A. ziarno kukurydzy, siano, marchew, woda.
- B. śrutowane ziarno żyta, siewka, marchew, woda.
- C. ziarno jęczmienia, susz z lucerny, melasa, woda.
- D. ziarno owsa, siemię lniane, otręby pszenne, woda.

**Zadanie 16.**

Na rysunku przedstawiono

- A. ochraniacze transportowe.
- B. ochraniacze ujeżdżeniowe.
- C. ochraniacze skokowe.
- D. pokrowce na drągi.

**Zadanie 17.**

Obowiązującym na terytorium UE dokumentem identyfikacyjnym dla zwierząt koniowatych jest

- A. paszport koniowatego.
- B. karta pochodzenia konia.
- C. świadectwo pokrycia klaczy.
- D. dowód urodzenia źrebięcia.

**Zadanie 18.**

W czasie długich odcinków rajdu konnego, pokonywanych klusem anglezowanym, należy pamiętać o

- A. przechodzeniu do klusa ćwiczebnego.
- B. zmianie nogi co 1 km, tj. co 5 minut.
- C. wydłużeniu strzemion o 2 dziurki.
- D. skróceniu strzemion o 5 dziurek.

**Zadanie 19.**

Kondycja konia to

- A. zespół cech anatomicznych u konia.
- B. usposobienie i reakcja psychonerwowa konia.
- C. aktualny stan fizjologiczny konia, w jakim się znajduje.
- D. zespół cech nabytych i odziedziczalnych, warunkujący reakcję na bodźce.

### Zadanie 20.

Na rysunku przedstawiono pas do

- A. zaprzęgu jednokonnego.
- B. zaprzęgu parokonnego.
- C. konkurencji rodeo.
- D. woltyżerki.



### Zadanie 21.

Które siodło przedstawiono na rysunku?

- A. Wszechstronne.
- B. Ujeżdżeniowe.
- C. Wyścigowe.
- D. Skokowe.



### Zadanie 22.

Na którym rysunku przedstawiony jest koń z nachrapnikiem meksykańskim?



A.



B.



C.



D.

### Zadanie 23.


Naturalne pomoce jeździeckie to:

- A. wycucie jeździeckie, ciężar, ręka.
- B. napięcie krzyża, bat, wytok.
- C. dosiad, łydka, wodza.
- D. głos, palcat, ostrogi.

**Zadanie 24.**

Ćwiczenie ujeżdzeniowe pokazane na rysunku, to

- A. żucie z ręki.
- B. oddawanie wodzy.
- C. kłus na długiej wodzy.
- D. zagalopowanie z lewej nogi.

**Zadanie 25.**

Krótkie, mocniejsze zamknięcie konia pomiędzy pomocami ciężaru, łydek i wodzy, po którym następuje ustąpienie wodzy wykonywane w celu np. zwiększenia uwagi konia przed nowym ćwiczeniem, nazywa się

- A. przepuszczalnością.
- B. ustępowaniem.
- C. półparadą.
- D. impulsem.

**Zadanie 26.**

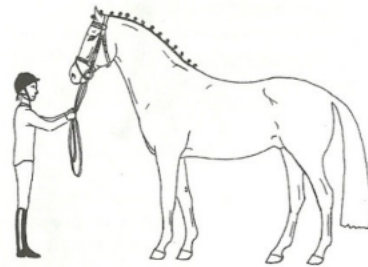
Dwukołowy, lekki wózek, ciągnięty przez kłusaka, to

- A. lando.
- B. coupe.
- C. sulky.
- D. brek.

**Zadanie 27.**

Postawę konia przedstawioną na rysunku nazywa się postawą

- A. zootechniczną.
- B. hipologiczną.
- C. anatomiczną.
- D. stadninową.

**Zadanie 28.**

System handicapowy polega na przeprowadzeniu gonitwy, w której szanse koni na zwycięstwo są wyrównywane przez

- A. lotny start wszystkich koni.
- B. wysokoenergetyczną dietę konia.
- C. start koni w różnych miejscach toru.
- D. zwiększenie albo zmniejszenie wagi noszonej przez konia.

### Zadanie 29.

W konkurencji skoki przez przeszkody określenie czas maksymalny oznacza

- A. czas, jaki mają zawodnicy na oglądanie parkuru pieszo przed konkursem.
- B. podwójną normę czasu tzn. czas, jaki zawodnik może przebywać na parkurze.
- C. czas oczekiwana na wjazd zawodnika na parkur po zjechaniu poprzedniej pary.
- D. czas, jaki ma zawodnik na przejechanie celowników początkowych po ukłonie i sygnale od sędziego.

### Zadanie 30.

Czerwona wstążka wpleciona w grzywę konia oznacza konia

- A. prowadzącego zastęp.
- B. zamykającego zastęp.
- C. na sprzedaż.
- D. gryzącego.

### Zadanie 31.

Uszkodzenie mięśni barku i łopatki na skutek jazdy skosem po stromym zboczu lub gwałtownych skrętów w miejscu to

- A. opoje.
- B. spleczenie.
- C. odsednienie.
- D. zapoprężenie.

### Zadanie 32.

Strój przedstawiony na rysunku to

- A. rajtrok skokowy.
- B. frak ujeżdżeniowy.
- C. płaszcz reiningowy.
- D. liberia powożącego.





**Zadanie 33.**

Obiekt przedstawiony na rysunku to

- A. wolta.
- B. parkur.
- C. karuzela.
- D. lonżownik.

**Zadanie 34.**

Odległość pomiędzy kolejnymi koziołkami (cavaletti) ustawionymi do ćwiczeń w stępie, kłusie i galopie wynosi odpowiednio:

- A. 80 cm (stęp), 130 cm (kłus), 300 cm (galop).
- B. 110 cm (stęp), 170 cm (kłus), 370 cm (galop).
- C. 140 cm (stęp), 210 cm (kłus), 400 cm (galop).
- D. 170 cm (stęp), 250 cm (kłus), 450 cm (galop).

**Zadanie 35.**

Brakujący element skali szkoleniowej oznaczony „...” to

- A. rytm.
- B. impuls.
- C. równowaga.
- D. przepuszczalność.

**Zadanie 36.**

Rysunek przedstawia lonżowanie konia z użyciem

- A. czambonu.
- B. wodzy Pessoa.
- C. podwójnej lonży.
- D. wypinacza trójkątnego.

**Zadanie 37.**


Wartość tętna u wytrenowanego konia w stanie spoczynku wynosi

- A. 100 – 120 uderzeń/minutę.
- B. 70 – 95 uderzeń/ minutę.
- C. 43 – 65 uderzeń/ minutę.
- D. 28 – 42 uderzeń/ minutę.

### Zadanie 38

Urządzenie pokazane na rysunku służy do

- A. osuszania mokrego konia i rozgrzewania mięśni.
- B. monitorowania treningu ujeżdżeniowego konia.
- C. wykonywania diagnostyki obrazowej konia.
- D. wykonywanie zdjęć RTG konia.



### Zadanie 39.

Pozycja, którą przybiera koń o prawidłowej technice i dynamice ruchu w czasie skoku nad przeszkodą, charakteryzująca się zaokrąglonym w łuk grzbietem oraz obniżoną szyją konia, to

- A. foule.
- B. bukiet.
- C. baskil.
- D. parabola.

### Zadanie 40.

W czasie przejazdu na czworoboku koń wykonał zmianę nogi w galopie z przejściem do stępa i powtórny zagalopowaniem. Jest to zmiana nogi

- A. lotna.
- B. zwykła.
- C. robocza.
- D. pośrednia.