

Nazwa kwalifikacji: **Szkolenie i użytkowanie koni**
 Oznaczenie kwalifikacji: **R.20**
 Wersja arkusza: **X**

R.20-X-19.01Czas trwania egzaminu: **60 minut**

EGZAMIN POTWIERDZAJĄCY KWALIFIKACJE W ZAWODZIE
Rok 2019
CZEŚĆ PISEMNA

Instrukcja dla zdającego

1. Sprawdź, czy arkusz egzaminacyjny zawiera 12 stron. Ewentualny brak stron lub inne usterki zgłoś przewodniczącemu zespołu nadzorującego.
2. Do arkusza dołączona jest KARTA ODPOWIEDZI, na której w oznaczonych miejscach:
 - wpisz oznaczenie kwalifikacji,
 - zamaluj kratkę z oznaczeniem wersji arkusza,
 - wpisz swój numer PESEL*,
 - wpisz swoją datę urodzenia,
 - przyklej naklejkę ze swoim numerem PESEL.
3. Arkusz egzaminacyjny zawiera test składający się z 40 zadań.
4. Za każde poprawnie rozwiązane zadanie możesz uzyskać 1 punkt.
5. Aby zdać część pisemną egzaminu musisz uzyskać co najmniej 20 punktów.
6. Czytaj uważnie wszystkie zadania.
7. Rozwiązania zaznaczaj na KARCIE ODPOWIEDZI długopisem lub piórem z czarnym tuszem/atramentem.
8. Do każdego zadania podane są cztery możliwe odpowiedzi: A, B, C, D. Odpowiada im następujący układ krerek w KARCIE ODPOWIEDZI:

A	B	C	D
---	---	---	---

9. Tylko jedna odpowiedź jest poprawna.
10. Wybierz właściwą odpowiedź i zamaluj kratkę z odpowiadającą jej literą – np., gdy wybrałeś odpowiedź „A”:

■	B	C	D
---	---	---	---

11. Staraj się wyraźnie zaznaczać odpowiedzi. Jeżeli się pomylisz i błędnie zaznaczysz odpowiedź, otocz ją kółkiem i zaznacz odpowiedź, którą uważasz za poprawną, np.

⊙ ■	B	C	■
-----	---	---	---

12. Po rozwiązaniu testu sprawdź, czy zaznaczyłeś wszystkie odpowiedzi na KARCIE ODPOWIEDZI i wprowadziłeś wszystkie dane, o których mowa w punkcie 2 tej instrukcji.

Pamiętaj, że oddajesz przewodniczącemu zespołu nadzorującego tylko KARTĘ ODPOWIEDZI.

Powodzenia!

* w przypadku braku numeru PESEL – seria i numer paszportu lub innego dokumentu potwierdzającego tożsamość

Zadanie 1.

Które zachowanie konia świadczy o poważnej chorobie?

- A. Iskkanie drugiego konia w okolicy kłębu.
- B. Oglądanie się na własne boki.
- C. Zасыpianie w pozycji stojącej.
- D. Położenie uszu do tyłu.

Zadanie 2.



1.



2.



3.



4.

Ustal konkurencję jeździeczą lub rodzaj użytkowania konia, w których przedstawione na rysunkach konie (uporządkowane w kolejności od 1 do 4) sprawdzają się najlepiej.

- A. Powożenie, zrywka drewna w lesie, WKKW, wołtyżerka.
- B. Reining, sportowe rajdy konne, WKKW, jeżdżenie.
- C. Wyścigi kłusaków, polo, skoki przez przeszkody, wyścigi konne.
- D. Sportowe rajdy konne, skoki przez przeszkody, powożenie, jeździecka turystyka górską.

Zadanie 3.

Zawody rozgrywane w 2018 roku, podczas których polska reprezentacja w skokach przez przeszkody zajęła 4 miejsce w Pucharze Narodów, to

- A. CSI Warszawa (Cavaliada).
- B. MPMK Strzegom.
- C. CSIO Sopot.
- D. CAI Książ.

Zadanie 4.

Instytucją, która wystawia paszport koniowatego dla konia rasy - polski koń szlachetny półkrwi, jest

- A. Polski Związek Hodowców Koni.
- B. Polski Klub Wyścigów Konnych w Warszawie.
- C. Instytut Zootechniki Państwowy Instytut Badawczy w Krakowie.
- D. komisja skoków przez przeszkody Polskiego Związku Jeździeckiego.

Zadanie 5.

Programy, które odbywają się na zawodach woltyżerki, to

- A. obowiązkowy i dowolny.
- B. prezentacji i sprawności.
- C. ujeżdżenia i zręczności.
- D. zwykły i dokładności.

Zadanie 6.

Wskaż kolejno uszeregowane klasy konkursów w konkurencji ujeżdżenia według stopnia trudności od najłatwiejszego do najtrudniejszego.

- A. L, P, N , 1*, 2**, 3***
- B. L, P, N , C, CC, CS
- C. LL, L, P, N, C, CC
- D. L, N, C

Zadanie 7.

Wadą budowy, która najbardziej obniża wartość użytkową konia, jest

- A. pipak.
- B. jelenia szyja.
- C. szczupaczy pysk.
- D. szczupaczy zgryz.

Zadanie 8.

Urządzenie przedstawione na rysunku służy do

- A. ozonowania.
- B. karmienia.
- C. inhalacji.
- D. pojenia.



Zadanie 9.

Które badanie stanu zdrowia konia przedstawiono na rysunku?

- A. Badanie stanu odwodnienia organizmu.
- B. Badanie wypełnienia żyły jarzmowej.
- C. Pomiar stanu napięcia mięśni.
- D. Pomiar tętna.

**Zadanie 10.**

Które wyposażenie może mieć na sobie koń półkrwi podczas przeglądów hodowlanych, championatów i wystaw koni?

- A. Tylko ogłowie wędzidłowe.
- B. Ogłowie wędzidłowe i kaloszki na 4 kopytach.
- C. Czysty, dopasowany kantar stajenny i kaloszki na 4 kopytach.
- D. Ogłowie wędzidłowe, nauszники i białe owijki na nadpęciach 4 nóg.

Zadanie 11.

Uszkodzenie mięśni barku i łopatki na skutek jazdy skosem po stromym zboczu lub gwałtownych skrętów w miejscu to

- A. opoje.
- B. spleczenie.
- C. odsednienie.
- D. zapoprężenie.

Zadanie 12.

Przedstawione na rysunku urządzenie, znajdujące się na wyposażeniu stajni, służy do

- A. ogrzewania źrebiąt (przenośny grzejnik).
- B. eliminacji owadów (lampa owadobójcza UV).
- C. suszenia i ogrzewania koni po treningu (solarium).
- D. usuwania zanieczyszczeń powietrza (filtr pyłkowy).

**Zadanie 13.**

Gotowość rozluźnionego i posłusznego konia do przyjmowania bez przymusu pomocy aktywizujących, wstrzymujących i przesuwających wraz z natychmiastową reakcją konia na pomoce jeźdźca to

- A. przepuszczalność.
- B. prostowanie.
- C. jezdność.
- D. impuls.

Zadanie 14.

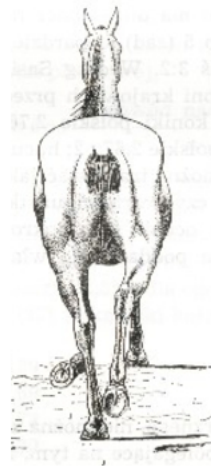
Wskaż błędnie opisaną i wykonaną czynność przez jeźdźca w czasie zagalopowania z prawej nogi.

- A. Jeździec zwiększa uwagę konia przez wykonanie parady.
- B. Jeździec przesuwa lewą zewnętrzną łydkę na szerokość dłoni za popręg.
- C. Jeździec prawą łydką, leżącą przy popręgu, nadaje impuls do ruchu do przodu.
- D. W momencie zagalopowania jeździec wypuszcza skok galopu do przodu przez lekko ustępujące wodze, zwłaszcza wewnętrzną.

Zadanie 15.

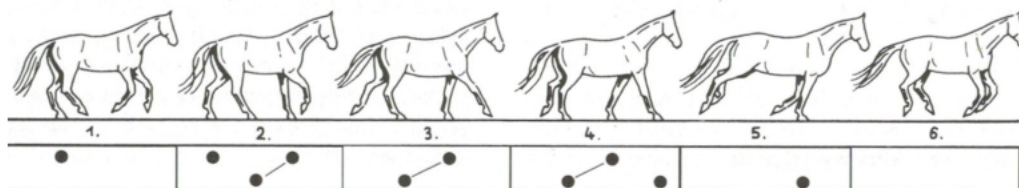
Wada chodu u konia przedstawiona na rysunku to

- A. szłap.
- B. ściganie.
- C. caplowanie.
- D. bilardowanie.

**Zadanie 16.**

Pierwszą czynnością podczas wyprzęgania koni z bryczki parokonnej jest wypięcie

- A. lejcy z wędzideł.
- B. naszelników z dyszla.
- C. pasów pociągowych z orczyków.
- D. naszelników z pasów napierśnika.

Zadanie 17.

Przedstawiony na schemacie ruch konia to

- A. cwał.
- B. galop z lewej nogi.
- C. galop z prawej nogi.
- D. krzyżowanie w galopie.

Zadanie 18.

Na którym rysunku przedstawiono siodło ujeżdżeniowe?



A.



B.



C.



D.

Zadanie 19.

Na którym rysunku przedstawiony jest koń z nachrapnikiem meksykańskim?



A.



B.



C.



D.

Zadanie 20.

Korzystając z przedstawionych rysunków dobierz kielzno do zaprzęgu w stylu angielskim.



A.



B.



C.

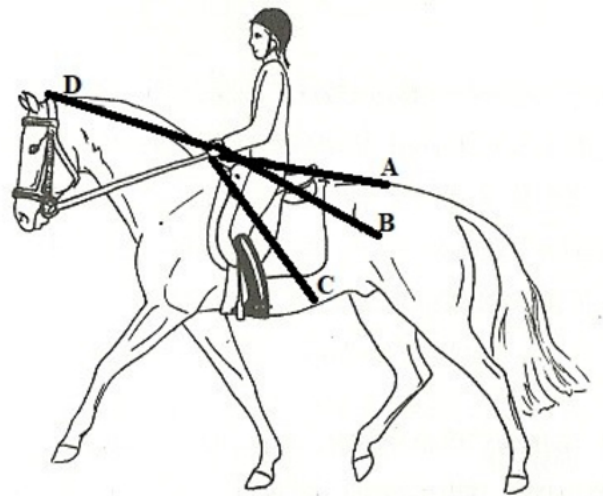



D.

Zadanie 21.

Określ, które spośród przedstawionych na rysunku miejsc użycia bata ujeżdżeniowego w czasie jazdy konnej oznaczone literami A, B, C, D jest prawidłowe.

- A. Miejsce oznaczone literą A.
- B. Miejsce oznaczone literą B.
- C. Miejsce oznaczone literą C.
- D. Miejsce oznaczone literą D.

**Zadanie 22.**

Który ruch konia i jeźdźca przedstawiono na rysunkach?

- A. Galop w półsiadzie w prawo.
- B. Kłus anglezowany w prawo.
- C. Kłus anglezowany w lewo.
- D. Stęp pośredni w lewo.

Zadanie 23.


Przedstawiony na rysunku zaprzęg to

- A. czwórka w lejc w stylu węgierskim.
- B. czwórka w szydło w stylu angielskim.
- C. czwórka w lejc w stylu śląskim.
- D. czwórka w poręcz w stylu książęcym.

Zadanie 24.

Przeszkoda zaprezentowana na rysunku to

- A. okser.
- B. stacjonata.
- C. triplebarre.
- D. doublebarre.

**Zadanie 25.**

Zwycięzcą konkursu zwykłego w konkurencji skoki przez przeszkody zostanie zawodnik, który

- A. ukończy przejazd w najkrótszym czasie z najmniejszą liczbą punktów karnych.
- B. trafi idealnie w ustaloną normę czasu z najmniejszą liczbą punktów karnych.
- C. ukończy przejazd w najkrótszym czasie wraz z ewentualnie doliczonymi sekundami karnymi za zrzutki.
- D. ukończy przejazd w normie czasu z najmniejszą liczbą punktów karnych, w tym konkursie może być kilku zwycięzców.

Zadanie 26.

Zgodnie z przepisami Unii Europejskiej w sprawie przewozu koni zabrania się transportu klaczy żrebnych w okresie

- A. 2 ostatnich miesięcy ciąży oraz do 2 tygodni po porodzie.
- B. 3 ostatnich miesięcy ciąży oraz do 5 dni po porodzie.
- C. od pierwszej diagnozy ciąży oraz do 2 dni po porodzie.
- D. ostatniego miesiąca ciąży oraz do tygodnia po porodzie.

Zadanie 27.

W czasie usługowego transportu klaczy na terenie Unii Europejskiej **nieobowiązkowym** dokumentem jest

- A. paszport koniowatego.
- B. świadectwo pokrycia klaczy.
- C. zaświadczenie o kwalifikacjach kierowcy/konwojenta zwierząt.
- D. decyzja Powiatowego Lekarza Weterynarii dopuszczająca środek transportu.

Zadanie 28.

Który element stroju amazonki lub wyposażenia, **nie może być użyty** w czasie konkursu w skokach przez przeszkody organizowanego zgodnie z przepisami PZJ?



A.



B.



C.



D.

Zadanie 29.

Najlepszym koniem do zaprzęgu dla gospodarstwa agroturystycznego świadczącego usługi przewozu turystów po okolicy jest

- A. 10-letni wałach rasy śląskiej.
- B. 3-letni wałach rasy małopolskiej.
- C. 18-letnia klacz czystej krwi arabskiej.
- D. 4-letni ogier rasy pełnej krwi angielskiej.

Zadanie 30.

Na którym z rysunków przedstawiono karetę coupe?



A.



B.



C.



D.

Zadanie 31.

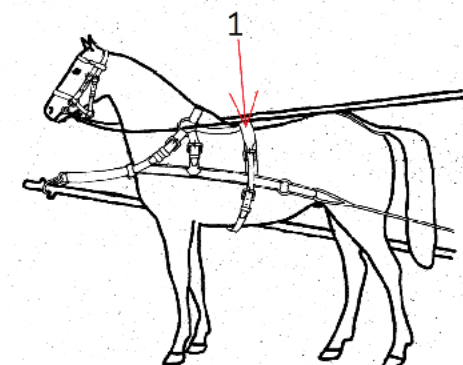
Szybkość narastania rogu kopytowego ściany przedniej kopyta u konia półkrewi wynosi

- A. 5 – 6 mm/miesiąc.
- B. 10 – 12 mm/miesiąc.
- C. 15 – 17 mm/miesiąc.
- D. 20 – 22 mm/miesiąc.

Zadanie 32.

Część uprzęży szorowej oznaczona na rysunku nr 1 to


- A. natylnik.
- B. napierśnik.
- C. nakarcznic.
- D. nagrzbietnik.



Zadanie 33.

O ile centymetrów musi być dłuższy krzyżak od lejcy w zaprzęgu parokonnym dla dużych koni, aby konie mogły trzymać głowy równoległe?

- A. 6 cm
- B. 12 cm
- C. 18 cm
- D. 24 cm

**Zadanie 34.**

Odległość pomiędzy kolejnymi koziołkami (cavaletti) ustawionymi do ćwiczeń w stępie, kłusie i galopie wynosi odpowiednio:

- A. 170 cm (stęp), 250 cm (kłus), 450 cm (galop).
- B. 140 cm (stęp), 210 cm (kłus), 400 cm (galop).
- C. 110 cm (stęp), 170 cm (kłus), 370 cm (galop).
- D. 80 cm (stęp), 130 cm (kłus), 300 cm (galop).

Zadanie 35.

Który zapis dotyczący zasad bezpieczeństwa jazdy na ujeżdżalni jest poprawny?

- A. Jeźdźcy mijają się lewymi rękoma.
- B. Jeźdźcy jadący „po kole” mają pierwszeństwo przed jadącymi „na wprost”.
- C. Jeźdźcy wykonujący figury mają pierwszeństwo przed jadącymi na pierwszym śladzie.
- D. Jeźdźcy jadący niższym chodem mają pierwszeństwo przed jadącymi wyższym chodem.

Zadanie 36.

Przygotowując konia do transportu, **nie należy**

- A. wykręcać haceli.
- B. zakładać kantar.
- C. karmić konia paszą treściwą.
- D. zakładać ochraniacze transportowych.

Zadanie 37.

Która konkurencja jeździecka **nie jest** rozgrywana podczas World Equestrian Games (Światowe Igrzyska Jeździeckie)?

- A. Wszechstronny Konkurs Konia Wierzchowego.
- B. Powożenie zaprzęgami jedno- i parokonnymi.
- C. Woltyżerka.
- D. Reining.

Zadanie 38.

Ile „długości konia” powinna wynosić minimalna bezpieczna odległość pomiędzy końmi podczas jazdy rekreacyjnej grupy jeźdźców w galopie?

- A. Jedną długość.
- B. Dwie długości.
- C. Trzy długości.
- D. Cztery długości.

Zadanie 39.

Która cena za 1 godzinę jazdy konnej spośród podanych cen zapewni opłacalność prowadzenia działalności w postaci szkółki jeździeckiej, przy założeniach, że wszystkie konie pracują 1 godzinę dziennie przez 6 dni w tygodniu, a miesięczny koszt utrzymania 10 koni w stajni rekreacyjnej wynosi 9 000,00 zł (pasza, obsługa koni, wynagrodzenie obsługi itp.)? Obliczenia wykonaj dla okresu 4 tygodni.

- A. 25,00 zł
- B. 30,00 zł
- C. 35,00 zł
- D. 40,00 zł

Zadanie 40.

Sygnał dla jazdy w zastępie podawany ręką, który przedstawiono na rysunku, oznacza

- A. Niższy chód!
- B. Zwinąć szyk!
- C. Zakręt w lewo!
- D. Rozproszyć się!



