

Nazwa kwalifikacji: **Szkolenie i użytkowanie koni**
 Oznaczenie kwalifikacji: **R.20**
 Wersja arkusza: **X**

R.20-X-18.01Czas trwania egzaminu: **60 minut**

EGZAMIN POTWIERDZAJĄCY KWALIFIKACJE W ZAWODZIE
Rok 2018
CZEŚĆ PISEMNA

Instrukcja dla zdającego

1. Sprawdź, czy arkusz egzaminacyjny zawiera 10 stron. Ewentualny brak stron lub inne usterki zgłoś przewodniczącemu zespołu nadzorującego.
2. Do arkusza dołączona jest KARTA ODPOWIEDZI, na której w oznaczonych miejscach:
 - wpisz oznaczenie kwalifikacji,
 - zamaluj kratkę z oznaczeniem wersji arkusza,
 - wpisz swój numer PESEL*,
 - wpisz swoją datę urodzenia,
 - przyklej naklejkę ze swoim numerem PESEL.
3. Arkusz egzaminacyjny zawiera test składający się z 40 zadań.
4. Za każde poprawnie rozwiązane zadanie możesz uzyskać 1 punkt.
5. Aby zdać część pisemną egzaminu musisz uzyskać co najmniej 20 punktów.
6. Czytaj uważnie wszystkie zadania.
7. Rozwiązania zaznaczaj na KARCIE ODPOWIEDZI długopisem lub piórem z czarnym tuszem/atramentem.
8. Do każdego zadania podane są cztery możliwe odpowiedzi: A, B, C, D. Odpowiada im następujący układ krerek w KARCIE ODPOWIEDZI:

A	B	C	D
---	---	---	---

9. Tylko jedna odpowiedź jest poprawna.
10. Wybierz właściwą odpowiedź i zamaluj kratkę z odpowiadającą jej literą – np., gdy wybrałeś odpowiedź „A”:

■	B	C	D
---	---	---	---

11. Staraj się wyraźnie zaznaczać odpowiedzi. Jeżeli się pomylisz i błędnie zaznaczysz odpowiedź, otocz ją kółkiem i zaznacz odpowiedź, którą uważasz za poprawną, np.

○■	B	C	■
----	---	---	---

12. Po rozwiązaniu testu sprawdź, czy zaznaczyłeś wszystkie odpowiedzi na KARCIE ODPOWIEDZI i wprowadziłeś wszystkie dane, o których mowa w punkcie 2 tej instrukcji.

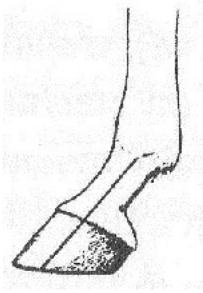
Pamiętaj, że oddajesz przewodniczącemu zespołu nadzorującego tylko KARTĘ ODPOWIEDZI.

Powodzenia!

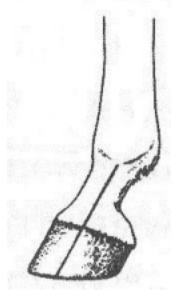
* w przypadku braku numeru PESEL – seria i numer paszportu lub innego dokumentu potwierdzającego tożsamość

Zadanie 1.

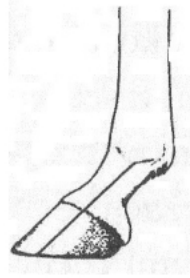
Który rysunek przedstawia prawidłowe skątowanie odcinka pęcionowo-kopytowego nogi przedniej konia?



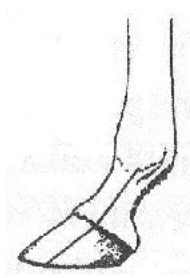
A.



B.



C.



D.

Zadanie 2.

Która rasa koni najlepiej nadaje się do prac zrywki drewna w lesie?

- A. Konik polski.
- B. Koń zimnokrwisty.
- C. Czysta krew arabska.
- D. Polski koń szlachetny półkrwi.

Zadanie 3.

Zad horyzontalny będzie zaletą u konia

- A. skoczka, ponieważ sprzyja potężde skoku.
- B. rajdowego, ponieważ ułatwia dłuższy wyrok.
- C. zimnokrwistego, ponieważ pomaga ruszyć z miejsca duże ciężary.
- D. ujeżdżeniowego, ponieważ łatwiej jest mu przenieść ciężar ciała na zad.

Zadanie 4.

Która rasa koni przechodzi wyścigową próbę dzielności?

- A. Wielkopolska.
- B. Pełna krew angielska.
- C. Polski koń szlachetny półkrwi.
- D. Koń pochodzenia trakeńskiego i wschodniopruskiego.

Zadanie 5.

Najlepszą rasą koni do uprawiania reiningu są konie rasy

- A. American Quarter Horse.
- B. czystej krwi arabskiej.
- C. małopolskiej.
- D. haflinger.

Zadanie 6.

Odległość pomiędzy kolejnymi koziołkami (cavaletti) ustawionymi do ćwiczeń w galopie wynosi

- A. 90 cm
- B. 130 cm
- C. 200 cm
- D. 300 cm

Zadanie 7.

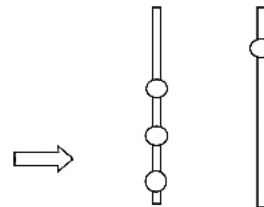
W dyscyplinie skoki przez przeszkody w konkursie klasy C przeszkody mają wysokość

- A. 120 cm
- B. 130 cm
- C. 140 cm
- D. 150 cm

Zadanie 8.

Przedstawiona na rysunku przeszkoda to

- A. okser.
- B. stacjonata.
- C. triplebarre.
- D. doublebarre.

**Zadanie 9.**

W którym miejscu przeszkody ma być umieszczona biała chorągiewka kierunkowa?

- A. Na prawym stojaku u góry.
- B. Na prawym stojaku na dole.
- C. Na lewym stojaku u góry.
- D. Na lewym stojaku na dole.

Zadanie 10.

Wskaż prawidłowo dopasowaną parę: pełna nazwa międzynarodowych zawodów – skrót zawodów.

- A. Międzynarodowe zawody w powożeniu – CAI
- B. Międzynarodowe zawody w skokach przez przeszkody – CDIO
- C. Międzynarodowe zawody w sportowych rajdach konnych – CRI
- D. Międzynarodowe zawody we Wszechstronnym Konkursie Konia Wierzchowego – CSI

Zadanie 11.

Przedmiot przedstawiony na rysunku służy do

- A. zaplatania grzywy u koni zimnokrwistych.
- B. regulacji i dopasowywania chomąta angielskiego.
- C. czyszczenia szczotki w czasie czyszczenia sierści konia.
- D. naciągania pasów pociągowych w zaprzęgu czterokonnym.



Zadanie 12.

Ilość środka odrobaczającego dla koni, podawanego jednorazowo w postaci pasty, określa się na podstawie

- A. wieku konia.
- B. masy ciała konia.
- C. ilości wykonywanej pracy.
- D. ilości kilogramów paszy objętościowej.

Zadanie 13.

Wskaż w jakich odstępach czasu koń systematycznie wyjeżdżający na zawody, musi mieć wykonywane szczepienia przypominające na grypę i w którym dokumencie musi być to odnotowane.

- A. Co 3 miesiące – Książeczka szczepień konia.
- B. Co 6 miesięcy – Paszport konia PZHK.
- C. Co 12 miesięcy – Książeczka szczepień konia.
- D. Co 24 miesiące – Paszport konia PZHK.

Zadanie 14.

Wada chodu konia polegająca na uderzaniu kopyt o pęcinę, staw pęciny lub nadpęcie drugiej nogi nazywa się

- A. szłapem.
- B. krzyżowaniem.
- C. strychowaniem.
- D. bilardowaniem.

Zadanie 15.

Wskaż nazwę zmiany widocznej na tylnej stronie stawu skokowego oraz jej konsekwencje w użytkowaniu konia.

- A. Żabka – poważna wada, może być przyczyną kulawizny.
- B. Nakostniak – poważna wada, może być przyczyną kulawizny.
- C. Pipak – błąd piękności, koń może być normalnie użytkowany.
- D. Zajęczak – błąd piękności, koń może być normalnie użytkowany.

**Zadanie 16.**

Tętno spoczynkowe u konia wynosi

- A. 2-7 uderzeń/minutę.
- B. 8-16 uderzeń/minutę.
- C. 24-42 uderzeń/minutę.
- D. 48-70 uderzeń/minutę.

Zadanie 17.

Wskaż najlepszy system utrzymania koni w stajni sportowej.

- A. Boksowy.
- B. Alkierzowy.
- C. Stanowiskowy.
- D. Wolnostanowiskowy.

Zadanie 18.

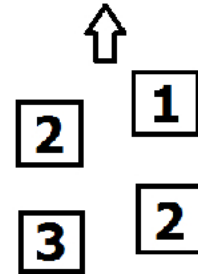
Werkowanie kopyt przeprowadza się

- A. 2 razy do roku.
- B. co 3-4 tygodnie.
- C. co 6-8 tygodni.
- D. przed jazdą i po każdej jeździe.

Zadanie 19.

Który chód konia przedstawiono na schemacie?

- A. Galop z prawej nogi.
- B. Kontrgalop w prawo.
- C. Cwał na lewą nogę.
- D. Kłus na lewą nogę.

**Zadanie 20.**

Jeden skok galopu nazywa się

- A. baskilem.
- B. canter.
- C. taktem.
- D. foule.

Zadanie 21.

Który dosiad jeźdźca pokazano na przedstawionym rysunku?

- A. Półsiad.
- B. Dosiad stiplowy.
- C. Dosiad widłowy.
- D. Dosiad podstawowy.



Zadanie 22.

Krótkie, mocniejsze zamknięcie konia pomiędzy pomocami ciężaru, łydek i wodzy, po którym następuje ustąpienie wodzy wykonywane w celu np. przejścia z jednego chodu do drugiego nazywa się

- A. paradą.
- B. kadencją.
- C. półparadą.
- D. przepuszczalnością.

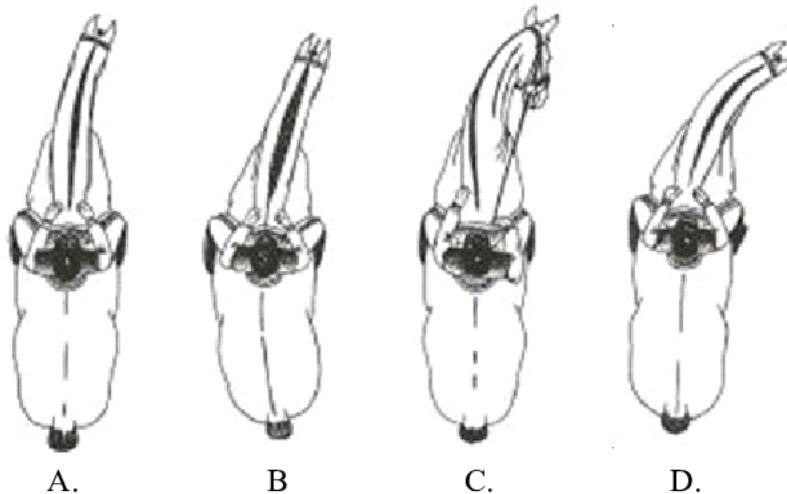
Zadanie 23.

Błędem w dosiadzie podstawowym jest

- A. zachowanie linii prostej: łokieć – nadgarstek – pysk konia.
- B. dosiad łopatką do wewnątrz.
- C. nisko opuszczona pięta.
- D. dosiad fotelowy.

Zadanie 24.

Na którym rysunku jeździec wykonał prawidłowe zgięcie konia w czasie jazdy po łuku w prawo?

**Zadanie 25.**

Do konserwacji i czyszczenia skórzanych elementów rzędu jeździeckiego używa się mydła

- A. litowego.
- B. potasowego.
- C. toaletowego.
- D. glicerynowego.

Zadanie 26.

Na rysunku przedstawione jest siodło

- A. rajdowe.
- B. westernowe.
- C. ujeżdżeniowe.
- D. wszechstronne.

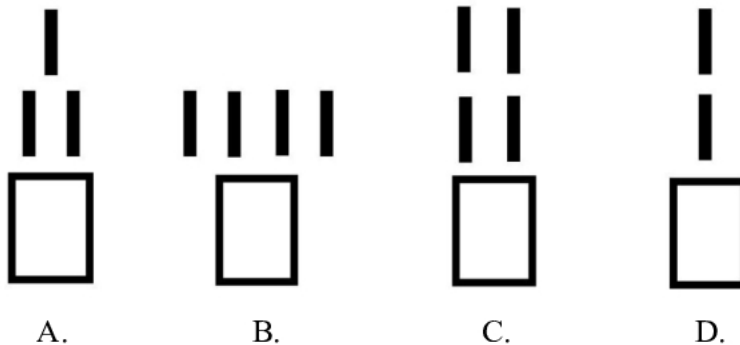
**Zadanie 27.**

Na rysunku przedstawiono ogłowie z nachrapnikiem

- A. polskim.
- B. hanowerskim.
- C. meksykańskim.
- D. kombinowanym.

**Zadanie 28.**

Który schemat przedstawia sposób zaprzężania koni charakterystyczny dla zaprzęgu w stylu bałagulskim?

**Zadanie 29.**

Dyscyplina jeździecka, w której stosuje się pokazany na rysunku ubiór jeźdźca i rząd jeździecki, to

- A. Wszechstronny Konkurs Konia Wierzchowego.
- B. sportowe rajdy konne.
- C. reining.
- D. polo.



Zadanie 30.

Brakującym elementem skali szkoleniowej jest

- A. rytm.
- B. prostowanie.
- C. przepuszczalność.
- D. akceptacja wędzidła.

**Zadanie 31.**

Ruszanie zaprzęgiem powinno odbyć się przez

- A. cmoknięcie i lekkie popuszczenie lejcy.
- B. uderzenie lejcami po grzbiecie konia.
- C. uderzenie batem po zadzie konia.
- D. napięcie lejcy i sygnał głosem.

Zadanie 32.

Przewożąc konia na terenie Polski, konieczne jest posiadanie

- A. paszportu PZHK.
- B. karty szczepień konia.
- C. zaświadczenia o odrobaczeniu konia.
- D. zaświadczenia o szczepieniu przeciw tężcowi.

Zadanie 33.

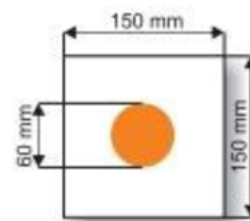
Po lasach państwowych można poruszać się konno tylko wtedy, gdy

- A. droga nie jest utwardzona.
- B. mamy uprawnienia instruktora.
- C. nie ma zagrożenia pożarowego.
- D. wyznaczone są oznaczone szlaki.

Zadanie 34.

Wskaż informację, którą oznacza przedstawiony znak umieszczony na szlaku jeździeckim.

- A. Uwaga, rozwidlenie szlaku.
- B. Jesteś na szlaku głównym.
- C. Początek szlaku konnego.
- D. Koniec szlaku konnego.



Zadanie 35.

„Koń je wolno, bardziej się ślini, w żłobie mogą zostawać przeżute resztki pokarmu, w kale może znajdować całe ziarna niestrawionego zboża”. Przedstawiony opis wskazuje na wystąpienie u konia

- A. alergii.
- B. morzyska.
- C. odsednienia.
- D. ostrych zębów.

Zadanie 36.

Która instytucja organizuje egzaminy na Brązową, Srebrną i Złotą Jeździecką Odznakę Turystyki Nizinnej?

- A. Polski Związek Jeździecki.
- B. Polski Związek Hodowców Koni.
- C. Towarzystwo Krzewienia Kultury Fizycznej.
- D. Polskie Towarzystwo Turystyczno-Krajoznawcze.

Zadanie 37.

Sprzęt przedstawiony na rysunku służy do

- A. owijania ogona konia w czasie transportu.
- B. karmienia koni sianem w czasie transportu.
- C. unieruchomienia uszkodzonej nogi przedniej konia.
- D. wiązania koni w samochodach przewożących do 6-8 koni.

Zadanie 38.

Gospodarstwo agroturystyczne posiada w stajni 5 koni do jazdy rekreacyjnej. Koń pracuje 3 godziny dziennie przez 6 dni w tygodniu. Cena jazdy konnej za godzinę w zastępie wynosi 50 zł. Na podstawie przedstawionych informacji oblicz tygodniowy wpływ do kasy z jazd rekreacyjnych.

- A. 3 500 zł
- B. 4 000 zł
- C. 4 500 zł
- D. 5 250 zł

Zadanie 39.

Wysuwanie do przodu przednich kończyn, gorące kopyta, trudności w poruszaniu mogą wskazywać na wystąpienie u konia

- A. nagwożdżenia.
- B. zagwożdżenia.
- C. ochwatu.
- D. kolki.

Zadanie 40.

Rany koronki lub piątek kopytowych spowodowane nastąpieniem nogi na nogę to

- A. podbicie.
- B. artrozy.
- C. opoje.
- D. zatrat.