

Nazwa kwalifikacji: **Szkolenie i użytkowanie koni**
Oznaczenie kwalifikacji: **R.20**
Wersja arkusza: **X**

R.20-X-18.06Czas trwania egzaminu: **60 minut**

EGZAMIN POTWIERDZAJĄCY KWALIFIKACJE W ZAWODZIE
Rok 2018
CZEŚĆ PISEMNA

Instrukcja dla zdającego

- Sprawdź, czy arkusz egzaminacyjny zawiera 11 stron. Ewentualny brak stron lub inne usterki zgłoś przewodniczącemu zespołu nadzorującego.
- Do arkusza dołączona jest KARTA ODPOWIEDZI, na której w oznaczonych miejscach:
 - wpisz oznaczenie kwalifikacji,
 - zamaluj kratkę z oznaczeniem wersji arkusza,
 - wpisz swój numer PESEL*,
 - wpisz swoją datę urodzenia,
 - przyklej naklejkę ze swoim numerem PESEL.
- Arkusze egzaminacyjny zawiera test składający się z 40 zadań.
- Za każde poprawnie rozwiązane zadanie możesz uzyskać 1 punkt.
- Aby zdać część pisemną egzaminu musisz uzyskać co najmniej 20 punktów.
- Czytaj uważnie wszystkie zadania.
- Rozwiązania zaznaczaj na KARCIE ODPOWIEDZI długopisem lub piórem z czarnym tuszem/atramentem.
- Do każdego zadania podane są cztery możliwe odpowiedzi: A, B, C, D. Odpowiada im następujący układ krerek w KARCIE ODPOWIEDZI:

A	B	C	D
---	---	---	---

- Tylko jedna odpowiedź jest poprawna.
- Wybierz właściwą odpowiedź i zamaluj kratkę z odpowiadającą jej literą – np., gdy wybrałeś odpowiedź „A”:

<input checked="" type="checkbox"/>	B	C	D
-------------------------------------	---	---	---

- Staraj się wyraźnie zaznaczać odpowiedzi. Jeżeli się pomylisz i błędnie zaznaczysz odpowiedź, otocz ją kółkiem i zaznacz odpowiedź, którą uważasz za poprawną, np.

<input checked="" type="checkbox"/>	B	C	<input checked="" type="checkbox"/>
-------------------------------------	---	---	-------------------------------------

- Po rozwiązaniu testu sprawdź, czy zaznaczyłeś wszystkie odpowiedzi na KARCIE ODPOWIEDZI i wprowadziłeś wszystkie dane, o których mowa w punkcie 2 tej instrukcji.

Pamiętaj, że oddajesz przewodniczącemu zespołu nadzorującego tylko KARTĘ ODPOWIEDZI.

Powodzenia!

* w przypadku braku numeru PESEL – seria i numer paszportu lub innego dokumentu potwierdzającego tożsamość

Zadanie 1.

Skątowanie ściany przedniej kopyta nogi tylnej w stosunku do podłoża u koni ras półkrwi użytkowanych wierzchowo powinno wynosić

- A. 52° ($50^\circ - 55^\circ$)
- B. 57° ($55^\circ - 60^\circ$)
- C. 62° ($60^\circ - 65^\circ$)
- D. 67° ($65^\circ - 70^\circ$)

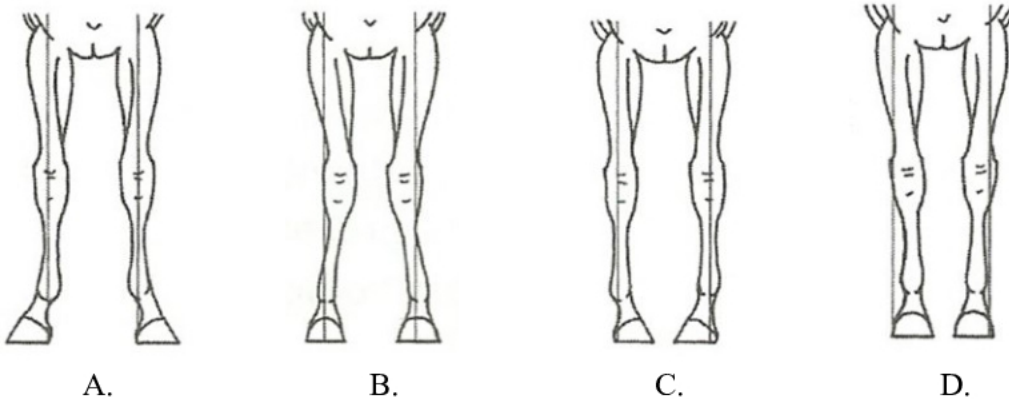
Zadanie 2.

Prawidłowo wykonana prezentacja konia przed komisją w ruchu na trójkącie odbywa się

- A. w lewą stronę w kłusie i w stępie.
- B. w prawą stronę w stępie i w kłusie.
- C. w stępie w lewą stronę, w kłusie w prawą stronę.
- D. w stępie w prawą stronę, w kłusie w lewą stronę.

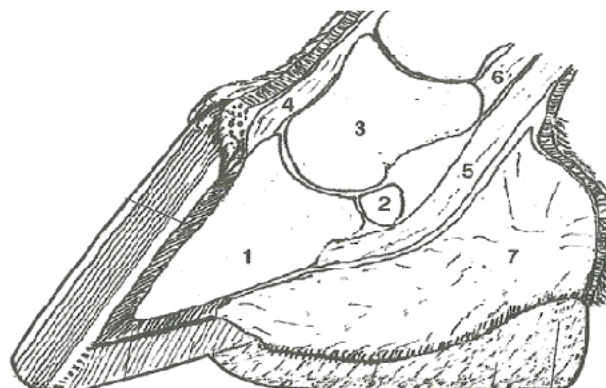
Zadanie 3.

Który rysunek przedstawia postawę szpotawą ustawienia nóg przednich konia?

**Zadanie 4.**

Na przedstawionym przekroju poprzecznym kopyta konia, cyfrą 3 oznaczono

- A. kość kopytową,
- B. kość koronową.
- C. trzyczekę kopytową.
- D. trzyczekę pęcینową.



Zadanie 5.

Na podstawie podanego wieku, rasy i wymiarów konia, wskaż konia o najlepszych predyspozycjach do skoków przez przeszkody.

- A. 11-letni wałach, rasy polski koń szlachetny półkrwi, o wymiarach 170-200-22,5.
- B. 6-letni ogier rasy zimnokrwistej w typie sztumskim, o wymiarach 161-215-25.
- C. 4-letnia klacz rasy pełnej krwi angielskiej, o wymiarach 160-180-20.
- D. 14-letni ogier rasy czystej krwi arabskiej, o wymiarach 155-180-19.

Zadanie 6.


Schorzenie występujące u młodych koni wyścigowych pełnej krwi angielskiej podczas pierwszego sezonu pracy, objawiające się zmianami na przedniej stronie nadpęcia to

- A. opoje.
- B. obrączka.
- C. bukszyny.
- D. nakostniaki.

Zadanie 7.

Przedstawiony obraz został wykonany metodą

- A. diagnostyki termowizyjnej.
- B. rezonansu magnetycznego.
- C. tomografii komputerowej.
- D. USG dopplerowskiego.

**Zadanie 8.**

Wskaż nazwę i przeznaczenie sprzętu pokazanego na rysunku.


- A. Strychulce – zapobiegają strychowaniu.
- B. Kalosze – do ochrony kopyt, koronek i pięt.
- C. Ochraniacze transportowe – do ochrony stawów pędziniowych konia.
- D. Nakładki na dyszel w zaprzęgu parokonnym – zapobiegają otarciom boków koni.



Zadanie 9.

Czynność przedstawiona na rysunku ma na celu

- A. napojenie konia.
- B. poskromienie konia.
- C. tarnikowanie zębów konia.
- D. pomiar temperatury ciała konia.



Zadanie 10.

Zdjęcie RTG przedstawia staw pęciny z odpryskami kostnymi. Pokazane schorzenie to

- A. OCD
- B. COPD
- C. RAO
- D. PZJ



Zadanie 11.

Prawidłowo prowadzony trening konia powoduje wzrost we krwi ilości

- A. trombocytów.
- B. leukocytów.
- C. limfocytów.
- D. erytrocytów.

Zadanie 12.

Przedstawione na rysunku urządzenie treningowe dla koni to

- A. maneż.
- B. bieżnia.
- C. karuzela.
- D. kołowrotek.



Zadanie 13.

Wskaż część ciała konia, którą należy kontrolować w okresie jesieni i zimy, aby nie dopuścić do powstawania grudy.

- A. Nadpęcie.
- B. Pęciny.
- C. Pysk.
- D. Kłęb.

Zadanie 14.

Który rysunek przedstawia wędzidło oliwkowe pojedynczo łamane?

**Zadanie 15.**

Wskaż parę (rasa konia – konkurencja jeździecka), w której rasa konia jest najlepiej dopasowana do konkurencji jeździeckiej.

- A. Czysta krew arabska – sportowe rajdy konne.
- B. Pełna krew angielska – woltyżerka.
- C. Huculska – ujeżdżenie.
- D. Śląska – WKKW.

Zadanie 16.

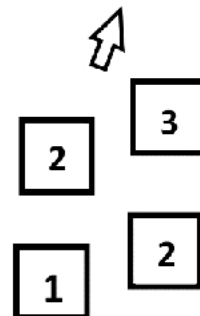
Naturalne pomoce jeździeckie to:

- A. wyczucie jeździeckie, ciężar, ręka.
- B. napięcie krzyża, bat, lejce.
- C. dosiad, łydka, wodza.
- D. głos, palcat, ostrogi.

Zadanie 17.

Który chód konia przedstawiono na schemacie?


- A. Galop z prawej nogi.
- B. Kontrgalop w prawo.
- C. Cwał na lewą nogę.
- D. Kłus na lewą nogę.



Zadanie 18.

Który rodzaj dosiadau przedstawiono na rysunku?

- A. Podstawowy.
- B. Widłowy.
- C. Stiplowy.
- D. Półsiad.

**Zadanie 19.**

Rysunek przedstawia graficzny plan przejazdu w konkurencji reining. Brakujący ruch, wykonywany dwukrotnie przez parę jeździec-koń w miejscu zaznaczonym na rysunku czerwonym znakiem (?), to

- A. pattern.
- B. spurs.
- C. spin.
- D. trot.

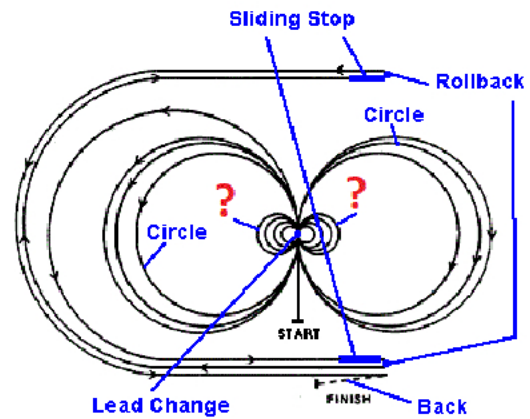
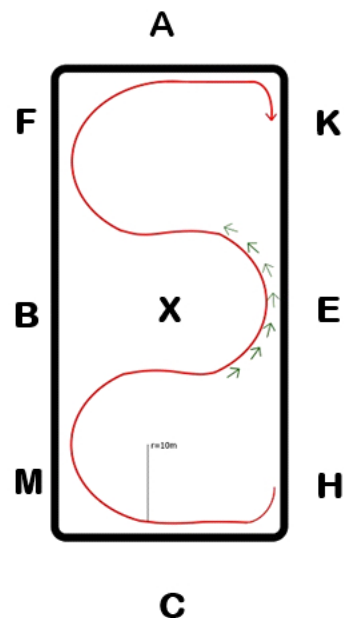
**Zadanie 20.**

Figura przedstawiona na czworoboku to

- A. wolta.
- B. wężyk.
- C. półwolta.
- D. serpentyna.



Zadanie 21.

Przeszkoda złożona z 2 stacjonat ustawionych w odległości od 7,50 do 8 metrów od siebie to

- A. szereg na wskok-wyskok.
- B. szereg na 1 foule.
- C. szereg na 2 foule.
- D. linia na 2 foule.

Zadanie 22.

Na rysunku przedstawiono pas do

- A. zaprzęgu jednokonnego.
- B. zaprzęgu parokonnego.
- C. konkurencji rodeo.
- D. wołyżerki.

**Zadanie 23.**

Brakującym elementem oznaczonym „...” przedstawionej skali szkoleniowej jest

- A. zganaszowanie.
- B. samoniesienie.
- C. jezdność.
- D. zebranie.

**Zadanie 24.**


Na rysunku przedstawiono siodło

- A. trekkingowe.
- B. westernowe.
- C. wojskowe.
- D. damskie.

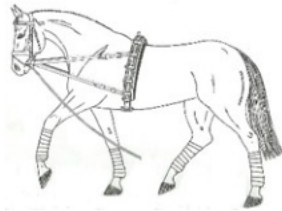


Zadanie 25.


Który rysunek przedstawia sposób wypięcia konia do lonżowania na pojedynczej lonży na wypinaczach zwykłych?



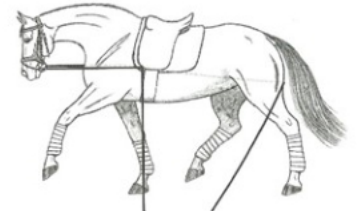
A.



B.



C.



D.

Zadanie 26.

Działanie jeźdźca przez mocniejsze napinanie krzyża i przyłożenie łydek, prowadzące do zatrzymania konia, to

- A. zebranie.
- B. lewada.
- C. parada.
- D. wolta.

Zadanie 27.

Rysunek przedstawia parokonny zaprzęg w stylu

- A. krakowskim.
- B. angielskim.
- C. podlaskim.
- D. śląskim.

**Zadanie 28.**

Pierwszeństwo na ujeżdżalni mają jeźdźcy jadący

- A. na lewą rękę.
- B. na prawą rękę.
- C. klusem przed jeźdźcami poruszającymi się galopem.
- D. na kole przed jeźdźcami poruszającymi się po liniach prostych.

Zadanie 29.

Przedstawiony na rysunku element stroju jeździeckiego to

- A. plastron.
- B. szarfa.
- C. żabot.
- D. flots.



Zadanie 30.

Zwycięzcą konkursu zwykłego w konkurencji skoki przez przeszkody zostanie zawodnik, który

- A. ukończy przejazd w najkrótszym czasie, z najmniejszą liczbą punktów karnych.
- B. trafi idealnie w ustaloną normę czasu, z najmniejszą liczbą punktów karnych.
- C. ukończy przejazd w najkrótszym czasie, wraz z ewentualnie doliczonymi sekundami karnymi za zrzutki.
- D. ukończy przejazd w normie czasu, z dopuszczalną liczbą punktów karnych. W tym konkursie może być kilku zwycięzców lub o pierwsze miejsce może być przeprowadzona rozgrywka.

Zadanie 31.

„Choroba układu oddechowego koni spowodowana porażeniem nerwu krtaniowego, głównie lewego. Konsekwencją tego jest niedostateczne odwodzenie chrząstki nalewkowatej krtani podczas wdechu. Objawia się to patologicznymi dźwiękami podczas ruchu konia (świst), konie takie ze względu na utrudnione oddychanie są mniej wydajne w pracy i szybko się męczą.”

Przedstawiony opis dotyczy schorzenia krtani, który nazywa się

- A. rorer.
- B. RAO.
- C. świstnica.
- D. rodokokoza.

Zadanie 32.

W czasie transportu ogranicza się koniom paszę

- A. objętościową soczystą.
- B. objętościową suchą.
- C. okopową.
- D. treściwą.

Zadanie 33.

Zgodnie z przepisami UE w sprawie przewozu koni zabrania się transportu klaczy źrebnych w okresie

- A. 2 ostatnich miesięcy ciąży oraz do 2 tygodni po porodzie.
- B. 3 ostatnich miesięcy ciąży oraz do 5 dni po porodzie.
- C. przekraczającym 60 % przewidywanego okresu ciąży oraz do 2 dni po porodzie.
- D. przekraczającym 90 % przewidywanego okresu ciąży oraz tydzień po porodzie.

Zadanie 34.

Przedstawiona na rysunku rasa koni najbardziej nadająca się do turystyki górskiej to

- A. konik polski.
- B. rasa małopolska.
- C. rasa huculska.
- D. czysta krew arabska.



Zadanie 35.

Prawidłowa temperatura ciała u zdrowego konia wynosi

- A. $35,5 \div 36,5^{\circ}\text{C}$
- B. $36,5 \div 37,5^{\circ}\text{C}$
- C. $37,5 \div 38,5^{\circ}\text{C}$
- D. $39,5 \div 40,5^{\circ}\text{C}$

Zadanie 36.

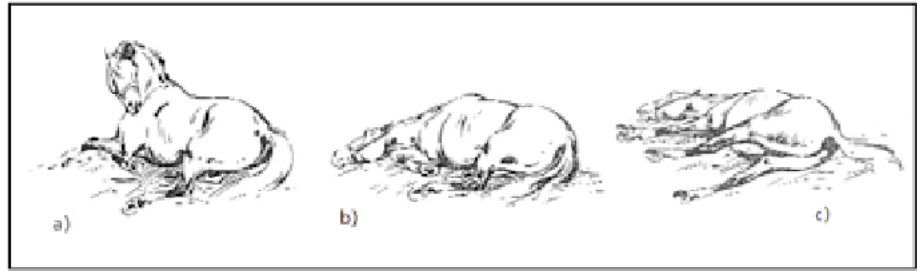
Uszkodzenie skóry i tkanki podskórnej grzbietu konia, zwykle tylnej części kłębu, spowodowane uciskiem siodła, to

- A. zapoprężenie.
- B. odsednienie.
- C. pipak.
- D. zatrat.

Zadanie 37.


Zachowanie konia przedstawione na rysunku świadczy o objawach

- A. mięśniochwatu.
- B. morzyska.
- C. ochwatu.
- D. podbicia.

**Zadanie 38.**


Przedstawiona na rysunku tabliczka umieszczona na szlaku konnym oznacza

- A. szlak konny numer 7.
- B. 7 kilometrów do postoju.
- C. szlak konny za 7 kilometrów.
- D. ograniczenie prędkości do 7 km/h.

**Zadanie 39.**

Przedstawiona na rysunku tabliczka umieszczona na szlaku konnym może oznaczać

- A. koniec szlaku konnego.
- B. początek szlaku konnego.
- C. skrzyżowanie z ruchliwą drogą.
- D. wspólny odcinek ze szlakiem rowerowym.

**Zadanie 40.**

Stajnia posiada 10 koni „pod siodło”. Konie pracują pod siodłem 6 dni w tygodniu po 2 godziny. Opłata za godzinę jazdy wynosi 40 zł. Oblicz jaki będzie maksymalny przychód stajni zjazd konnych w okresie pełnych 4 tygodni.

- A. 4 800 zł
- B. 10 600 zł
- C. 15 200 zł
- D. 19 200 zł