

**Arkusz zawiera informacje prawnie  
chronione do momentu rozpoczęcia egzaminu**

Układ graficzny © CKE 2016

**CKE** **CENTRALNA  
KOMISJA  
EGZAMINACYJNA**

Nazwa kwalifikacji: **Szkolenie i użytkowanie koni**

Oznaczenie kwalifikacji: **R.20**

Numer zadania: **01**

Wypełnia zdający

Miejsce na naklejkę z numerem  
PESEL i z kodem ośrodka

Numer PESEL zdającego\*

--	--	--	--	--	--	--	--	--	--	--	--	--	--	--	--	--	--	--	--

**R.20-01-16.08**

Czas trwania egzaminu: **180 minut**

**EGZAMIN POTWIERDZAJĄCY KWALIFIKACJE W ZAWODZIE  
Rok 2016  
CZEŚĆ PRAKTYCZNA**

**Instrukcja dla zdającego**

1. Na pierwszej stronie arkusza egzaminacyjnego wpisz w oznaczonym miejscu swój numer PESEL i naklej naklejkę z numerem PESEL i z kodem ośrodka.
2. Na KARCIE OCENY w oznaczonym miejscu przyklej naklejkę z numerem PESEL oraz wpisz:
  - swój numer PESEL\*,
  - oznaczenie kwalifikacji,
  - numer zadania,
  - numer stanowiska.
3. KARTĘ OCENY przekaż zespołowi nadzorującemu.
4. Sprawdź, czy arkusz egzaminacyjny zawiera 6 stron i nie zawiera błędów. Ewentualny brak stron lub inne usterki zgłoś przez podniesienie ręki przewodniczącemu zespołu nadzorującego.
5. Zapoznaj się z treścią zadania oraz stanowiskiem egzaminacyjnym. Masz na to 10 minut. Czas ten nie jest wliczany do czasu trwania egzaminu.
6. Czas rozpoczęcia i zakończenia pracy zapisze w widocznym miejscu przewodniczący zespołu nadzorującego.
7. Wykonaj samodzielnie zadanie egzaminacyjne. Przestrzegaj zasad bezpieczeństwa i organizacji pracy.
8. Jeżeli w zadaniu egzaminacyjnym występuje polecenie „zgłoś gotowość do oceny przez podniesienie ręki”, to zastosuj się do polecenia i poczekaj na decyzję przewodniczącego zespołu nadzorującego.
9. Po zakończeniu wykonania zadania pozostaw rezultaty oraz arkusz egzaminacyjny na swoim stanowisku lub w miejscu wskazanym przez przewodniczącego zespołu nadzorującego.
10. Po uzyskaniu zgody zespołu nadzorującego możesz opuścić salę/miejsce przeprowadzania egzaminu.

***Powodzenia!***

\* w przypadku braku numeru PESEL – seria i numer paszportu lub innego dokumentu potwierdzającego tożsamość

## Zadanie egzaminacyjne

Na podstawie Rysunku 1. i Rysunku 2. zidentyfikuj elementy siodła oraz podaj nazwy nachrapników, wypełniając Tabelę 1.

Na przedstawionych na Schemacie 1. czworobokach naszkicuj poszczególne figury ujeżdżeniowe z zaznaczeniem kierunku jazdy.

Wszystkie dokumenty do wypełnienia znajdują się w arkuszu egzaminacyjnym.

Na przygotowanym stanowisku egzaminacyjnym w stajni wyczyść, okiełznaj i osiodłaj wylosowanego konia. Zgłoś przewodniczącemu zespołu nadzorującego (ZN) gotowość do prezentacji sposobu okiełznania i osiodłania konia.

Przygotowanego do jazdy konia przeprowadź w rękę na rozprężalnię. Zgłoś przewodniczącemu zespołu nadzorującego gotowość wykonania prezentacji konia w trzech chodach.

Na rozprężalni, na komendę osoby nadzorującej, dosiądź konia. Masz 20 minut na rozprężenie konia i przygotowanie ćwiczeń.

Na czworoboku o wymiarach 20 m x 40 m masz 20 minut na zaprezentowanie następujących ćwiczeń:

- stęp na kontakcie na pierwszym śladzie,
- kłus anglezowany na pierwszym śladzie w prawo,
- zmiana kierunku jazdy w kłusie po przekątnej przez X,
- kłus anglezowany na pierwszym śladzie w lewo,
- koło 20 m w kłusie ćwiczebnym,
- zatrzymanie i nieruchomość przez 5 sekund,
- półsiad w kłusie pół koła w dowolnym kierunku,
- zagalopowanie z lewej nogi na pierwszym śladzie, ze stępa lub z kłusa,
- zagalopowanie z prawej nogi na pierwszym śladzie, ze stępa lub z kłusa,
- stęp na długiej wodzy.

Ćwiczenia możesz wykonywać w dowolnej kolejności, jednak pamiętaj, aby rozpocząć i zakończyć prezentację w stępie.

Po zakończeniu przejazdu na czworoboku wróć na rozprężalnię lub we wskazane przez przewodniczącego zespołu nadzorującego miejsce. Zsiądź, odprowadź i rozsiodłaj konia.

Wszystkie wyżej wymienione czynności powinny być wykonywane pod nadzorem i na polecenie osób nadzorujących przebieg egzaminu.

Przed przystąpieniem do wykonania zadania obowiązkowo zapoznaj się z „Instrukcją bezpiecznego zachowania podczas pracy z końmi w czasie trwania egzaminu”.

Podczas wykonywania zadań przestrzegaj przepisów bezpieczeństwa i higieny pracy.

**Czas przeznaczony na wykonanie zadania wynosi 180 minut.**

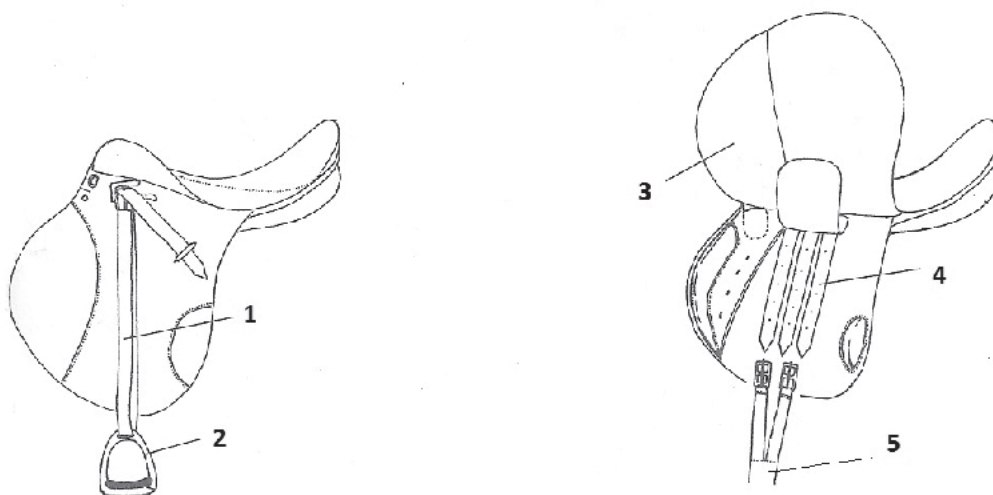
**Ocenię podlegać będą 4 rezultaty:**

- Elementy siodła i rodzaje nachrapników (Tabela 1.),
- Szkice figur ujeżdżeniowych na czoroboku 20 m x 40 m (Schemat 1.),
- koń wyczyszczony okiełznany i osiodłany przygotowany do jazdy wierzchem,
- prezentacja konia w trzech chodach

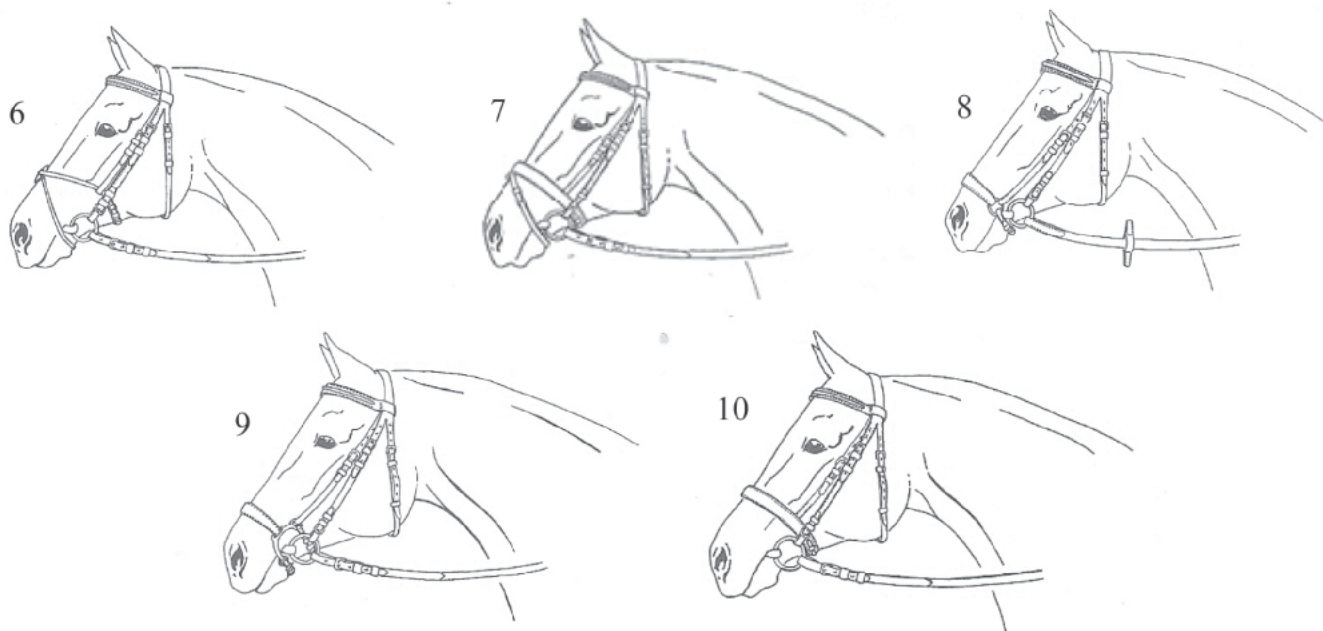
oraz

przebieg przygotowania konia do jazdy konnej i postępowania z koniem w czasie jazdy.

**Rysunek 1. Budowa siodła**



**Rysunek 2. Rodzaje nachrapników**

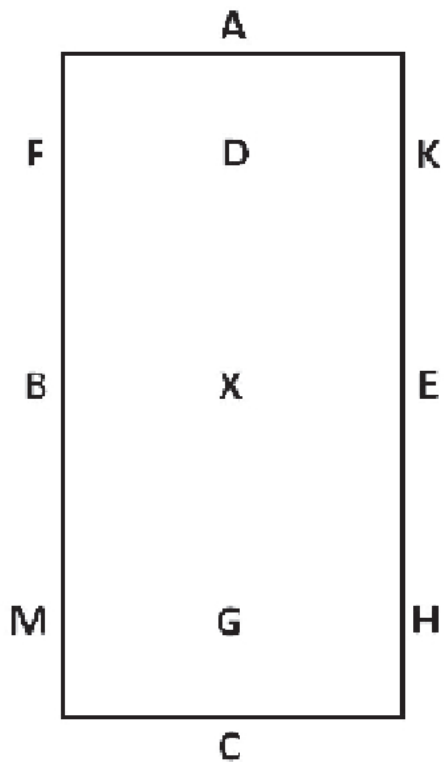
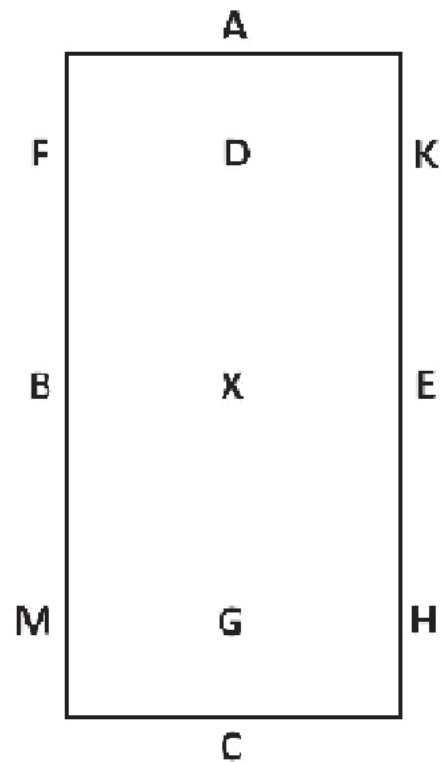
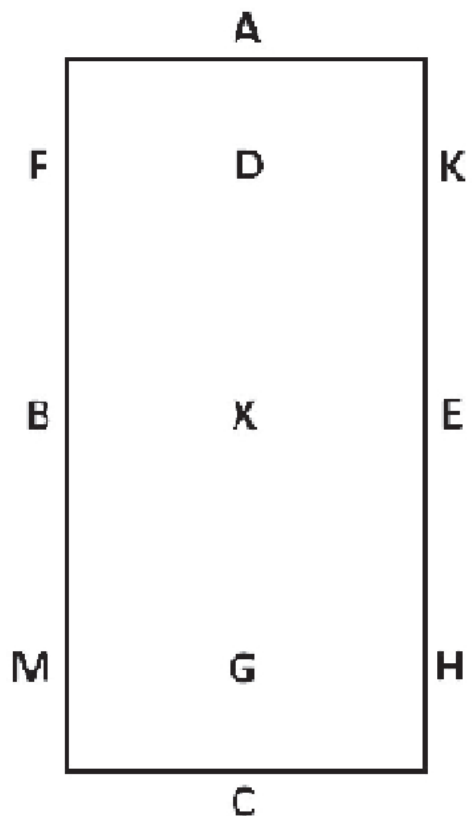


**Tabela 1. Elementy siodła i rodzaje nachrapników**  
*do wypełnienia według oznaczonych na rysunkach numerów*

Numer na rysunku	Nazwa elementu siodła
1.	
2.	
3.	
4.	
5.	
X	Nazwa nachrapnika
6.	
7.	
8.	
9.	
10.	

**Schemat 1. Szkice figur ujeżdżeniowych na czoroboku 20 m x 40 m**

Na zamieszczonych czworobokach naszkicuj poszczególne figury ujeżdżeniowe z zaznaczeniem kierunku jazdy. Rysuj linią przerywaną lub ciągłą.

**Szkic 1. Koło 20 m w prawo AXA****Szkic 2. X ruszyć stępem C w prawo MBF stępem****Szkic 3. Przekątna KXM****Szkic 4. E półwołty w lewo**