

Nazwa kwalifikacji: **Szkolenie i użytkowanie koni**
Oznaczenie kwalifikacji: **R.20**
Wersja arkusza: **X**

R.20-X-16.08

Czas trwania egzaminu: **60 minut**

EGZAMIN POTWIERDZAJĄCY KWALIFIKACJE W ZAWODZIE
Rok 2016
CZEŚĆ PISEMNA

Instrukcja dla zdającego

- Sprawdź, czy arkusz egzaminacyjny zawiera 10 stron. Ewentualny brak stron lub inne usterki zgłoś przewodniczącemu zespołu nadzorującego.
- Do arkusza dołączona jest KARTA ODPOWIEDZI, na której w oznaczonych miejscach:
 - wpisz oznaczenie kwalifikacji,
 - zamaluj kratkę z oznaczeniem wersji arkusza,
 - wpisz swój numer PESEL*,
 - wpisz swoją datę urodzenia,
 - przyklej naklejkę ze swoim numerem PESEL.
- Arkusze egzaminacyjny zawiera test składający się z 40 zadań.
- Za każde poprawnie rozwiązane zadanie możesz uzyskać 1 punkt.
- Aby zdać część pisemną egzaminu musisz uzyskać co najmniej 20 punktów.
- Czytaj uważnie wszystkie zadania.
- Rozwiązania zaznaczaj na KARCIE ODPOWIEDZI długopisem lub piórem z czarnym tuszem/atramentem.
- Do każdego zadania podane są cztery możliwe odpowiedzi: A, B, C, D. Odpowiada im następujący układ kratek w KARCIE ODPOWIEDZI:

| | | | |
|---|---|---|---|
| A | B | C | D |
|---|---|---|---|

- Tylko jedna odpowiedź jest poprawna.
- Wybierz właściwą odpowiedź i zamaluj kratkę z odpowiadającą jej literą – np., gdy wybrałeś odpowiedź „A”:

| | | | |
|-------------------------------------|---|---|---|
| <input checked="" type="checkbox"/> | B | C | D |
|-------------------------------------|---|---|---|

- Staraj się wyraźnie zaznaczać odpowiedzi. Jeżeli się pomylisz i błędnie zaznaczysz odpowiedź, otocz ją kółkiem i zaznacz odpowiedź, którą uważasz za poprawną, np.

| | | | |
|-------------------------------------|---|---|-------------------------------------|
| <input checked="" type="checkbox"/> | B | C | <input checked="" type="checkbox"/> |
|-------------------------------------|---|---|-------------------------------------|

- Po rozwiązaniu testu sprawdź, czy zaznaczyłeś wszystkie odpowiedzi na KARCIE ODPOWIEDZI i wprowadziłeś wszystkie dane, o których mowa w punkcie 2 tej instrukcji.

Pamiętaj, że oddajesz przewodniczącemu zespołu nadzorującego tylko KARTĘ ODPOWIEDZI.

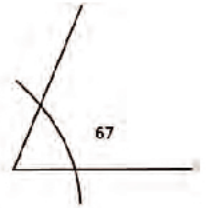
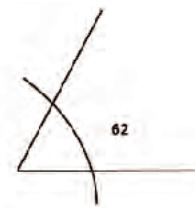
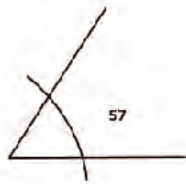
Powodzenia!

* w przypadku braku numeru PESEL – seria i numer paszportu lub innego dokumentu potwierdzającego tożsamość

Zadanie 1.

Skątowanie ściany przedniej kopyta nogi przedniej w stosunku do podłoża u koni ras półkrwi użytkowanych wierzchowo powinno wynosić

- A. 52° (50° - 55°)
- B. 57° (55° - 60°)
- C. 62° (60° - 65°)
- D. 67° (65° - 70°)

**Zadanie 2.**

Który profil szyi jest cechą rasową u koni czystej krwi arabskiej?

- A. Prosty.
- B. Jeleni.
- C. Koguci.
- D. Łabędzi.

Zadanie 3.

Miejsce zaznaczone strzałką na zdjęciu to

- A. palec Mahometa.
- B. wcięcie siekiery.
- C. pchnięcie lancą.
- D. jelenia szyja.

**Zadanie 4.**

Najlepsze na świecie rasy koni w konkurencji skoki przez przeszkody oznaczone są skrótami

- A. holst, bwp, zang.
- B. trak, ish, p.r.e.
- C. sp, m, wlkp.
- D. z, xx, oo.

Zadanie 5.

Która spośród wymienionych ras najlepiej sprawdza się w konkurencji jeździeckiej – sportowe rajdy konne?

- A. Huculska.
- B. Haflinger.
- C. Konik polski.
- D. Czysta krew arabska.

Zadanie 6.


W konkurencji skoki przez przeszkody określenie czas maksymalny oznacza

- A. czas, jaki mają zawodnicy na oglądanie parkuru pieszo przed konkursem.
- B. podwójną normę czasu tzn. czas, jaki zawodnik może przebywać na parkurze.
- C. czas oczekiwana na wjazd zawodnika na parkur po zjechaniu poprzedniej pary.
- D. czas, jaki ma zawodnik na przejechanie celowników początkowych po ukłonie i sygnale od sędziego.

Zadanie 7.

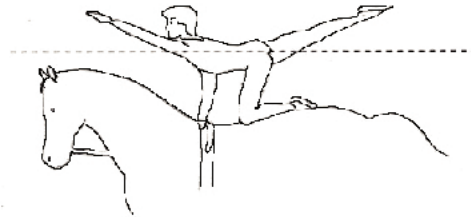
Przeszkoda przedstawiona na rysunku to

- A. okser.
- B. stacjonarna.
- C. triplebarre.
- D. doublebarre.

**Zadanie 8.**

Podaj nazwę figury przedstawionej na rysunku z programu obowiązkowego w konkurencji woltyżerka.

- A. Flaga.
- B. Flanka.
- C. Młynek.
- D. Nożyce.

**Zadanie 9.**

Która skala ocen jest stosowana w czasie czempionatów do oceny koni czystej krwi arabskiej?

- A. 100 punktowa (typ 20 pkt., głowa i szyja 20 pkt., kłoda 20 pkt., nogi 20 pkt. ruch 20 pkt.)
- B. 100 punktowa – ocena bonitacyjna (typ 15 pkt., głowa i szyja 5 pkt., kłoda 15 pkt., nogi przednie 10 pkt., nogi tylne pkt., kopyta 10 pkt., stęp 10 pkt., kłus 10 pkt., wrażenie ogólne 15 pkt.)
- C. 50 punktowa (typ 10 pkt., pokrój 10 pkt., stęp 10 pkt., kłus 10 pkt., wrażenie ogólne (w tym kondycja, pielęgnacja i ogólne przygotowanie konia do wystawy)10 pkt.)
- D. 40 punktowa (skoki luzem 10 pkt., stęp 10 pkt., kłus 10 pkt., galop 10 pkt.)

Zadanie 10.

Zawody w konkurencji ujeżdżenia rozgrywane są na czworoboku o wymiarach:

- A. 20 x 60 m
- B. 20 x 80 m
- C. 40 x 80 m
- D. 40 x 100 m

Zadanie 11.

Którego z przedstawionych na zdjęciach narzędzi **nie wolno używać** do usuwania zaklejek z sierści konia?



A.



B.



C.



D.

Zadanie 12.

Wskaż chorobę koni, przeciwko której szczepienie jest obowiązkowe dla koni sportowych dwa razy w roku.

- A. Żółty.
- B. Grypa.
- C. Wścieklizna.
- D. Rodokokoza.

Zadanie 13.

W których dwóch chodach odbywa się prezentacja koni ras półkrwi, w ruchu na trójkącie, na pokazach hodowlanych ?

- A. Stępie i kłusie.
- B. Kłusie i galopie.
- C. Stępie i galopie.
- D. Kłusie i piaffie.

Zadanie 14.

Uderzenie kopytem nogi przedniej lub tylnej o pęcinę sąsiedniej nogi w trakcie ruchu konia to

- A. ściąganie.
- B. gonienie.
- C. pęcಿನowanie.
- D. trychowanie.

Zadanie 15.

Schorzenie na przedniej nodze konia, zaznaczone strzałką na rysunku, to

- A. modzel.
- B. ostroga.
- C. kasztan.
- D. nakostniak.



Zadanie 16.

U konia, w stanie spoczynku liczba uderzeń serca na minutę wynosi

- A. 43-47
- B. 36-42
- C. 31-35
- D. 26-30

Zadanie 17.

Temperatura ciała u dorosłego konia wynosi

- A. 37,5-38,5°C
- B. 38,5-39,0°C
- C. 39,0-39,5°C
- D. 39,5-40,5°C

Zadanie 18.

Werkowanie kopyt przeprowadza się

- A. 2 razy do roku.
- B. co 3-4 tygodnie.
- C. co 6-8 tygodni.
- D. przed jazdą i po każdej jeździe.

Zadanie 19.

Wskaż wodze pomocnicze niezależne od ręki jeźdźca, dopuszczalne w trakcie przejazdu na parkurze, w konkurencji skoki przez przeszkody.

- A. Wytok.
- B. Chambon.
- C. Czarna wodza.
- D. Gogue ruchomy.

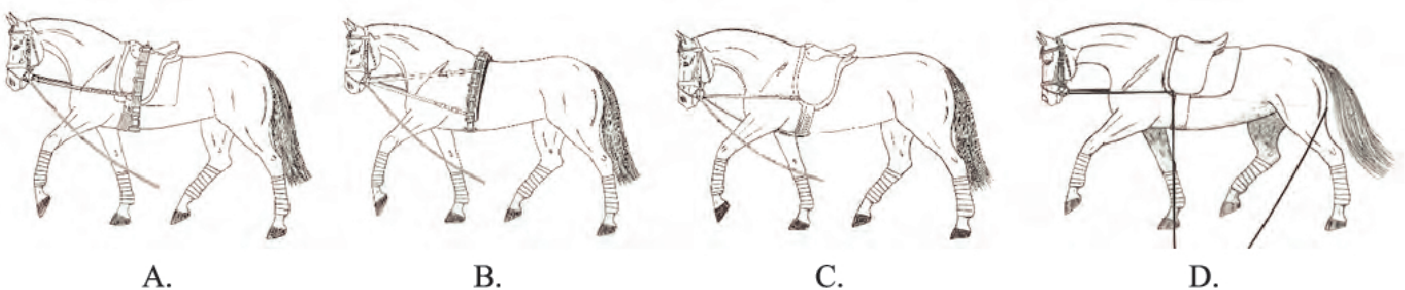
Zadanie 20.

Do naturalnych pomocy jeździeckich należą:

- A. bat, głos, ostrogi.
- B. dosiad, łydka, ręka.
- C. półparada, parada, wodza,
- D. strzemiona, wędzidło, siodło.

Zadanie 21.

Który rysunek przedstawia sposób wypięcia konia do lonżowania na pojedynczej lonży na wypinaczach zwykłych?



Zadanie 22.

Trzytaktowy chód konia to

- A. stęp.
- B. kłus.
- C. galop.
- D. cwał.

Zadanie 23.

Krótkie mocniejsze zamknięcie konia pomiędzy pomocami ciężaru, łydek i wodzy, po którym wodza działa ustępująco, wykonywane w celu np. zwiększenia uwagi konia przed nowym ćwiczeniem, nazywa się


- A. ustępowaniem.
- B. ustawieniem.
- C. półparadą.
- D. paradą.

Zadanie 24.

Który rysunek przedstawia dosiad widłowy?



A.



B.



C.



D.

Zadanie 25.

„Koń ustawiony i zgięty w kierunku ruchu w taki sposób, że przód pozostaje na śladzie, zad jest wprowadzony do wewnątrz i koń porusza się po czterech liniach.”

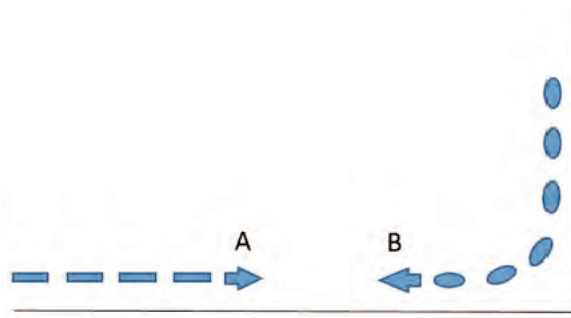
Wskaż ćwiczenie ujeżdżeniowe, którego dotyczy zamieszczony opis zilustrowany rysunkiem.

- A. Trawers.
- B. Renwers.
- C. Łopatka na zewnątrz.
- D. Łopatka do wewnątrz.



Zadanie 26.

W sytuacji przedstawionej na rysunku jeźdźcy A i B poruszają się kłusem po ujeżdżalni. Wskaż, który z jeźdźców ma pierwszeństwo i co powinien zrobić drugi jeździec.



- Pierwszeństwo ma jeździec A, jeździec B zjeżdża na drugi ślad do wewnątrz ujeżdżalni.
- Pierwszeństwo ma jeździec B, jeździec A zjeżdża na drugi ślad do wewnątrz ujeżdżalni.
- Pierwszeństwo ma jeździec B, ponieważ wyjeżdża z zakrętu, jeździec A powinien zrobić woltę na lewą rękę.
- Pierwszeństwo ma jeździec A, ponieważ jedzie po pierwszym śladzie na ścianie, jeździec B musi wykonać woltę o średnicy 8 metrów na lewą rękę.

Zadanie 27.

„Ruch przypominający kłus w miejscu, z tym, że koń mocniej ugina stawy zadu, i występuje krótka faza zawieszenia. Mięśnie grzbietu sprężynują elastycznie, a obniżony zad przejmuje mocniejsze obciążenie. Koń unosi przedramiona mniej więcej do poziomu i opuszcza je pionowo w dół.”

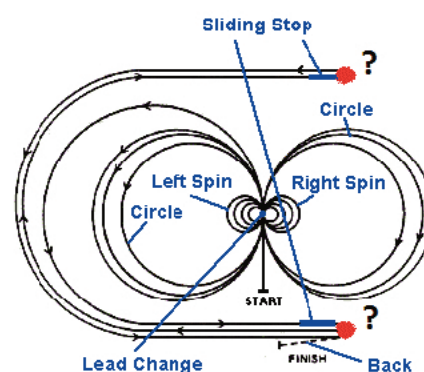
Nazwij opisany ruch i dobierz konkurencję jeździecką, w której jest on wykonywany.

- Sliding stop – reining.
- Pasaż – ujeżdżenie.
- Piaff – ujeżdżenie.
- Spin – reining.

Zadanie 28.

Rysunek przedstawia graficzny plan przejazdu w konkurencji reining. Brakujący ruch, wykonywany przez parę jeździec-koń w miejscu zaznaczonym na rysunku czerwoną kropką i znakiem (?) to

- backstroake.
- rollback.
- pattern.
- trot.



Zadanie 29.

Wskaż typ siodła przedstawiony na zdjęciu.

- A. Skokowe.
- B. Westernowe.
- C. Ujeżdżeniowe.
- D. Wszechstronne.

**Zadanie 30.**

Na podstawie zamieszczonych zdjęć rozpoznaj schorzenie kopyta i możliwą przyczynę jego powstania u koni sportowych i rekreacyjnych.

- A. Ochwat – np. przekarmienie paszą treściwą.
- B. Uraz trzeszczki kopytowej – przetrenowanie.
- C. Osteochondroza – chip w stawie kopytowym.
- D. Nagwożdżenie – koń nadepnął na ostry przedmiot.

**Zadanie 31.**

Zdjęcie przedstawia zaprzęg w stylu angielskim. Po których elementach wystroju można rozpoznać, że zaprzęgiem powozi właściciel zaprzęgu?



- A. Po obecności dwóch luzaków (groomów) na bryczce.
- B. Po żółtym kolorze dyszla, orczyków i kół.
- C. Po szarym cylindrze i metalowych naszelnikach.
- D. Po jednakowej - skarogniadej maści czwórki koni.

Zadanie 32.

W konkurencji ujeżdżenie, cylindra jako nakrycia głowy pozwala się używać zawodnikom

- A. 18-letnim i starszym, wiek konia nie ma znaczenia.
- B. juniorom, dosiadającym koni sześcioletnich i starszych.
- C. młodym jeźdźcom, dosiadającym koni siedmioletnich i starszych.
- D. 22-letnim i starszym, dosiadającym koni siedmioletnich i starszych.

Zadanie 33.

Obowiązkowym wyposażeniem każdego jeźdźcy podczas jazdy konnej na otwartym placu, hali treningowej i w czasie wyjazdów w teren jest

- A. telefon komórkowy.
- B. kask ochronny.
- C. zegarek.
- D. palcat.

Zadanie 34.

Trzecią pomocą używaną w czasie powożenia przez powożącego oprócz lejcy i bata jest

- A. balans bryczki.
- B. ciężar bryczki.
- C. dyszel.
- D. głos.

Zadanie 35.

Osoba podejmująca się zarobkowego transportu koni na terenie Polski powinna posiadać

- A. Srebrną Odznakę Jeździecką Polskiego Związku Jeździeckiego.
- B. dyplom potwierdzający kwalifikację R.20 Szkolenie i użytkowanie koni.
- C. uprawnienia konwojenta zwierząt wydane przez Powiatowego Lekarza Weterynarii.
- D. Odznakę Przodownika Jeździeckiej Nizinnej Turystyki Konnej Polskiego Towarzystwa Turystyczno-Krajoznawczego.

Zadanie 36.

Rasa koni najlepiej nadająca się do górskiej turystyki konnej dla średniozaawansowanych jeźdźców oznaczona jest skrótem

- A. hc.
- B. oo.
- C. śl.
- D. sp.

Zadanie 37.

Na podstawie zamieszczonego zdjęcia rozpoznaj płeć konia, do którego należała przedstawiona czaszka.

- A. Klacz.
- B. Wałach.
- C. Starszy ogier.
- D. Ogierek w wieku 3 lat.



Zadanie 38.

Którą zasadę stosuje się w czasie przejeżdżania zastępu konnego na drugą stronę jezdni w czasie rajdu konnego?

- A. Pierwszy przez jezdnię przejeżdża ostatni koń w zastępie.
- B. Zastęp przejeżdża „gęsiego” za prowadzącym.
- C. Zastęp przejeżdża jednocześnie.
- D. Konie przechodzą parami.

Zadanie 39.

Czerwona wstążka wpleciona w grzywę konia, który uczestniczy w rajdzie wyznaczonym szlakiem konnym, oznacza konia

- A. prowadzącego zastęp.
- B. zamykającego zastęp.
- C. na sprzedaż.
- D. gryzącego.

Zadanie 40.

Znak umieszczony na szlaku konnym oznacza

- A. nakaz poruszania się ze zwiększoną uwagą lub konieczność zejścia z konia ze względu na stromy odcinek szlaku lub zwały leśne itp.
- B. początek lub koniec wspólnego odcinka z innym szlakiem np. pieszym lub rowerowym.
- C. podstawowy znak przebiegu konnego szlaku pomarańczowego.
- D. znak informujący o stajni etapowej.



