

Nazwa kwalifikacji: **Szkolenie i użytkowanie koni**

Oznaczenie kwalifikacji: **R.20**

Wersja arkusza: **X**

*Arkusz zawiera informacje prawnie chronione
do momentu rozpoczęcia egzaminu*

R.20-X-14.08

Czas trwania egzaminu: **60 minut**

EGZAMIN POTWIERDZAJĄCY KWALIFIKACJE W ZAWODZIE

Rok 2014

CZĘŚĆ PISEMNA

Układ graficzny © CKE 2013

Instrukcja dla zdającego

1. Sprawdź, czy arkusz egzaminacyjny zawiera 9 stron. Ewentualny brak stron lub inne usterki zgłoś przewodniczącemu zespołu nadzorującego.
2. Do arkusza dołączona jest KARTA ODPOWIEDZI, na której w oznaczonych miejscach:
 - wpisz oznaczenie kwalifikacji,
 - zamaluj kratkę z oznaczeniem wersji arkusza,
 - wpisz swój numer *PESEL**,
 - wpisz swoją datę urodzenia,
 - przyklej naklejkę ze swoim numerem *PESEL*.
3. Arkusz egzaminacyjny zawiera test składający się z 40 zadań.
4. Za każde poprawnie rozwiązane zadanie możesz uzyskać **1 punkt**.
5. Aby zdać część pisemną egzaminu musisz uzyskać co najmniej **20 punktów**.
6. Czytaj uważnie wszystkie zadania.
7. Rozwiązania zaznaczaj na KARCIE ODPOWIEDZI długopisem lub piórem z czarnym tuszem/atramentem.
8. Do każdego zadania podane są cztery możliwe odpowiedzi: A, B, C, D. Odpowiada im następujący układ krerek w KARCIE ODPOWIEDZI:

A	B	C	D
---	---	---	---

9. Tylko jedna odpowiedź jest poprawna.
10. Wybierz właściwą odpowiedź i zamaluj kratkę z odpowiadającą jej literą – np., gdy wybrałeś odpowiedź „A”:

■	B	C	D
---	---	---	---

11. Staraj się wyraźnie zaznaczać odpowiedzi. Jeżeli się pomylisz i błędnie zaznaczysz odpowiedź, otocz ją kółkiem i zaznacz odpowiedź, którą uważasz za poprawną, np.

●	B	C	■
---	---	---	---

12. Po rozwiązaniu testu sprawdź, czy zaznaczyłeś wszystkie odpowiedzi na KARCIE ODPOWIEDZI i wprowadziłeś wszystkie dane, o których mowa w punkcie 2 tej instrukcji.

Pamiętaj, że oddajesz przewodniczącemu zespołu nadzorującego tylko KARTĘ ODPOWIEDZI.

Powodzenia!

* w przypadku braku numeru *PESEL* – seria i numer paszportu lub innego dokumentu potwierdzającego tożsamość

Zadanie 1.

Rasa koni użytkowanych wyścigowo to

- A. konie czystej krwi arabskiej.
- B. kuce szetlandzkie.
- C. konie palomino.
- D. konie fiordzkie.

Zadanie 2.

Do użytkowania zaprzęgowego najlepiej nadaje się rasa koni

- A. pełnej krwi angielskiej.
- B. czystej krwi arabskiej.
- C. małopolskich.
- D. śląskich.

Zadanie 3.

W klasie P konkursu skokowego eliminacja następuje po

- A. pierwszym nieposłuszeństwie.
- B. czwartym nieposłuszeństwie.
- C. trzecim nieposłuszeństwie.
- D. drugim nieposłuszeństwie.

Zadanie 4.

Faza przyzwyczajania konia według skali szkoleniowej (piramidy jeździeckiej) składa się

- A. z rozluźnienia, kontaktu, impulsu.
- B. z kontaktu, impulsu, prostowania.
- C. z impulsu, prostowania, zebrania.
- D. z taktu, rozluźnienia, kontaktu.

Zadanie 5.

Minimalny wiek konia biorącego udział w zawodach jeździeckich wynosi

- A. 4 lata.
- B. 5 lat.
- C. 6 lat.
- D. 7 lat.

Zadanie 6.

Przedstawioną na zdjęciu figurą reiningową jest

- A. sliding stop.
- B. roll back.
- C. cofanie.
- D. spin.



Zadanie 7.

Który wynik w procentach uzyska zawodnik startujący w CDI, gdy sędziowie przyznali C – 120 p, M – 100 p, E – 130 p na 200 p możliwych do uzyskania w każdej kategorii?

- A. 32,88%
- B. 41,66%
- C. 58,33%
- D. 61,22%

Zadanie 8.

Skrótem CAI według FEI określa się międzynarodowe zawody

- A. w ujeżdżeniu.
- B. w powożeniu.
- C. w wołyżerze.
- D. w reiningu.

Zadanie 9.

Kategoria wiekowa „młodzi jeźdźcy” to zawodnicy w wieku

- A. od 9 do 11 lat.
- B. od 12 do 15 lat.
- C. od 16 do 18 lat.
- D. od 19 do 21 lat.

Zadanie 10.

Czworobok olimpijski ma następujące wymiary wyrażone w metrach

- A. 10 x 20
- B. 20 x 40
- C. 20 x 60
- D. 40 x 60

Zadanie 11.

Wysokość przeszkód w zawodach skokowych klasy C wynosi

- A. 110 cm
- B. 120 cm
- C. 130 cm
- D. 140 cm

Zadanie 12.

Przedstawioną na zdjęciu przeszkodą jest

- A. stacjonarna.
- B. wachlarz.
- C. tripelbar.
- D. okser.



Zadanie 13.

Szereg jest to przeszkoda wieloczłonowa, w której odległość między jej członami wynosi nie więcej niż

- A. 1 fule.
- B. 2 fule.
- C. 3 fule.
- D. 4 fule.

Zadanie 14.

Zawody w ujeżdżeniu według PZJ określa się skrótem

- A. a
- B. b
- C. c
- D. d

Zadanie 15.

Po sprzedaży konia właściciel powinien przekazać paszport

- A. inspekcji weterynaryjnej.
- B. nabywcy konia.
- C. PZHK.
- D. PZJ.

Zadanie 16.

Jak nazywa się przedstawiona na zdjęciu podkova i jakie konie się nią podkuwa?

- A. Ślepa dla koni o płaskich kopytach.
- B. Zębцова dla koni zaprzęgowych.
- C. Hachelowa dla koni sportowych.
- D. Zwarta dla koni po ochwacie.

**Zadanie 17.**

Odsednienie powstaje w wyniku złego dopasowania

- A. siodła.
- B. chomała.
- C. podogonia.
- D. nachrapnika.

Zadanie 18.

Nagwożdżenie powstaje w przypadku

- A. przebicia podeszwy kopyta ostrym przedmiotem.
- B. przebicia gwoździem powłok brzusznych konia.
- C. złęgo wbicia podkowiaka przez podkuwacza.
- D. rozerwania siodła gwoździem.

Zadanie 19.

Rozrosty kostne na nadpęciu wielkości połówki orzecha spowodowane urazem mechanicznym lub nadmiarem wysiłku to

- A. nakostniaki.
- B. bukszyny.
- C. gruda.
- D. opój.

Zadanie 20.

Czas powrotu tętna po treningu do wartości spoczynkowej jest miarą

- A. dzielności konia.
- B. zdolności skokowej.
- C. wytrenowania konia.
- D. zdolności ujeżdżeniowej.

Zadanie 21.


Zdjęcie przedstawia ogłowie z nachrapnikiem

- A. polskim.
- B. irlandzkim.
- C. hanowerskim.
- D. meksykańskim.

**Zadanie 22.**

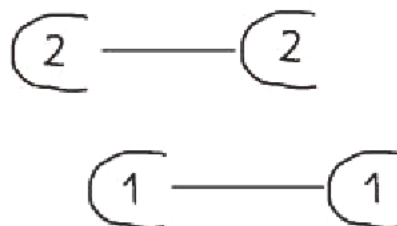
Przedstawiona na rysunku figura to

- A. serpentyna.
- B. półwolta.
- C. wolta.
- D. koło.

**Zadanie 23.**

Chód konia przedstawiony na schemacie to

- A. inochód.
- B. galop.
- C. kłus.
- D. stęp.



Zadanie 24.

Typem ogłowia przedstawionym na zdjęciu jest


- A. uździenica.
- B. kawecan.
- C. kantar.
- D. uzda.



Zadanie 25.

Przedstawioną na rysunku uprzężą jest

- A. szor.
- B. szleja.
- C. półszor lubelski.
- D. półszor poznański.



Zadanie 26.

Przedstawiony na rysunku typ wodzy pomocniczej przebiegający od popręgu do mostka łączącego kółka wędzidłowe nazywa się

- A. martwą wodzą.
- B. czarną wodzą.
- C. chambonem.
- D. gogue.



Zadanie 27.

Typ ogłowia przedstawiony na rysunku to

- A. bosal.
- B. munsztuk.
- C. hackamore.
- D. wędzidło pesoa .



Zadanie 28.

Zaznaczona na zdjęciu część munsztuka nosi nazwę

- A. czanki górne.
- B. czanki dolne.
- C. ścięgierz.
- D. jarzemko.



Zadanie 29.

Szkielet siodła konia nosi nazwę

- A. przystuła.
- B. puślisko.
- C. tybinka.
- D. terlica.

Zadanie 30.

Przedstawione na zdjęciu wodze pomocnicze noszą nazwę

- A. gouge.
- B. chambon.
- C. czarna wodza.
- D. martwy wytok.



Zadanie 31.

Prawidłowo dopasowany nachrapnik polski powinien leżeć

- A. 2 palce powyżej chrap.
- B. 4 palce powyżej chrap.
- C. 2 palce poniżej kości jarzmowej.
- D. 4 palce poniżej kości jarzmowej.

Zadanie 32.

Sztyblety to

- A. przypinane cholewy.
- B. krótkie buty.
- C. rękawiczki.
- D. kurtki.

Zadanie 33.

Bat ujeżdzeniowy powinien mieć długość

- A. 75 cm
- B. 90 cm
- C. 110 cm
- D. 130 cm

Zadanie 34.

Karosjery to

- A. powozy przypominające karety używane w XVIII w.
- B. elementy zdobnego rzędu zaprzęgowego.
- C. konie używane do ciągnięcia powozów.
- D. konie używane do polowań.

Zadanie 35.

Przedstawiony na zdjęciu powóz, w którym pasażerowie siedzą naprzeciwko siebie, nazywa się

- A. Lando.
- B. Viktoria.
- C. Vis a vis.
- D. Wagonet.



Zadanie 36.

Przedstawiony na zdjęciu zaprzęg jest nazywany

- A. random.
- B. tandem.
- C. szydło.
- D. trojka.



Zadanie 37.

Elementem hamującym w uprzęży szorowej jest

- A. nagrzbietnik.
- B. napiersznik.
- C. nakarczek.
- D. naszelnik.

Zadanie 38.

Podczas transportu koni wskazana jest przerwa co

- A. 4 godziny.
- B. 6 godzin.
- C. 8 godzin.
- D. 10 godzin.

Zadanie 39.

Zabrania się konnej jazdy wierzchem

- A. po drodze międzynarodowej.
- B. na koniach niepodkutych.
- C. osobom w wieku do lat 14.
- D. bez ochraniaczy.

Zadanie 40.

Podczas jazdy zastępu w terenie w kłusie należy zachować odstępy pomiędzy końmi wynoszące

- A. trzy długości konia.
- B. jedną długość konia.
- C. dwie długości konia.
- D. cztery długości konia.