

Nazwa kwalifikacji: **Organizowanie chowu i hodowli koni**

Oznaczenie kwalifikacji: **R.19**

Numer zadania: **01**

Wypełnia zdający

Miejsce na naklejkę z numerem
PESEL i z kodem ośrodka

Numer PESEL zdającego*

| | | | | | | | | | | | | | | | | | | | |
|--|--|--|--|--|--|--|--|--|--|--|--|--|--|--|--|--|--|--|--|
| | | | | | | | | | | | | | | | | | | | |
|--|--|--|--|--|--|--|--|--|--|--|--|--|--|--|--|--|--|--|--|

R.19-01-19.06

Czas trwania egzaminu: **180 minut**

EGZAMIN POTWIERDZAJĄCY KWALIFIKACJE W ZAWODZIE

Rok 2019

CZEŚĆ PRAKTYCZNA

Instrukcja dla zdającego

1. Na pierwszej stronie arkusza egzaminacyjnego wpisz w oznaczonym miejscu swój numer PESEL i naklej naklejkę z numerem PESEL i z kodem ośrodka.
2. Na **KARCIE OCENY** w oznaczonym miejscu przyklej naklejkę z numerem PESEL oraz wpisz:
 - swój numer PESEL*,
 - oznaczenie kwalifikacji,
 - numer zadania,
 - numer stanowiska.
3. Sprawdź, czy arkusz egzaminacyjny zawiera 14 stron i nie zawiera błędów. Ewentualny brak stron lub inne usterki zgłoś przez podniesienie ręki przewodniczącemu zespołu nadzorującego.
4. Zapoznaj się z treścią zadania oraz stanowiskiem egzaminacyjnym. Masz na to 10 minut. Czas ten nie jest wliczany do czasu trwania egzaminu.
5. Czas rozpoczęcia i zakończenia pracy zapisze w widocznym miejscu przewodniczący zespołu nadzorującego.
6. Wykonaj samodzielnie zadanie egzaminacyjne. Przestrzegaj zasad bezpieczeństwa i organizacji pracy.
7. Po zakończeniu wykonania zadania pozostaw arkusz egzaminacyjny z rezultatami oraz **KARTEŃ OCENY** na swoim stanowisku lub w miejscu wskazanym przez przewodniczącego zespołu nadzorującego.
8. Po uzyskaniu zgody zespołu nadzorującego możesz opuścić salę/miejsce przeprowadzania egzaminu.

Powodzenia!

* w przypadku braku numeru PESEL – seria i numer paszportu lub innego dokumentu potwierdzającego tożsamość

Zadanie egzaminacyjne

Korzystając z informacji przedstawionych w Tabeli 1. oraz Tabeli 2., oblicz dawkę pokarmową dla ogiera rasy śląskiej o wadze 700 kg startującego w konkurencji powożenia zaprzęgami jednokonnymi na poziomie zawodów międzynarodowych. Użyj wszystkich zaproponowanych pasz. Wyniki obliczeń zapisz w Tabeli 3.

Uwaga. Ilość białka ogólnego strawnego może być przekroczona o 10%.

Na podstawie zamieszczonego w arkuszu egzaminacyjnym zbioru wad budowy konia wybierz 5, uniemożliwiających jego wpis do ksiąg stadnych dla koni ras półkrwi sp, wlkp, m i śl. Nazwy wpisz do Tabeli 4. Następnie na Rysunku 1. zaznacz miejsca występowania wybranych wcześniej wad.

Korzystając z zamieszczonych w arkuszu egzaminacyjnym dokumentów: Karta ogiera Sonet i Świadectwo wpisu do księgi stadnej dla klaczy Klara, uzupełnij Tabelę 5.

Na podstawie danych z Karty ogiera i Świadectwa wpisu konia do księgi stadnej uzupełnij zamieszczone w arkuszu egzaminacyjnym Zgłoszenie koniowatego do rejestru dla gniadego ogierka Klarnet, po ogierze Sonet, od klaczy Klara, urodzonego 30 marca 2019 r. Miejsce stacjonowania Ogiera Sonet, klaczy Klara i ogierka Klarnet - u hodowcy.

Dane właściciela klaczy Klara:

Dawid Ślązak

PESEL 67030605158

ul. Karkonoska 123

59-420 Bolków

Powiat jaworski, województwo dolnośląskie.

Tel 345678901

Korzystając z Rysunków 2. i 3. zamieszczonych w arkuszu egzaminacyjnym, uzupełnij Tabelę 6. Skorzystaj z podanego zbioru wad budowy i ustawienia kończyn konia.

Korzystając z Rysunku 4. Przedstawiającego kopyta konia zamieszczonego w arkuszu egzaminacyjnym uzupełnij Tabelę 7.

Tabela 1. Dobowe zapotrzebowanie koni sportowych na energię strawną i białko ogólne strawne (DLG 2010)

| Masa ciała kg | Praca | | | | | |
|---------------|------------|----------|-----------|------------|----------|-----------|
| | lekka | | | ciężka | | |
| | sm % mc | ES MJ | bos g | sm % mc | ES MJ | bos g |
| 400 | 1,5-2,2 | 54-67 | 270-335 | 1,5-2,2 | 81-107 | 405-535 |
| 500 | 1,5-2,2 | 64-80 | 320-400 | 1,5-2,2 | 96-127 | 480-635 |
| 600 | 1,5-2,2 | 73-91 | 365-455 | 1,5-2,2 | 109-145 | 545-725 |
| 700 | 1,5 - 2,2 | 82 -102 | 410 - 510 | 1,5 - 2,2 | 123 -163 | 615 - 815 |

Sucha masa podana w % masy ciała konia

Tabela 2. Wartości pokarmowe pasz dla koni w 1 kg (IZPIP 2015)

| Pasza | Sucha masa g | Energia strawną MJ | Białko ogólne strawne g |
|---|-----------------|-----------------------|----------------------------|
| Owies | 895 | 12,1 | 80 |
| Mieszanka uzupełniająca dla koni sportowych | 880 | 14,1 | 99 |
| Marchew | 120 | 1,1 | 0,6 |
| Siano I pokos, w kwiecie | 890 | 7,7 | 52 |

Karta ogiera

616 008 67 00551 08 936 G WŁ

ogier **SONET (POL)**

RASA KONIA:
ślaska

transponder (y) : 982000167711527

Data ur. : **03.04.2008** O.

Nr bad. mark. genetycznych:
PL/P-26589

Maść zasadnicza:
gniada

| | | |
|---|--|---|
| 48/WŁ 61698000003286 DASTIN xx c. gn. 1998 | 23/WŁ PROFESSIONAL xx gn. 1988 | xx SADLER'S WELLS xx MISS ALLOWED xx VALIANT HEART xx DARIELLA |
|---|--|---|

M.

WYMIARY:

WPIS

wzrost **167** obwód **196** nadp. **22,5**

WERYFIKACJA

wzrost **167** obwód **192** nadp. **22,5**

| | | |
|---|---|--|
| 372 616008670012994 SORBONA śl. gn. 1994 | 363 BOJKOT śl. gn. 1984 | 5911 WRANGEL 3748 BANTANA 1426 EIDAM 6938 SZUMA |
|---|---|--|

OCENA W PUNKTACH:

| Wyszczególnienie | max | wpis | weryf. |
|------------------|------------|-----------|-----------|
| Typ | 15 | 13 | 14 |
| głowa i szyja | 5 | 4 | 4 |
| kłoda | 15 | 12 | 12 |
| nogi przednie | 10 | 6 | 6 |
| nogi tylne | 10 | 7 | 7 |
| kopyta | 10 | 7 | 7 |
| Chody | 20 | 16 | 16 |
| Ogólny wygląd | 15 | 13 | 14 |
| RAZEM | 100 | 78 | 80 |

HODOWCA:

SO Sieraków Włkp. Sp. z o.o. Stado Ksiaż
Wałbrzych, ul. Jeździecka 3
58-306 Wałbrzych

WŁAŚCICIEL:

OHZ w Kamieńcu Zabkowskim Sp.z o.o.
Kamieniec Zabkowski, pl. Kościelny 1
57-230 Kamieniec Zabkowski

UWAGI:

WPISU DOKONAŁ:
23 Październik 2010

ŚWIADECTWO
wpisania konia do części
głównej Księgi Stadnej
rasy śląskiej
Nr 111 G Wr

jest załącznikiem do paszportu konia z nr. identyfikacyjnym:

616008670123410

urodz. 12.03.2010 r.

klacz **KLARA**

maść (zasadnicza): gniada

Mark.gen.: PLB-111

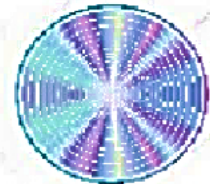
transponder: 616098765432100

Pochodzenie:

Ojciec: BAVENTO

Matka: KAWA

po LOCARNO



Wymiary:

przy wpisie - wzrost 163 obwód 200 nadp. 22,5

przy weryfik. - wzrost obwód nadp.

OCENA W PUNKTACH

| Wyszczególnienie | max | wpis | weryf. | podpis | UWAGI |
|------------------|---------------|------|--------|--------|-------|
| Typ | 15 | 13 | | | |
| Pokrój | głowa i szyja | 5 | 4 | | |
| | kłoda | 15 | 13 | | |
| | nogi prz. | 10 | 7 | | |
| | nogi tylne | 10 | 7 | | |
| | kopyta | 10 | 6 | | |
| Chody | 20 | 16 | | | |
| Ogólny wygląd | 15 | 14 | | | |
| Razem | 100 | 80 | | | |

Wrocław, 10.06.2015 r.

.....
 Podpis i pieczęć osoby uprawnionej

Czas przeznaczony na wykonanie zadania wynosi 180 minut.

Ocenić będą 6 rezultatów:

- dawka pokarmowa dla ogiera rasy śląskiej o wadze 700 kg startującego w konkurencji powożenia - Tabela 3.,
- zestawienie wad budowy konia, które uniemożliwiają wpis do ksiąg stadnych Ksp, Km, Kwłkp, Kśl - Tabela 4., Rysunek 1.,
- wypis danych z Karty ogiera i Świadectwa wpisu klaczy do księgi stadnej - Tabela 5.,
- zgłoszenie koniowatego do rejestru,
- wady budowy i ustawienia nogi przedniej i tylnej u koni – Tabela 6.,
- budowa kopyta konia – Tabela 7.

Tabela 3. Dawka pokarmowa dla ogiera rasy śląskiej o wadze 700 kg startującego w konkurencji powożenia

| Pasza | kg | Sucha masa g | Energia strawna MJ | Białko ogólne strawne g |
|--|----|-----------------|-----------------------|----------------------------|
| Owies | | | | |
| Mieszanka uzupełniająca dla koni sportowych | | | | |
| Marchew | | | | |
| Siano I pokos, w kwiecie | | | | |
| Suma | | | | |
| Zapotrzebowanie | | | | |

Zbiór wad budowy konia

- pipak,
- opoje,
- sarniak,
- zajęczak,
- łykawość,
- jelenia szyja,
- łabędzia szyja,
- niedźwiedzia łapa,
- obustronna ślepotą,
- karpiowaty lub szczupaczy zgryz,
- koziniec,
- bukszyny,
- nakostniaki,
- szpotawość,
- barania noga,
- dachowaty zad,
- nadpęcie z podkrojem,
- rozarty staw skokowy,
- porażenie krtani u ogierów,
- jedno- lub obustronne wnętrstwo,

Zestawienie wad budowy konia, które uniemożliwiają wpis do ksiąg stadnych Ksp, Km, Kwłkp, Kśl**Tabela 4. Wady budowy konia**

Z podanego w arkuszu egzaminacyjnym zbioru wad budowy konia wybierz 5 uniemożliwiających wpis do ksiąg stadnych dla koni ras półkrwi sp, włkp, m i śl i wpisz do tabeli

| Lp. | Do ksiąg <u>nie mogą</u> być wpisane konie, u których stwierdzono wady budowy: |
|-----|--|
| 1. | |
| 2. | |
| 3. | |
| 4. | |
| 5. | |
| 6. | szpat |
| 7. | 3-ci stopień osteochondrozy |
| 8. | oraz konie, które uzyskały mniej niż połowę maksymalnej liczby punktów przy ocenie kłody, nóg przednich, tylnych, kopyt lub ruchu. O dyskwalifikacji decyduje przyznanie mniej niż połowy punktów nawet za jeden z w/w elementów |

Rysunek 1. Wady budowy konia

Zaznacz na przedstawionym rysunku konia miejsca występowania wybranych wad uniemożliwiających wpis do ksiąg stadnych Ksp, Km, Kwłkp i Kśl wpisując nr 1 – 5 z Tabeli. 4.

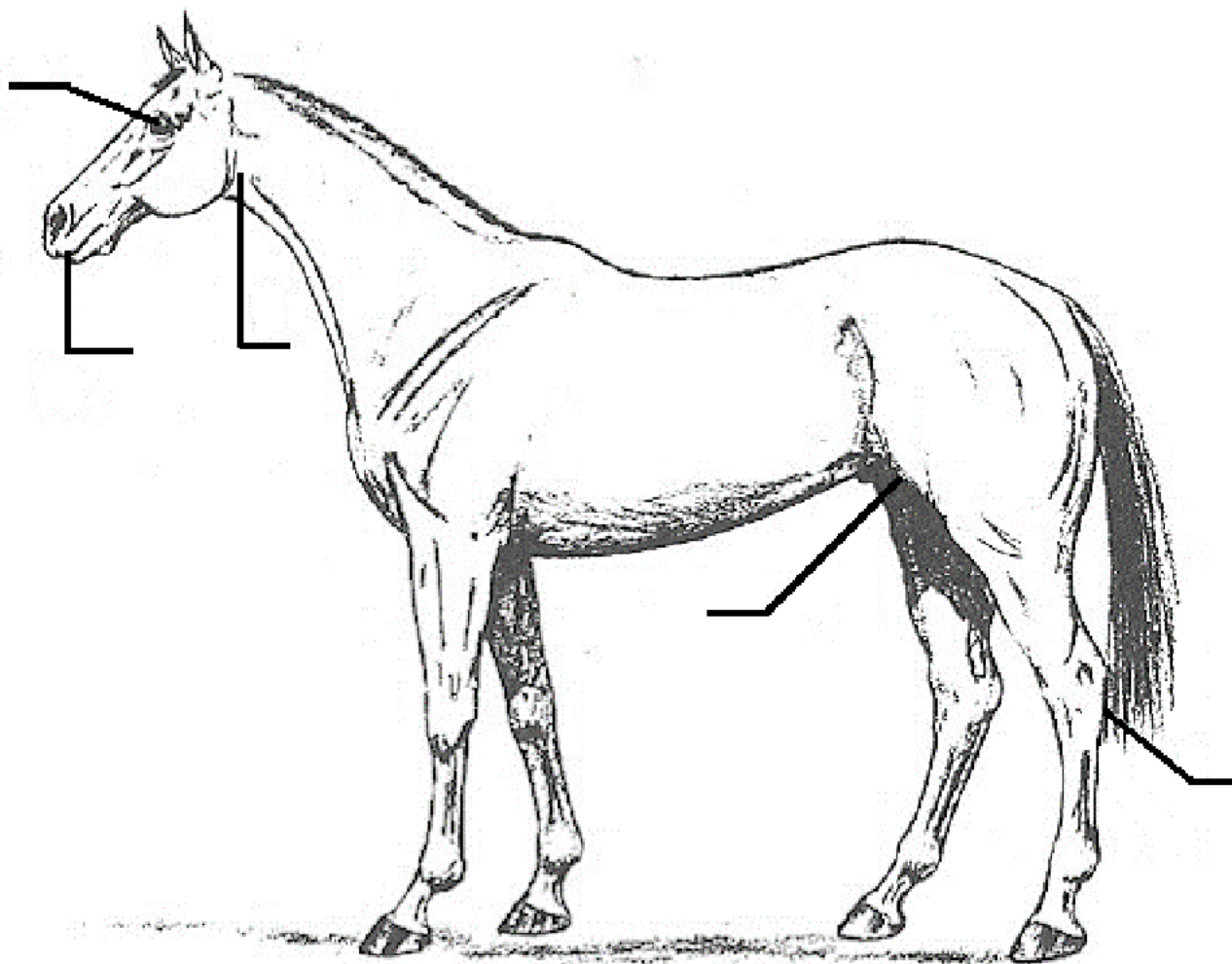
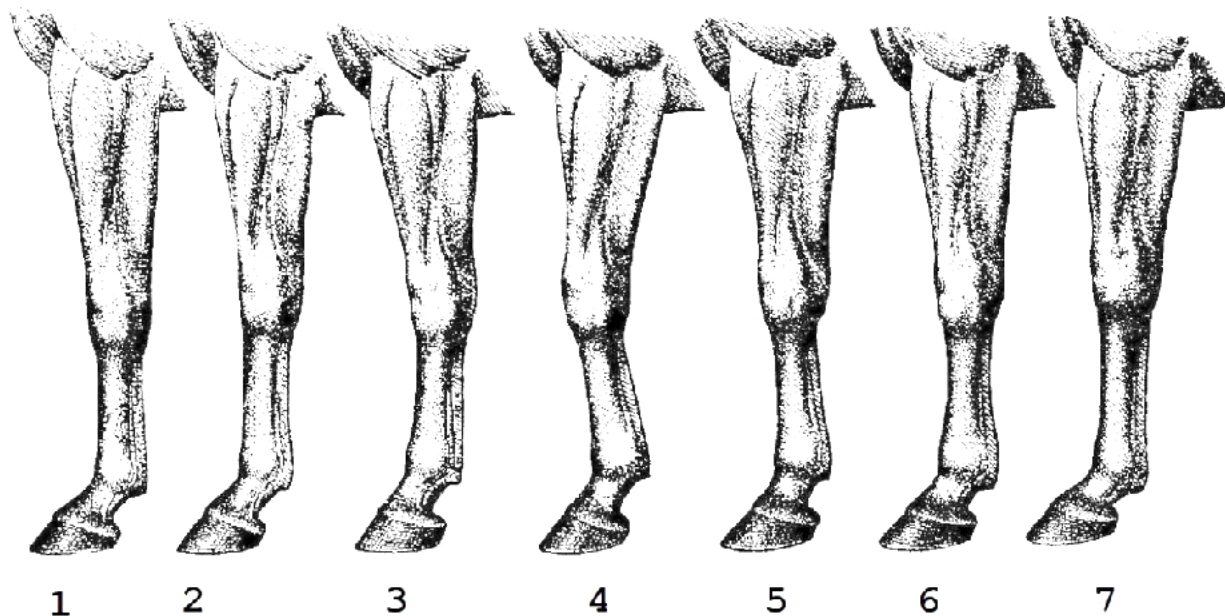
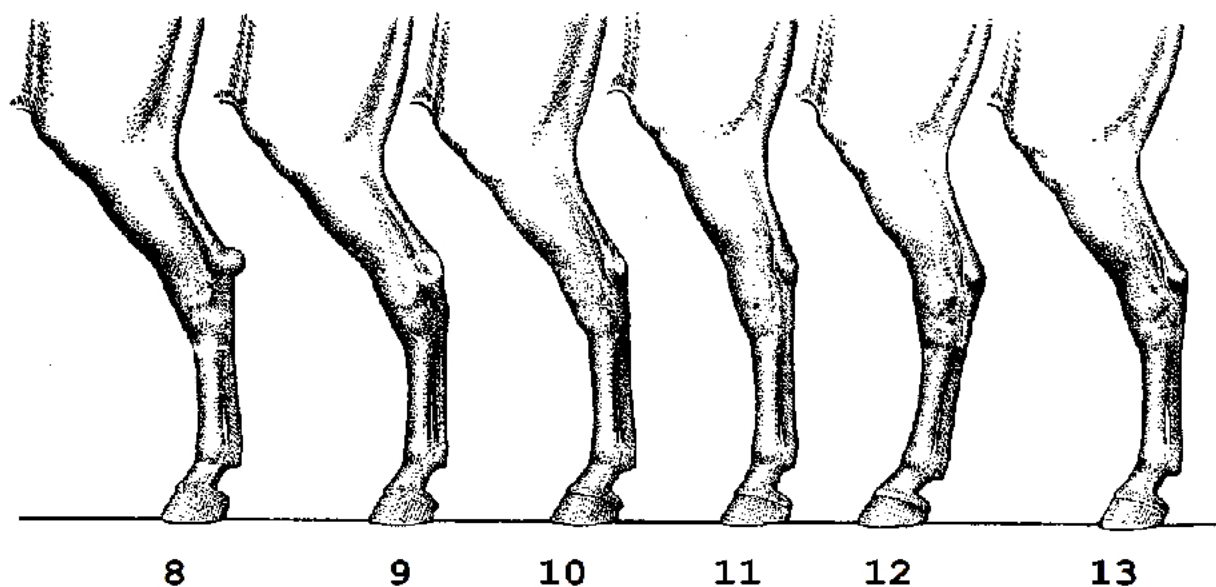


Tabela 5. Wypis danych z Karty ogiera i Świadcstwa wpisu klaczy do księgi stadnej

| Lp. | Dane z Karty ogiera i Świadcstwa wpisu konia do księgi stadnej | Ogier Sonet | Klacz Klara |
|-----|---|-------------|-------------|
| 1. | Maść konia | gniada | |
| 2. | Obwód nadpęcia przy wpisie | | |
| 3. | Nazwa ojca | | |
| 4. | Pełna nazwa rasy ojca | | |
| 5. | Ocena bonitacyjna konia przy wpisie | | |
| 6. | Nazwa instytucji prowadzącej księgę stadną dla koni rasy śląskiej Kśl | | |



Rysunek 2. Wady budowy i ustawienia nogi przedniej u koni



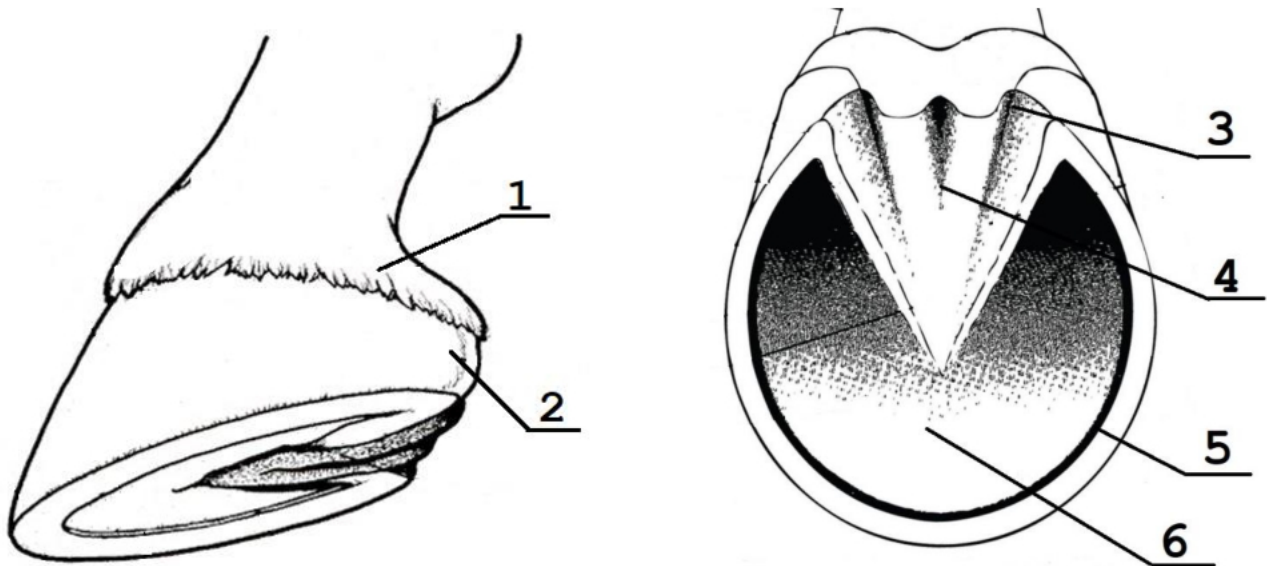
Rysunek 3. Wady budowy i ustawienia nogi tylnej u koni

Zbiór wad budowy i ustawienia nogi przedniej i tylnej u koni

- rozwarty staw skokowy, postawa prosta,
- zeszlifowany nadgarstek,
- nadpęcie z podkrojem,
- za długie nadpęcie,
- barania noga,
- prawidłowa,
- francuska,
- szablasta,
- nadpęcie butelkowate,
- prawidłowa,
- beczkowata,
- szpotawa,
- iksowata,
- zajęczak,
- koziniec,
- krowia,
- pipak

Tabela 6. Wady budowy i ustawienia kończyny przedniej i tylnej u konia (uzupełnij tabelę)

| Lp. | Noga przednia | Lp. | Noga tylna |
|-----|-------------------------|-----|--|
| 1. | prawidłowa | 8. | |
| 2. | zeszlifowany nadgarstek | 9. | |
| 3. | | 10. | słaby staw skokowy, nadpęcie zesnurowane |
| 4. | | 11. | |
| 5. | nadpęcie z podkrojem | 12. | szablasta |
| 6. | nadpęcie butelkowate | 13. | |
| 7. | za długie nadpęcie | | |

Rysunek 4. Budowa kopyta konia**Tabela 7. Budowa kopyta konia**

(nazwij części kopyta konia zaznaczone na rysunku i wpisz je do tabeli w odpowiedniej kolejności)

| Lp. | Nazwy elementów budowy kopyta |
|-----|-------------------------------|
| 1. | |
| 2. | |
| 3. | |
| 4. | |
| 5. | |
| 6. | |