

**WPISUJE ZDAJĄCY**

KOD

--	--	--

IMIĘ I NAZWISKO \*

\* nieobowiązkowe

**PRÓBNY EGZAMIN MATURALNY  
Z NOWĄ ERĄ  
MATEMATYKA – POZIOM ROZSZERZONY**

 dysleksja**Instrukcja dla zdającego**

1. Sprawdź, czy arkusz egzaminacyjny zawiera **22** strony (zadania **1-16**). Ewentualny brak stron zgłoś nauczycielowi nadzorującemu egzamin.
2. Rozwiązania zadań i odpowiedzi zapisz w miejscu na to przeznaczonym.
3. Pamiętaj, że pominięcie argumentacji lub istotnych obliczeń w rozwiązaniu zadań otwartych może spowodować, że za to rozwiązanie nie otrzymasz pełnej liczby punktów.
4. Pisz czytelnie. Używaj długopisu/pióra tylko z czarnym tuszem/atramentem.
5. Nie używaj korektora, a błędne zapisy wyraźnie przekreśl.
6. Pamiętaj, że zapisy w brudnopisie nie będą oceniane.
7. Podczas egzaminu możesz korzystać z zestawu wzorów matematycznych, cyrkla i linijki oraz kalkulatora prostego.
8. Na tej stronie wpisz swój kod oraz imię i nazwisko.
9. Nie wpisuj żadnych znaków w części przeznaczonej dla osoby sprawdzającej.

**STYCZEŃ 2016****Czas pracy:  
180 minut****Liczba punktów  
do uzyskania: 50**

W zadaniach 1–5 wybierz i zaznacz poprawną odpowiedź.

**Zadanie 1. (0–1)**

Suma wszystkich rozwiązań równania  $||x - 4| - 2| = 3$  jest równa

- A. 8                      B. 9                      C. 12                      D. 16

**Zadanie 2. (0–1)**

Ciąg  $(a_n)$  jest zdefiniowany rekurencyjnie: 
$$\begin{cases} a_1 = 4 \\ a_{n+1} = \frac{2a_n}{\sqrt{2}} \text{ dla } n \geq 1 \end{cases}$$

Wskaż wzór ogólny ciągu  $(b_n)$ , w którym  $b_n = a_n + a_{n+2}$  dla  $n \geq 1$ .

A.  $b_n = (\sqrt{2})^{n+3}$

B.  $b_n = 2^{n+4}$

C.  $b_n = 3 \cdot 2^{\frac{n+3}{2}}$

D.  $b_n = 4 \cdot (\sqrt{2})^{2n}$

**Zadanie 3. (0–1)**

Jedyny pierwiastek rzeczywisty wielomianu  $w(x) = 2x^3 + (c - 5)x^2 + cx - 5$  o współczynnikach całkowitych jest liczbą pierwszą. Zatem parametr  $c$  jest równy

- A. 19                      B. 4                      C. -1                      D. -4

**Zadanie 4. (0–1)**

Liczby  $x, y, z$  są dodatnie i różne od 1 oraz  $\log_x \sqrt{y} = \frac{1}{3}$  i  $\log_y \sqrt[3]{z} = \frac{1}{4}$ . Wskaż wartość wyrażenia  $\log_z \sqrt[4]{x}$ .


- A. 18                      B. 1                      C.  $\frac{1}{2}$                       D.  $\frac{1}{5}$

**Zadanie 5. (0–1)**

Ile różnych funkcji można utworzyć na zbiorze  $X = \{-2, -1, 3, 4\}$  o wartościach ze zbioru  $Y = \{5, 6, 7, 8, 9, 10\}$ ?

- A. 2880                      B. 1296                      C. 360                      D. 24

**BRUDNOPIS**



<b>Wypełnia sprawdzający</b>	<b>Nr zadania</b>	<b>1</b>	<b>2</b>	<b>3</b>	<b>4</b>	<b>5</b>
	<b>Maks. liczba pkt</b>	<b>1</b>	<b>1</b>	<b>1</b>	<b>1</b>	<b>1</b>
	<b>Uzyskana liczba pkt</b>					







**Zadanie 8. (0–3)**

W trójkącie prostokątnym  $ABC$ , w którym bok  $AB$  jest przeciwprostokątną, na boku  $BC$  obrano punkt  $D$  taki, że  $|\sphericalangle DAB| = 2|\sphericalangle CAD|$ . Długość odcinka  $BD$  jest równa  $a$ , a kąt  $CAD$  ma miarę  $\alpha$ .

Wykaż, że  $|AD| = \frac{a(1 - 4 \sin^2 \alpha)}{2 \sin \alpha}$ .






<b>Wypełnia sprawdzający</b>	<b>Nr zadania</b>	<b>8</b>
	<b>Maks. liczba pkt</b>	<b>3</b>
	<b>Uzyskana liczba pkt</b>	

**Zadanie 9. (0–3)**


Wykaż, że wielomian  $f(x) = 3x^{10} - 5x^6 + 3$  nie ma pierwiastków rzeczywistych.





**Zadanie 10. (0–4)**

Rozwiąż równanie  $\sin x \cos 3x + \operatorname{tg} x \cos^2 x = 0$ .





Odpowiedź: .....

<b>Wypełnia sprawdzający</b>	<b>Nr zadania</b>	<b>9</b>	<b>10</b>
	<b>Maks. liczba pkt</b>	<b>3</b>	<b>4</b>
	<b>Uzyskana liczba pkt</b>		

**Zadanie 11. (0–4)**

Funkcja  $f$  określona jest wzorem  $f(x) = \frac{x+3}{1-x}$  dla każdej liczby rzeczywistej  $x \neq 1$ . Wyznacz równania tych stycznych do wykresu funkcji  $f$ , które tworzą z osią  $Ox$  kąt  $45^\circ$ .







Odpowiedź: .....

<b>Wypełnia sprawdzający</b>	<b>Nr zadania</b>	<b>11</b>
	<b>Maks. liczba pkt</b>	<b>4</b>
	<b>Uzyskana liczba pkt</b>	

**Zadanie 12. (0–4)**

Doświadczenie losowe polega na tym, że losujemy jednocześnie dwie liczby ze zbioru  $\{1, 2, 3, \dots, n\}$ , gdzie  $n \geq 2$ . Wyznacz te wartości  $n$ , dla których prawdopodobieństwo wylosowania dwóch liczb różniących się od siebie co najmniej o trzy jest równe  $\frac{7}{12}$ .







Odpowiedź: .....

<b>Wypełnia sprawdzający</b>	<b>Nr zadania</b>	<b>12</b>
	<b>Maks. liczba pkt</b>	<b>4</b>
	<b>Uzyskana liczba pkt</b>	

**Zadanie 13. (0–5)**

W trapez równoramienny  $ABCD$ , w którym  $AB \parallel CD$ , wpisano okrąg o środku  $S$ . Odległość punktu  $S$  od końców dłuższej podstawy  $AB$  jest równa 10, a cosinus kąta ostrego tego trapezu jest równy  $\frac{3}{5}$ . Oblicz pole tego trapezu.






Odpowiedź: .....


<b>Wypełnia sprawdzający</b>	<b>Nr zadania</b>	<b>13</b>
	<b>Maks. liczba pkt</b>	<b>5</b>
	<b>Uzyskana liczba pkt</b>	

**Zadanie 14. (0–5)**

Odcinek  $A'B'$  jest obrazem odcinka o końcach  $A = (2, 6)$  oraz  $B = (-4, 4)$  w jednokładności o środku  $O = (0, 3)$  i skali  $k \neq 0$ . Punkt  $A'$ , który jest obrazem punktu  $A$  w tej jednokładności, leży na prostej o równaniu  $x + 2y + 10 = 0$ . Wyznacz równanie okręgu, którego średnicą jest odcinek  $A'B'$ .









Odpowiedź: .....

<b>Wypełnia sprawdzający</b>	<b>Nr zadania</b>	<b>14</b>
	<b>Maks. liczba pkt</b>	<b>5</b>
	<b>Uzyskana liczba pkt</b>	

**Zadanie 15. (0–6)**

Prosta o równaniu  $y = (a - 3)x + a + 4$  przecina parabolę o równaniu  $y = \frac{1}{2}x^2 - 2ax + a + 8$  w dwóch punktach o pierwszych współrzędnych  $x_1, x_2$ . Wyznacz wszystkie wartości parametru  $a$ , dla których współrzędne  $x_1, x_2$  spełniają nierówność  $x_1^3 + x_2^3 \leq 9x_1x_2$ .






Odpowiedź: .....

<b>Wypełnia sprawdzający</b>	<b>Nr zadania</b>	<b>15</b>
	<b>Maks. liczba pkt</b>	<b>6</b>
	<b>Uzyskana liczba pkt</b>	





Odpowiedź: .....

<b>Wypełnia sprawdzający</b>	<b>Nr zadania</b>	<b>16</b>
	<b>Maks. liczba pkt</b>	<b>7</b>
	<b>Uzyskana liczba pkt</b>	

---

## BRUDNOPIS

