

Miejsce na identyfikację szkoły

ARKUSZ PRÓBNEJ MATURY Z OPERONEM HISTORIA

POZIOM PODSTAWOWY

Czas pracy 120 minut

LISTOPAD
ROK 2009

Instrukcja dla zdającego

1. Sprawdź, czy arkusz egzaminacyjny zawiera 19 stron (zadania 1–27). Ewentualny brak zgłoś przewodniczącemu zespołu nadzorującego egzamin.
2. Rozwiązania zadań zamieść w miejscu na to przeznaczonym.
3. Pisz czytelnie. Używaj długopisu/pióra tylko z czarnym tuszem/atramentem.
4. Nie używaj korektora, a błędne zapisy wyraźnie przekreśl.
5. Pamiętaj, że zapisy w brudnopisie nie podlegają ocenie.

Życzymy powodzenia!

Za rozwiązanie
wszystkich zadań
można otrzymać
łącznie **100 punktów**.

Wpisuje zdający przed rozpoczęciem pracy

--	--	--	--	--	--	--	--	--	--	--	--	--	--	--	--	--	--	--	--

PESEL ZDAJĄCEGO

--	--	--

**KOD
ZDAJĄCEGO**



Arkusz opracowany przez Wydawnictwo Pedagogiczne OPERON.

Kopiowanie w całości lub we fragmentach bez zgody wydawcy zabronione. Wydawca zezwala na kopiowanie zadań przez dyrektorów szkół biorących udział w programie Próbną Maturą z OPERONEM.

Zadanie 1. (3 pkt)

Przedstawionym poniżej wizerunkom bóstw świata starożytnego przyporządkuj wymienione kręgi kulturowe. Wpisz odpowiednie nazwy pod ilustracjami.

Indie, Chiny, Mezopotamia, Egipt, Izrael, Grecja, Rzym



a) b) c)

Zadanie 2. (3 pkt)

Na podstawie tekstu źródłowego wykonaj polecenia.

[...] *Przy ustanowieniu władzy Likurg postąpił w ten sposób, że zasięgnął z Delf wyroczni [...]. Brzmi ona zaś następująco: „wznieść sanktuarium Zeusowi [...] i Atenie [...], ustanowić geruzję złożoną z 30 mężów łącznie z królami, co miesiąc [...] odbywać zgromadzenie ludowe, przedkładać mu wnioski i poddawać je pod głosowanie, decyzja ma zaś należeć do ludu”. Na zgromadzeniu ludu nie pozwolił nikomu spośród niego występować z własnym wnioskiem, lecz lud miał prawo decydować tylko o wniosku przedstawionym przez gerontów i królów.*

Cyt. za: S. Sprawski, G. Chomicki, *Starożytność. Teksty źródłowe, komentarze i zagadnienia do historii w szkole średniej*,
 Kraków 1999.

a) Wyjaśnij, kto miał prawo zgłaszania wniosków na opisanym w tekście zgromadzeniu ludowym Sparty.

.....

b) Podaj liczbę członków geruzji po odliczeniu królów.

.....

c) Posiłkując się wiedzą pozazródłową, wyjaśnij, czym była wyrocznia w Delfach.

.....

.....

.....

Zadanie 3. (3 pkt)

Przeanalizuj tekst i wykonaj polecenia.

[...] wywodzi się z pieśni ofiarnej, a sam wyraz należy rozumieć nie jako pieśń kozłów [gr. *tragos* – kozioł, *ode* – pieśń], lecz jako pieśń nad kozłem. Ofierze składanej [bogu] w postaci kozła towarzyszył popis śpiewaka i chóru. A obrzęd stał się teatrem chyba dopiero wtedy, gdy pojawili się zawodowi aktorzy, drugi obok widzów ważny element teatru.

W. Lengauer, *Teatr starożytnych Greków: poeta, obrzęd, widowisko*, [w:] *Wielki Teatr Świata. Wykłady otwarte na scenie przy Wierzbowej*, Warszawa 2003.

a) Podkreśl jedno poprawne stwierdzenie.

- Nazwa „tragedia” wywodzi się od greckiego boga Tragedosa.
- Podczas uroczystości religijnych Grecy składali bogom ofiary ze zwierząt.
- Teatr wiał swój początek od rzymskich procesji sakralnych.

b) Wymień dwa główne elementy uważane przez autora tekstu za nieodzowne dla istnienia teatru.

.....

Zadanie 4. (2 pkt)

Przeanalizuj tekst źródłowy, a następnie, posiłkując się wiedzą pozaźródłową, wykonaj polecenia.

[...] wśród wszystkich dzieł polityki Peryklesa przedmiotem największej zawiści było to, co Atenom przysporzyło najwięcej pięknego wyglądu i ozdoby: wzniesione w tym mieście wspaniałe budowle publiczne [...]. One to wywołały ataki na Peryklesa ze strony jego przeciwników oczerniających go na zgromadzeniach ludowych i krzyczących, że lud ateński [...] okrył hańbą już przez to, że skarbiec, będący wspólną własnością Hellenów, zabrał z wyspy Delos do siebie: „A tę wymówkę, którą się dotychczas najlepiej zastaniał przed zarzutami i skargami ze strony innych, mówiąc, że zabrał tę kasę stamtąd z obawy przed Persami i strzeże jej w bezpiecznym miejscu [...] – krzyczeli – przekreślił teraz Perykles”.

Cyt. za: S. Sprawski, G. Chomicki, *Starożytność. Teksty źródłowe, komentarze i zagadnienia do historii w szkole średniej*, Kraków 1999.

a) Wyjaśnij krótko, kim był wspomniany w tekście Perykles.

.....

.....

.....

b) Przedstaw wspomniane w tekście zasługi Peryklesa dla Aten.

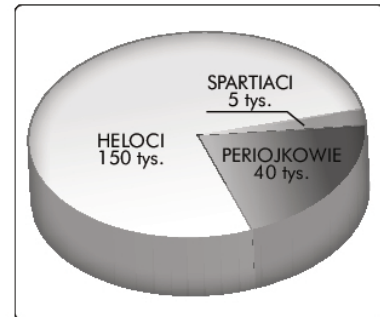
.....

.....

.....

Zadanie 5. (6 pkt)

Przeanalizuj diagram statystyczny ukazujący podział społeczeństwa Sparty w V w. p.n.e., a następnie, posiłkując się wiedzą pozaźródłową, wykonaj polecenia.



a) Oblicz i zapisz procentowy udział wszystkich grup społecznych Sparty w V w. p.n.e.

.....

b) Wyjaśnij, kim byli heloci.

.....

c) Opisz wpływ przedstawionego na diagramie podziału na życie społeczne Sparty.

.....

Zadanie 6. (5 pkt)

Rozpoznaj prawdziwe i fałszywe stwierdzenia dotyczące kultury antycznej. Przy każdym z nich wpisz odpowiednio „prawda” lub „fałsz”.

a)	Konfucjanizm odrzucał tradycyjne chińskie wzory zachowania i nawoływał do buntu przeciwko władzy monarchów.	
b)	Buddyzm wywodzi się z Chin.	
c)	Kolumna w stylu doryckim zwieńczona jest kapitelem przypominającym kształt baranich rogów.	
d)	Filipikami nazwano mowy Demostenesa skierowane przeciwko Filipowi II Macedońskiemu.	
e)	Cesarzem-filozofem nazywano Marka Aureliusza.	

Historia. Poziom podstawowy
Próbna Matura z OPERONEM i „Gazetą Wyborczą”

Zadanie 7. (2 pkt)

Uporządkuj chronologicznie wydarzenia z dziejów starożytnego Rzymu. Przy najwcześniejszym z nich wpisz literę A, zaś przy najpóźniejszym literę B. Pozostałych wydarzeń nie oznaczaj.

a)	Pierwszy triumwirat	
b)	Bitwa pod Akcjum	
c)	Śmierć Nerona	
d)	Wprowadzenie w Rzymie systemu tetrarchii	
e)	Powstanie Spartakusa	

Zadanie 8. (2 pkt)

Spośród wymienionych wydarzeń podkreśl te dwa, które nie wiążą się z panowaniem Mieszka I.

- a) Powstanie arcybiskupstwa gnieźnieńskiego
- b) Bitwa pod Cedynią
- c) Pokój w Budziszynie
- d) Powstanie dokumentu *Dagome iudex*

Zadanie 9. (5 pkt)

Uzupełnij tabelę, wpisując władców Polski, za panowania których miały miejsce wymienione wydarzenia.

a)	Pierwsza koronacja królewska polskiego władcy	
b)	Stłumienie buntu Mieclawa	
c)	Bitwa pod Płowcami	
d)	Wybuch wojny trzynastoletniej	
e)	Uchwalenie konstytucji <i>Nihil novi</i>	

Zadanie 10. (3 pkt)

Wyjaśnij zamieszczone niżej terminy historyczne.

- a) prawo składu

.....

.....

.....

.....

Historia. Poziom podstawowy
Próbna Matura z OPERONEM i „Gazetą Wyborczą”

b) manufaktura

.....

.....

.....

.....

c) żupa solna


.....

.....

Zadanie 11. (4 pkt)

Na fotografiach przedstawiono okna charakterystyczne dla różnych stylów architektonicznych. Przeanalizuj ilustracje, a następnie pod każdym ze zdjęć wpisz nazwę stylu wybraną z poniższej listy.

styl joński, styl koryncki, styl romański, styl gotycki, styl renesansowy, styl barokowy, styl klasycystyczny, styl secesyjny



a) b) c) d)

.....

Zadanie 12. (4 pkt)

Przeanalizuj tekst źródłowy, a następnie, posiłkując się wiedzą pozaźródłową, wykonaj polecenia.

My, Władysław z Bożej łaski król Polski, ziem krakowskiej, sandomierskiej, sieradzkiej, łęczyckiej, kujawskiej, tudzież Litwy książę zwierzchni i panujący [...].

[...] Pozwalamy również wszystkim zatrzymać i posiadać dostojęstwa tako duchowne, jako i świeckie, na mocy tych samych praw, zwyczajów i przywilejów, jakie im służyły za najjaśniejszych czasów poprzedników naszych, Kazimierza, Ludwika i innych królów i książąt, dziedziców królestwa polskiego. Takowych zaś dostojęstw i urzędów, ilekroć wyjdą z posiadania, będziemy udzielać tylko szlachcicowi zasłużonemu i dobrej używającemu sławy, z jakiegokolwiek ziemi królestwa polskiego by pochodził. [...]

Historia. Poziom podstawowy
Próbna Matura z OPERONEM i „Gazetą Wyborczą”

Nareszcie przyrzekamy najuroczyściej, że żadnego obywatela osiadłego za popełnioną winę lub przestępstwo nie będziemy więzili dłużej niż sześć niedziel, aż do zebrania sądu przez nas lub starostę naszego wyznaczonego. A wtedy, jeśli sądowo i dowodnie niewinności swej dowiedzie, uwolnionym zostanie. [...] Nikomu też dóbr ani dzierżaw zabierać nie będziemy [...].

Cyt. za: www.konotop.zgora.pl/teksty/PJ.pdf

a) Napisz, który władca wystawił zacytowany przywilej.

.....

b) Podaj rok i miejsce wydania przywileju.

.....

c) Przedstaw własnymi słowami ustępstwa króla w kwestiach sądownictwa.

.....

Zadanie 13. (4 pkt)

Porównaj załączone ryciny i określ, która z przedstawionych świątyń jest bazyliką, a która kościołem halowym. Właściwe nazwy wpisz pod ilustracjami. Swoją opinię uzasadnij, wskazując cechy charakterystyczne obu typów budowli.



a) Typ budowli: b) Typ budowli:

Uzasadnienie klasyfikacji:

.....

Zadanie 14. (4 pkt)

Przeanalizuj fragment memoriału Jeana Colberta, a następnie wykonaj polecenia.

[...] *Jak sądzę, bez trudu zgodzimy się na zasadę, że różnice co do wielkości i potęgi poszczególnych państw wynikają z różnej ilości znajdującego się w ich granicach pieniądza. Wychodząc z tego założenia, należy stwierdzić, że corocznie wywozi się z granic naszego królestwa produktów wyrobianych z naszego surowca a przeznaczonych na zbytnie na obczyźnie wartości 12–18 milionów liwrów. Oto są szanse naszego królestwa, nad ustrzeżeniem których trzeba nam wyęźać wszystkie siły. Holendrzy i inni cudzoziemcy prowadzą przeciw nim ustawiczną wojnę i jak dotąd z takim sukcesem, że zamiast by suma ta dostawała się do naszego państwa w gotówce i w następstwie powodowała ogromne bogactwo, przynoszą nam ją w różnych towarach [...]. Przemysłowość ich a nasza nieroztropność doszła tak daleko, że przy pomocy faktorów swych i komisarzy, których mają prawo osadzać po wszystkich portach królestwa, opanowali cały handel morski i wyznaczają ceny na wszystkie towary, które kupują i sprzedają. Łatwo stąd wywnioskować, że o ile zdołamy znieść zyski Holendrów, ciągnięte z poddanych naszego króla, i udaremnić zbytnie towarów, które nam przywożą, o tyle pomnożymy ilość gotówki, którą powinniśmy ściągnąć w granice królestwa dzięki wywozowi naszych produktów [...].*

Te same następstwa będziemy mogli wyciągnąć co do towarów składowych, tj. tych, które moglibyśmy sprowadzać z Indyj wschodnich i zachodnich, by wywozić je następnie na Północ, a stamtąd przywozić same materiały, niezbędne do budowy okrętów: oto inne źródło wielkości i potęgi państwa. [...]

Cyt. za: J. Feldman, *Teksty źródłowe do nauki historii w szkole średniej*, z. 38, Kraków 1924.

a) Podaj nazwę polityki ekonomicznej opisanej w memoriale.

.....

b) Wymień dwa główne założenia tej polityki.

.....

c) Oceń wpływ prowadzonej przez Colberta polityki ekonomicznej na stan gospodarki francuskiej u schyłku jego rządów. Swoją ocenę uzasadnij.

.....

Zadanie 15. (4 pkt)

Przeanalizuj poniższe mapy i przyporządkuj im właściwe tytuły z listy podanej niżej, wpisując je w wy kropkowania.

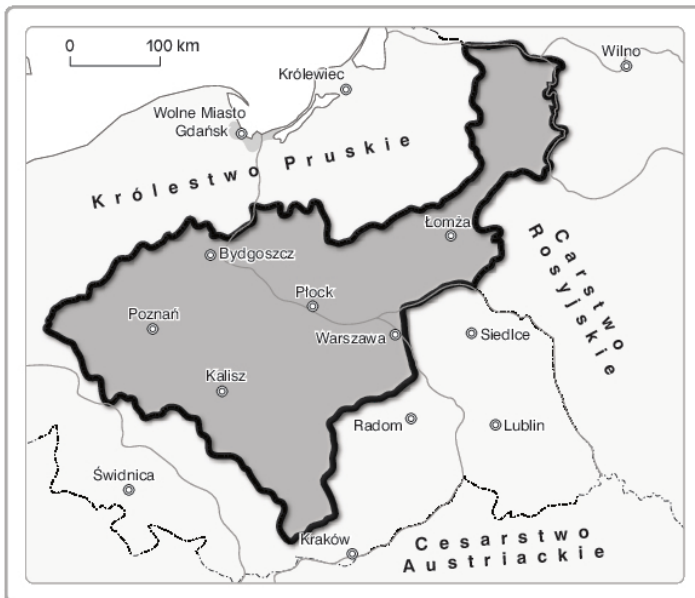
- Rzeczpospolita po I rozbiórce w 1772 r.
- Rzeczpospolita po II rozbiórce w 1793 r.
- Księstwo Warszawskie w 1807 r.
- Królestwo Polskie w 1815 r.

Więcej arkuszy znajdziesz na stronie: arkusze.pl



a)

.....

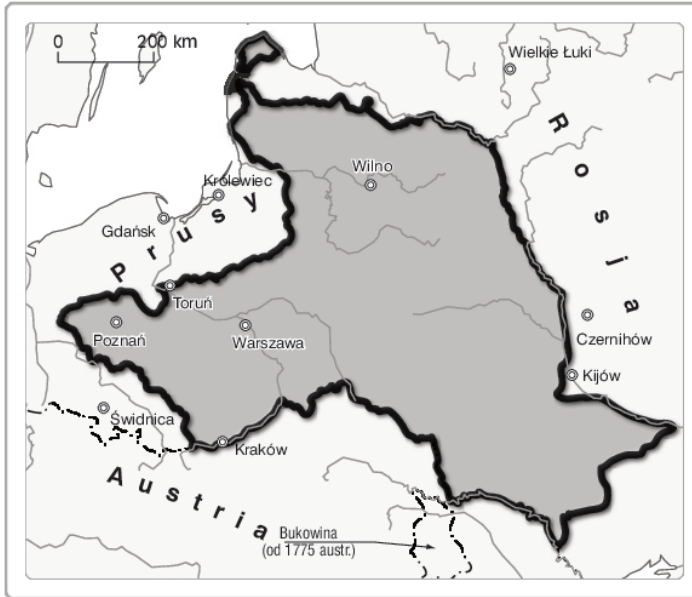


b)

.....

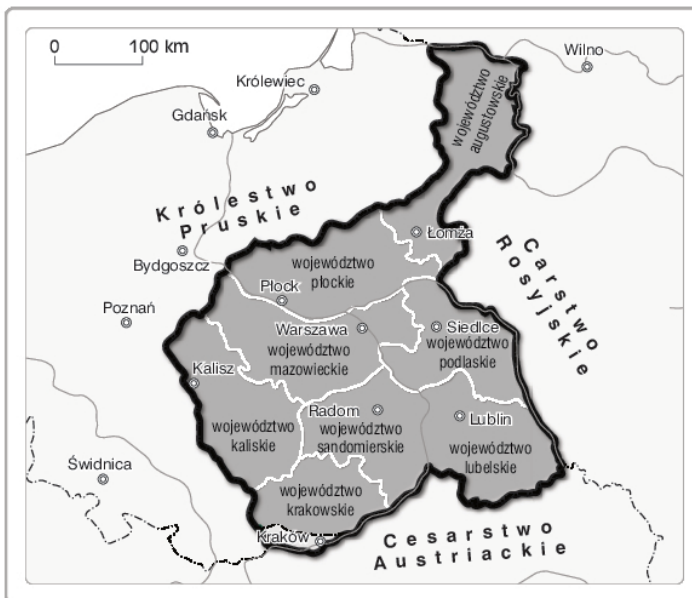
Historia. Poziom podstawowy
Próbna Matura z OPERONEM i „Gazetą Wyborczą”

Więcej arkuszy znajdziesz na stronie: arkusze.pl



c)

.....



d)

.....

Zadanie 16. (5 pkt)

Wypełnij tabelę dotyczącą ekspansji kolonialnej Europejczyków, dopasowując nazwy posiadłości kolonialnych podane pod tabelą do nazw państw, które je zagarnęły.

Kraj	Posiadłości kolonialne na przełomie XVI i XVII w.
Francja	
Anglia	

Historia. Poziom podstawowy
Próbna Matura z OPERONEM i „Gazetą Wyborczą”

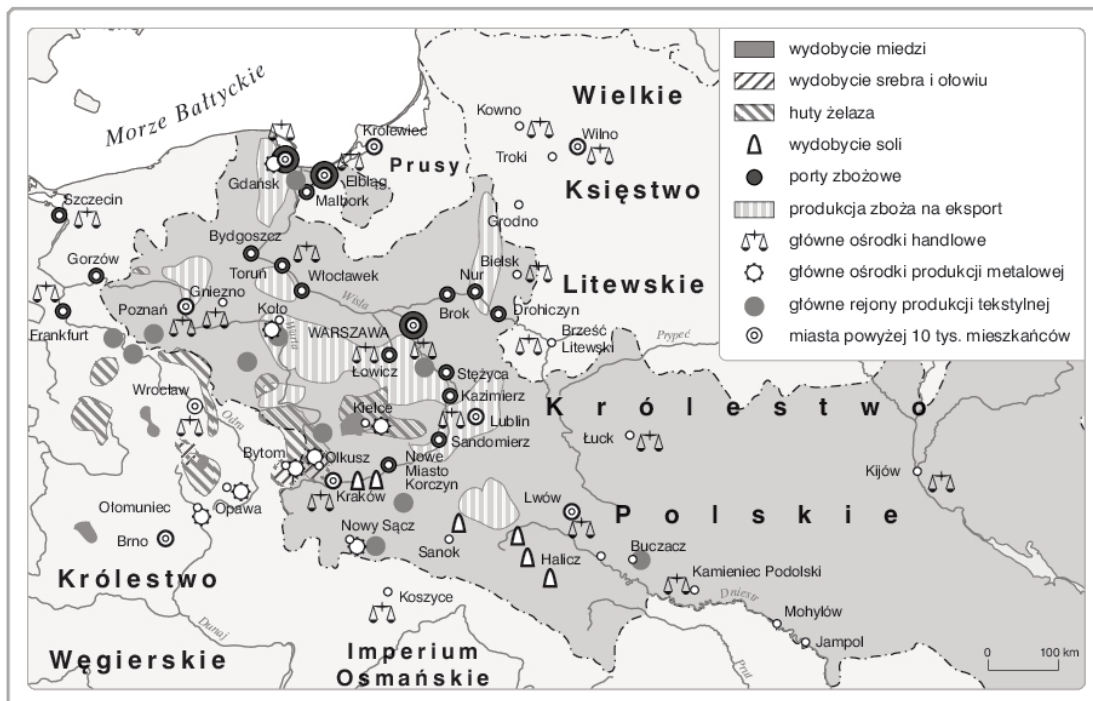
Hiszpania	
Portugalia	
Holandia	

Peru, Meksyk, Brazylia, Kraj Przylądkowy, Nowa Fundlandia, wyspa Manhattan, wyspy Moluki, Jawa, Floryda, Surinam, Gwinea, Wirginia, Cejlon

Zadanie 17. (6 pkt)

Przeanalizuj mapę oraz tabelę statystyczną, a następnie, posiłkując się wiedzą pozarządową, wykonaj polecenia.

Więcej arkuszy znajdziesz na stronie: arkusze.pl



Eksport zboża przez port gdański

Rok	1530	1560	1580	1620	1640	1660	1680	1700
Wielkość eksportu zboża (w tysiącach łasztów)	14	16	60	100	79	30	44	23

a) Wypisz pięć głównych kopalnych bogactw naturalnych eksploatowanych we wczesnonowożytnej Polsce.

.....

Zadanie 19. (4 pkt)

Zidentyfikuj przedstawione dzieła sztuki, pod każdym z nich wpisz właściwego autora i tytuł. Do- bierz je z listy podanej niżej.


Twórcy: Jan Matejko, Peter Rubens, Rembrandt van Rijn, Gustave Courbet, Pablo Picasso, Édouard Manet, Hieronim Bosch, Paul Gauguin, Józef Chełmoński, Lucas Cranach, Jacek Malczewski, Adolph Menzel, Auguste Rodin

Dzieła: *Doktor Żywago*, *Pejzaż orientalny*, *Lekcja anatomii doktora Tulpa*, *Sól ziemi czarnej*, *Za- truta studnia*, *Pochód na Wawel*, *Tahitanki*, *Impresja*, *Poranek na Kubie*, *Kamieniarze*, *Tancerka*, *Babie lato*



a) Autor:
tytuł:
.....

b) Autor:
tytuł:
.....



c) Autor:
tytuł:
.....

d) Autor:
tytuł:
.....

Więcej arkuszy znajdziesz na stronie: arkusze.pl

Zadanie 20. (4 pkt)

Do wymienionych w tabeli definicji dopisz właściwe pojęcia.

	Definicja	Pojęcie
a)	Wyprawy zbrojne, dokonywane od końca XV i w XVI w. w celu opanowania pewnego terytorium. Pojęcie stosowane głównie do określenia podbojów w Ameryce Południowej i Środkowej.	
b)	Niewielki żaglowiec o mocnej budowie i gładkim poszyciu, mający dwa lub trzy maszty o ożaglowaniu łacińskim. Żaglowce tego typu odegrały dużą rolę w pierwszej fazie epoki wielkich odkryć geograficznych.	
c)	Osady handlowe zakładane w początkowym okresie ekspansji kolonialnej przez kupców europejskich w krajach kolonialnych. Zakładali je głównie Portugalczycy, Holendrzy i Anglicy, m.in. w Afryce, Indiach i Chinach.	
d)	Osady misyjne zakładane od początku XVII w. przez jezuitów dla Indian w hiszpańskich posiadłościach w Ameryce Południowej, m.in. na terenie obecnego Paragwaju.	

Zadanie 21. (5 pkt)

Przeanalizuj dane statystyczne dotyczące rozwoju demograficznego ludności Stanów Zjednoczonych, a następnie, posiłkując się wiedzą pozaźródłową, wykonaj polecenia.

Zmiany demograficzne w Stanach Zjednoczonych

Rok	Biali (w milionach)	Czarni (w milionach)	Indianie (w milionach)
1790	3,5	0,7	0,7
1830	10,5	2,3	0,5
1860	26,9	4,4	0,3
1900	67	8,8	0,2

Źródło: H. Heumann, *Geschichte für morgen. Die Grundlagen unserer Gesellschaft*, Frankfurt am Main 1983, s. 51.

a) Napisz, która z grup ludnościowych od końca XVIII do początku XX w. stale się zmniejszała. Wyjaśnij, jakie były tego przyczyny.

.....

.....

.....

.....

Historia. Poziom podstawowy
Próbna Matura z OPERONEM i „Gazetą Wyborczą”

b) Oszacuj i napisz, która grupa ludnościowa zanotowała największy procentowo wzrost w latach 1790–1830. Wyjaśnij, co było przyczyną tego stanu.

.....

.....

.....

.....

c) Wyjaśnij, co spowodowało, że po roku 1860 grupa wymieniona w poleceniu b) nie notowała już tak intensywnego przyrostu.

.....

.....

.....

Zadanie 22. (2 pkt)

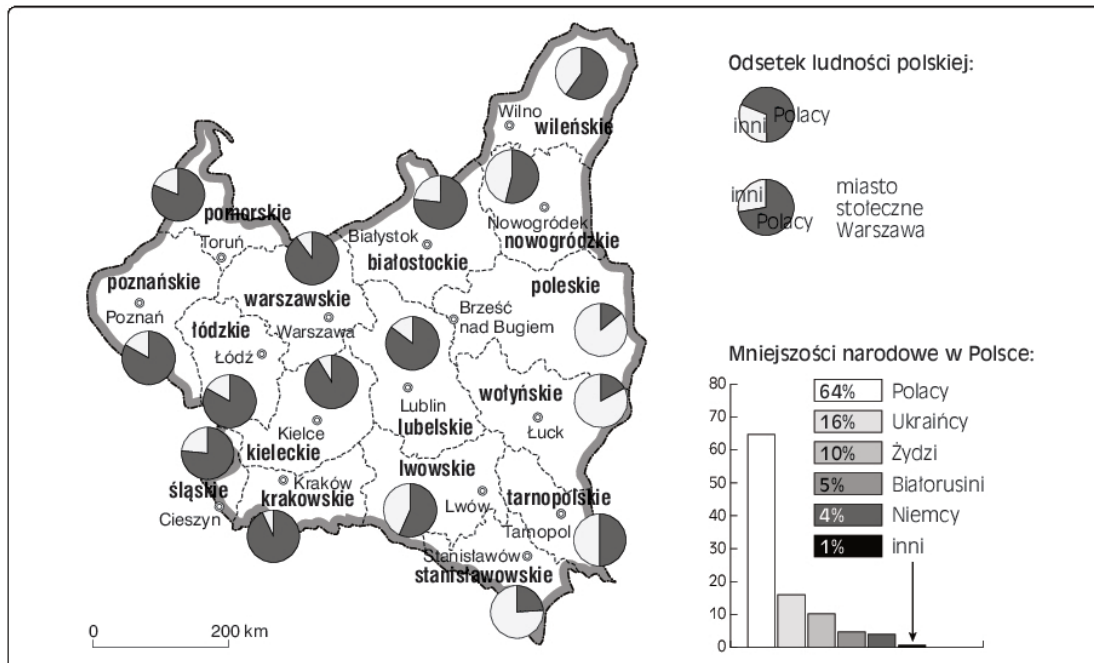
Uzupełnij luki w poniższych zdaniach.

Na przełomie XIX i XX w. ukształtował się na ziemiach polskich obóz polityczny, którego program opierał się na solidaryzmie społecznym i nacjonalizmie. Członkowie ugrupowania głosili konieczność wypierania Niemców i Żydów z życia gospodarczego oraz polonizowania Litwinów, Białorusinów i Ukraińców. Ugrupowanie nosiło nazwę
 Jego założycielem i głównym ideologiem był

Zadanie 23. (4 pkt)

Przeanalizuj mapę, a następnie, posiłkując się wiedzą pozazródłową, wykonaj polecenia.

Więcej arkuszy znajdziesz na stronie: arkusze.pl



Historia. Poziom podstawowy
Próbna Matura z OPERONEM i „Gazetą Wyborczą”

a) Wypisz województwa, w których Polacy stanowili mniejszość narodową.

.....

b) Napisz, jakiego pochodzenia była ludność, która stanowiła większość w województwach wymienionych przez siebie w punkcie a).

.....

c) Oceń wpływ ukazanej na mapie struktury narodowościowej na sytuację w Polsce międzywojennej. Swoją ocenę uzasadnij.

.....

.....

.....

.....

.....

.....

.....

.....

.....

.....

Zadanie 24. (3 pkt)

Rozpoznaj prawdziwe i fałszywe stwierdzenia dotyczące udziału Polaków w I wojnie światowej. Przy każdym z nich wpisz odpowiednio „prawda” lub „fałsz”.

a)	Legiony Polskie walczyły w I wojnie światowej u boku Austro-Węgier.	
b)	W wyniku „kryzysu przysięgowego” Józef Piłsudski został internowany.	
c)	Rada Regencyjna powstała i działała w Warszawie.	

Zadanie 25. (2 pkt)

Uporządkuj chronologicznie wydarzenia I wojny światowej przedstawione w tabeli. Przy najwcześniejszym wpisz literę A, zaś przy najpóźniejszym literę B. Pozostałych wydarzeń nie oznaczaj.

a)	Wybuch rewolucji lutowej w Rosji	
b)	Bitwa niemiecko-rosyjska pod Tannenbergiem	
c)	Morska bitwa jutlandzka	
d)	Wydanie Aktu 5 listopada	
e)	Przystąpienie Włoch do wojny	

Zadanie 26. (4 pkt)

Przeanalizuj niemiecki rysunek satyryczny z 1944 r., a następnie, posiłkując się wiedzą pozaźródłową, wykonaj polecenia.



Więcej arkuszy znajdziesz na stronie: arkusze.pl

a) Podaj imiona i nazwiska trzech postaci ukazanych na rysunku.

.....
.....
.....

b) Przedstaw wymowę rysunku satyrycznego. Do czego nawołuje największa z postaci ukazanych na rysunku?

.....
.....
.....
.....
.....

Zadanie 27. (3 pkt)

Do wydarzeń wymienionych w tabeli dopisz daty roczne.

a)	Zakończeni wojen burskich na mocy pokoju w Vereeniging	
b)	Japońsko-rosyjska bitwa morską koło wyspy Cuszima	
c)	Wybuch drugiej wojny bałkańskiej	

Historia. Poziom podstawowy
Próbna Matura z OPERONEM i „Gazetą Wyborczą”

BRUDNOPIS (*nie podlega ocenie*)

Więcej arkuszy znajdziesz na stronie: arkusze.pl

Więcej arkuszy znajdziesz na stronie: arkusze.pl