

Autor: Jerzy Sarbiewski

TEST PRZED MATURĄ 2007

**PRZYKŁADOWY
ARKUSZ EGZAMINACYJNY
Z FIZYKI I ASTRONOMII**

POZIOM ROZSZERZONY

Czas pracy 150 minut

Instrukcja dla zdającego

1. Sprawdź, czy arkusz egzaminacyjny zawiera 11 stron (zadania 1–6). Ewentualny brak zgłoś przewodniczącemu zespołu nadzorującego egzamin.
2. odpowiedzi zapisz w miejscu na to przeznaczonym przy każdym zadaniu.
3. Pisz czytelnie. Używaj długopisu/pióra tylko z czarnym tuszem/atramentem.
4. Nie używaj korektora, a błędne zapisy wyraźnie przekreśl.
5. Pamiętaj, że zapisy w brudnopisie nie podlegają ocenie.
6. Podczas egzaminu możesz korzystać z ołówka i gumki (wyłącznie do rysunków), linijki.

Życzymy powodzenia!

Za rozwiązanie
wszystkich zadań
można otrzymać
łącznie
60 punktów




Arkuszy przygotowany przez Wydawnictwo Pedagogiczne OPERON
na wzór oryginalnego arkusza maturalnego.

Zadanie 1. Kamień (10 pkt)

Na kamień o ciężarze 5 N działamy pionowo w górę siłą 20 N do wysokości 15 m.

1.1. (2 pkt)


Jakim ruchem porusza się kamień w czasie całego toru? Oblicz występujące przyspieszenie.

**1.2. (2 pkt)**

Oblicz czas trwania całego ruchu.


**1.3. (3 pkt)**

Oblicz, jaką wykonamy pracę. Jaką najmniejszą pracę można wykonać, aby podnieść kamień na wysokość 15 m? Oblicz jego energię kinetyczną i potencjalną na wysokości 15 m.



1.4. (3 pkt)

Narysuj wykres wykonanej pracy w zależności od przemieszczenia oraz wykres prędkości kamienia w zależności od czasu trwania całego ruchu.

**Zadanie 2. Bańki (10 pkt)**

W leczeniu przeziębienia czasami stawia się bańki. Powietrze pod bańką naciska na skórę mniejszą siłą niż poza bańką i dlatego następuje jej wybrzuszenie. Trudno sobie wyobrazić, jak wyglądałaby skóra, gdyby pod bańką była całkowita próżnia.

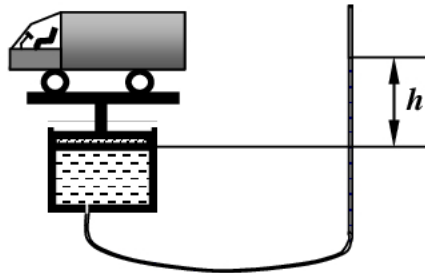
2.1. (2 pkt)

Oblicz, jaką masę należałoby obciążyć 1 cm^2 powierzchni ciała, gdyby pod bańką nie było powietrza. Przyjmij, że ciśnienie atmosferyczne wynosi 10^5 Pa .

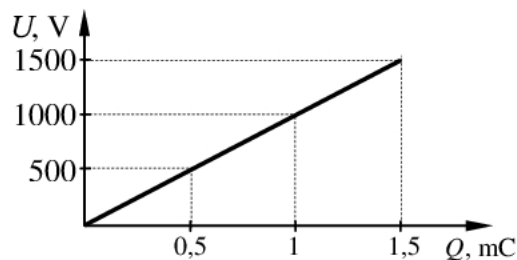


2.5. (3 pkt)


Do ruchomego tłoka o powierzchni 1 m^2 przymocowano wspornik, na którym znajduje się 4-tonowa ciężarówka. Pod tłokiem znajduje się woda, która może dołem wypływać gumowym węzłem o przekroju 1 cm^2 . Oblicz, na jaką wysokość należy podnieść koniec węża, aby woda się z niego nie wylewała. Oblicz, o ile mm obniży się ciężarówka do chwili zatrzymania się tłoka.

**Zadanie 3. Kondensator (10 pkt)**

Rysunek przedstawia wykres ładowania kondensatora płaskiego, o powierzchni każdej z płytek 100 cm^2 . Kondensator naładowano ładunkiem 1 mC .


**3.1. (1 pkt)**

Oblicz energię kondensatora.



3.7. (1 pkt)

Narysuj wykres ładowania kondensatora z dielektrykiem.

**3.8. (2 pkt)**

Dielektryk wysunięto z kondensatora tak, że zajmuje połowę powierzchni pomiędzy okładkami. Oblicz pojemność kondensatora w tym przypadku.

.....

.....

.....

.....

.....

.....

.....

.....

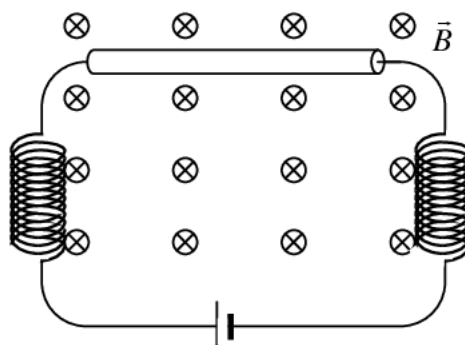
.....

.....

.....

Zadanie 4. Przewodnik (10 pkt)

W jednorodnym polu magnetycznym o indukcji 0,1 T, umieszczony jest prostopadle do linii pola prostoliniowy przewodnik o długości 20 cm i oporze 0,05 Ω . Przewodnik zasilany jest prądem stałym o natężeniu 10 A. Dwie zwojnice nie służą jako źródło pola magnetycznego, lecz do zwinięcia nadmiaru przewodnika.



Zadanie 5. Żarówka (9 pkt)


Spirala żarówki wykonana jest ze stopu o oporze właściwym $\rho = 2,5 \cdot 10^{-6} \Omega\text{m}$ i ma średnicę 0,1 mm.

5.1. (2 pkt)


Oblicz, jaka jest temperatura włókna, po dłuższym świeceniu żarówki, jeśli ma ono właściwości ciała doskonale czarnego. Przez żarówkę płynie prąd o natężeniu 1,47 A.

**5.2. (1 pkt)**

Oblicz, jaka długość fali odpowiada maksimum promieniowania w tej temperaturze. Napisz, w jakiej części widma znajduje się ta fala.

**5.3. (4 pkt)**

Żarówka znajduje się wewnątrz czarnej kuli o promieniu 3 cm. Oblicz, z jaką mocą żarówka powinna ogrzewać kulę, aby kula utrzymywała temperaturę 30°C , jeżeli temperatura otoczenia wynosi 20°C . Zakładamy, że kula traci energię jedynie przez wypromieniowanie. Stała Stefana–Boltzmana $\sigma = 5,7 \cdot 10^{-8} \text{W/m}^2\text{K}^4$, stała Wiena $b = 2,89 \cdot 10^{-3} \text{mK}$.



6.3. (1 pkt)

Chcemy skonstruować przyrząd optyczny, składający się z dwóch soczewek. Mamy do dyspozycji jedno szkło od okularów i soczewkę od lupy o ogniskowej 10 cm. Oblicz zdolność skupiającą tej soczewki.

**6.4. (5 pkt)**

Uzasadnij, czy można z tych szkieł skonstruować lunetę lub mikroskop. Która z soczewek powinna być obiektywem, a która okulem? W jakiej odległości od siebie należy je umieścić? Oblicz przybliżone powiększenie tak otrzymanego przyrządu.

