

Miejsce
na naklejkę
z kodem szkoły

dysleksja

MFA-R1A1P-062

EGZAMIN MATURALNY Z FIZYKI I ASTRONOMII

Arkusz II

POZIOM ROZSZERZONY

Czas pracy 120 minut

ARKUSZ II

MAJ
ROK 2006

Instrukcja dla zdającego

1. Sprawdź, czy arkusz egzaminacyjny zawiera 11 stron (zadania 22–26). Ewentualny brak zgłoś przewodniczącemu zespołu nadzorującego egzamin.
2. Rozwiązania i odpowiedzi zapisz w miejscu na to przeznaczonym przy każdym zadaniu.
3. W rozwiązaniach zadań rachunkowych przedstaw tok rozumowania prowadzący do ostatecznego wyniku oraz pamiętaj o jednostkach.
4. Pisz czytelnie. Używaj długopisu/pióra tylko z czarnym tuszem/atramentem.
5. Nie używaj korektora, a błędne zapisy wyraźnie przekreśl.
6. Pamiętaj, że zapisy w brudnopisie nie podlegają ocenie.
7. Podczas egzaminu możesz korzystać z karty wybranych wzorów i stałych fizycznych, linijki oraz kalkulatora.
8. Wypełnij tę część karty odpowiedzi, którą koduje zdający. Nie wpisuj żadnych znaków w części przeznaczonej dla egzaminatora.
9. Na karcie odpowiedzi wpisz swoją datę urodzenia i PESEL. Zamaluj ■ pola odpowiadające cyfrom numeru PESEL. Błędne zaznaczenie otocz kółkiem ⊗ i zaznacz właściwe.

Za rozwiązanie
wszystkich zadań
można otrzymać
łącznie
50 punktów

Życzymy powodzenia!

Wypełnia zdający przed
rozpoczęciem pracy

--	--	--	--	--	--	--	--	--	--

PESEL ZDAJĄCEGO

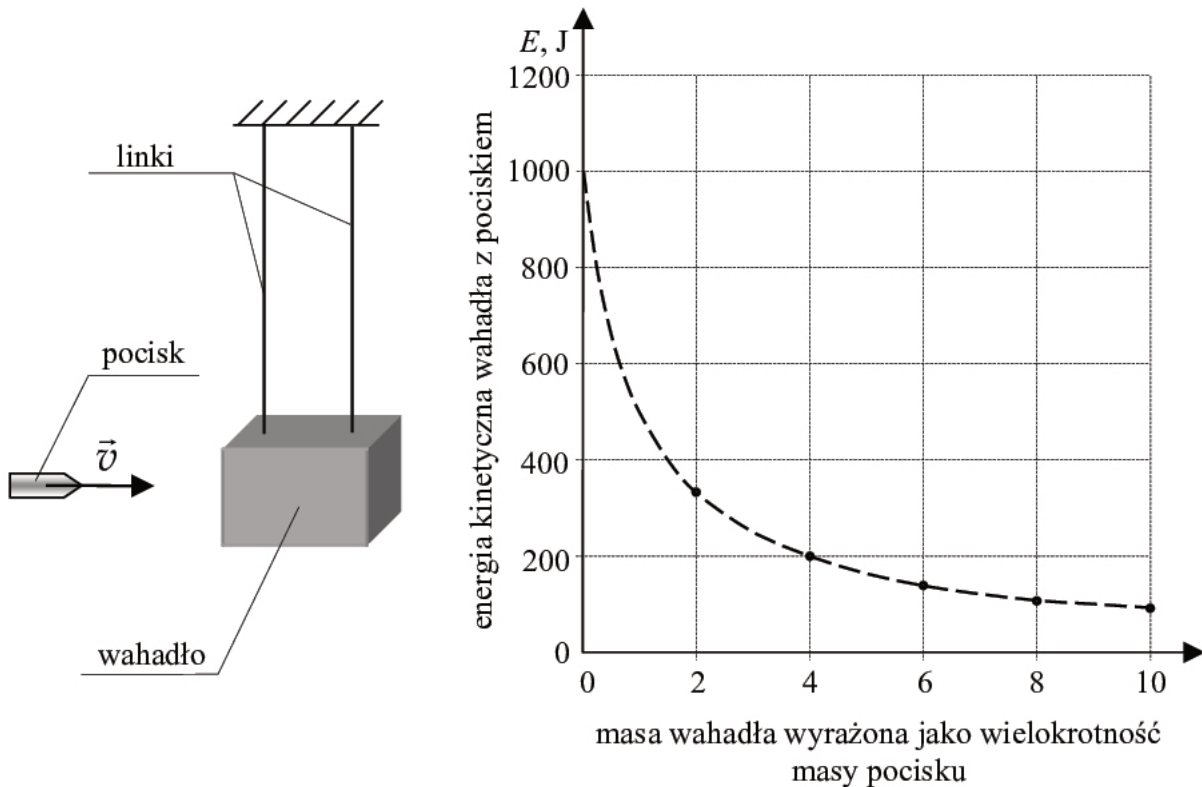
--	--	--

KOD
ZDAJĄCEGO

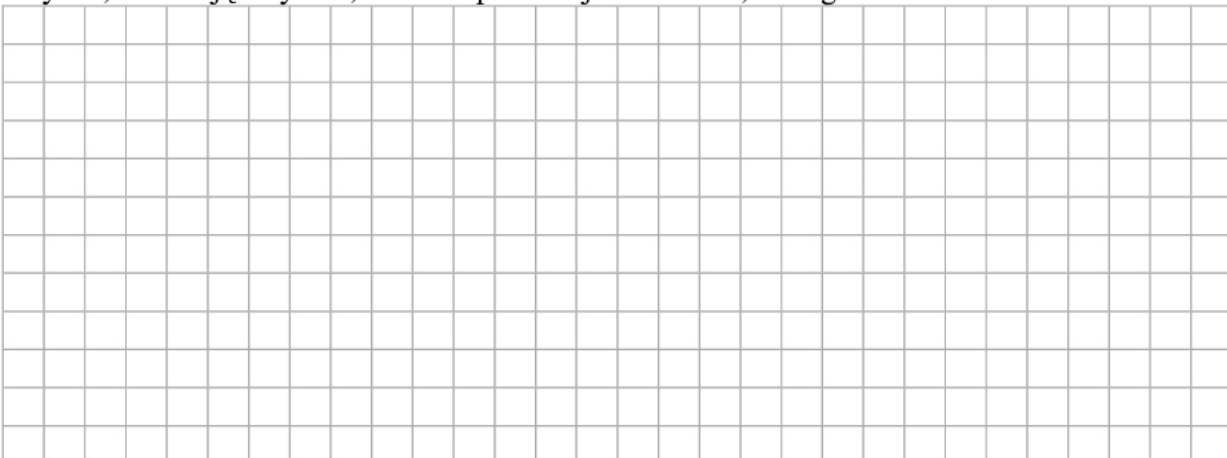
Zadanie 22. Wahadło balistyczne (10 pkt)

Na rysunku poniżej przedstawiono schematycznie urządzenie do pomiaru wartości prędkości pocisków wystrzeliwanych z broni palnej. Podstawowym elementem takiego urządzenia jest tzw. wahadło balistyczne będące (w dużym uproszczeniu) zawieszonym na linkach klokiem, w którym grzęzną wystrzeliwane pociski. Po trafieniu pociskiem wahadło wychyla się z położenia równowagi i możliwy jest pomiar jego energii kinetycznej.

Punkty na wykresie przedstawiają zależność energii kinetycznej **klocka wahadła z pociskiem** (który w nim ugrzązł) tuż po uderzeniu pocisku, od masy klocka. Pomiarów wykonano dla 5 klocków o różnych masach (linia przerywana przedstawia zależność teoretyczną). Wartość prędkości pocisku, tuż przed trafieniem w klocek wahadła, za każdym razem wynosiła 500 m/s, a odległość od środka masy klocka wahadła do punktu zawieszenia wynosiła 1 m. W obliczeniach pomiń masę linek mocujących klocek wahadła.

**22.1 (3 pkt)**

Wykaż, analizując wykres, że masa pocisku jest równa 0,008 kg.



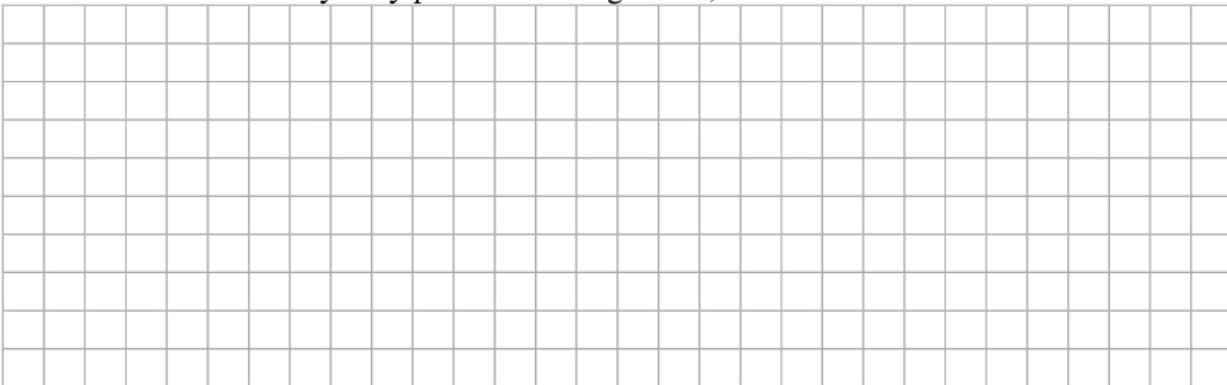
Zadanie 24. Soczewka (10 pkt)

W pracowni szkolnej za pomocą cienkiej szklanej soczewki dwuwypukłej o jednakowych promieniach krzywizny, zamontowanej na ławie optycznej, uzyskiwano obrazy świecącego przedmiotu. Tabela zawiera wyniki pomiarów odległości od soczewki przedmiotu x i ekranu y , na którym uzyskiwano ostre obrazy przedmiotu. Bezwzględne współczynniki załamania powietrza oraz szkła wynoszą odpowiednio 1 i 1,5.


$x(\text{m})$ $\Delta x = \pm 0,02 \text{ m}$	$y(\text{m})$ $\Delta y = \pm 0,02 \text{ m}$
0,11	0,80
0,12	0,60
0,15	0,30
0,20	0,20
0,30	0,15
0,60	0,12
0,80	0,11

24.1 (3 pkt)

Oblicz promień krzywizny soczewki wiedząc, że jeśli przedmiot był w odległości 0,3 m od soczewki to obraz rzeczywisty powstał w odległości 0,15 m od soczewki.


**24.2 (4 pkt)**

Naszkiej wykres zależności $y(x)$. Zaznacz niepewności pomiarowe. Wykorzystaj dane zawarte w tabeli.

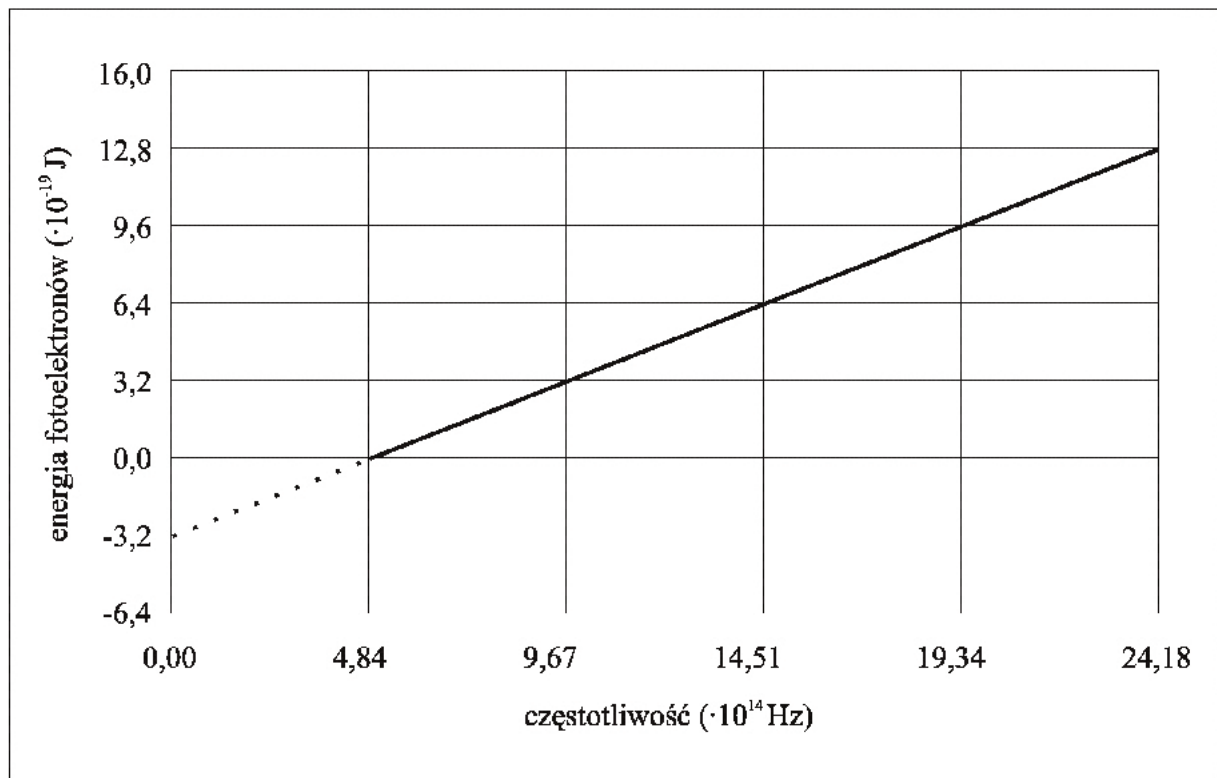


24.3 (3 pkt)

Gdy wartość x rośnie, y dąży do pewnej wartości, która jest wielkością charakterystyczną dla soczewki. Podaj nazwę tej wielkości fizycznej oraz oblicz jej wartość.

**Zadanie 25. Fotoefekt (10 pkt)**

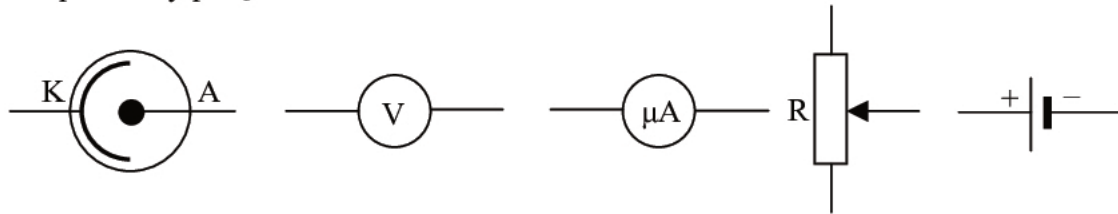
W pracowni fizycznej wykonano doświadczenie mające na celu badanie zjawiska fotoelektrycznego i doświadczalne wyznaczenie wartości stałej Plancka. W oparciu o wyniki pomiarów sporządzono poniższy wykres. Przedstawiono na nim zależność maksymalnej energii kinetycznej uwalnianych elektronów od częstotliwości światła padającego na fotokomórkę.



Wypełnia egzaminator!	Nr zadania	24.1	24.2	24.3
	Maks. liczba pkt	3	4	3
	Uzyskana liczba pkt			

25.4 (4 pkt)


Narysuj schemat układu elektrycznego pozwalającego wyznaczyć doświadczalnie wartość napięcia hamowania fotoelektronów. Masz do dyspozycji elementy przedstawione poniżej oraz przewody połączeniowe.

**Zadanie 26. Laser (10 pkt)**

Laser o mocy 0,1 W emituje w próżni monochromatyczną wiązkę światła o długości fali 633 nm i kołowym przekroju.

26.1 (5 pkt)

Oszacuj liczbę fotonów zawartych w elemencie wiązki światła o długości jednego metra.



Wypełnia egzaminator!	Nr zadania	25.1	25.2	25.3	25.4	26.1
	Maks. liczba pkt	1	2	3	4	5
	Uzyskana liczba pkt					

BRUDNOPIS