

**WYPEŁNIA ZDAJĄCY**

**KOD**

--	--	--

**PESEL**

--	--	--	--	--	--	--	--	--	--	--	--

**Miejsce na naklejkę.**

Sprawdź, czy kod na naklejce to

**E-100.**

Jeżeli tak – przyklej naklejkę.

Jeżeli nie – zgłoś to nauczycielowi.

# EGZAMIN MATURALNY Z CHEMII

## POZIOM ROZSZERZONY

DATA: **14 maja 2021 r.**

GODZINA ROZPOCZĘCIA: **9:00**

CZAS PRACY: **180 minut**

LICZBA PUNKTÓW DO UZYSKANIA: **60**

### Instrukcja dla zdającego

1. Sprawdź, czy arkusz egzaminacyjny zawiera 24 strony (zadania 1–36).  
Ewentualny brak zgłoś przewodniczącemu zespołu nadzorującego egzamin.
2. Odpowiedzi i rozwiązania zapisz w miejscu na to przeznaczonym przy każdym zadaniu.
3. W rozwiązaniach zadań rachunkowych przedstaw tok rozumowania prowadzący do ostatecznego wyniku oraz pamiętaj o jednostkach.
4. Pisz czytelnie. Używaj długopisu/pióra tylko z czarnym tuszem/atramentem.
5. Nie używaj korektora, a błędne zapisy wyraźnie przekreśl.
6. Pamiętaj, że zapisy w brudnopisie nie będą oceniane.
7. Na tej stronie oraz na karcie odpowiedzi wpisz swój numer PESEL i przyklej naklejkę z kodem.
8. Nie wpisuj żadnych znaków w części przeznaczonej dla egzaminatora.
9. Możesz korzystać z *Wybranych wzorów i stałych fizykochemicznych na egzamin maturalny z biologii, chemii i fizyki*, linijki oraz kalkulatora prostego.



ECHP-R0-100-2105

**Zadanie 1. (0–2)**

Dwa pierwiastki, oznaczone numerami 1. i 2., należą do czwartego okresu układu okresowego. Liczba atomowa pierwiastka 1. jest mniejsza od liczby atomowej pierwiastka 2. Atomy (w stanie podstawowym) tych pierwiastków mają 4 elektrony, które mogą uczestniczyć w tworzeniu wiązań chemicznych.

**Uzpełnij tabelę. Napisz nazwy pierwiastków 1. i 2. oraz określ, czy w atomach (w stanie podstawowym) tych pierwiastków występują niesparowane elektrony – podaj liczbę elektronów niesparowanych i napisz symbol podpowłoki, do której one należą, albo zaznacz, że nie ma takich elektronów.**

	Nazwa	Elektrony niesparowane	
		liczba	symbol podpowłoki
Pierwiastek 1.			
Pierwiastek 2.			

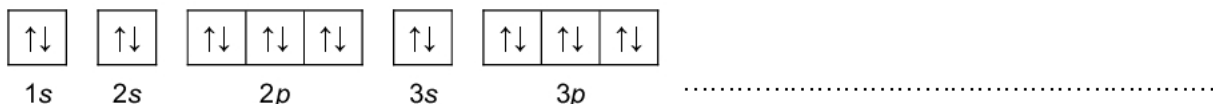
**Informacja do zadań 2.–4.**

Atomy fluorowców wykazują wyraźną tendencję do przyjęcia dodatkowego elektronu i przejścia w jon  $X^-$  lub też – gdy różnica elektroujemności fluorowca i łączącego się z nim pierwiastka jest mała – do utworzenia wiązania kowalencyjnego. W szczególnych warunkach może nastąpić oderwanie elektronu od obojętnego atomu fluorowca i utworzenie jonu  $X^+$ .

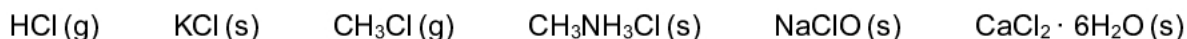
Na podstawie: A. Bielański, *Podstawy chemii nieorganicznej*, Warszawa 2004.

**Zadanie 2. (0–1)**

**Uzpełnij poniższy schemat tak, aby przedstawiał on graficzny zapis konfiguracji elektronowej kationu bromoniowego  $Br^+$  (stan podstawowy). W tym zapisie uwzględnij numery powłok i symbole podpowłok.**

**Zadanie 3. (0–1)**

**Spośród wymienionych poniżej substancji wybierz te, w skład których wchodzi jony  $Cl^-$ . Podkreśl wzory wybranych związków.**

**Zadanie 4.**

Poniżej przedstawiono schematy czterech przemian chemicznych A, B, C i D, w których jednym z substratów jest chlor.

- A. metan  $\longrightarrow$  chlorometan                      B. eten  $\longrightarrow$  1,2-dichloroetan  
C. benzen  $\longrightarrow$  chlorobenzen                    D. toluen (metylobenzen)  $\longrightarrow$  chlorofenylometan  
(C<sub>6</sub>H<sub>5</sub>CH<sub>2</sub>Cl)

**Zadanie 4.1. (0–1)**

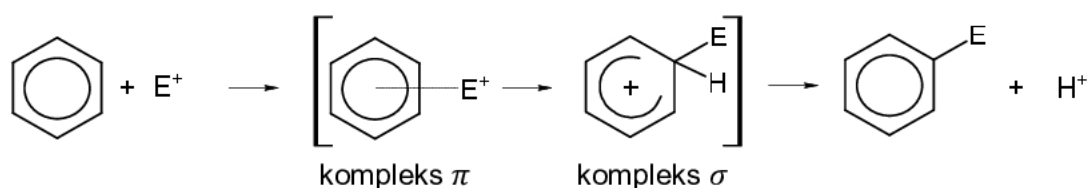
Spośród przemian oznaczonych literami A, B, C i D wybierz te, w przebiegu których udział biorą rodniki chloru. Napisz litery, którymi oznaczono te przemiany.

.....

**Zadanie 4.2. (0–2)**

W reakcjach substytucji elektrofilowej i addycji elektrofilowej bierze udział tzw. elektrofil, czyli jon lub cząsteczka z niedomiarem elektronów.

Substytucja elektrofilowa w pierścieniu aromatycznym przebiega przez kilka etapów. Najpierw powstaje nietrwale połączenie (kompleks  $\pi$ ), które następnie przekształca się w karbokation, tzw. kompleks  $\sigma$ , co wiąże się z deformacją układu wiązań i utratą charakteru aromatycznego. Po odłączeniu protonu układ wiązań odzyskuje charakter aromatyczny. Opisane etapy zilustrowano na poniższym schemacie.



Szybkość tworzenia produktu substytucji elektrofilowej zależy od szybkości, z jaką powstaje kompleks  $\sigma$ .

Reakcje addycji elektrofilowej przebiegają także poprzez tworzenie kompleksu  $\pi$  oraz karbokationu, jednak kończą się połączeniem z czynnikiem nukleofilowym, utworzonym w trakcie przemiany.

K.-H. Lautenschläger, W. Schröter, A. Wanninger, *Nowoczesne kompendium chemii*, Warszawa 2007.

**Uzupełnij poniższe zdania. Wybierz i podkreśl jedną odpowiedź spośród podanych w każdym nawiasie.**

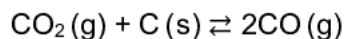
Przykładem reakcji addycji elektrofilowej jest przemiana oznaczona literą (A / B / C / D). W reakcji addycji cząsteczka chloru ulega rozpadowi na kation chloroniowy i anion chlorkowy – wskutek oddziaływania z elektronami wiązania podwójnego. W wyniku działania czynnika elektrofilowego na podwójne wiązanie węglowodoru powstaje, jako produkt przejściowy, organiczny (kation / rodnik), następnie przyłączający jon ( $\text{Cl}^+$  /  $\text{Cl}^-$ ).

Przykładem reakcji substytucji elektrofilowej jest przemiana oznaczona literą (A / B / C / D). W tej przemianie uczestniczy katalizator, który przez utworzenie jonu kompleksowego powoduje rozpad cząsteczki chloru i wytworzenie czynnika elektrofilowego. Tym katalizatorem jest ( $\text{FeCl}_3$  /  $\text{H}_2\text{SO}_4$ ). W opisanej przemianie najwolniejszym etapem jest ten, w którym (tworzy się kompleks  $\sigma$  / następuje eliminacja protonu).

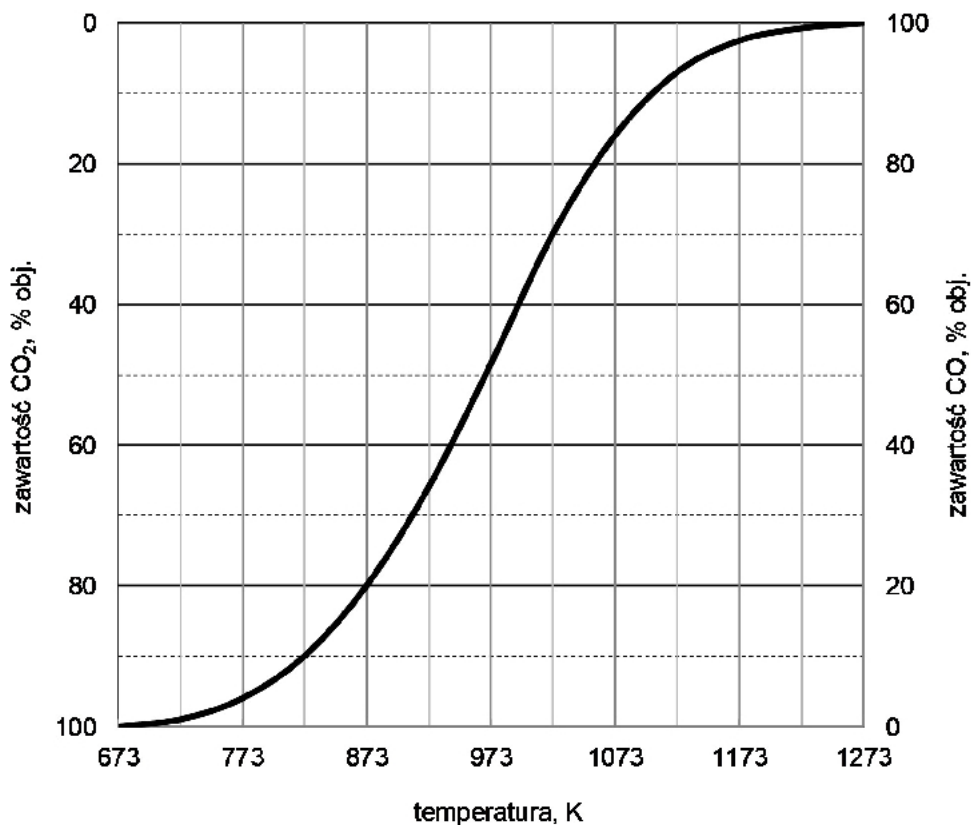
Wypełnia egzaminator	Nr zadania	1.	2.	3.	4.1.	4.2.
	Maks. liczba pkt	2	1	1	1	2
	Uzyskana liczba pkt					

**Informacja do zadań 5.–6.**

W wysokiej temperaturze węgiel reaguje z tlenkiem węgla(IV) i ustala się równowaga chemiczna:



Objęściową zawartość procentową CO i CO<sub>2</sub> w gazie pozostającym w równowadze z węglem w zależności od temperatury (pod ciśnieniem atmosferycznym 1013 hPa) przedstawiono na poniższym wykresie.



Na podstawie: A. Bielański, *Podstawy chemii nieorganicznej*, Warszawa 2004.

**Zadanie 5. (0–1)**

Rozstrzygnij, czy reakcja pomiędzy tlenkiem węgla(IV) i węglem jest procesem egzoenergetycznym. Uzasadnij swoją odpowiedź.

Rozstrzygnięcie: .....

Uzasadnienie: .....

.....

.....





**Informacja do zadań 7.–9.**

Litowce są metalami miękkimi, a berylowce są od nich nieco twardsze. Ich twardość maleje w grupie wraz ze wzrostem liczby atomowej pierwiastka. Gęstość litu, sodu i potasu jest mniejsza od gęstości wody, a gęstość rubidu i cezu oraz wszystkich berylowców – większa. Lit spala się w tlenie do tlenku. Z azotem w temperaturze pokojowej łączy się powoli, a produktem tej reakcji jest azotek litu  $\text{Li}_3\text{N}$ . Z kolei sól spala się w tlenie do nadtlenu sodu, związku o wzorze  $\text{Na}_2\text{O}_2$ , w którym tlen występuje na –I stopniu utlenienia.

Magnez, spalany w powietrzu, reaguje nie tylko z tlenem, lecz także z azotem i tlenkiem węgla(IV).

Na podstawie: K. Lautenschläger, W. Schröter, A. Wanninger, *Nowoczesne kompendium chemii*, Warszawa 2007 oraz L. Jones, P. Atkins, *Chemia ogólna*, Warszawa 2006.

**Zadanie 7. (0–1)**

**Uzupełnij poniższe zdania. Wybierz i podkreśl jedną odpowiedź spośród podanych w każdym nawiasie.**

1. Stopień utlenienia tlenu w  $\text{Na}_2\text{O}_2$  jest (niższy / wyższy) niż w produkcie spalania litu w tlenie.
2. Twardość baru jest (mniejsza / większa) niż twardość cezu.
3. Gęstość potasu jest (mniejsza / większa) niż gęstość wapnia.

**Zadanie 8. (0–1)**

**Napisz w formie cząsteczkowej równania opisanych w informacji przemian.**

Spalanie sodu w tlenie: .....

Reakcja litu z azotem: .....

**Zadanie 9.1. (0–1)**

W celu otrzymania tlenku magnezu przeprowadzono dwa doświadczenia: I i II. W doświadczeniu I tlenek magnezu otrzymano przez całkowity rozkład  $\text{MgCO}_3$ . W doświadczeniu II tlenek magnezu otrzymano przez spalanie magnezu w powietrzu.

**Rozstrzygnij, czy w obu doświadczeniach otrzymano czysty tlenek magnezu. Uzasadnij odpowiedź.**

Rozstrzygnięcie: .....

Uzasadnienie: .....

.....

**Zadanie 9.2. (0–1)**

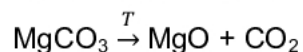
**Wyjaśnij, dlaczego palącego się magnezu, czyli tzw. pożarów magnezowych, nie wolno gasić wodą.**

.....

.....

**Zadanie 10.**

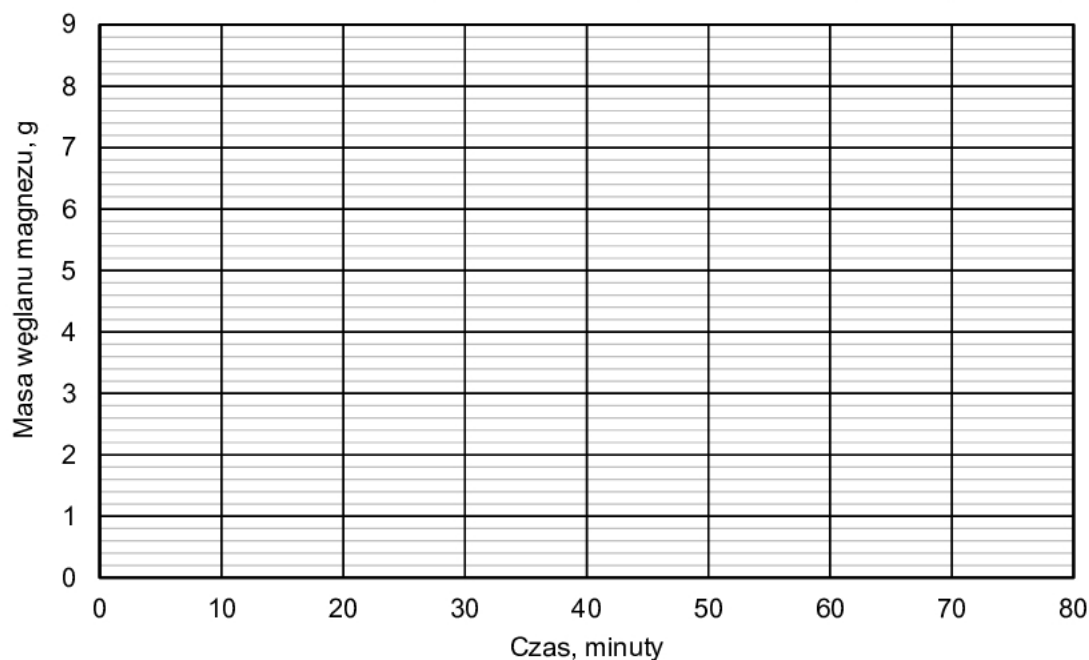
Odważkę czystego węglanu magnezu o masie 8,4 g ogrzewano w piecu nagrzanym do temperatury  $T$ , w której ta sól ulega rozkładowi termicznemu – zgodnie z równaniem:

**Zadanie 10.1. (0–2)**

W czasie ogrzewania węglanu magnezu mierzono w dziesięciominutowych odstępach sumaryczną ilość powstałego gazowego produktu termicznego rozkładu tej soli. Następnie obliczono masę nierozłożonego węglanu magnezu w każdym momencie pomiaru.

**Oblicz i wpisz do tabeli brakujące wartości masy (w gramach) nierozłożonego węglanu magnezu zaokrąglone do pierwszego miejsca po przecinku. Następnie narysuj wykres przedstawiający zależność masy węglanu magnezu od czasu prowadzenia jego termicznego rozkładu.**

Czas, minuty	0	10	20	30	40	50	60	70	80
Liczba moli CO <sub>2</sub> , mol	0,000	0,002	0,012	0,026	0,048	0,069	0,083	0,093	0,098
Masa MgCO <sub>3</sub> , g	8,4	8,2		6,2	4,4	2,6		0,6	0,2

**Zadanie 10.2. (0–1)**

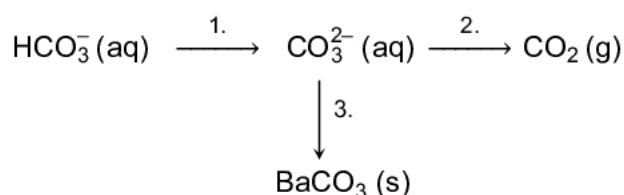
**Oceń prawdziwość poniższych zdań. Zaznacz P, jeżeli zdanie jest prawdziwe, albo F – jeżeli jest fałszywe.**

1.	W ciągu pierwszych 40 minut doświadczenia mniej niż połowa użytego węglanu magnezu uległo termicznemu rozkładowi.	P	F
2.	W ciągu pierwszych 70 minut doświadczenia powstało około 3,7 g tlenku magnezu.	P	F
3.	Po upływie 80 minut masa stałej mieszaniny substratu i produktu reakcji była mniejsza o 8,2 g od masy użytej odważki czystego węglanu magnezu.	P	F

Wypełnia egzaminator	Nr zadania	7.	8.	9.1.	9.2.	10.1.	10.2.
	Maks. liczba pkt	1	1	1	1	2	1
	Uzyskana liczba pkt						

**Zadanie 11.**

Przeprowadzono ciąg przemian chemicznych przedstawiony na poniższym schemacie.

**Zadanie 11.1. (0–1)**

Spośród wymienionych odczynników

- wodorotlenek potasu
- kwas etanowy
- siarczan(VI) baru
- azotan(V) baru

wybierz i wpisz do tabeli nazwy lub wzory tych substancji, które mogły być użyte w poszczególnych etapach opisanego schematem ciągu przemian.

Numer etapu	1.	2.	3.
Nazwa lub wzór użytego odczynnika			

**Zadanie 11.2. (0–1)**

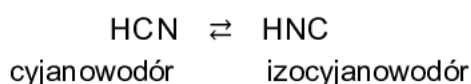
Napisz w formie jonowej skróconej równania reakcji oznaczonych na schemacie numerami 1. i 2.

Równanie reakcji 1.: .....

Równanie reakcji 2.: .....

**Informacja do zadań 12.–14.**

Cyjanowodor jest lotną cieczą. Występuje w postaci dwóch izomerycznych odmian, które pozostają ze sobą w równowadze:



W temperaturze pokojowej na 99 cząsteczek HCN przypada jedna cząsteczka HNC.

Na podstawie: A. Bielański, *Podstawy chemii nieorganicznej*, Warszawa 2010.

**Zadanie 12. (0–1)**

Napisz wzór elektronowy cząsteczki tej izomerycznej odmiany cyjanowodoru, która w temperaturze pokojowej stanowi formę dominującą. Zaznacz kreskami pary elektronowe wiązań chemicznych oraz wolne pary elektronowe. Określ hybrydyzację orbitali walencyjnych atomu węgla w tej cząsteczce.

Wzór elektronowy:

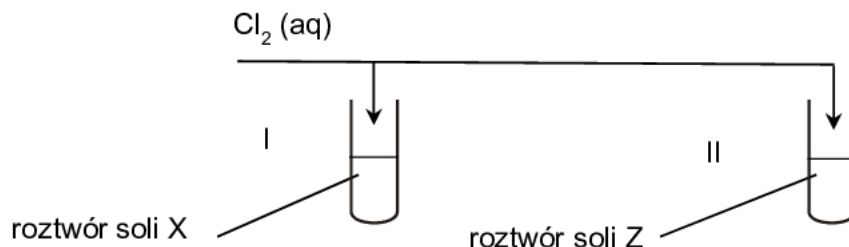
Hybrydyzacja orbitali walencyjnych atomu węgla: .....





**Zadanie 17.**

W dwóch probówkach znajdowały się wodne roztwory soli X i Z, otrzymane przez rozpuszczenie stałych soli, z których jedną był siarczek potasu, a drugą – bromek potasu. Przeprowadzono doświadczenie zgodnie z poniższym schematem. W doświadczeniu użyto świeżo otrzymanej wody chlorowej.



Po dodaniu wody chlorowej do probówek zauważono, że w probówce I roztwór zmienił barwę, ale pozostał klarowny, natomiast w probówce II pojawiło się zmętnienie.

**Zadanie 17.1. (0–1)**

Zidentyfikuj sole X i Z i wpisz ich wzory do tabeli.

Wzór soli X	Wzór soli Z

**Zadanie 17.2. (0–1)**

Napisz w formie jonowej skróconej równania reakcji pomiędzy chlorem a bromkiem potasu oraz pomiędzy chlorem a siarczkiem potasu.

.....  
 .....

Wypełnia egzaminator	Nr zadania	15.	16.	17.1.	17.2.
	Maks. liczba pkt	2	2	1	1
	Uzyskana liczba pkt				

**Zadanie 18.**

W kolbach oznaczonych numerami I i II znajdowały się dwa różne klarowne roztwory o żółtej barwie. Każdy z roztworów otrzymano przez rozpuszczenie w wodzie jednej substancji wybranej spośród:



Do roztworu w kolbie I dodano wodny roztwór wodorotlenku sodu i zaobserwowano wydzielanie się bezbarwnego gazu o charakterystycznym zapachu. Stwierdzono także, że w mieszaninie nie wytrącił się żaden osad i że roztwór pozostał żółty.

Do roztworu w kolbie II dodano wodny roztwór kwasu siarkowego(VI) i stwierdzono, że roztwór pozostał klarowny, ale zmienił barwę z żółtej na pomarańczową. Kiedy do uzyskanej mieszaniny dodano nadmiar wodnego roztworu wodorotlenku sodu, roztwór z powrotem stał się żółty i nie zaobserwowano wydzielania gazu.

**Zadanie 18.1. (0–1)**

Spośród wymienionych powyżej związków chemicznych wybierz i napisz wzór związku, którego roztwór znajdował się w kolbie I na początku doświadczenia.

.....

**Zadanie 18.2. (0–2)**

Napisz w formie jonowej skróconej równanie reakcji, która zaszła w kolbie II:

- po dodaniu wodnego roztworu  $\text{H}_2\text{SO}_4$  do zawartości kolby

.....

- po dodaniu nadmiaru wodnego roztworu  $\text{NaOH}$ .

.....



**Zadanie 19.**

Antymon rozтворя się na gorąco w stężonym kwasie siarkowym(VI). W tej przemianie tworzy się m.in. zdysocjowany w wodnym roztworze siarczan(VI) antymonu(III) oraz wydzielą się bezbarwny gaz o charakterystycznym ostrym zapachu, w którym siarka stanowi 50% masowych.

Antymon reaguje także na gorąco ze stężonym kwasem azotowym(V). W tej przemianie wydzielą się bezbarwny gaz, który w kontakcie z powietrzem zabarwia się na kolor czerwono-brunatny, i powstaje trudno rozpuszczalny jednoprotonowy kwas antymonowy(V). W cząsteczce tego kwasu stosunek liczby atomów wodoru do liczby atomów tlenu jest równy 1 : 3.

Na podstawie: J. Minczewski, Z. Marczenko, *Chemia analityczna*, Warszawa 2004.

**Zadanie 19.1. (0–2)**

Napisz w formie jonowej z uwzględnieniem liczby oddawanych lub pobieranych elektronów (zapis jonowo-elektronowy) równania reakcji redukcji i utleniania zachodzących podczas opisanego procesu rozтворя antymonu na gorąco w stężonym kwasie siarkowym(VI). Napisz w formie cząsteczkowej sumaryczne równanie opisanego przemiany.

Równanie reakcji redukcji:

.....

Równanie reakcji utleniania:

.....

Sumaryczne równanie reakcji:

.....

**Zadanie 19.2. (0–1)**

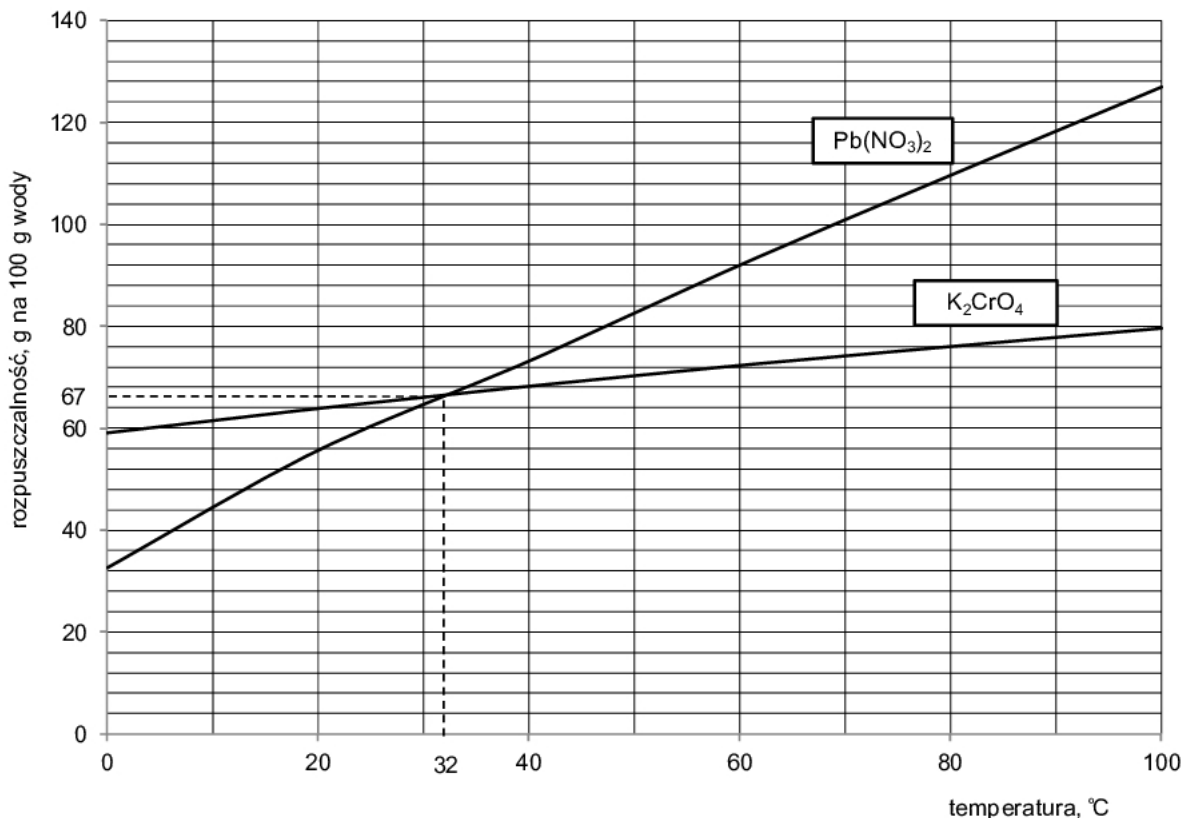
Napisz w formie jonowej sumaryczne równanie opisanego procesu rozтворя antymonu na gorąco w stężonym kwasie azotowym(V).

.....

Wypełnia egzaminator	Nr zadania	18.1.	18.2.	19.1.	19.2
	Maks. liczba pkt	1	2	2	1
	Uzyskana liczba pkt				

**Informacja do zadań 20.–21.**

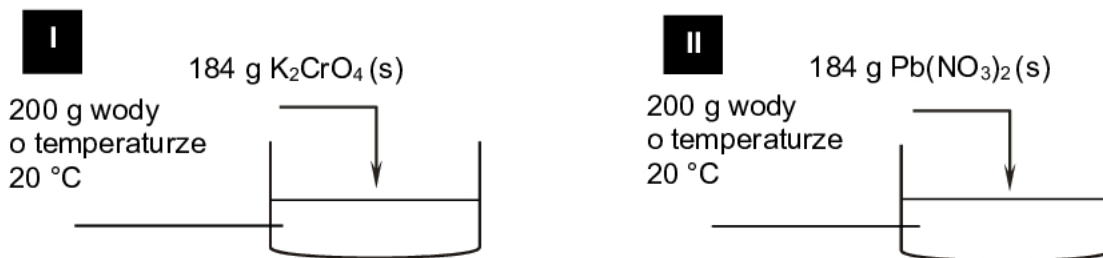
Na wykresie przedstawiono zależność rozpuszczalności w wodzie dwóch soli –  $K_2CrO_4$  i  $Pb(NO_3)_2$  – od temperatury.



Na podstawie: W. Mizerski, *Tablice chemiczne*, Warszawa 1997.

**Zadanie 20. (0–1)**

Przeprowadzono doświadczenie zilustrowane na poniższym schemacie.



Następnie zawartość zlewek ogrzano do temperatury  $t$ , w której w zlewce II cały azotan(V) ołowiu(II) uległ rozpuszczeniu, a otrzymany roztwór był nasycony.

**Napisz wartość temperatury  $t$ , a następnie uzupełnij poniższe zdanie dotyczące mieszanin otrzymanych w obu zlewkach po ogrzaniu ich zawartości do temperatury  $t$ . Wybierz i podkreśl jedną odpowiedź spośród podanych w każdym nawiasie.**

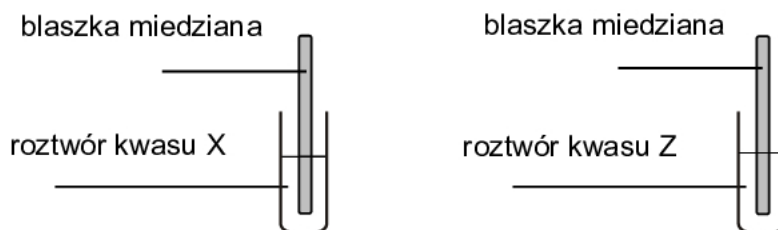
$t =$  .....

Roztwór w zlewce I jest (nienasycony / nasycony), a jego stężenie wyrażone w procentach masowych jest (mniejsze niż / takie samo jak / większe niż) stężenie roztworu wyrażone w procentach masowych w zlewce II.



**Zadanie 22. (0–2)**

W dwóch nieoznaczonych probówkach znajdowały się oddzielnie: rozcieńczony wodny roztwór kwasu azotowego(V) i rozcieńczony wodny roztwór kwasu siarkowego(VI). W tych roztworach zanurzono blaszki miedziane, a zawartość probówek lekko ogrzano.



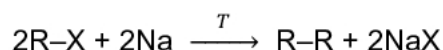
Po zanurzeniu blaszki miedzianej w roztworze kwasu X i ogrzaniu zawartości probówki wydzielał się bezbarwny gaz, który w kontakcie z powietrzem zabarwiał się na kolor czerwono-brunatny.

**Uzupełnij poniższe zdania. Wybierz i podkreśl jedną odpowiedź spośród podanych w każdym nawiasie.**

W rozcieńczonym roztworze kwasu azotowego(V) miedź (reaguje z wydzieleniem gazowego tlenu / reaguje z wydzieleniem wodoru / nie reaguje) i roztwór (przyjmuje barwę niebieską / pozostaje bezbarwny). W rozcieńczonym roztworze kwasu siarkowego(VI) miedź (reaguje z wydzieleniem gazowego tlenu / reaguje z wydzieleniem wodoru / nie reaguje) i roztwór (przyjmuje barwę niebieską / pozostaje bezbarwny). Kwasem X jest ( $\text{HNO}_3$  /  $\text{H}_2\text{SO}_4$ ).

**Informacja do zadań 23.–24.**

Alkany można otrzymać z halogenków alkilów o ogólnym wzorze  $\text{R-X}$ , w którym R oznacza grupę alkilową, a X – atom halogenu (chloru, bromu lub jodu). Halogenki alkilów reagują z sodem zgodnie z poniższym schematem:

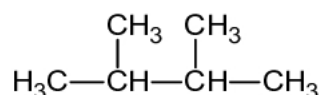


Reakcję przeprowadza się w środowisku bezwodnym w podwyższonej temperaturze. Jeżeli do reakcji zastosuje się jeden halogenek alkilu,  $\text{R-X}$ , otrzymuje się jeden alkan, a przy zastosowaniu różnych halogenków alkilów, np.  $\text{R}^1\text{-X}$  i  $\text{R}^2\text{-X}$ , powstaje mieszanina alkanów.

Na podstawie: R.T. Morrison, R.N. Boyd, *Chemia organiczna*, Warszawa 2008.

**Zadanie 23. (0–1)**

Pewien jodek alkilu poddano działaniu sodu i otrzymano alkan o wzorze:



**Napisz wzór półstrukturalny (grupowy) i nazwę systematyczną jodku alkilu, który poddano działaniu sodu w opisanej reakcji.**

Wzór półstrukturalny (grupowy): .....

Nazwa systematyczna: .....

### Zadanie 24. (0–1)

Mieszaninę 2-jodobutanu i jodku metylu poddano działaniu sodu i otrzymano różne alkany.

Oceń prawdziwość poniższych zdań. Zaznacz **P**, jeżeli zdanie jest prawdziwe, albo **F** – jeżeli jest fałszywe.

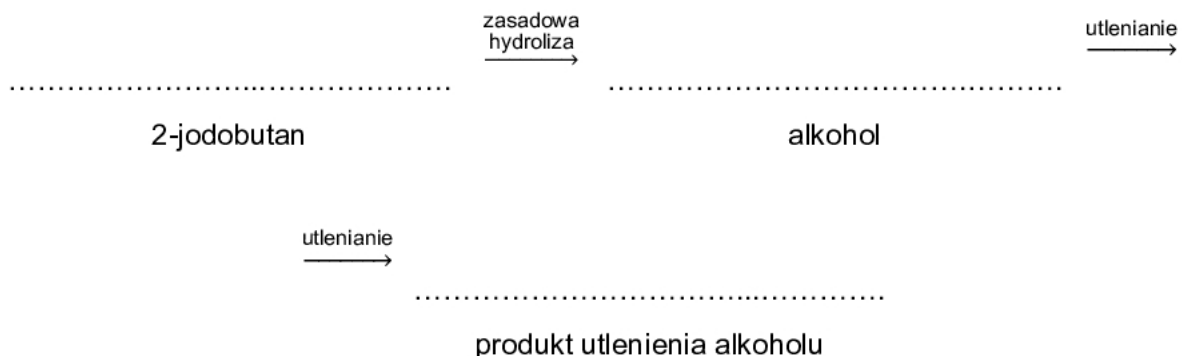
1.	W opisanej reakcji otrzymano cztery różne alkany.	P	F
2.	Otrzymanym w opisanej reakcji alkanem o <u>najmniejszej</u> masie cząsteczkowej był metan.	P	F
3.	Alkanem o <u>największej</u> masie cząsteczkowej – otrzymanym w opisanej reakcji – był 3,4-dimetyloheksan.	P	F

### Zadanie 25.

W wyniku zasadowej hydrolizy 2-jodobutanu otrzymano alkohol, który następnie utleniono tlenkiem miedzi(II).

#### Zadanie 25.1. (0–1)

Uzupełnij schemat opisanych przemian. Wpisz wzory półstrukturalne (grupowe): 2-jodobutanu, alkoholu otrzymanego w wyniku zasadowej hydrolizy 2-jodobutanu i organicznego produktu utlenienia tlenkiem miedzi(II) tego alkoholu.



#### Zadanie 25.2. (0–1)

Uzupełnij poniższe zdania. Wybierz i podkreśl jedną odpowiedź spośród podanych w każdym nawiasie.

Hydroliza zasadowa jodku alkilu jest reakcją (addycji / substytucji / eliminacji) zachodzącą zgodnie z mechanizmem nukleofilowym. Przykładem obojętnego elektrycznie nukleofilu jest cząsteczka (CH<sub>4</sub> / H<sub>2</sub> / NH<sub>3</sub>), a nukleofilu jonowego – jon (CN<sup>-</sup> / Cu<sup>2+</sup> / H<sub>3</sub>O<sup>+</sup>).

Wypełnia egzaminator	Nr zadania	22.	23.	24.	25.1.	25.2.
	Maks. liczba pkt	2	1	1	1	1
	Uzyskana liczba pkt					

**Zadanie 26.**

Alkeny można otrzymać m.in. w wyniku reakcji eliminacji wody z alkoholi (tzw. reakcja dehydratacji alkoholi).

Poddano dehydratacji 3-metylobutan-2-ol i otrzymano mieszaninę alkenów A i B, przy czym alken A jest produktem głównym (atom wodoru jest odrywany w tym przypadku od tego atomu węgla, który jest połączony z mniejszą liczbą atomów wodoru), a alken B – produktem ubocznym przemiany.

**Zadanie 26.1. (0–1)**

Produkt A można także otrzymać w wyniku dehydratacji innego alkoholu.

Podaj wzór półstrukturalny (grupowy) i nazwę systematyczną tego alkoholu.

Wzór:	Nazwa systematyczna:
-------	----------------------

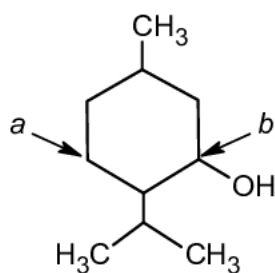
**Zadanie 26.2. (0–1)**

Napisz równanie reakcji alkenu A z bromowodorem (HBr) prowadzącej do powstania produktu głównego tej przemiany. Zastosuj wzory półstrukturalne (grupowe) związków organicznych.

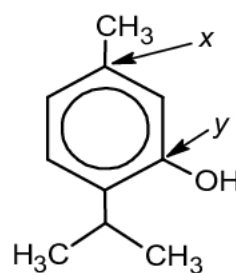
.....

**Informacja do zadań 27.–28.**

Poniżej przedstawiono wzory dwóch związków organicznych: mentolu i tymolu.



mentol



tymol

**Zadanie 27. (0–2)**

Uzupełnij poniższe tabele.

- Określ hybrydyzację orbitali walencyjnych: atomu węgla oznaczonego we wzorze mentolu literą *a* oraz atomu węgla oznaczonego we wzorze tymolu literą *x*.

Atom węgla	<i>a</i>	<i>x</i>
hybrydyzacja		

- Określ formalne stopnie utlenienia: atomu węgla oznaczonego we wzorze mentolu literą *b* oraz atomu węgla oznaczonego we wzorze tymolu literą *y*.

Atom węgla	<i>b</i>	<i>y</i>
stopień utlenienia		

**Zadanie 28. (0–1)**

Rozstrzygnij, czy cząsteczka tymolu jest chiralna. Odpowiedź uzasadnij.

Rozstrzygnięcie: .....

Uzasadnienie: .....

.....

**Zadanie 29. (0–1)**Do 500 cm<sup>3</sup> wodnego roztworu kwasu metanowego (mrówkowego) o stężeniu 1 mol · dm<sup>-3</sup> dodano 500 cm<sup>3</sup> wody. Temperatura otrzymanego roztworu nie uległa zmianie.

Dokończ zdanie. Zaznacz odpowiedź wybraną spośród A–C oraz odpowiedź wybraną spośród 1.–3.

Należy wnioskować, że po dodaniu wody do wodnego roztworu kwasu metanowego

wartość stałej dysocjacji	<b>A.</b> wzrosła,	a wartość stopnia dysocjacji	<b>1.</b>	wzrosła.
	<b>B.</b> zmalała,		<b>2.</b>	zmalała.
	<b>C.</b> nie uległa zmianie,		<b>3.</b>	nie uległa zmianie.

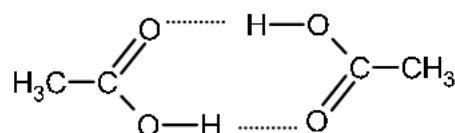
Wypełnia egzaminator	Nr zadania	26.1.	26.2.	27.	28.	29.
	Maks. liczba pkt	1	1	2	1	1
	Uzyskana liczba pkt					





**Zadanie 32. (0–1)**

Cząsteczki kwasu etanowego mogą tworzyć dimer:



Dimer ten występuje w stanie gazowym oraz w roztworach kwasu etanowego w rozpuszczalnikach nietworzących z nim wiązań wodorowych.

**Uzupełnij poniższe zdania. Wybierz i podkreśl jedną odpowiedź spośród podanych w każdym nawiasie.**

Przedstawiony w informacji dimer powstaje w wyniku tworzenia się wiązań (kowalencyjnych / jonowych / wodorowych) między cząsteczkami kwasu etanowego. Rozcieńczony roztwór kwasu etanowego w wodzie (nie zawiera dimerów / zawiera dimery), ponieważ woda (nie tworzy wiązań wodorowych / tworzy wiązania wodorowe) z cząsteczkami kwasu etanowego.

**Zadanie 33.**

W dwóch probówkach (I, II) znajdowały się wodne roztwory dwóch substancji wybranych spośród następujących:

glicyna                      chlorek fenoloamoniowy ( $C_6H_5NH_3Cl$ )                      fenolan sodu

W celu ich identyfikacji przeprowadzono opisane poniżej doświadczenia.

- Do próbek pobranych z probówek I i II dodano kwas solny, ale w żadnym naczyniu nie zaobserwowano zmian.
- Z probówek I i II pobrano próbki i wprowadzono do nich wodny roztwór oranżu metylowego. Otrzymano roztwory o różnych barwach. W naczyniu z próbką pobraną z probówki I roztwór przyjął barwę czerwoną.

**Zadanie 33.1. (0–1)**

**Podaj nazwy lub wzory związków, które zidentyfikowano podczas przeprowadzonych doświadczeń.**

Probówka I: .....

Probówka II: .....

**Zadanie 33.2. (0–1)**

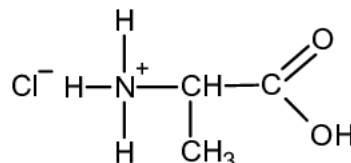
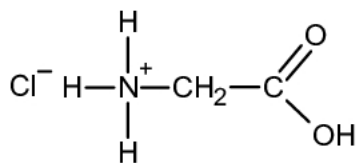
**Napisz w formie jonowej skróconej równanie reakcji, która decyduje o odczynie wodnego roztworu substancji znajdującej się w probówce I.**

.....

Wypełnia egzaminator	Nr zadania	30.	31.	32.	33.1.	33.2.
	Maks. liczba pkt	2	1	1	1	1
	Uzyskana liczba pkt					

**Zadanie 34. (0–2)**

Próbkę pewnego tripeptydu o masie 43,4 mg poddano całkowitej hydrolizie w stężonym kwasie solnym. Po odparowaniu uzyskanego roztworu do sucha otrzymano mieszaninę związków jonowych o wzorach:



Uzyskaną w opisany sposób mieszaninę rozpuszczono w wodzie i dodano do niej nadmiar wodnego roztworu azotanu(V) srebra. Zaszła wtedy reakcja opisana równaniem:  $\text{Ag}^+ + \text{Cl}^- \rightarrow \text{AgCl}$ . Wytrącony osad  $\text{AgCl}$  odsączono, wysuszono i zważono. Jego masa była równa 86,1 mg.

**Określ, z ilu reszt glicyny  $x$  i z ilu reszt alaniny  $y$  składała się jedna cząsteczka badanego tripeptydu. Napisz wzór tripeptydu w postaci  $\text{Gly}_x\text{Ala}_y$ . Przyjmij masę molową chlorku srebra  $M_{\text{AgCl}} = 143,5 \text{ g} \cdot \text{mol}^{-1}$ .**

Obliczenia:

Wzór tripeptydu: .....

**Zadanie 35. (0–1)**

W wyniku kondensacji z jednej cząsteczki cysteiny (Cys) i dwóch cząsteczek leucyny (Leu) mogą powstać różne tripeptydy.

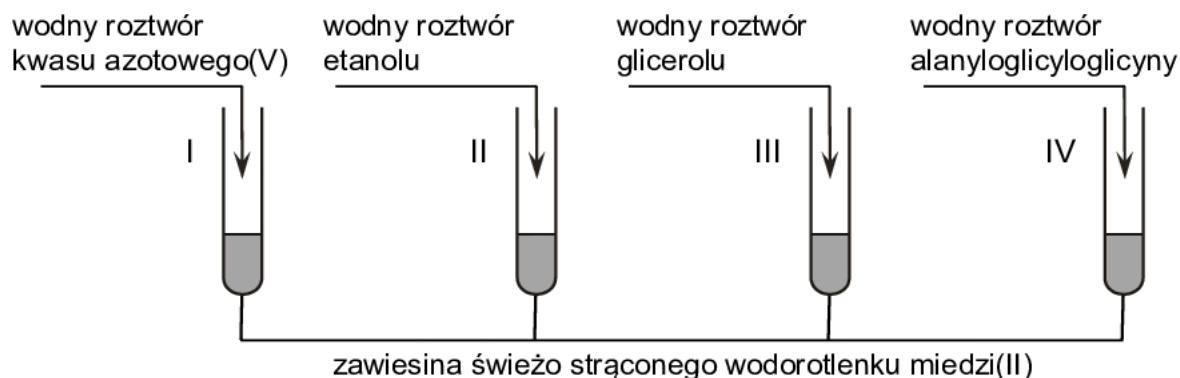
**Napisz wszystkie możliwe sekwencje aminokwasów w tripeptydach o budowie liniowej – zastosuj trzyliterowe kody aminokwasów.**

Sekwencje aminokwasów w tripeptydach:

.....

**Zadanie 36. (0–2)**

Do czterech probówek zawierających niebieską zalkalizowaną zawiesinę świeżo strąconego wodorotlenku miedzi(II) wprowadzono bezbarwne wodne roztwory czterech różnych związków – do każdej probówki roztwór innej substancji. Zawartość każdej probówki wymieszano. Przebieg doświadczenia zilustrowano na poniższym rysunku.



Rozstrzygnij, czy zmiany zaobserwowane podczas doświadczenia umożliwiają potwierdzenie, że do danej probówki wprowadzono roztwór wskazany na rysunku. Odpowiedź uzasadnij. W uzasadnieniu opisz możliwe do zaobserwowania zmiany zawartości probówek, uwzględnij rodzaj (roztwór, zawiesina) oraz barwę mieszaniny otrzymanej po dodaniu roztworu danej substancji do każdej probówki.

Rozstrzygnięcie: .....

Uzasadnienie:

Probówka I: .....

Probówka II: .....

Probówka III: .....

Probówka IV: .....

Wypełnia egzaminator	Nr zadania	34.	35.	36.
	Maks. liczba pkt	2	1	2
	Uzyskana liczba pkt			

**BRUDNOPIS (*nie podlega ocenie*)**







