

**Egzamin maturalny  
maj 2009**

**CHEMIA  
POZIOM PODSTAWOWY**

**KLUCZ PUNKTOWANIA  
ODPOWIEDZI**



**Zadanie 1.**

a)

Korzystanie z informacji	Wyszukanie w tekście informacji potrzebnych do określenia składu elementarnego izotopu i symbolu pierwiastka.	0–1
--------------------------	---	-----

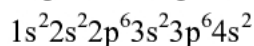
Zdający otrzymuje 1 punkt za przedstawienie symbolu opisanego izotopu w postaci  ${}^A_Z\text{E}$ .

Poprawna odpowiedź:

b)

Wiadomości i rozumienie	Zapisanie konfiguracji elektronowej atomu pierwiastka.	0–1
-------------------------	--	-----

Zdający otrzymuje 1 punkt za zapisanie konfiguracji elektronowej atomu wapnia w stanie podstawowym.

Poprawna odpowiedź:**Zadanie 2.**

Korzystanie z informacji	Uzupełnienie brakujących danych na podstawie schematu przemiany promieniotwórczej.	0–1
--------------------------	--	-----

Zdający otrzymuje 1 punkt za opisanie produktu przemiany promieniotwórczej – podanie liczby atomowej, liczby masowej i symbolu pierwiastka.

Poprawna odpowiedź:Liczba atomowa  $Z = 86$ Liczba masowa  $A = 222$ 

Symbol pierwiastka: Rn

**Zadanie 3.**

Wiadomości i rozumienie	Określenie rodzaju wiązania na podstawie różnicy elektroujemności łączących się pierwiastków.	0–2
-------------------------	---	-----

Zdający otrzymuje 2 punkty, jeśli poprawnie określił rodzaje wiązań w trzech substancjach.

Zdający otrzymuje 1 punkt, jeśli poprawnie określił rodzaje wiązań w dwóch substancjach.

Zdający otrzymuje 0 punktów, jeśli poprawnie określił rodzaj wiązania w jednej substancji.

Poprawne odpowiedzi:CaBr<sub>2</sub> – wiązanie jonoweBr<sub>2</sub> – wiązanie kowalencyjne

HBr – wiązanie kowalencyjne spolaryzowane

**Zadanie 4.**

Wiadomości i rozumienie	Określenie typowych właściwości fizykochemicznych substancji na podstawie charakteru występujących w nich wiązań.	0–1
-------------------------	---	-----

Zdający otrzymuje 1 punkt za wybór właściwości charakterystycznych dla chlorku sodu i zapisanie liter oznaczających te właściwości.

Poprawna odpowiedź:

Właściwości: a, c, d, f

**Zadanie 5.**

Wiadomości i rozumienie	Rozpoznanie pierwiastków na podstawie opisu ich właściwości fizycznych i chemicznych oraz typowych zastosowań.	0–1
-------------------------	--	-----

Zdający otrzymuje 1 punkt za przyporządkowanie wymienionym pierwiastkom ich charakterystyk.

Poprawna odpowiedź:

chlor      magnez      fosfor

**Zadanie 6.**

Wiadomości i rozumienie	Rozpoznanie związków tworzących z wodą roztwory o odczynie kwasowym.	0–1
-------------------------	--	-----

Zdający otrzymuje 1 punkt za wskazanie zbioru zawierającego wzory związków, które po rozpuszczeniu w wodzie lub w reakcji z wodą tworzą kwasy.

Poprawna odpowiedź:

C. ( $\text{HCl}_{(\text{gaz})}$ ,  $\text{SO}_2$ ,  $\text{SO}_3$ )

**Zadanie 7.**

Tworzenie informacji	Sformułowanie wniosku na podstawie wyników doświadczenia zapisanych w formie równań reakcji.	0–1
----------------------	--	-----

Zdający otrzymuje 1 punkt za uszeregowanie niemetalu pod względem aktywności od najmniejszej do największej.

Poprawna odpowiedź:

jod, brom, chlor



**Zadanie 8.**

a)

Korzystanie z informacji	Wyszukanie w podanym tekście informacji o aktywności chemicznej poszczególnych litowców.	0–1
--------------------------	--	-----

Zdający otrzymuje 1 punkt za uszeregowanie metali pod względem aktywności od najmniejszej do największej.

Poprawna odpowiedź:

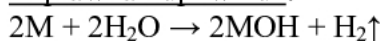
lit, sód, potas, rubid, cez

b)

Wiadomości i rozumienie	Zapisanie równania reakcji ilustrującego metodę otrzymywania zasad.	0–1
-------------------------	---	-----

Zdający otrzymuje 1 punkt, jeśli napisał równanie reakcji litowca z wodą, stosując ogólny symbol metalu M.

Poprawna odpowiedź:

**Zadanie 9.**

Tworzenie informacji	Uogólnienie i sformułowanie wniosków dotyczących zmian aktywności metali i niemetali.	0–1
----------------------	---	-----

Zdający otrzymuje 1 punkt za uzupełnienie dwóch zdań.

Poprawna odpowiedź:

Ze wzrostem liczby atomowej aktywność niemetali maleje.

Ze wzrostem liczby atomowej aktywność metali wzrasta.

**Zadanie 10.**

a)

Korzystanie z informacji	Określenie położenia metali (Zn i Cu) w szeregu aktywności na podstawie informacji o zachowaniu tych metali wobec kwasu.	0–1
--------------------------	--	-----

Zdający otrzymuje 1 punkt za uzupełnienie szeregu aktywności metali.

Poprawna odpowiedź:

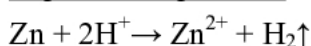
Na, Mg, Al, Zn, Fe, Sn, Pb, H<sub>2</sub>, Cu, Ag, Au

b)

Wiadomości i rozumienie	Zapisanie równania reakcji ilustrującego typowe zachowanie metali wobec kwasów (wypieranie wodoru).	0–1
-------------------------	---	-----

Zdający otrzymuje 1 punkt za napisanie w formie jonowej skróconej równania reakcji cynku z kwasem.

Poprawna odpowiedź:



**Zadanie 11.**

Wiadomości i rozumienie	Wybór odpowiednich substratów i zapisanie równań typowych reakcji otrzymywania soli – chlorku wapnia.	0–3
-------------------------	---	-----

Zdający otrzymuje po 1 punkcie za napisanie każdego równania reakcji – trzech z czterech możliwych.

Przykłady poprawnych odpowiedzi:

- $\text{Ca} + \text{Cl}_2 \rightarrow \text{CaCl}_2$
- $\text{Ca} + 2\text{HCl} \rightarrow \text{CaCl}_2 + \text{H}_2\uparrow$
- $\text{Ca}(\text{OH})_2 + 2\text{HCl} \rightarrow \text{CaCl}_2 + 2\text{H}_2\text{O}$
- $\text{CaO} + 2\text{HCl} \rightarrow \text{CaCl}_2 + \text{H}_2\text{O}$

**Zadanie 12.**

Wiadomości i rozumienie	Rozpoznanie elektrolitów mocnych i słabych.	0–1
-------------------------	---	-----

Zdający otrzymuje 1 punkt za wskazanie zbioru zawierającego wyłącznie wzory mocnych elektrolitów.

Poprawna odpowiedź:

D. ( $\text{NaCl}$ ,  $\text{Fe}_2(\text{SO}_4)_3$ ,  $\text{HNO}_3$ )

**Zadanie 13.**

Wiadomości i rozumienie	Zakwalifikowanie przemian chemicznych ze względu na ich efekt energetyczny.	0–1
-------------------------	---	-----

Zdający otrzymuje 1 punkt za zakwalifikowanie procesów – na podstawie ich opisów – do egzotermicznych lub endotermicznych.

Poprawna odpowiedź:

Reakcja 1 – egzotermiczna

Reakcja 2 – endotermiczna

Reakcja 3 – egzotermiczna

**Zadanie 14.**

Wiadomości i rozumienie	Jakościowe określenie wpływu stężenia kwasu i rozdrobnienia metalu na szybkość reakcji cynku z kwasem solnym.	0–1
-------------------------	---	-----

Zdający otrzymuje 1 punkt za przyporządkowanie procesom zachodzącym w probówkach (I – III) czasów przebiegu reakcji.

Poprawna odpowiedź:

Probówka	Czas
I	$t_1$
II	$t_3$
III	$t_2$

**Zadanie 15.**

Korzystanie z informacji	Dokonanie selekcji i analizy informacji dotyczących rozpuszczalności wybranych soli w wodzie w różnych temperaturach.	0–1
--------------------------	---	-----

Zdający otrzymuje 1 punkt za uzupełnienie dwóch zdań.

Poprawna odpowiedź:

- Do 100 g wody w temperaturze 333 K dodano 44,7 g  $\text{Na}_2\text{SO}_4$  i otrzymano roztwór nasycony, po czym roztwór ten został schłodzony do 313 K i powstał roztwór nienasycony.
- W przedziale temperatur 313 K – 353 K ze wzrostem temperatury najbardziej wzrasta rozpuszczalność  $\text{NaNO}_3$ .

**Zadanie 16.**

Tworzenie informacji	Porównanie i interpretacja danych dotyczących rozpuszczalności wybranych soli w wodzie w różnych temperaturach.	0–2
----------------------	---	-----

Zdający otrzymuje po 1 punkcie za uzupełnienie każdego ze zdań odpowiednimi wartościami masy soli.

Poprawne odpowiedzi:

- W 50 g wody w temperaturze 353 K można maksymalnie rozpuścić 18,95 g  $\text{NaCl}$ .
- Do zlewki, w której znajdowało się 140 g  $\text{NaNO}_3$  dodano 100 g wody. Zlewkę ogrzano do 333 K, a jej zawartość wymieszano. Na dnie naczynia pozostało 16,3 g soli.

**Zadanie 17.**

a)

Korzystanie z informacji	Sformułowanie spostrzeżeń, jakich można dokonać w czasie doświadczenia przedstawionego w formie schematu.	0–1
--------------------------	---	-----

Zdający otrzymuje 1 punkt za opisanie zmiany barwy, jaką zaobserwowano w probówce I podczas reakcji tlenku sodu z wodą wobec fenoloftaleiny.

Poprawna odpowiedź:

Barwa roztworu przed reakcją	Barwa roztworu po reakcji
brak barwy	malinowa

b)

Korzystanie z informacji	Sformułowanie spostrzeżeń, jakich można dokonać w czasie doświadczenia przedstawionego w formie schematu.	0–1
--------------------------	---	-----

Zdający otrzymuje 1 punkt za opisanie zmian, jakie zaobserwowano w probówce III podczas reakcji roztworu siarczanu(VI) miedzi(II) z roztworem wodorotlenku potasu.

Poprawna odpowiedź:

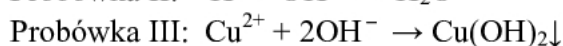
Wytrącił się niebieski, galaretowaty osad lub pojawiło się zmętnienie.

**Zadanie 18.**

Wiadomości i rozumienie	Zapisanie równań reakcji chemicznych na podstawie schematów ilustrujących przebieg doświadczenia.	0–2
-------------------------	---	-----

Zdający otrzymuje po 1 punkcie za zapisanie w formie jonowej skróconej każdego równania reakcji.

Poprawne odpowiedzi:

**Zadanie 19.**

Korzystanie z informacji	Określenie odczynu roztworów na podstawie analizy schematów przedstawiających przebieg doświadczenia.	0–1
--------------------------	---	-----

Zdający otrzymuje 1 punkt za określenie odczynu roztworów.

Poprawna odpowiedź:

Odczyn roztworu w probówce I: zasadowy

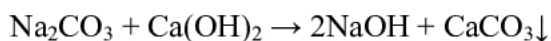
Odczyn roztworu w probówce II: obojętny

**Zadanie 20.**

Wiadomości i rozumienie	Zapisanie równania reakcji chemicznej na podstawie słownego opisu przemiany.	0–1
-------------------------	--	-----

Zdający otrzymuje 1 punkt za napisanie w formie cząsteczkowej równania opisanej reakcji.

Poprawna odpowiedź:



Korzystanie z informacji	Odczytanie informacji z tablicy rozpuszczalności.	0–1
--------------------------	---	-----

Zdający otrzymuje 1 punkt za wyjaśnienie możliwości rozdzielenia otrzymanej mieszaniny.

Poprawna odpowiedź:

Powstaje nierozpuszczalny w wodzie  $\text{CaCO}_3$  i można go oddzielić od roztworu  $\text{NaOH}$  poprzez sączenie lub dekantację.

**Zadanie 21.**

Wiadomości i rozumienie	Wykazanie się znajomością i rozumieniem pojęć: utleniacz, reduktor, utlenianie, redukcja.	0–1
-------------------------	---	-----

Zdający otrzymuje 1 punkt za wskazanie właściwego zakończenia zdania na podstawie analizy równania reakcji utleniania-redukcji.

Poprawna odpowiedź:

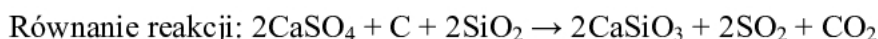
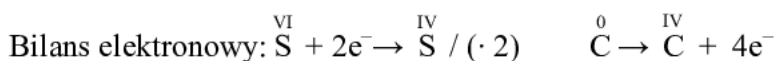
B. (węgiel jest reduktorem)

**Zadanie 22.**

Wiadomości i rozumienie	Zastosowanie zasady bilansu elektronowego do uzgodnienia równania reakcji.	0–2
-------------------------	--	-----

Zdający otrzymuje 1 punkt za przedstawienie bilansu elektronowego i 1 punkt za napisanie równania reakcji.

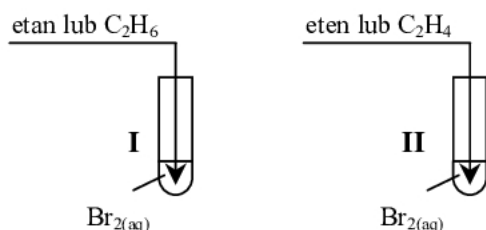
Poprawne odpowiedzi:

**Zadanie 23.**

Korzystanie z informacji	Rozpoznanie badanych gazów i uzupełnienie schematu doświadczenia na podstawie tekstu o tematyce chemicznej.	0–1
--------------------------	---	-----

Zdający otrzymuje 1 punkt za uzupełnienie schematu.

Poprawna odpowiedź:

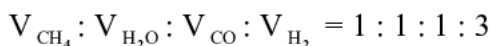
**Zadanie 24.**

a)

Wiadomości i rozumienie	Dokonanie interpretacji ilościowej równania reakcji w ujęciu objętościowym (dla reakcji przebiegających w fazie gazowej).	0–1
-------------------------	---	-----

Zdający otrzymuje 1 punkt za podanie stosunku objętościowego reagentów reakcji I.

Poprawna odpowiedź:

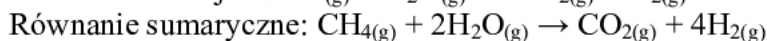
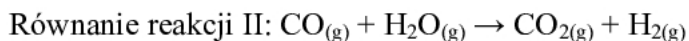


b)

Wiadomości i rozumienie	Zapisanie równań reakcji chemicznych na podstawie słownego opisu przemian.	0–2
-------------------------	--	-----

Zdający otrzymuje 1 punkt za zapisanie równania reakcji II na podstawie opisu słownego oraz 1 punkt za zapisanie sumarycznego równania reakcji obu etapów.

Poprawne odpowiedzi:



**Zadanie 25.**

a)

Wiadomości i rozumienie	Uzupełnienie równań reakcji przez dobranie brakujących substratów lub produktów.	0–1
-------------------------	--	-----

Zdający otrzymuje 1 punkt za identyfikację i podanie wzorów związków A i B.

Poprawna odpowiedź:

A:  $\text{CH}_2\text{Cl} - \text{CH}_2\text{Cl}$

B:  $\text{HCl}$

b)

Wiadomości i rozumienie	Zaklasyfikowanie reakcji przebiegających z udziałem substancji organicznych do określonego typu reakcji.	0–1
-------------------------	--	-----

Zdający otrzymuje 1 punkt za określenie typów reakcji zilustrowanych schematem.

Poprawna odpowiedź:

Typ reakcji I: reakcja addycji

Typ reakcji II: reakcja eliminacji

**Zadanie 26.**

Korzystanie z informacji	Wykonanie obliczeń stechiometrycznych na podstawie równania reakcji.	0–2
--------------------------	--	-----

Zdający otrzymuje 2 punkty, jeśli w rozwiązaniu zadania zastosował właściwą metodę (wynikającą ze stechiometrii równania reakcji zależność między danymi a szukaną) oraz wykonał obliczenia i podał wynik liczbowy z jednostką.

Zdający otrzymuje 1 punkt, jeśli zastosował poprawną metodę rozwiązania, ale popełnił błąd rachunkowy lub dokonał niewłaściwego zaokrąglenia wyniku, lub pominął jednostkę przy ostatecznym wyniku liczbowym, lub podał błędną jednostkę przy ostatecznym wyniku liczbowym.

Zdający otrzymuje 0 punktów, jeśli zastosował niepoprawną metodę rozwiązania.

Poprawne rozwiązanie:

$$M_{\text{etanal}} = 44 \text{ g} \cdot \text{mol}^{-1}$$

$$\text{Zależność wynikająca ze stechiometrii równania reakcji: } \frac{44 \text{ g}}{22,4 \text{ dm}^3} = \frac{77,0 \text{ g}}{x}$$

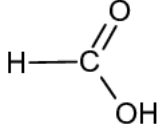
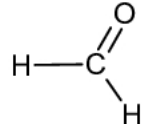
$$\text{Obliczenie objętości amoniaku: } V_{\text{amoniaku}} = x = \frac{77,0 \text{ g} \cdot 22,4 \text{ dm}^3}{44 \text{ g}} = 39,2 \text{ dm}^3$$

**Zadanie 27.**

Tworzenie informacji	Zaklasyfikowanie substancji na podstawie opisu ich właściwości fizykochemicznych.	0–2
----------------------	---	-----

Zdający otrzymuje po 1 punkcie za rozpoznanie każdego z opisanych związków i podanie jego wzoru strukturalnego.

Poprawne odpowiedzi:

Związek A	Związek B
	

**Zadanie 28.**

Korzystanie z informacji	Uzupełnienie brakujących danych na podstawie schematu procesu otrzymywania etanolu z węgliku wapnia.	0–2
--------------------------	--	-----

Zdający otrzymuje 2 punkty, jeśli podał wzory półstrukturalne (grupowe) trzech substancji.  
Zdający otrzymuje 1 punkt, jeśli poprawnie zapisał wzory dwóch substancji.  
Za zapisanie wzoru jednej substancji zdający otrzymuje 0 punktów.

Poprawne odpowiedzi:

A CH $\equiv$ CH	B CH <sub>2</sub> = CH <sub>2</sub>	C CH <sub>3</sub> – CH <sub>2</sub> – OH
---------------------	--	---

**Zadanie 29.**

Korzystanie z informacji	Wykonanie obliczeń związanych ze stężeniem molowym roztworu.	0–2
--------------------------	--	-----

Zdający otrzymuje 2 punkty, jeśli w rozwiązaniu zadania zastosował właściwą metodę (wynikającą z definicji stężenia molowego zależność między danymi a szukaną) oraz wykonał obliczenia i podał wynik liczbowy z jednostką.

Zdający otrzymuje 1 punkt, jeśli zastosował poprawną metodę rozwiązania, ale popełnił błąd rachunkowy lub dokonał niewłaściwego zaokrąglenia wyniku, lub pominął jednostkę przy ostatecznym wyniku liczbowym, lub podał błędną jednostkę przy ostatecznym wyniku liczbowym.

Zdający otrzymuje 0 punktów, jeśli zastosował niepoprawną metodę rozwiązania.

Poprawne rozwiązanie:

$$M_{\text{glicyny}} = 75 \text{ g} \cdot \text{mol}^{-1}$$

Wyrażenie masy glicyny za pomocą stężenia molowego i objętości roztworu oraz masy molowej glicyny:

$$m_{\text{glicyny}} = n_{\text{glicyny}} \cdot M = c_m \cdot V_r \cdot M$$

Obliczenie masy glicyny:

$$m_{\text{glicyny}} = 0,50 \text{ mol} \cdot \text{dm}^{-3} \cdot 0,10 \text{ dm}^3 \cdot 75 \text{ g} \cdot \text{mol}^{-1} = 3,75 \text{ g}$$

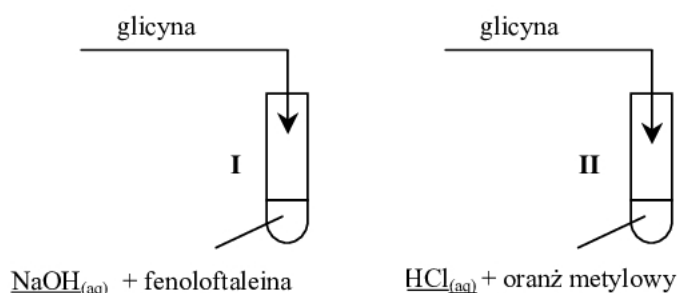
**Zadanie 30.**

a)

Tworzenie informacji	Zaprojektowanie doświadczenia – wybór odczynników umożliwiających wykazanie charakteru chemicznego grup funkcyjnych glicyny.	0–1
----------------------	--	-----

Zdający otrzymuje 1 punkt za wybór odczynników i uzupełnienie schematu doświadczenia.

Poprawna odpowiedź:



b)

Tworzenie informacji	Sformułowanie spostrzeżeń, jakich można dokonać w czasie doświadczenia przedstawionego w formie schematu.	0–1
----------------------	---	-----

Zdający otrzymuje 1 punkt za wymienienie obserwacji umożliwiających określenie charakteru grup funkcyjnych.

Poprawna odpowiedź:

Probówka I: Malinowy roztwór odbarwia się.

Probówka II: Roztwór zmienia barwę z czerwonej na żółtopomarańczową.

Zdający otrzymuje punkt za opis spostrzeżeń pod warunkiem udzielenia poprawnej odpowiedzi w części a) zadania.

c)

Tworzenie informacji	Sformułowanie wniosku dotyczącego charakteru chemicznego grup funkcyjnych glicyny.	0–1
----------------------	--	-----

Zdający otrzymuje 1 punkt za określenie charakteru grup funkcyjnych i uzupełnienie zdań.

Poprawna odpowiedź:

W probówce I potwierdzono obecność grupy o charakterze kwasowym.

W probówce II potwierdzono obecność grupy o charakterze zasadowym.

Zdający otrzymuje punkt za określenie charakteru chemicznego grup funkcyjnych pod warunkiem udzielenia poprawnej odpowiedzi w części a) zadania.



**Egzamin maturalny  
maj 2009**

**CHEMIA**  
**POZIOM ROZSZERZONY**

**KLUCZ PUNKTOWANIA**  
**ODPOWIEDZI**



**Zadanie 1.**

a)

Wiadomości i rozumienie	Opisanie stanu kwantowo-mechanicznego elektronów za pomocą liczb kwantowych.	0–1
-------------------------	--	-----

Zdający otrzymuje 1 punkt za wpisanie do tabeli wartości trzech liczb kwantowych opisujących stan kwantowo-mechaniczny elektronów ( $4p^3$ ).

Poprawna odpowiedź:

Liczby kwantowe	Główna liczba kwantowa [n]	Poboczna liczba kwantowa [l]	Magnetyczna liczba kwantowa [m]		
Wartości liczb kwantowych	4	1	-1	0	1

b)

Korzystanie z informacji	Uzupełnienie brakujących danych na podstawie tekstu o tematyce chemicznej.	0–1
--------------------------	--	-----

Zdający otrzymuje 1 punkt za identyfikację pierwiastka i podanie jego symbolu oraz za zapisanie w formie skróconej konfiguracji elektronowej jego atomu w stanie podstawowym.

Poprawna odpowiedź:

Symbol pierwiastka: As

Konfiguracja elektronowa:  $[\text{Ar}] 4s^2 3d^{10} 4p^3$  lub  $[\text{Ar}] 3d^{10} 4s^2 4p^3$ **Zadanie 2.**

Korzystanie z informacji	Obliczenie masy izotopu promieniotwórczego po określonym czasie na podstawie jego okresu półtrwania.	0–2
--------------------------	--	-----

Zdający otrzymuje 2 punkty, jeśli w rozwiązaniu zadania zastosował właściwą metodę (uwzględniającą początkową zawartość izotopu promieniotwórczego w próbce oraz zmianę masy izotopu promieniotwórczego w czasie zależność między danymi a szukaną) oraz wykonał obliczenia i podał wynik z jednostką.

Zdający otrzymuje 1 punkt, jeśli zastosował poprawną metodę rozwiązania, ale popełnił błąd rachunkowy lub dokonał niewłaściwego zaokrąglenia wyniku, lub pominął jednostkę przy ostatecznym wyniku liczbowym, lub podał błędną jednostkę przy ostatecznym wyniku liczbowym.

Zdający otrzymuje 0 punktów, jeśli zastosował niepoprawną metodę rozwiązania.

Poprawne rozwiązanie:Masa izotopu promieniotwórczego w próbce =  $20 \text{ g} \cdot 0,1 = 2 \text{ g}$ 15,9 lat to  $3 \tau_{1/2}$ Masa izotopu promieniotwórczego po  $3\tau_{1/2} = \frac{2 \text{ g}}{2^3} = 0,25 \text{ g}$ Całkowita masa kobaltu zawartego w próbce:  $20 \text{ g} - 2 \text{ g} + 0,25 \text{ g} = 18,25 \text{ g}$

**Zadanie 3.**

Korzystanie z informacji	Uzupełnienie brakujących danych na podstawie równania reakcji chemicznej.	0–1
--------------------------	---	-----

Zdający otrzymuje 1 punkt, jeśli uzupełnił tabelę, podając liczby moli i masy reagentów.

Poprawna odpowiedź:

	SiO <sub>2</sub>	Mg	Si	MgO
Liczba moli, mol	<u>0,5</u>	1	<u>0,5</u>	<u>1</u>
Masa, g	30	<u>24</u>	<u>14</u>	<u>40</u>

**Zadanie 4.**

Wiadomości i rozumienie	Opisanie zachowania tlenków wybranych pierwiastków wobec wody, kwasów i zasad.	0–2
-------------------------	--	-----

Zdający otrzymuje 2 punkty za uzupełnienie wzorami tlenków trzech kolumn tabeli.

Zdający otrzymuje 1 punkt, jeśli uzupełnił dwie kolumny tabeli.

Zdający otrzymuje 0 punktów za wypełnienie jednej kolumny lub częściowe wypełnienie wszystkich kolumn.

Poprawna odpowiedź:

Tlenki reagujące z		
mocnymi kwasami	wodą	mocnymi zasadami
Na <sub>2</sub> O, ZnO	Na <sub>2</sub> O, P <sub>4</sub> O <sub>10</sub> , SO <sub>3</sub>	P <sub>4</sub> O <sub>10</sub> , ZnO, SO <sub>3</sub>

**Zadanie 5.**

Wiadomości i rozumienie	Określenie roli siarkowodoru i amoniaku w roztworach wodnych według teorii Brönsteda i zilustrowanie właściwości tych substancji równaniami reakcji z wodą.	0–2
-------------------------	---	-----

Zdający otrzymuje po 1 punkcie za określenie roli każdego gazu i zapisanie równania reakcji tego związku z wodą.

Poprawne odpowiedzi:

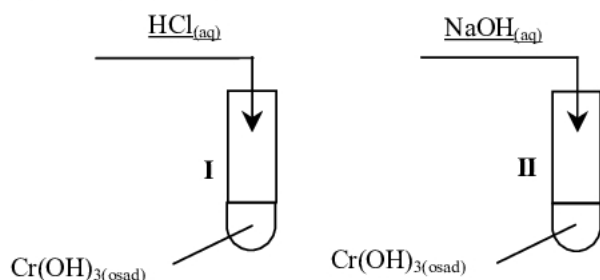
Wzór związku	Rola związku	Równanie reakcji
H <sub>2</sub> S	kwas	$\text{H}_2\text{S} + \text{H}_2\text{O} \rightleftharpoons \text{HS}^- + \text{H}_3\text{O}^+$
NH <sub>3</sub>	zasada	$\text{NH}_3 + \text{H}_2\text{O} \rightleftharpoons \text{NH}_4^+ + \text{OH}^-$

**Zadanie 6.****a)**

Tworzenie informacji	Zaprojektowanie doświadczenia – wybór odczynników umożliwiających wykazanie charakteru chemicznego wodorotlenku chromu(III).	0–1
----------------------	--	-----

Zdający otrzymuje 1 punkt za wybór odczynników i uzupełnienie schematu doświadczenia.

Poprawna odpowiedź:

**b)**

Tworzenie informacji	Sformułowanie spostrzeżeń, jakich można dokonać w czasie doświadczenia przedstawionego w formie schematu.	0–1
----------------------	---	-----

Zdający otrzymuje 1 punkt za zapisanie spostrzeżeń, które umożliwią wykazanie amfoterycznego charakteru wodorotlenku chromu(III).

Przykłady poprawnej odpowiedzi:

- W obu probówkach osad wodorotlenku chromu(III) rozpuścił się.
- W obu probówkach powstały klarowne roztwory.

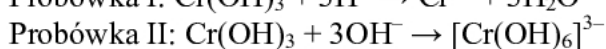
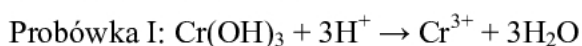
Zdający otrzymuje punkt za opis spostrzeżeń pod warunkiem udzielenia poprawnej odpowiedzi w części a) zadania.

**c)**

Wiadomości i rozumienie	Zapisanie równań reakcji świadczących o amfoterycznym charakterze wodorotlenku chromu(III) z uwzględnieniem tworzenia hydroksokompleksu.	0–2
-------------------------	--	-----

Zdający otrzymuje po 1 punkcie za zapisanie w formie jonowej skróconej równania reakcji wodorotlenku chromu(III) z kwasem solnym i równania reakcji wodorotlenku chromu(III) z roztworem wodorotlenku sodu.

Poprawne odpowiedzi:



Zdający otrzymuje punkty, jeśli kolejność równań reakcji odpowiada kolejności wpisanych odczynników w schemacie doświadczenia.

**Zadanie 7.**

Tworzenie informacji	Dokonanie uogólnienia i sformułowanie wniosku.	0–1
----------------------	--	-----

Zdający otrzymuje 1 punkt, jeśli określił zależność pomiędzy wartościami stopni utlenienia chromu i manganu w tlenkach a charakterem chemicznym tlenków tych pierwiastków.

Przykłady poprawnej odpowiedzi:

- Wraz ze wzrostem stopnia utlenienia chromu i manganu charakter chemiczny tlenków zmienia się z zasadowego poprzez amfoteryczny na kwasowy.
- Wraz ze wzrostem stopnia utlenienia tych pierwiastków wzrasta charakter kwasowy ich tlenków.

**Zadanie 8.**

Korzystanie z informacji	Zastosowanie prawa Hessa do obliczenia efektów energetycznych przemian.	0–2
--------------------------	---	-----

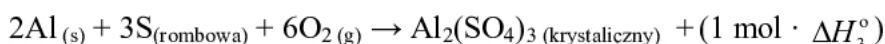

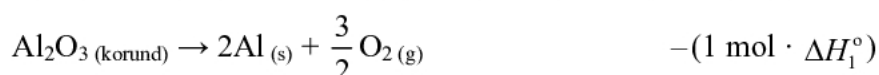
Zdający otrzymuje 2 punkty, jeśli w rozwiązaniu zadania zastosował właściwą metodę (wynikającą z prawa Hessa zależność pomiędzy danymi a szukaną) oraz wykonał obliczenia i podał wynik z jednostką.

Zdający otrzymuje 1 punkt, jeśli zastosował poprawną metodę rozwiązania, ale popełnił błąd rachunkowy lub dokonał niewłaściwego zaokrąglenia wyniku, lub pominął jednostkę przy ostatecznym wyniku liczbowym, lub podał błędną jednostkę przy ostatecznym wyniku liczbowym.

Zdający otrzymuje 0 punktów, jeśli zastosował niepoprawną metodę rozwiązania.

Poprawne rozwiązanie:

Wyrażenie standardowej entalpii reakcji  $\Delta H^\circ$  za pomocą standardowych entalpii tworzenia:



$$\Delta H^\circ = \Delta H_3^\circ - \Delta H_1^\circ - 3\Delta H_2^\circ$$

Obliczenie entalpii reakcji:

$$\Delta H^\circ = (-3437,4 + 1671 + 1186,5) \text{ kJ} = -579,9 \text{ kJ}$$

**Zadanie 9.**

Tworzenie informacji	Określenie wpływu zmiany stężenia reagenta oraz ogrzania układu będącego w stanie równowagi na wydajność reakcji.	0–1
----------------------	---	-----

Zdający otrzymuje 1 punkt, jeśli uzupełnił zdania, określając wpływ dwóch czynników na wydajność reakcji tworzenia  $\text{SO}_2$ .

Poprawna odpowiedź:

- Wydajność reakcji zmaleje.
- Wydajność reakcji wzrośnie.

**Zadanie 10.**

Tworzenie informacji	Wyjaśnienie wpływu stężenia roztworu kwasu azotowego(V) na rodzaj produktów reakcji tego kwasu z miedzią.	0–2
----------------------	---	-----

Zdający otrzymuje 2 punkty za uzupełnienie obu zdań – 1 punkt za identyfikację roztworów A i B oraz 1 punkt za identyfikację tlenków azotu.

Poprawne odpowiedzi:

Roztwór A to stężony kwas azotowy(V), a roztwór B to rozcieńczony kwas azotowy(V). Czerwonobrunatnym gazem, który powstał w probówce I, jest tlenek azotu o wzorze NO<sub>2</sub>. W probówce II powstał bezbarwny tlenek o wzorze NO.

**Zadanie 11.**

Korzystanie z informacji	Sformułowanie spostrzeżeń, jakich można dokonać w czasie opisanego doświadczenia.	0–2
--------------------------	---	-----

Zdający otrzymuje po 1 punkcie za napisanie, co zaobserwowano w każdym etapie doświadczenia.

Poprawne odpowiedzi:

Etap 1: Wytrąca się jasnozielony osad.

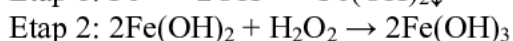
Etap 2: Osad zmienia zabarwienie na czerwonobrunatne lub osad ciemnieje.

**Zadanie 12.**

Wiadomości i rozumienie	Zapisanie równań reakcji na podstawie słownego opisu doświadczenia.	0–2
-------------------------	---	-----

Zdający otrzymuje po 1 punkcie za napisanie każdego z równań ilustrujących reakcje, które zachodzą podczas opisanego doświadczenia.

Poprawne odpowiedzi:

**Zadanie 13.**

Korzystanie z informacji	Wykonanie obliczeń dotyczących zateżenia roztworów.	0–2
--------------------------	---	-----

Zdający otrzymuje 2 punkty, jeśli w rozwiązaniu zadania zastosował właściwą metodę (wynikającą z definicji stężenia procentowego zależność pomiędzy danymi a szukaną) oraz wykonał obliczenia i podał wynik w procentach masowych.

Zdający otrzymuje 1 punkt, jeśli zastosował poprawną metodę rozwiązania, ale popełnił błąd rachunkowy lub dokonał niewłaściwego zaokrąglenia wyniku, lub pominął jednostkę przy ostatecznym wyniku liczbowym, lub podał błędną jednostkę przy ostatecznym wyniku liczbowym.

Zdający otrzymuje 0 punktów, jeśli zastosował niepoprawną metodę rozwiązania.

Poprawne rozwiązanie:

$$\text{Masa NaCl w 400 g roztworu 20\%} = \frac{400 \text{ g} \cdot 20\%}{100\%} = 80 \text{ g}$$

$$\text{Masa roztworu I} = 400 \text{ g} - 22 \text{ g} = 378 \text{ g}$$

$$\text{Masa NaCl w roztworze I} = 80 \text{ g} - 22 \text{ g} = 58 \text{ g}$$

$$\text{Obliczenie stężenia roztworu I: } c_p = \frac{58 \text{ g}}{378 \text{ g}} \cdot 100\% = 15,34\%$$

**Zadanie 14.**

Korzystanie z informacji	Zanalizowanie schematów doświadczeń przedstawiających badanie zachowania metali w roztworach soli.	0–1
--------------------------	--	-----

Zdający otrzymuje 1 punkt za wybór i zapisanie numerów probówek, w których zaobserwowano objawy reakcji.

Poprawna odpowiedź:

Probówki: I, III i IV

**Zadanie 15.**

a)

Korzystanie z informacji	Zaprojektowanie reakcji strącania osadu na podstawie danych zawartych w tablicy rozpuszczalności.	0–1
--------------------------	---	-----

Zdający otrzymuje 1 punkt za wybór odczynnika umożliwiającego usunięcie jonów  $\text{Ba}^{2+}$  z roztworu oraz za uzasadnienie tego wyboru.

Przykłady poprawnej odpowiedzi:

Odczynnik:  $\text{Na}_2\text{SO}_4$

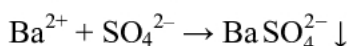
Uzasadnienie:

- Jony siarczanowe(VI) powstałe w wyniku dysocjacji  $\text{Na}_2\text{SO}_4$  tworzą nierozpuszczalny osad wyłącznie z jonami  $\text{Ba}^{2+}$ .
- Aniony pozostałych soli tworzą nierozpuszczalne osady zarówno z jonami  $\text{Ba}^{2+}$ , jak i  $\text{Mg}^{2+}$ .

b)

Wiadomości i rozumienie	Ilustrowanie przebiegu reakcji wytrącania osadu za pomocą równania reakcji.	0–1
-------------------------	---	-----

Zdający otrzymuje 1 punkt za zapisanie w formie jonowej skróconej równania reakcji wytrącania siarczanu(VI) baru.

Poprawna odpowiedź:



**Zadanie 16.**

Korzystanie z informacji	Obliczenie pH wodnego roztworu słabego kwasu.	0–2
--------------------------	---	-----

Zdający otrzymuje 2 punkty, jeśli w rozwiązaniu zadania zastosował właściwą metodę (wynikającą z definicji stopnia dysocjacji oraz pH zależność pomiędzy danymi a szukaną) oraz wykonał obliczenia i podał wynik.

Zdający otrzymuje 1 punkt, jeśli zastosował poprawną metodę rozwiązania, ale popełnił błąd rachunkowy.

Zdający otrzymuje 0 punktów, jeśli zastosował niepoprawną metodę rozwiązania.

Poprawne rozwiązanie:

Zależność pH roztworu od stężenia kwasu i stopnia dysocjacji:

$$c_{\text{H}^+} = c_0 \cdot \alpha$$

$$\text{pH} = -\log c_{\text{H}^+} = -\log c_0 \cdot \alpha$$

Obliczenie pH:

$$\alpha = 5\% = 0,05 \quad \text{pH} = -\log 0,2 \cdot 0,05 = -\log 10^{-2} = 2$$

**Zadanie 17.**

Korzystanie z informacji	Przewidywanie odczynu wodnych roztworów soli.	0–1
--------------------------	---	-----

Zdający otrzymuje 1 punkt za określenie odczynów trzech wodnych roztworów soli.

Poprawna odpowiedź:

Probówka I (NaNO<sub>2</sub>): odczyn zasadowy

Probówka II (NaCl): odczyn obojętny

Probówka III (NH<sub>4</sub>Cl): odczyn kwasowy

**Zadanie 18.**

Wiadomości i rozumienie	Rozpoznanie utleniacza i reduktora.	0–1
-------------------------	-------------------------------------	-----

Zdający otrzymuje 1 punkt za określenie roli nadtlenu wodoru w reakcjach zilustrowanych równaniami i uzupełnienie zdań.

Poprawna odpowiedź:

W reakcji 1 nadtlenek wodoru pełni rolę reduktora.

W reakcji 2 nadtlenek wodoru pełni rolę utleniacza.

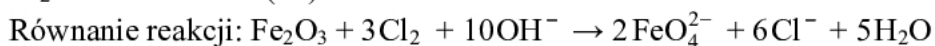
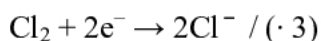
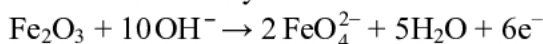
**Zadanie 19.**

Wiadomości i rozumienie	Zastosowanie zasady bilansu elektronowego do uzgadniania równania reakcji zapisanego w formie jonowej.	0–2
-------------------------	--	-----

Zdający otrzymuje 1 punkt za przedstawienie bilansu elektronowego i 1 punkt za napisanie równania reakcji.

Poprawne odpowiedzi:

Bilans elektronowy:



**Zadanie 20.**

Korzystanie z informacji	Dokonanie selekcji i analizy informacji dotyczących produktów elektrolizy wodnych roztworów elektrolitów.	0–2
--------------------------	---	-----

Zdający otrzymuje 2 punkty, jeśli na podstawie informacji rozpoznał i wpisał do tabeli wzory czterech elektrolitów.

Zdający otrzymuje 1 punkt, jeśli na podstawie informacji rozpoznał i wpisał do tabeli wzory trzech elektrolitów.

Zdający otrzymuje 0 punktów, jeśli na podstawie informacji rozpoznał i wpisał do tabeli wzory dwóch elektrolitów.

Poprawne odpowiedzi:

Nr elektrolitu	I	II	III	IV
Wzór elektrolitu	NaCl	NaOH	H <sub>2</sub> SO <sub>4</sub>	Na <sub>2</sub> SO <sub>4</sub>

**Zadanie 21.**

Wiadomości i rozumienie	Przedstawienie przebiegu elektrolizy wodnych roztworów elektrolitów w formie równań reakcji elektrodowych.	0–2
-------------------------	--	-----

Zdający otrzymuje 1 punkt za zapisanie równania reakcji przebiegającej na katodzie i 1 punkt za zapisanie równania reakcji przebiegającej na anodzie podczas elektrolizy wodnego roztworu NaOH.

Poprawne odpowiedzi:

Równanie reakcji przebiegającej na katodzie:  $2\text{H}_2\text{O} + 2\text{e}^- \rightarrow \text{H}_2\uparrow + 2\text{OH}^-$

Równanie reakcji przebiegającej na anodzie:  $4\text{OH}^- \rightarrow \text{O}_2\uparrow + 2\text{H}_2\text{O} + 4\text{e}^-$

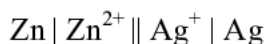
**Zadanie 22.**

a)

Korzystanie z informacji	Zanalizowanie równania reakcji zachodzącej w ogniwie.	0–1
--------------------------	---	-----

Zdający otrzymuje 1 punkt za zapisanie schematu ogniwa.

Poprawna odpowiedź:



b)

Korzystanie z informacji	Obliczenie SEM ogniwa.	0–1
--------------------------	------------------------	-----

Zdający otrzymuje 1 punkt za obliczenie SEM ogniwa i zapisanie wyniku z jednostką.

Poprawna odpowiedź:

$$\text{SEM} = E^0_{\text{Ag}/\text{Ag}^+} - E^0_{\text{Zn}/\text{Zn}^{2+}} = 0,80 \text{ V} - (-0,76 \text{ V}) = 1,56 \text{ V}$$

**Zadanie 23.**

a)

Tworzenie informacji	Zaprojektowanie doświadczenia – wybór odczynników umożliwiających otrzymanie soli manganu(II).	0–1
----------------------	--	-----

Zdający otrzymuje 1 punkt za wybór i zapisanie nazw lub wzorów odczynników umożliwiających przeprowadzenie redukcji jonów manganianowych(VII) do jonów manganu(II).

Poprawna odpowiedź:

Roztwory manganianu(VII) potasu, kwasu siarkowego(VI) i siarczanu(IV) sodu lub roztwory  $\text{KMnO}_4$ ,  $\text{H}_2\text{SO}_4$  i  $\text{Na}_2\text{SO}_3$ .

b)

Tworzenie informacji	Sformułowanie spostrzeżeń, jakich można dokonać w czasie doświadczenia.	0–1
----------------------	---	-----

Zdający otrzymuje 1 punkt za opisanie, co zaobserwowano podczas doświadczenia.

Poprawna odpowiedź:

Fioletowy roztwór odbarwia się lub roztwór staje się bezbarwny.

Zdający otrzymuje punkt za opis spostrzeżeń pod warunkiem udzielenia poprawnej odpowiedzi w części a) zadania.

**Zadanie 24.**

Korzystanie z informacji	Zastosowanie równania kinetycznego do obliczenia zmiany szybkości reakcji.	0–2
--------------------------	--	-----

Zdający otrzymuje 2 punkty, jeśli w rozwiązaniu zadania zastosował właściwą metodę (wynikającą z równania kinetycznego zależność pomiędzy początkową i końcową szybkością reakcji) oraz wykonał obliczenia i podał odpowiedź.

Zdający otrzymuje 1 punkt, jeśli zastosował poprawną metodę rozwiązania, ale popełnił błąd rachunkowy lub podał błędną odpowiedź.

Zdający otrzymuje 0 punktów, jeśli zastosował niepoprawną metodę rozwiązania.

Przykładowe rozwiązanie:

Zależność pomiędzy początkową i końcową szybkością reakcji:

$$v = k \cdot c_A^2 \cdot c_B$$

$$v' = k \cdot \left(\frac{1}{2} c_A\right)^2 \cdot \left(\frac{1}{2} c_B\right) = k \cdot \frac{1}{4} c_A^2 \cdot \frac{1}{2} c_B = \frac{1}{8} \cdot k \cdot c_A^2 \cdot c_B = \frac{1}{8} v$$

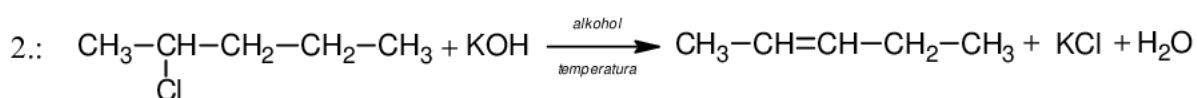
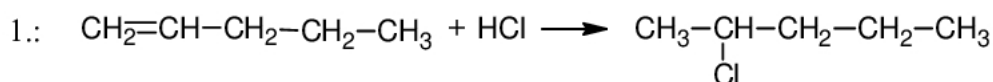
Odpowiedź: Szybkość reakcji zmaleje ośmiokrotnie.

**Zadanie 25.**

a)

Wiadomości i rozumienie	Zapisanie równań reakcji chemicznych na podstawie słownego opisu przemian.	0–2
-------------------------	--	-----

Zdający otrzymuje po 1 punkcie za zapisanie każdego z dwóch równań ilustrujących etapy procesu otrzymywania pent-2-enu z pent-1-enu oraz uwzględnienie warunków reakcji drugiego etapu.

Poprawne odpowiedzi:

b)

Tworzenie informacji	Uogólnienie i sformułowanie wniosku.	0–1
----------------------	--------------------------------------	-----

Zdający otrzymuje 1 punkt, jeśli uzupełnił zdanie, formułując regułę dotyczącą przebiegu reakcji eliminacji.

Poprawna odpowiedź:

Głównym produktem eliminacji cząsteczki HCl z monochloropochodnej jest związek, który powstaje w wyniku oderwania atomu wodoru od atomu węgla połączonego z mniejszą liczbą atomów wodoru.

**Zadanie 26.**

Wiadomości i rozumienie	Rozpoznanie wiązań typu $\sigma$ i typu $\pi$ .	0–1
-------------------------	---	-----

Zdający otrzymuje 1 punkt za określenie liczby wiązań  $\sigma$  i liczby wiązań  $\pi$  w cząsteczce węglowodoru o podanym wzorze.

Poprawna odpowiedź:Liczba wiązań  $\sigma$  : 12Liczba wiązań  $\pi$  : 2**Zadanie 27.**

Wiadomości i rozumienie	Narysowanie wzorów izomerów estru kwasu karboksylowego.	0–2
-------------------------	---	-----

Zdający otrzymuje po 1 punkcie za zapisanie w tabeli jednego wzoru estru oraz jednego wzoru kwasu będących izomerami octanu etylu.

Przykłady poprawnych odpowiedzi:

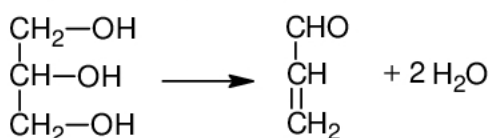
Wzór estru:	Wzór kwasu:
$\text{CH}_3-\text{CH}_2-\text{COO}-\text{CH}_3$	$\text{CH}_3-\text{CH}_2-\text{CH}_2-\text{COOH}$
$\text{HCOO}-\text{CH}_2-\text{CH}_2-\text{CH}_3$	$\text{CH}_3-\underset{\text{CH}_3}{\text{CH}}-\text{COOH}$

**Zadanie 28.**

Wiadomości i rozumienie	Zapisanie równania reakcji otrzymywania propenalu na podstawie słownego opisu przemiany.	0–1
-------------------------	--	-----

Zdający otrzymuje 1 punkt za zapisanie równania reakcji otrzymywania propenalu w wyniku dehydratacji glicerolu.

Poprawna odpowiedź:

**Zadanie 29.**

Wiadomości i rozumienie	Stosowanie poprawnej nomenklatury alkoholi.	0–1
-------------------------	---	-----

Zdający otrzymuje 1 punkt za zapisanie nazw systematycznych dwóch alkoholi o podanych wzorach półstrukturalnych.

Poprawna odpowiedź:

Nazwa związku III: 3–metylobutan–2–ol

Nazwa związku IV: 3–metylobutan–1–ol

**Zadanie 30.**

Wiadomości i rozumienie	Rozpoznanie rzędowości atomów węgla i określenie rzędowości alkoholi.	0–1
-------------------------	---	-----

Zdający otrzymuje 1 punkt za określenie rzędowości trzech alkoholi o podanych wzorach półstrukturalnych.

Poprawna odpowiedź:

Rzędowość alkoholu I: pierwszorzędowy

Rzędowość alkoholu II: trzeciorzędowy

Rzędowość alkoholu III: drugorzędowy

**Zadanie 31.**

Wiadomości i rozumienie	Wykazanie się rozumieniem pojęć związanych z izomerią optyczną.	0–1
-------------------------	---	-----

Zdający otrzymuje 1 punkt za rozpoznanie związku, który może występować w postaci enancjomerów i zapisanie numeru oznaczającego jego wzór.

Poprawna odpowiedź:

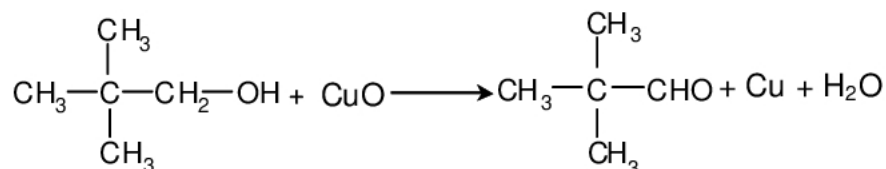
Związek III

**Zadanie 32.**

Wiadomości i rozumienie	Zapisanie równania reakcji ilustrującego właściwości alkoholi pierwszorzędowych.	0–1
-------------------------	--	-----

Zdający otrzymuje 1 punkt za zapisanie równania reakcji utleniania alkoholu o podanym wzorze za pomocą tlenku miedzi(II).

Poprawna odpowiedź:

**Zadanie 33.**

a)

Tworzenie informacji	Wyjaśnienie związku między reakcjami, którym ulegają substancje, a budową ich cząsteczek.	0–1
----------------------	---	-----

Zdający otrzymuje 1 punkt za wyjaśnienie na podstawie budowy cząsteczek, dlaczego w pierwszym etapie doświadczenia w probówce III nie zaszła reakcja chemiczna.

Przykłady poprawnej odpowiedzi:

- Zawiesina  $\text{Cu}(\text{OH})_2$  rozpuszcza się w roztworze związku, w którego cząsteczce jest kilka grup hydroksylowych, a w cząsteczce etanolu jest tylko jedna grupa hydroksylowa.
- Etanol jest alkoholem monohydroksylowym, a w cząsteczkach pozostałych związków jest więcej grup hydroksylowych położonych przy sąsiednich atomach węgla.

b)

Korzystanie z informacji	Sformułowanie obserwacji na podstawie analizy schematu doświadczenia.	0–1
--------------------------	---	-----

Zdający otrzymuje 1 punkt za opisanie zmian, jakie zaobserwowano w probówkach I, II i IV podczas pierwszego etapu doświadczenia.

Poprawna odpowiedź:

1. Zawiesina  $\text{Cu}(\text{OH})_2$  rozpuściła się.
2. Powstał roztwór o barwie szafirowej.

**Zadanie 34.**

Tworzenie informacji	Rozpoznanie typu pochodnej na podstawie opisu reakcji identyfikacyjnych.	0–1
----------------------	--	-----

Zdający otrzymuje 1 punkt za wskazanie numeru próbki, w której w drugim etapie doświadczenia powstał ceglastoczerwony osad  $\text{Cu}_2\text{O}$ .

Poprawna odpowiedź:

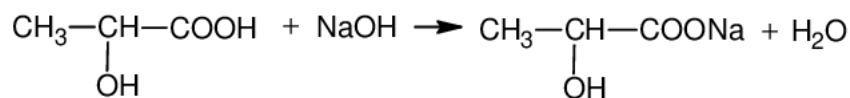
Osad powstał w probówce I.

**Zadanie 35.**

Wiadomości i rozumienie	Zapisanie równania reakcji, jakiej ulegają hydroksykwasy.	0–1
-------------------------	---	-----

Zdający otrzymuje 1 punkt za zapisanie równania reakcji kwasu mlekowego z wodnym roztworem wodorotlenku sodu.

Poprawna odpowiedź:

**Zadanie 36.**

Tworzenie informacji	Określenie produktów powstających w reakcji hydrolizy związku organicznego.	0–1
----------------------	---	-----

Zdający otrzymuje 1 punkt za zapisanie wzorów wszystkich produktów zasadowej hydrolizy tłuszczu o podanym wzorze.

Poprawna odpowiedź:

