

**EGZAMIN POTWIERDZAJĄCY KWALIFIKACJE W ZAWODZIE
Rok 2018
ZASADY OCENIANIA**
*Arkusz zawiera informacje prawnie chronione
do momentu rozpoczęcia egzaminu*

Nazwa kwalifikacji: **Montaż konstrukcji budowlanych**
 Oznaczenie arkusza: **B.20-01-18.01**
 Oznaczenie kwalifikacji: **B.20**
 Numer zadania: **01**

Wypełnia egzaminator

 Kod ośrodka –

 Kod egzaminatora

 Data egzaminu

Dzień Miesiąc Rok

 Godzina rozpoczęcia egzaminu :

Numer PESEL zdającego*											Numer stanowiska	

* w przypadku braku numeru *PESEL* – seria i numer paszportu lub innego dokumentu potwierdzającego tożsamość

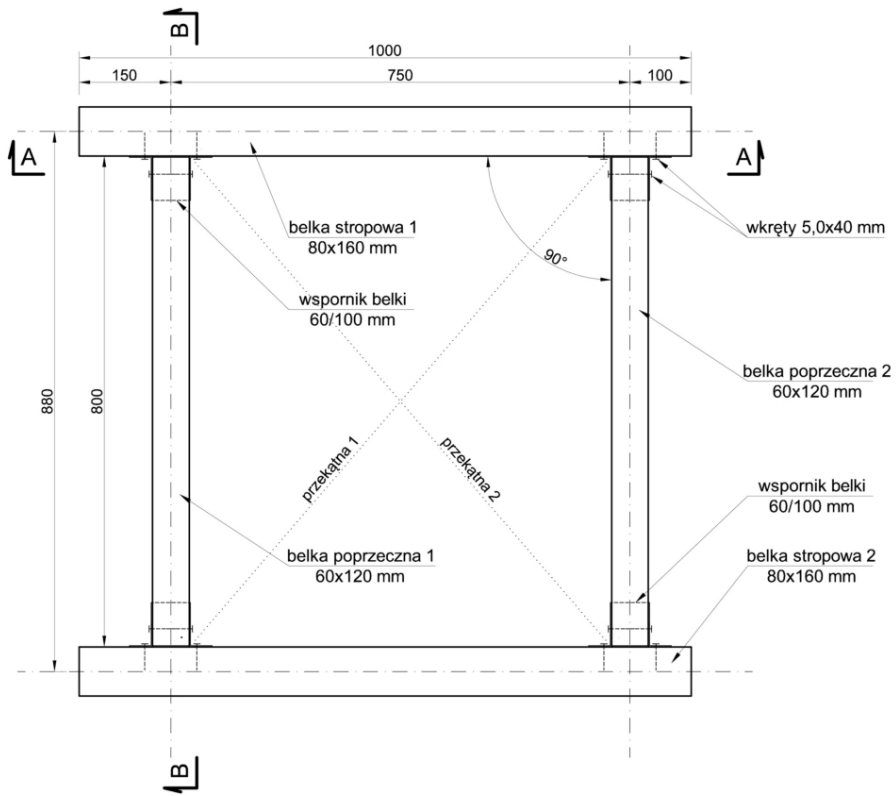
Rezultat 4. Zmontowany fragment stropu drewnianego										
1	Górna powierzchnia belki poprzecznej 1. licuje się (jest w tej samej płaszczyźnie) z górną powierzchnią belki stropowej 1 (z tolerancją ± 2 mm)									
2	Górna powierzchnia belki poprzecznej 2. licuje się (jest w tej samej płaszczyźnie) z górną powierzchnią belki stropowej 1 (z tolerancją ± 2 mm)									
3	Górna powierzchnia belki poprzecznej 1. licuje się (jest w tej samej płaszczyźnie) z górną powierzchnią belki stropowej 2 (z tolerancją ± 2 mm)									
4	Górna powierzchnia belki poprzecznej 2. licuje się (jest w tej samej płaszczyźnie) z górną powierzchnią belki stropowej 2 (z tolerancją ± 2 mm)									
5	Belki stropowe i poprzeczne zamontowane prostopadle do siebie (pod kątem prostym)									
6	Obie przekątne zmontowanego fragmentu stropu, zmierzone w miejscach wskazanych na rysunku zestawieniowym (przekątna 1, przekątna 2), mają równą długość (z tolerancją ± 5 mm)									
Przebieg 1. Wykonanie montażu										
Zdający:										
1	używał narzędzi pomiarowych i traserskich do wyznaczenia na belkach stropowych 1. i 2. miejsc mocowania wsporników oraz używał narzędzi pomiarowych do kontroli poprawności montażu całego fragmentu stropu									
2	W trakcie wiercenia otworów miał założone okulary									
3	podczas montażu belek stropowych miał założone rękawice ochronne									
4	uporządkował stanowisko pracy po zakończeniu pracy									
5	odpady umieścił w pojemniku na odpady									

Egzaminator

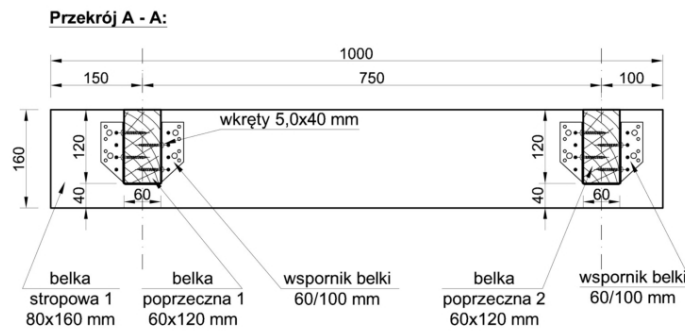
imię i nazwisko

.....

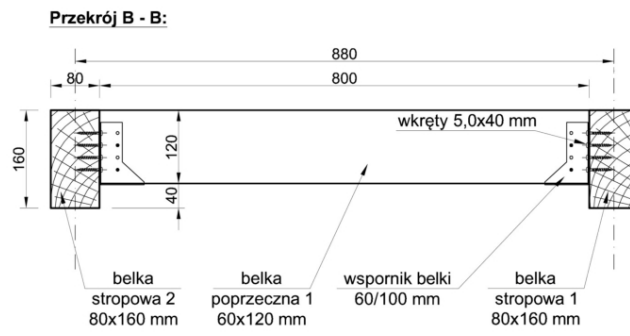
data i czytelny podpis



Rysunek 1. Rysunek zestawieniowy fragmentu stropu drewnianego



Rysunek 2. Przekrój A-A



Rysunek 3. Przekrój B-B