

Nazwa kwalifikacji: **Wykonywanie zabiegów fryzjerskich**
Oznaczenie kwalifikacji: **AU.21**
Wersja arkusza: **SG**
Czas trwania egzaminu: **60 minut**

AU.21-SG-20.01

EGZAMIN POTWIERDZAJĄCY KWALIFIKACJE W ZAWODZIE

Rok 2020

CZĘŚĆ PISEMNA

**PODSTAWA PROGRAMOWA
2017**

Instrukcja dla zdającego

1. Sprawdź, czy arkusz egzaminacyjny zawiera 9 stron. Ewentualny brak stron lub inne usterki zgłoś przewodniczącemu zespołu nadzorującego.
2. Do arkusza dołączona jest KARTA ODPOWIEDZI, na której w oznaczonych miejscach:
 - wpisz oznaczenie kwalifikacji,
 - zamaluj kratkę z oznaczeniem wersji arkusza,
 - wpisz swój numer PESEL*,
 - wpisz swoją datę urodzenia,
 - przyklej naklejkę ze swoim numerem PESEL.
3. Arkusz egzaminacyjny zawiera test składający się z 40 zadań.
4. Za każde poprawnie rozwiązane zadanie możesz uzyskać 1 punkt.
5. Aby zdać część pisemną egzaminu musisz uzyskać co najmniej 20 punktów.
6. Czytaj uważnie wszystkie zadania.
7. Rozwiązania zaznaczaj na KARCIE ODPOWIEDZI długopisem lub piórem z czarnym tuszem/atramentem.
8. Do każdego zadania podane są cztery możliwe odpowiedzi: A, B, C, D. Odpowiada im następujący układ krerek w KARCIE ODPOWIEDZI:

A	B	C	D
---	---	---	---

9. Tylko jedna odpowiedź jest poprawna.
10. Wybierz właściwą odpowiedź i zamaluj kratkę z odpowiadającą jej literą – np., gdy wybrałeś odpowiedź „A”:

<input checked="" type="checkbox"/>	B	C	D
-------------------------------------	---	---	---

11. Staraj się wyraźnie zaznaczać odpowiedzi. Jeżeli się pomylisz i błędnie zaznaczysz odpowiedź, otocz ją kółkiem i zaznacz odpowiedź, którą uważasz za poprawną, np.

<input checked="" type="checkbox"/>	B	C	<input checked="" type="checkbox"/>
-------------------------------------	---	---	-------------------------------------

12. Po rozwiązaniu testu sprawdź, czy zaznaczyłeś wszystkie odpowiedzi na KARCIE ODPOWIEDZI i wprowadziłeś wszystkie dane, o których mowa w punkcie 2 tej instrukcji.

Pamiętaj, że oddajesz przewodniczącemu zespołu nadzorującego tylko KARTĘ ODPOWIEDZI.

Powodzenia!

* w przypadku braku numeru PESEL – seria i numer paszportu lub innego dokumentu potwierdzającego tożsamość

Zadanie 1.

Dla którego rodzaju włosów charakterystyczne są zgrubienia i przewężenia łodyg włosowych oraz chropowata skóra głowy przy ujściu mieszków włosowych?

- A. Splątanych.
- B. Skręconych.
- C. Paciorkowatych.
- D. Obrączkowatych.

Zadanie 2.

W wyniku częstego nietrwałego prostowania włosów dochodzi do uszkodzeń

- A. naturalnych.
- B. chemicznych.
- C. genetycznych.
- D. mechanicznych.

Zadanie 3.

Występujące na skórze głowy krosty przebite włosami są charakterystycznymi zmianami

- A. liszajca.
- B. grzybicy woszczynowej.
- C. figówki gronkowcowej skóry.
- D. ropnego zapalenia mieszków włosowych.

Zadanie 4.

Który z zabiegów pielęgnacyjnych należy wykonać w celu zabezpieczenia struktury włosów przed wykonaniem zabiegów chemicznych?

- A. Ochronny.
- B. Regeneracyjny.
- C. Strzyżenie pielęgnacyjne.
- D. Stymulację mieszków włosowych.

Zadanie 5.

Do wykonania zabiegu kondycjonowania włosów należy na stanowisku myjącym przygotować minimum ręcznik, szampon oraz grzebień

- A. do rozczesywania i odżywkę nawilżającą.
- B. ze szpikulcem metalowym i neutralizator.
- C. ze szpikulcem plastikowym i olejek arganowy.
- D. z szeroko rozstawionymi zębami i odżywkę stabilizującą kolor.

Zadanie 6.

W jaki sposób działają na skórę i włosy preparaty zawierające w swoim składzie wyciąg z migdałów?

- A. Ściągająco.
- B. Nawilżająco.
- C. Odtłuszczająco.
- D. Rozpulchniająco.

Zadanie 7.

W jaki sposób działają na włosy szampony zawierające w swoim składzie wyciąg z łopianu?

- A. Nadają odcień włosom.
- B. Ułatwiają układanie włosów.
- C. Rozpulehniają łuski włosowe.
- D. Zmniejszają przetłuszczanie się włosów.

Zadanie 8.

Który wyciąg zawarty w szamponie działa na włosy wzmacniająco i hamuje ich wypadanie?

- A. Wyciąg z rumianku.
- B. Wyciąg z hibiskusa.
- C. Wyciąg z kory dębu.
- D. Wyciąg z czarnej rzodkwi.

Zadanie 9.

Do pielęgnacji włosów w kolorze brązu w celu podkreślenia koloru należy używać preparatu zawierającego w swoim składzie

- A. odwar z rabarbaru.
- B. wyciąg z orzecha.
- C. napar z tataraku.
- D. wywar z miodu.

Zadanie 10.

Zamieszczony opis dotyczy twarzy klientki o kształcie

- A. koła.
- B. rombu.
- C. trapezu.
- D. kwadratu.

Opis kształtu twarzy klientki

Największą część twarzy stanowi czoło. Kości policzkowe rozszerzają się w kierunku najszerszej części twarzy, którą stanowią żuchwa i szczęka.

Zadanie 11.

Klientka ma włosy w kolorze kasztanowym, brzoskwiniową cerę z licznymi piegami w odcieniu rudomiedzianym oraz zielononiebieskie oczy. Który typ kolorystyczny urody reprezentuje klientka?

- A. Lato.
- B. Zima.
- C. Jesień.
- D. Wiosna.

Zadanie 12.

Zamieszczony opis dotyczy profilu twarzy klientki o kształcie

- A. ukośnym.
- B. okrągłym.
- C. wklęsłym.
- D. wypukłym.

Opis profilu twarzy klientki

Czoło i broda są lekko wysunięte do przodu, a nos jest cofnięty do wnętrza twarzy.

Zadanie 13.

Której deformacji głowy klientki dotyczy opis?

- A. Wybrzuszenia ciemieniowo-potylicznego.
- B. Wybrzuszenia ciemieniowego i zapadłości potylicznej.
- C. Zapadłości ciemieniowej i wybrzuszenia potylicznego.
- D. Wybrzuszenia ciemieniowego i zapadłości śródgłowa.

Opis deformacji głowy klientki

Kość czaszki jest odchylona od tylnej części kości ciemieniowej przez całą długość kości potylicznej aż do karku.

Zadanie 14.

Do wykonania opisanego strzyżenia zastosowano technikę

- A. pikowania.
- B. skalowania.
- C. degażowania.
- D. konturowania.

Opis strzyżenia

Pasma włosów są skręcane wokół własnej osi, a następnie nacinane na różnych wysokościach. Nacięcia są wykonywane od nasady włosów w kierunku końcówek.

Zadanie 15.

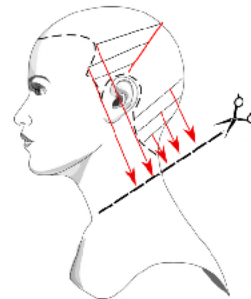
W celu uzyskania fryzury w formie koła należy podczas zabiegu strzyżenia unieść pasmo włosów w stosunku do krzywizny głowy pod kątem

- A. 30 stopni.
- B. 60 stopni.
- C. 90 stopni.
- D. 120 stopni.

Zadanie 16.

Przedstawione na rysunku schematycznym separacje wykorzystywane są podczas strzyżenia linii fryzury

- A. pazia.
- B. kwadratu.
- C. boba modyfikowanego.
- D. chłopczycy stopniowanej.

**Zadanie 17.**

Podczas wykonywania strzyżenia męskiego techniką cieniowania nożyczkami nad grzebieniem, powstały nierównomierne przejścia w części potylicznej. W jaki sposób należy skorygować nieoczekiwany efekt strzyżenia?

- A. Skalować końce włosów.
- B. Przedegażować końce włosów.
- C. Przepalcować włosy na całym poroście.
- D. Wycieniować włosy w partii ciemieniowej.

Zadanie 18.

Których włosów **nie można** poddawać trwałemu przekształceniu ich struktury?

- A. Koloryzowanych preparatami permanentnymi.
- B. Koloryzowanych preparatami metalicznymi.
- C. Koloryzowanych preparatami półtrwałymi.
- D. Koloryzowanych preparatami tonującymi.

Zadanie 19.

W trakcie etapu właściwego zabiegu prostowania chemicznego włosów przekształcaniu ulegają mostki

- A. solne.
- B. jonowe.
- C. wodorowe.
- D. dwusiarczkowe.

Zadanie 20.

Podczas zabiegu trwałej ondulacji, ponowne połączenie zerwanych mostków dwusiarczkowych wymaga zaaplikowania na włosy preparatu

- A. ochronnego.
- B. ondulującego.
- C. utrwalającego.
- D. neutralizującego.

Zadanie 21.

Który zestaw sprzętu fryzjerskiego jest niezbędny do wykonania ondulacji fenowej?

- A. Grzebień z rączką, szczotka płaska, lokówka.
- B. Grzebień z rączką, szczotka tunelowa, klimazon.
- C. Grzebień ze szpikulcem, wałki, szpilki, suszarka hełmowa.
- D. Grzebień ze szpikulcem, szczotka okrągła, suszarka ręczna.

Zadanie 22.

Zabiegu zagęszczania włosów **nie należy** proponować klientce o włosach

- A. delikatnych jasnych.
- B. nadmiernie wypadających.
- C. farbowanych farbami półtrwałymi.
- D. rozjaśnionych farbami utleniającymi.

Zadanie 23.

Opis dotyczy wykonania koloryzacji techniką

- A. diagonalną.
- B. blokową.
- C. sekcyjną.
- D. globalną.

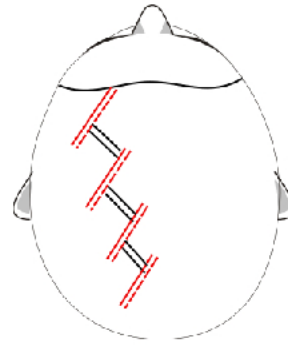
Opis techniki koloryzacji

Koloryzacja w co najmniej dwóch kolorach. W części ciemieniowej wydzielony trójkąt, zafarbowany na kolor intensywniejszy od koloru pozostałych włosów na głowie.

Zadanie 24.

Na rysunku przedstawiono schematycznie technikę koloryzacji

- A. mostkową.
- B. jodełkową.
- C. łańcuszkową.
- D. przedziałkową.

**Zadanie 25.**

Do wykonania koloryzacji rozjaśniającej o 4-5 poziomów kolorystycznych należy użyć utleniacza o stężeniu

- A. 5 vol.
- B. 10 vol.
- C. 20 vol.
- D. 40 vol.

Zadanie 26.

Przeciwwskazaniem do wykonania zabiegu koloryzacji włosów jest

- A. siwizna rozproszona na całym poroście włosów.
- B. skłonność do występowania reakcji alergicznych.
- C. mała gęstość i grubość włosów na całym poroście.
- D. łupież suchy rozproszony na skórze głowy i poroście.

Zadanie 27.

Włosy przedłużono i zagęszczono wklejając pasma włosów pomiędzy transparentne taśmy, na których znajdują się włosy. Która metoda została zastosowana do wykonania zabiegu?

- A. Kanapkowa.
- B. Keratynowa.
- C. Warkoczykowa.
- D. Ultradźwiękowa.

Zadanie 28.

Który kolor włosów zgodnie z zasadami kolorometrii należy zastosować w celu podkreślenia urody klientki o typie kolorystycznym wiosna?

- A. Złoty blond.
- B. Popielaty brąz.
- C. Miedziany blond.
- D. Mahoniowy brąz.

Zadanie 29.

W celu optycznego powiększenia drobnej twarzy klientki należy zaproponować koloryzację włosów w kolorze

- A. jasnego blondu z jasnymi refleksami.
- B. ciemnego brązu z jasnymi refleksami.
- C. średniego brązu z ciemnymi pasemkami.
- D. średniego blondu z ciemnymi pasemkami.

Zadanie 30.

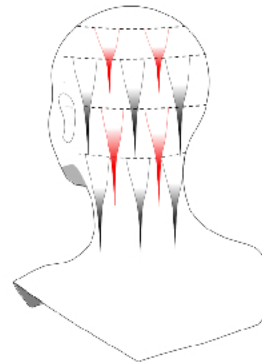
W celu pojaśnienia tylko końcówek włosów krótkich należy zastosować technikę

- A. sombre.
- B. tricoloru.
- C. lukrowania.
- D. szydełkowania.

Zadanie 31.

Technikę przedstawioną na rysunku schematycznym należy zastosować podczas koloryzacji włosów

- A. długich i falistych.
- B. krótkich i prostych.
- C. bardzo krótkich i prostych.
- D. bardzo krótkich i kręconych.

**Zadanie 32.**

Zamieszczony opis dotyczy wykonania zabiegu koloryzacji włosów techniką

- A. rombu.
- B. strzały.
- C. tarczy.
- D. aury.

Opis techniki koloryzacji włosów

Charakterystyczna koloryzacja dająca efekty kolorystyczne na włosach długich. Koloryzacja włosów na wierzchniej warstwie włosów. Wyreparowane pasma ukośne od krzywizny głowy, a następnie koloryzowane naprzemiennie na co drugie wydzielone pasma.

Zadanie 33.

Mieszanie do demakijażu włosów należy przygotować z szamponu do włosów oraz

- A. utleniacza 3% i pasty rozjaśniającej.
- B. utleniacza 9% i farby rozjaśniającej.
- C. wody gorącej i preparatu rozjaśniającego.
- D. wody destylowanej i kremu rozjaśniającego.

Zadanie 34.

Do przygotowania 90 ml preparatu do koloryzacji półtrwałej w proporcjach 1:2 należy odmierzyć

- A. 30 ml farby + 60 ml utleniacza.
- B. 40 ml farby + 50 ml utleniacza.
- C. 50 ml farby + 40 ml utleniacza.
- D. 60 ml farby + 30 ml utleniacza.

Zadanie 35.

W celu przyciemnienia włosów, które przez wiele lat były rozjaśniane, należy jako zabieg wstępny wykonać

- A. tonowanie.
- B. repigmentację.
- C. prekoloryzację.
- D. kondycjonowanie.

Zadanie 36.

W celu koloryzacji włosów naturalnych na poziomie kolorystycznym 5/0 na kolor 8/3 należy wykonać

- A. dekoloryzację z użyciem 9% utleniacza.
- B. koloryzację trwałą z użyciem 9% utleniacza.
- C. mycie rozjaśniające z użyciem 3% utleniacza.
- D. podkład rozjaśniający z użyciem 3% utleniacza.

Zadanie 37.

Która kolejność nakładania farby na łodygę włosa powinna zostać zastosowana podczas koloryzacji z utleniaczem 9% włosów naturalnych i długich?

- A. Środek, końce, nasada.
- B. Nasada, końce, środek.
- C. Nasada, środek, końce.
- D. Końce, nasada, środek.

Zadanie 38.

W celu usunięcia sztucznego barwnika z włosów wcześniej poddawanych zabiegom koloryzacji należy wykonać

- A. pojaśnianie.
- B. dekoloryzację.
- C. rozjaśnianie właściwe.
- D. farbowanie rozjaśniające.

Zadanie 39.

Skorygowanie niepożądanego czerwonego refleksu włosów wymaga użycia tonera w kolorze

- A. żółtym.
- B. zielonym.
- C. niebieskim.
- D. fioletowym.

Zadanie 40.

W wyniku rozjaśniania włosów powstał zbyt jaskrawy odcień włosów. W celu skorygowania niepożądanego efektu kolorystycznego należy wykonać zabieg

- A. pigmentacji włosów.
- B. korodowania włosów.
- C. koloryzacji rozjaśniającej.
- D. tonowania komplementarnego.