

*Arkusze zawiera informacje prawnie chronione  
do momentu rozpoczęcia egzaminu*

Nazwa kwalifikacji: **Wytwarzanie wyrobów stolarskich**  
Oznaczenie arkusza: **AU.15-01-20.01-SG**  
Oznaczenie kwalifikacji: **AU.15**  
Numer zadania: **01**  
Wersja arkusza: **SG**

**PODSTAWA PROGRAMOWA  
2017**

*Wypełnia egzaminator*

Kod ośrodka           –

Kod egzaminatora

Data egzaminu            
*Dzień Miesiąc Rok*

Godzina rozpoczęcia egzaminu   :

Numer PESEL zdającego*											Numer stanowiska	

\* w przypadku braku numeru PESEL – seria i numer paszportu lub innego dokumentu potwierdzającego tożsamość

### **Egzaminatorze!**

- Oceniaj prace zdających rzetelnie i z zaangażowaniem. Dokumentuj wyniki oceny.
- Stosuj przyjęte zasady oceniania w sposób obiektywny.
- Jeżeli zdający, wykonując zadanie egzaminacyjne, uzyskuje inne rezultaty albo pożądane rezultaty uzyskuje w inny sposób niż uwzględniony w zasadach oceniania lub przedstawia nietypowe rozwiązanie, ale zgodnie ze sztuką w zawodzie, to nadal oceniaj zgodnie z kryteriami zawartymi w zasadach oceniania. Informacje o tym, że zasady oceniania nie przewidują zaistniałej sytuacji, przekaz niezwłocznie w formie pisemnej notatki do Przewodniczącego Zespołu Egzaminacyjnego z prośbą o przekazanie jej do Okręgowej Komisji Egzaminacyjnej. Notatka może być sporządzona odrębnie w trybie roboczym.
- Informuj przewodniczącego zespołu nadzorującego o wszystkich nieprawidłowościach zaistniałych w trakcie egzaminu, w tym w szczególności o naruszeniach przepisów bezpieczeństwa i higieny pracy i o podejrzeniach niesamodzielności w wykonaniu zadania przez zdającego.




Rezultat 2. Szafka nocna									
1	Przekątne szafki są jednakowej długości z dokładnością $\pm 1$ mm								
2	Wysokość szafki wynosi 450 mm $\pm 1$ mm								
3	Szerokość szafki wynosi 400 mm $\pm 1$ mm								
4	Głębokość szafki wynosi 280 mm $\pm 1$ mm								
5	Odległość między wieńcem dolnym a podstawą szafki wynosi 50 mm $\pm 1$ mm (45 mm $\pm 1$ mm – bez uwzględnienia ślizgaczy)								
6	Odległość między wieńcem dolnym a półką wynosi 173 mm $\pm 1$ mm								
7	Wewnątrz korpusu szafki nie widać wkrętów mocujących ścianę tylną								
8	Na dolnych powierzchniach ścian bocznych zamontowane po dwa ślizgacze								
9	Szafka stoi równo i stabilnie na płaskiej powierzchni								
10	Powierzchnie szafki odkurzone, nie posiadają widocznych śladów kleju								


**Przebieg 1. Wykonanie szafki nocnej**

Zdający:

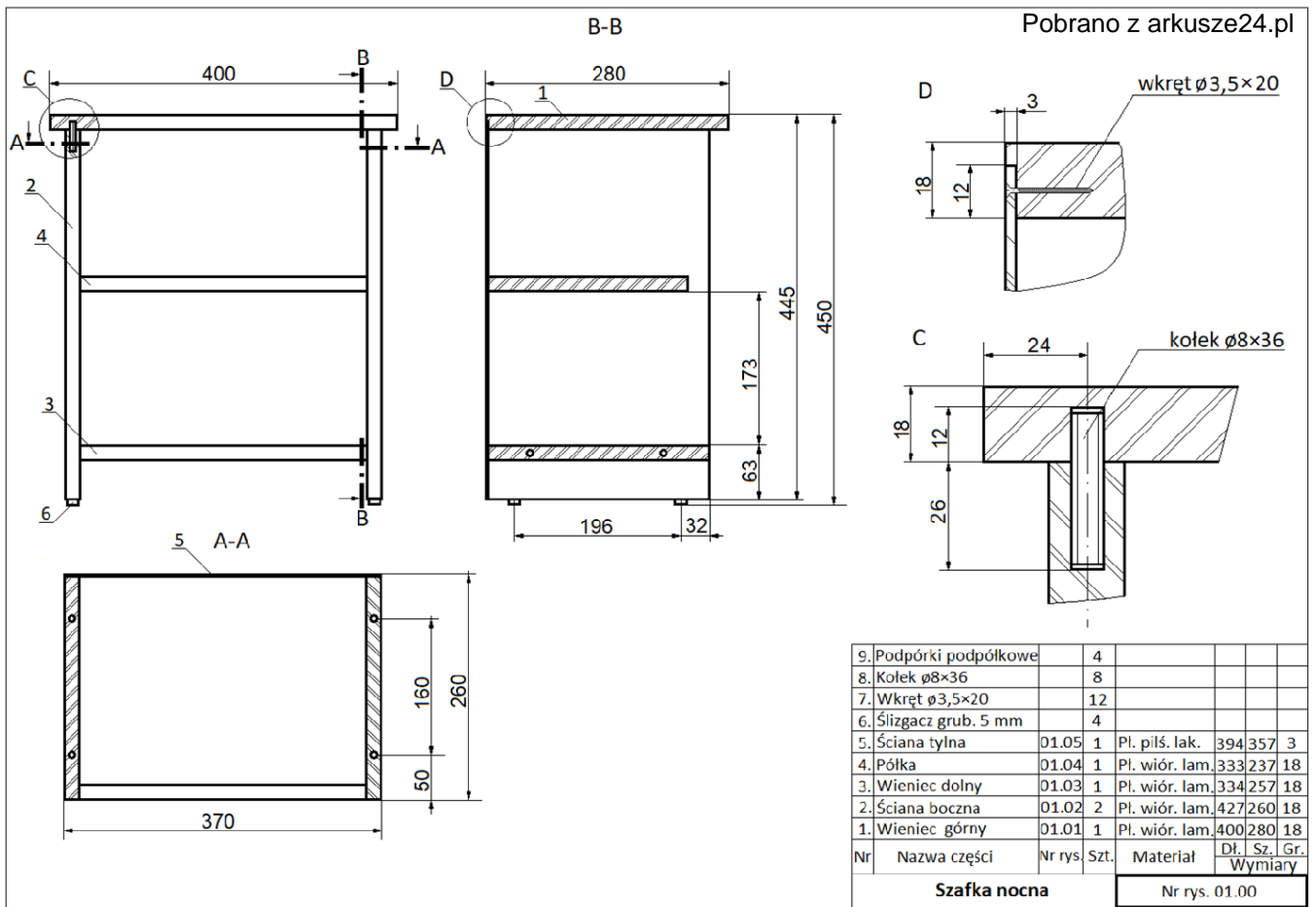
1	docinał elementy szafki na pilarcie tarczowej przestrzegając zasad bezpiecznej pracy									
2	wykonywał otwory i gniazda ręczną wiertarką lub na wiertarce poziomej i/lub wiertarce pionowej przestrzegając zasad bezpiecznej pracy									
3	wykonywał wręgi frezarką ręczną lub na frezarce dolnowrzecionowej i/lub frezarce górnwzrucionowej przestrzegając zasad bezpiecznej pracy									
4	w czasie cięcia oraz frezowania miał założone ochronniki słuchu lub zatyczki ochronne									
5	w czasie cięcia, wiercenia oraz frezowania miał założone okulary ochronne									
6	oklejał powierzchnie elementów żelazkiem elektrycznym lub na oklejarce przestrzegając zasad bezpiecznej pracy									
7	podczas klejenia наносił klej na złącza kołkowe									
8	podczas montażu elementów używał podkładek pod pobijak w celu wyeliminowania wgnieceń w elementach									
9	podczas montażu elementów używał podkładek pod ściski montażowe w celu wyeliminowania wgnieceń w elementach									
10	uporządkował stanowisko po skończonej pracy, odpady umieścił w odpowiednim pojemniku									

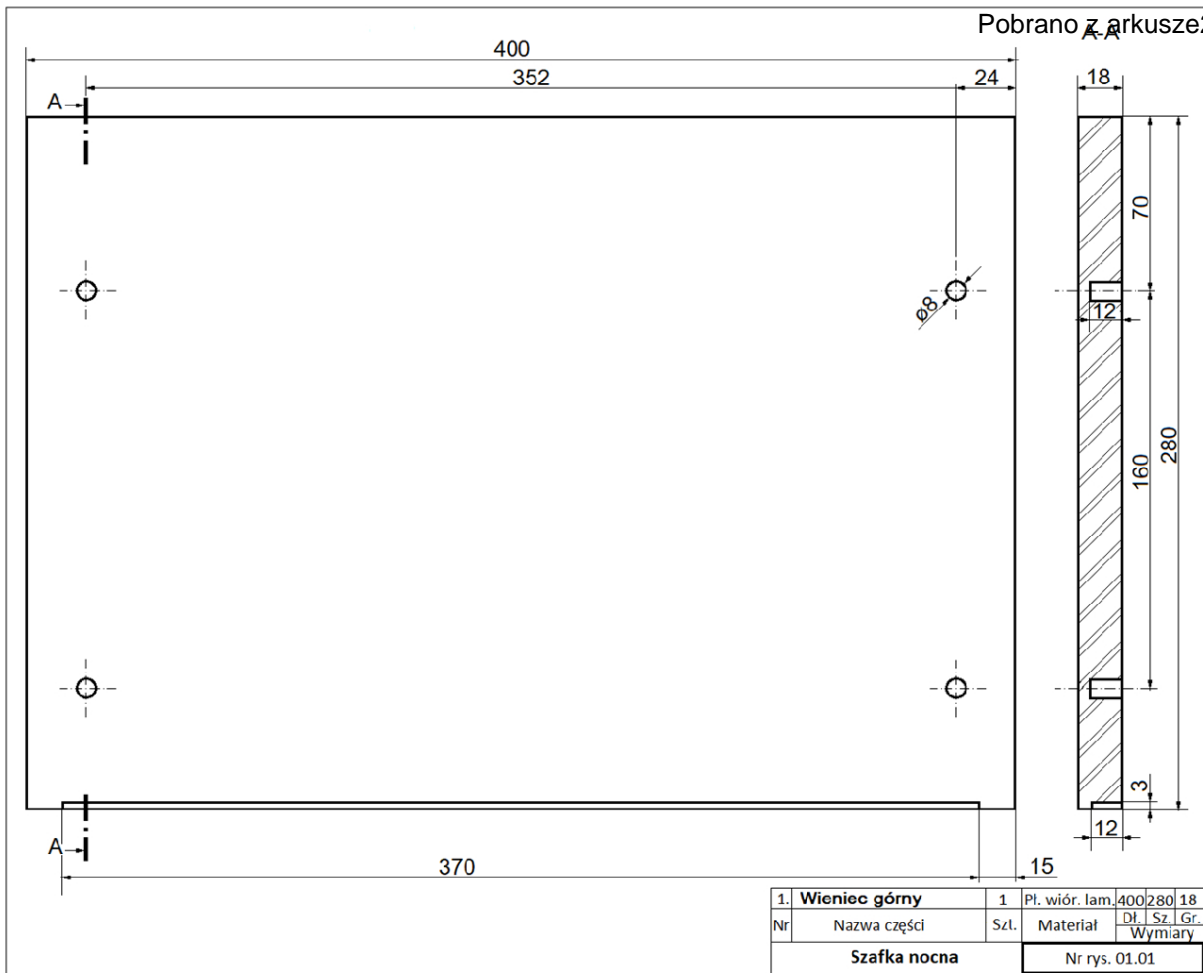
Egzaminator .....

*imię i nazwisko*

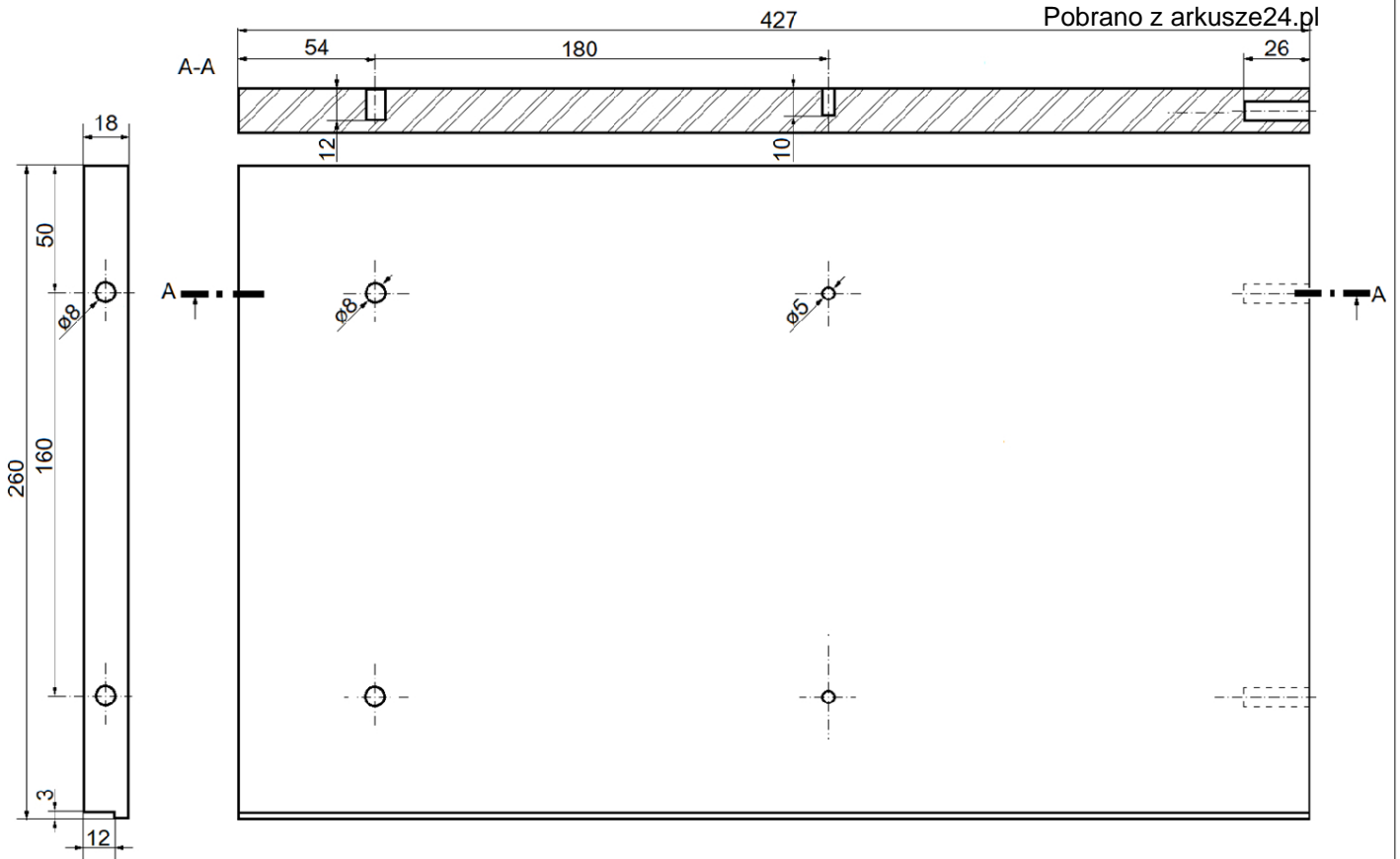
.....

*data i czytelny podpis*





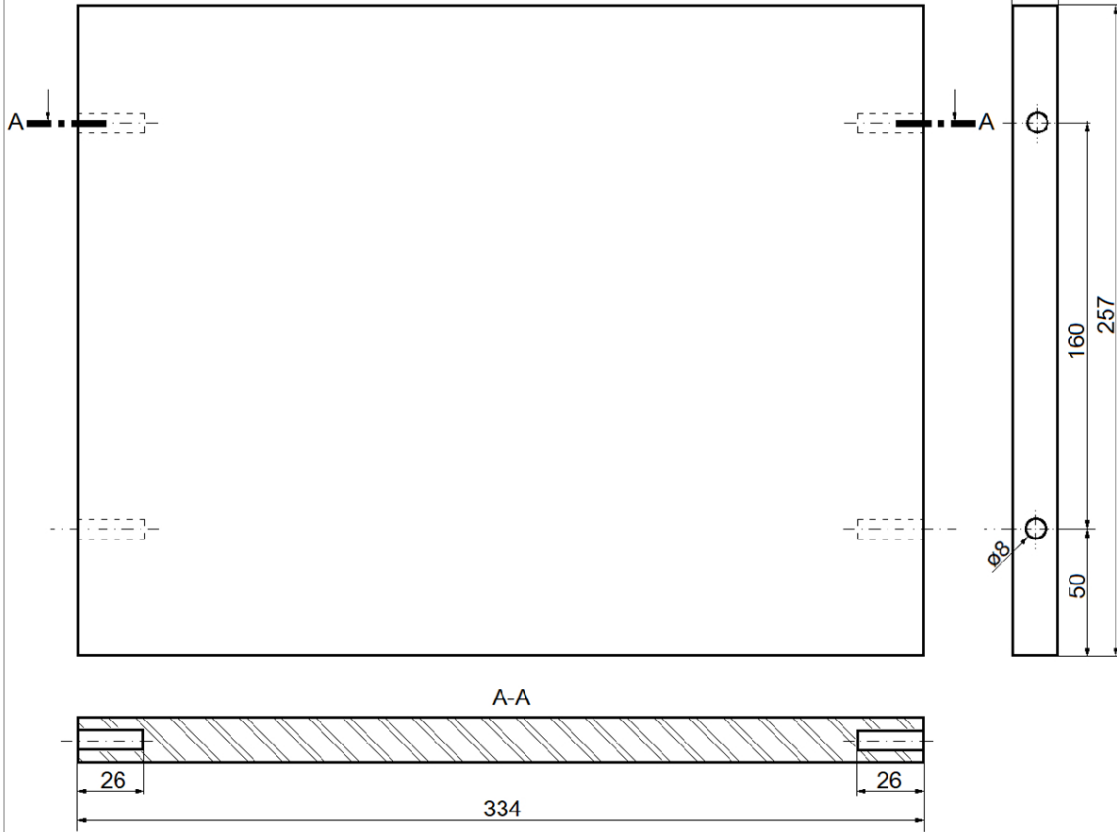
1.	<b>Wieniec górny</b>	1	Pl. wiór. lam.	400	280	18
Nr	Nazwa części	Szl.	Materiał	Dł.   Sz.   Gr. Wymiary		
<b>Szafka nocna</b>			Nr rys. 01.01			



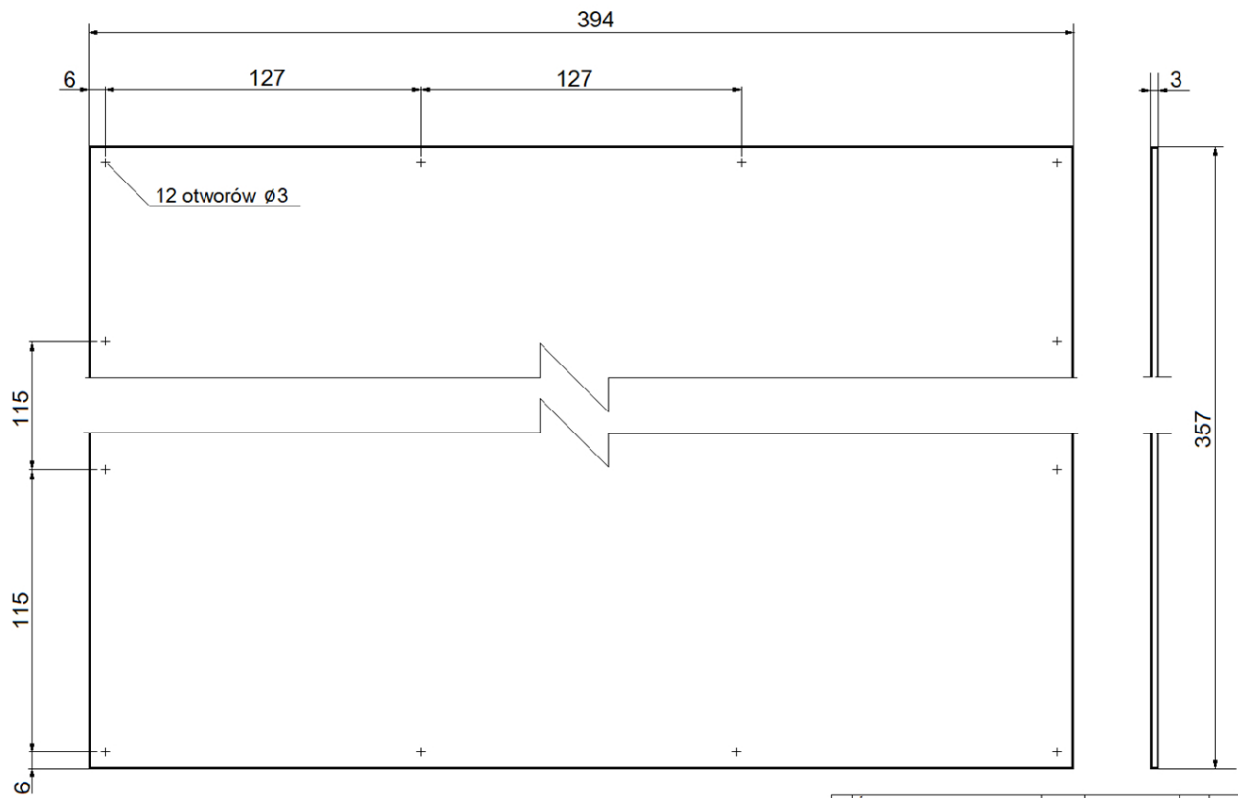
Uwaga! Ściana boczna prawa jest odbiciem lustrzanym.

2.	<b>Ściana boczna lewa</b>	2	Pł. wiór. lam.	427	260	18
Nr	Nazwa części	Szl.	Materiał	Dł.	Sz.	Gr.
<b>Szafka nocna</b>			Nr rys. 01.02			





3.	<b>Wieniec dolny</b>	1	Pl. wiór. lam.	334	257	18
Nr	Nazwa części	Szt.	Material	Dł. Sz. Gr. Wymiary		
<b>Szafka nocna</b>			Nr rys. 01.03			



Więcej arkuszy znajdziesz na stronie: [arkusze.pl](http://arkusze.pl)

5.	<b>Sciana tylna</b>	1	Pł. pilś. lak.	394	357	3
Nr	Nazwa części	Szt.	Material	Dł.	Sz.	Gr.
<b>Szafka nocna</b>			Nr rys. 01.05			