

Nazwa kwalifikacji: **Organizacja procesów wytwarzania wyrobów odzieżowych**

Oznaczenie kwalifikacji: **A.74**

Wersja arkusza: **X**

**A.74-X-19.06**

Czas trwania egzaminu: **60 minut**

**EGZAMIN POTWIERDZAJĄCY KWALIFIKACJE W ZAWODZIE**  
**Rok 2019**  
**CZĘŚĆ PISEMNA**

**Instrukcja dla zdającego**

- Sprawdź, czy arkusz egzaminacyjny zawiera 10 stron. Ewentualny brak stron lub inne usterki zgłoś przewodniczącemu zespołu nadzorującego.
- Do arkusza dołączona jest KARTA ODPOWIEDZI, na której w oznaczonych miejscach:
  - wpisz oznaczenie kwalifikacji,
  - zamaluj kratkę z oznaczeniem wersji arkusza,
  - wpisz swój numer PESEL\*,
  - wpisz swoją datę urodzenia,
  - przyklej naklejkę ze swoim numerem PESEL.
- Arkusze egzaminacyjny zawiera test składający się z 40 zadań.
- Za każde poprawnie rozwiązane zadanie możesz uzyskać 1 punkt.
- Aby zdać część pisemną egzaminu musisz uzyskać co najmniej 20 punktów.
- Czytaj uważnie wszystkie zadania.
- Rozwiązania zaznaczaj na KARCIE ODPOWIEDZI długopisem lub piórem z czarnym tuszem/atramentem.
- Do każdego zadania podane są cztery możliwe odpowiedzi: A, B, C, D. Odpowiada im następujący układ kratek w KARCIE ODPOWIEDZI:

A	B	C	D
---	---	---	---

- Tylko jedna odpowiedź jest poprawna.
- Wybierz właściwą odpowiedź i zamaluj kratkę z odpowiadającą jej literą – np., gdy wybrałeś odpowiedź „A”:

<input checked="" type="checkbox"/>	B	C	D
-------------------------------------	---	---	---

- Staraj się wyraźnie zaznaczać odpowiedzi. Jeżeli się pomylisz i błędnie zaznaczysz odpowiedź, otocz ją kółkiem i zaznacz odpowiedź, którą uważasz za poprawną, np.

<input checked="" type="checkbox"/>	B	C	<input checked="" type="checkbox"/>
-------------------------------------	---	---	-------------------------------------

- Po rozwiązaniu testu sprawdź, czy zaznaczyłeś wszystkie odpowiedzi na KARCIE ODPOWIEDZI i wprowadziłeś wszystkie dane, o których mowa w punkcie 2 tej instrukcji.

**Pamiętaj, że oddajesz przewodniczącemu zespołu nadzorującego tylko KARTĘ ODPOWIEDZI.**

***Powodzenia!***

\* w przypadku braku numeru PESEL – seria i numer paszportu lub innego dokumentu potwierdzającego tożsamość

**Zadanie 1.**

Wykończenie pod szyją zastosowane w sukience przedstawionej na rysunku, które dominuje w ubiorach znajdujących się w ofertach sprzedaży, wskazuje na aktualny trend mody, którym jest dekolot

- A. karo.
- B. owalny.
- C. okrągły.
- D. łódkowy.

**Zadanie 2.**

Które elementy dokumentacji technicznej poza zestawieniem konstrukcyjnych części składowych wyrobu odzieżowego stanowią opisową jej część?

- A. Opis ogólny, wymagania techniczne, opis obróbki technologicznej.
- B. Wymagania techniczne, tabela wymiarów, układy szablonów.
- C. Rysunek modelowy, rysunek techniczny, opis ogólny.
- D. Rysunek techniczny, tabela wymiarów, szablony.

**Zadanie 3.**

Przygotowanie materiałów odzieżowych do produkcji **nie obejmuje**

- A. kontroli jakości materiałów.
- B. kontroli szerokości materiału.
- C. pomiaru długości materiału w beli.
- D. nadawania materiałom stopni jakości.

**Zadanie 4.**

Rysunek układu szablonów wykonany przy pomocy komputerowego systemu przygotowania produkcji można wydrukować za pomocą plotera, a następnie przykleić na górną warstwę utworzonego nakładu materiałów albo zapisać na odpowiednim nośniku i zapis wykorzystać do rozkroju

- A. automatycznego.
- B. tradycyjnego z nakładu.
- C. tradycyjnego z jednej warstwy.
- D. z zastosowaniem servo cutterów.

**Zadanie 5.**

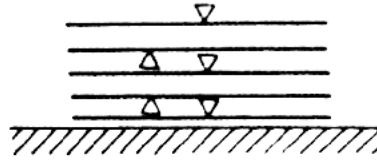
Który rodzaj warstwowania jest najbardziej ekonomiczny dla gładkiej jednobarwej tkaniny?

- A. Zygzakowy bez odcinania końców.
- B. Zygzakowy z odcinanymi końcami.
- C. Stroną prawą do lewej z odcinanymi końcami.
- D. Stroną prawą do prawej bez odcinania końców.

**Zadanie 6.**

Na rysunku przedstawione jest warstwowanie

- A. wahadłowe.
- B. przemienne.
- C. zygzakowe.
- D. jednostronne.

**Zadanie 7.**

Dla dzianiny o gładkiej powierzchni powlekanej po spodniej stronie przygotowuje się układ szablonów

- A. wielokierunkowy.
- B. jednokierunkowy.
- C. dwukierunkowy.
- D. mieszany.

**Zadanie 8.**

Które z czynności należy wykonać w krojowni przed rozkrojem nakładu?

- A. Odrysowywanie szablonów, układanie szablonów.
- B. Wykrawanie wykrojów, dzielenie nakładu na sekcje.
- C. Warstwowanie materiału, przygotowanie układu szablonów.
- D. Przygotowanie nakładu, naniesienie rysunku układu szablonów.

**Zadanie 9.**

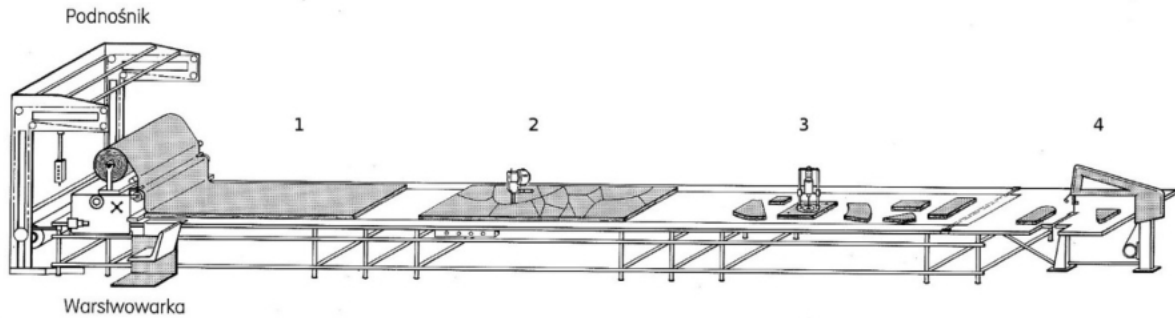
Wykrojniki stosuje się do wycinania elementów wyrobów z

- A. dzianin.
- B. laminatów.
- C. futer sztucznych.
- D. wkładów klejowych.

**Zadanie 10.**

Do rozkroju na sekcje wielowarstwowego nakładu materiałów stosuje się krajarki przenośne z nożem

- A. bagnetowym.
- B. tarczowym.
- C. taśmowym.
- D. pionowym.

**Zadanie 11.**

W której strefie ciągu krojczego przedstawionego na rysunku są oznaczane na wykrojach wewnętrzne punkty spotkań?

- A. W 1 strefie.
- B. W 2 strefie.
- C. W 3 strefie.
- D. W 4 strefie.

**Zadanie 12.**

Wskaż czynność wykonywaną w pierwszym etapie procesu rozkroju nakładu materiału.

- A. Rozkrój nakładu na sekcje.
- B. Kompletowanie wykrojów.
- C. Znakowanie wykrojonych elementów.
- D. Układanie szablonów na wierzchniej warstwie nakładu.

**Zadanie 13.**

Którą technikę klejenia stosuje się do wzmocnienia wyłogów i obłożeń w przodach żakietów damskich?

- A. Klejowych wkładów konstrukcyjnych.
- B. Wkładów sztywnikowych.
- C. Wielkopowierzchniową.
- D. Małych wklejek.

**Zadanie 14.**

Znak jakości w wyrobom odzieżowym nadają brakarze podczas kontroli

- A. międzyoperacyjnej w szwalni.
- B. końcowej wyrobów gotowych.
- C. ostatecznej gotowych wyrobów.
- D. międzyoperacyjnej w wykończalni.

**Zadanie 15.**

Do wykonania ozdobnych pętelek w przedstawionym na rysunku przodzie bluzki zastosowano

- A. ruloniki.
- B. falbany.
- C. taśmę.
- D. plisy.

**Zadanie 16.**

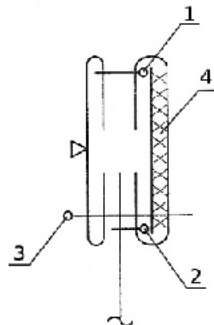
Która z metod organizacji produkcji może być stosowana w krótkoseryjnej produkcji wyrobów odzieżowych?

- A. Tylko grupowa.
- B. Tylko potokowa.
- C. Grupowa i potokowa.
- D. Indywidualna i grupowa.

**Zadanie 17.**

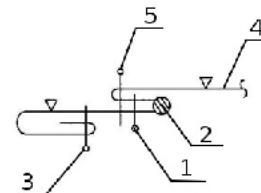
Którą cyfrą oznaczono na przedstawionym rysunku pierwszy do wykonania zabieg łączenia nitkowego dwóch elementów?

- A. 1
- B. 2
- C. 3
- D. 4

**Zadanie 18.**

Które z cyfr zamieszczonych na przedstawionym rysunku instruktażowym dotyczą zabiegów doszycia falbany, np. do dołu spódnicy?

- A. 1 i 2
- B. 1 i 3
- C. 1 i 4
- D. 1 i 5



**Zadanie 19.**

Na której z maszyn można wykonać zdobienie przedstawione na rysunku?

- A. Hafciarce.
- B. Kroszecie.
- C. Renderówce.
- D. Zygzakówce.

**Zadanie 20.**

Urządzenie przedstawione na rysunku jest stosowane do oznaczania na wykrojach

- A. nacięć montażowych.
- B. kierunku nitki osnowy.
- C. zewnętrznych punktów spotkań.
- D. wewnętrznych punktów, np. naszycia elementów.

**Zadanie 21.**

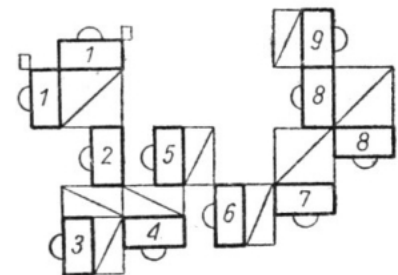
Do numerowania wykrojów w przedsiębiorstwie odzieżowym stosuje się

- A. kredę.
- B. wycinak.
- C. numerator.
- D. pisak do tkanin.

**Zadanie 22.**

Który system organizacji produkcji charakteryzuje układ stanowisk przedstawiony na rysunku?

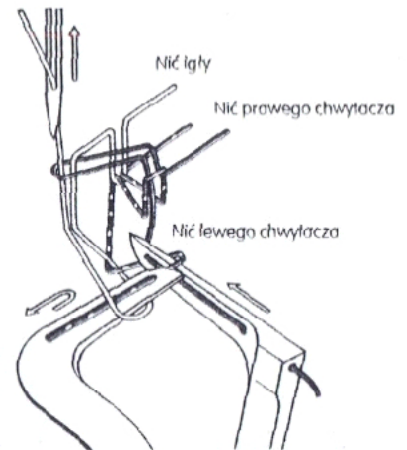
- A. Synchron.
- B. Taśmowy.
- C. Taśmowo-sekcyjny.
- D. Potok z synchronizowanymi grupami obróbczymi.



**Zadanie 23.**

Tworzenie którego ze ściegów nitkowych przedstawiono na rysunku?

- A. Zygzakowego.
- B. Obrzucającego.
- C. Pokrywającego.
- D. Łańcuszkowego.

**Zadanie 24.**

Którą maszynę można stosować do przyszywania przedstawionych na rysunku haftek do paska spódnicy?

- A. Łączarkę.
- B. Guzikarkę.
- C. Szczepiarkę.
- D. Fastrygówkę.

**Zadanie 25.**

Które urządzenie prasownicze jest przeznaczone do prasowania przodów marynarek?

- A. Manekin prasowniczy.
- B. Maszyna uniwersalna.
- C. Agregat tunelowy.
- D. Prasa formująca.

**Zadanie 26.**

Resztkę nieracjonalną, która ma powstać podczas tworzenia nakładu,

- A. odcina się od ostatniej warstwy nakładu.
- B. odcina się od pierwszej warstwy nakładu.
- C. pozostawia się nie odciętą, razem z ostatnią warstwą nakładu.
- D. pozostawia się nie odciętą, razem z pierwszą warstwą nakładu.

**Zadanie 27.**

Przeñośniki ślizgowe należą do grupy

- A. podnośników jezdnych.
- B. stojaków transportowych.
- C. pochylni międzypiętrowej.
- D. mechanicznych urządzeń transportowych.

**Zadanie 28.**

Straty materiałowe powstałe w krojowni związane z nierównomiernością na szerokości i długości poszczególnych warstw materiału w nakładzie to

- A. ścinki materiału.
- B. resztki materiału.
- C. wypadki zewnętrzne.
- D. wypadki wewnętrzne.

**Zadanie 29.**

Które prasy są najczęściej stosowane w produkcji konfekcyjnej do prasowania wyrobów odzieżowych?

- A. Elektryczno-parowe.
- B. Pneumatyczne.
- C. Elektryczne.
- D. Parowe.

**Zadanie 30.**

Bluzka przedstawiona na rysunku, zaprojektowana jest zgodnie z trendem, na który wskazują rękawy

- A. długie, dopasowane.
- B. o długości  $\frac{3}{4}$  typu bufka.
- C. z doszywanymi falbankami.
- D. koszulowe zakończone mankietem.

**Zadanie 31.**

Zastosowanie automatycznych systemów produkcji wykrojów zapewniających przepływ informacji pomiędzy kolejnymi fazami technologicznymi realizowanymi w dziale przygotowania produkcji i krojowni, umożliwia

- A. stopniowanie szablonów.
- B. projektowanie wzorów odzieży.
- C. opracowanie układu szablonów.
- D. automatyczne formowanie i rozkrój nakładu.

**Zadanie 32.**

Układ szablonów asymetryczny, jednokierunkowy zawiera

- A. szablony elementów asymetrycznych i symetrycznych wyrobu odzieżowego o fasonie asymetrycznym, ułożone w jednym kierunku.
- B. połowy elementów kompletu szablonów wyrobu odzieżowego jednego rozmiaru.
- C. wszystkie elementy kompletu szablonów wyrobu odzieżowego.
- D. komplet szablonów wyrobu odzieżowego kilku rozmiarów.



**Zadanie 33.**

Do badań marketingowych opartych na danych wtórnych stosuje się informacje pochodzące

- A. z wywiadów.
- B. z obserwacji.
- C. z badań ankietowych.
- D. z danych statystycznych.

**Zadanie 34.**

Który instrument marketingu stosuje się w celu informowania klientów o cechach wyrobu odzieżowego?

- A. Dystrybucję.
- B. Promocję.
- C. Produkt.
- D. Cenę.

**Zadanie 35.**

Na których pokazach mody prezentowane są kolekcje luksusowych, wykonywanych na indywidualne zamówienie klienta, jedynych w swoim rodzaju wyrobów odzieżowych?

- A. Resort.
- B. Pre-fall.
- C. Prêt-à-porter.
- D. Haute couture.

**Zadanie 36.**

Który z wymienionych czynników **nie ma wpływu** na obsługę logistyczną firm odzieżowych?

- A. Rozproszenie punktów dostaw.
- B. Ściśle określone godziny dostaw.
- C. Określona temperatura transportu.
- D. Duże wahania popytu w ciągu roku.

**Zadanie 37.**

Do klienta należy dostarczyć partię 196 szt. ekskluzywnych wyrobów odzieżowych na wieszakach. Z oferty firmy logistycznej wynika, że jednorazowo mogą przewieźć 4 wieszaki stojące, na których zmieści się 28 wieszaków z wyrobami. Jaki będzie koszt przewozu towarów, jeżeli 1 kurs wraz załadunkiem i rozładunkiem wyniesie 48,00 zł?

- A. 238,00 zł
- B. 336,00 zł
- C. 386,00 zł
- D. 396,00 zł

**Zadanie 38.**

Które narzędzie oddziaływania na zmysły klienta **nie należy** do Visual merchandisingu?

- A. Kolor.
- B. Witryna.
- C. Degustacja.
- D. Oświetlenie.

**Zadanie 39.**

Najważniejszym elementem strony www sklepu internetowego jest informacja dotycząca

- A. godzin otwarcia.
- B. oferty handlowej.
- C. kontaktu z biurem obsługi.
- D. lokalizacji sklepu stacjonarnego.

**Zadanie 40.**

Który rodzaj dress code określa najbardziej swobodny styl ubioru do pracy?

- A. Business attire.
- B. Business smart.
- C. Business casual.
- D. Business active.