

Nazwa kwalifikacji: **Projektowanie i wytwarzanie wyrobów odzieżowych**
Oznaczenie kwalifikacji: **A.71**
Wersja arkusza: **X**

A.71-X-18.01Czas trwania egzaminu: **60 minut**

EGZAMIN POTWIERDZAJĄCY KWALIFIKACJE W ZAWODZIE
Rok 2018
CZĘŚĆ PISEMNA

Instrukcja dla zdającego

1. Sprawdź, czy arkusz egzaminacyjny zawiera 10 stron. Ewentualny brak stron lub inne usterki zgłoś przewodniczącemu zespołu nadzorującego.
2. Do arkusza dołączona jest KARTA ODPOWIEDZI, na której w oznaczonych miejscach:
 - wpisz oznaczenie kwalifikacji,
 - zamaluj kratkę z oznaczeniem wersji arkusza,
 - wpisz swój numer PESEL*,
 - wpisz swoją datę urodzenia,
 - przyklej naklejkę ze swoim numerem PESEL.
3. Arkusz egzaminacyjny zawiera test składający się z 40 zadań.
4. Za każde poprawnie rozwiązane zadanie możesz uzyskać 1 punkt.
5. Aby zdać część pisemną egzaminu musisz uzyskać co najmniej 20 punktów.
6. Czytaj uważnie wszystkie zadania.
7. Rozwiązania zaznaczaj na KARCIE ODPOWIEDZI długopisem lub piórem z czarnym tuszem/atramentem.
8. Do każdego zadania podane są cztery możliwe odpowiedzi: A, B, C, D. Odpowiada im następujący układ kratek w KARCIE ODPOWIEDZI:

A	B	C	D
---	---	---	---

9. Tylko jedna odpowiedź jest poprawna.
10. Wybierz właściwą odpowiedź i zamaluj kratkę z odpowiadającą jej literą – np., gdy wybrałeś odpowiedź „A”:

■	B	C	D
---	---	---	---

11. Staraj się wyraźnie zaznaczać odpowiedzi. Jeżeli się pomylisz i błędnie zaznaczysz odpowiedź, otocz ją kółkiem i zaznacz odpowiedź, którą uważasz za poprawną, np.

○■	B	C	■
----	---	---	---

12. Po rozwiązaniu testu sprawdź, czy zaznaczyłeś wszystkie odpowiedzi na KARCIE ODPOWIEDZI i wprowadziłeś wszystkie dane, o których mowa w punkcie 2 tej instrukcji.

Pamiętaj, że oddajesz przewodniczącemu zespołu nadzorującego tylko KARTĘ ODPOWIEDZI.

Powodzenia!

* w przypadku braku numeru PESEL – seria i numer paszportu lub innego dokumentu potwierdzającego tożsamość

Zadanie 1.

Spodnie damskie typu bermudy przedstawione są na rysunku



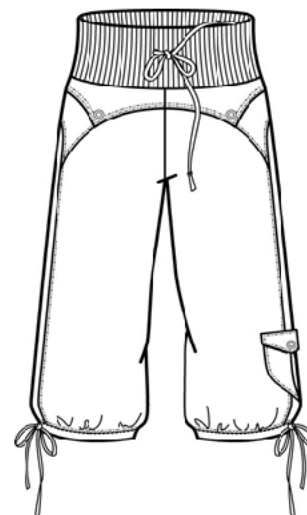
A.



B.



C.



D.

Zadanie 2.

Suknia typu szmizjerka przedstawiona jest na rysunku



A.



B.



C.

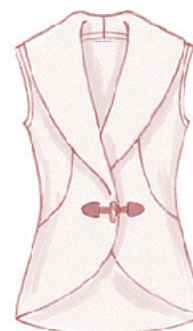


D.

Zadanie 3.

Bluzka przedstawiona na rysunku posiada kołnierz

- A. szalowy.
- B. koszulowy.
- C. marynarski.
- D. słowackiego.



Zadanie 4.

Który pomiar wykonuje się w kierunku pionowym, od punktu karkowego do punktu tylnego talii?

- A. PcPl
- B. XIXl
- C. SyTy
- D. RvNv

Zadanie 5.

Wysokość kolana ZKo należy mierzyć od podstawy do punktu kolanowego

- A. tylnego.
- B. bocznego.
- C. przedniego.
- D. przyśrodkowego.

Zadanie 6.

Do opracowania form spodni należy wykonać następujące pomiary krawieckie, oznaczone symbolami

- A. ZKo, opx, ot, obt, SyTy, ZTv.
- B. ZWo, obt, ot, ZTv, ZUo, ZKo.
- C. ot, obt, opx, ZUo, ZKo, ZWo.
- D. obt, ZUo, ot, ZKo, ZTv, XIXl.

Zadanie 7.

Które dodatki krawieckie są niezbędne do wykonania żakietu damskiego?

- A. Gurt, nity, haftki.
- B. Kamel, zamki, filc.
- C. Sutasz, nici, włosianka.
- D. Podszewka, guziki, nici.

Zadanie 8.

Którą tkaninę można przeznaczyć na płaszcz damski?

- A. Batyst.
- B. Loden.
- C. Etaminę.
- D. Adamaszek.

Zadanie 9.

Do wykonania którego wyrobu odzieżowego należy zastosować podszewki: kolanówkę i kieszeniówkę?

- A. Żakietu lnianego.
- B. Spodni wełnianych.
- C. Marynarki bawełnianej.
- D. Spódnicy elanobawełnianej.

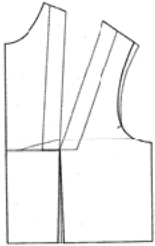
Zadanie 10.

Dla którego wyrobu odzieżowego dodatek konstrukcyjny w obwodzie klatki piersiowej ma najwyższą wartość?

- A. Sukni.
- B. Bluzki.
- C. Żakietu.
- D. Płaszcz.

Zadanie 11.

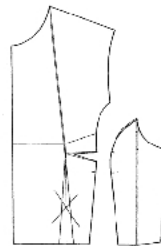
Którą formę zastosowano do uszycia górnej części sukienki przedstawionej na rysunku?



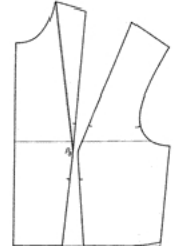
A.



B.



C.

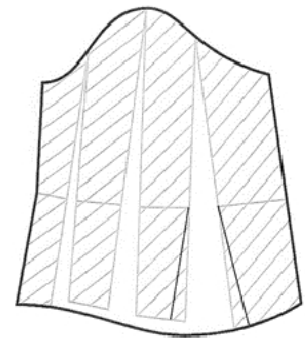


D.

Zadanie 12.

Modelowanie którego rękawa długiego przedstawiono na rysunku?

- A. Poszerzonego dołem.
- B. Zwężonego dołem z bufką.
- C. Poszerzonego na linii główki.
- D. Poszerzonego od linii łokcia do dołu.



Zadanie 13.

Na szablonie podstawowym, między innymi, należy zaznaczyć

- A. nitkę osnowy, punkty montażowe.
- B. linie konturowe, rysunek modelowy.
- C. wzór materiału, podstawowe linie konstrukcyjne.
- D. grupę typologiczną, podstawowe punkty konstrukcyjne.

Zadanie 14.

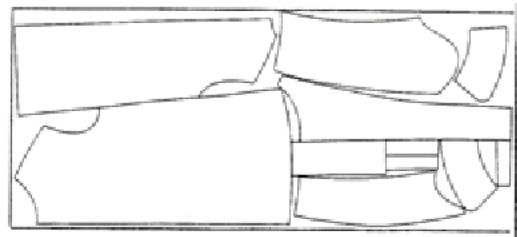
Który układ szablonów należy zastosować dla spódnicy damskiej w rozmiarze 164/72/104 o skośnej linii dołu?

- A. Łączony.
- B. Wielokrotny.
- C. Symetryczny.
- D. Asymetryczny.

Zadanie 15.

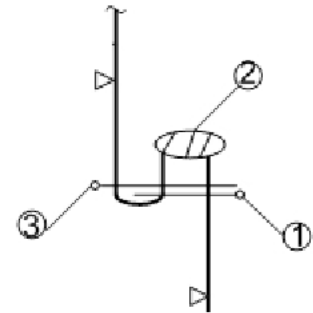
Który układ szablonów przedstawiono na rysunku?

- A. Dwukierunkowy, łączony.
- B. Jednokierunkowy, łączony.
- C. Dwukierunkowy, pojedynczy.
- D. Jednokierunkowy, pojedynczy.

**Zadanie 16.**

Na podstawie przedstawionego schematu określ czynności, które należy wykonać przy doszyciu karczka do tyłu bluzki?

- A. Obrzucić tył, obrzucić karczek, stębnować szew.
- B. Obrzucić tył, obrzucić karczek doszyć karczek do tyłu.
- C. Doszyć karczek do tyłu, obrzucić szew, stębnować szew.
- D. Doszyć karczek do tyłu, stębnować szew, obrzucić szew.

**Zadanie 17.**

Który ścieg należy zastosować do zaznaczenia zaszewek w spódnicy damskiej szytej na miarę?

- A. Za igłą.
- B. Pikowy.
- C. Pętłkowy.
- D. Fastrygowy.

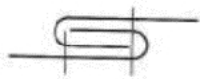
Zadanie 18.

Który ścieg należy zastosować do zszycia boków w spódnicy wykonanej z dzianiny?

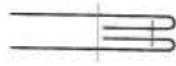
- A. Stębnowy dwuigłowy trzynitkowy.
- B. Stębnowy jednoigłowy dwunitkowy.
- C. Łańcuszkowy dwuigłowy trzynitkowy.
- D. Łańcuszkowy jednoigłowy dwunitkowy.

Zadanie 19.


Wskaż szew francuski stosowany do zszywania worków kieszeniowych?



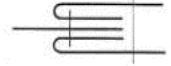
A.



B.



C.



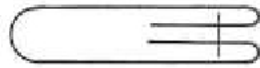
D.

Zadanie 20.

Na którym rysunku przedstawiono szew boczny zwykły rozprasowany, zastosowany w spódnicy damskiej?



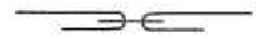
A.



B.



C.



D.

Zadanie 21.

Który sposób wykończenia dołu zastosowano w bluzce przedstawionej na rysunku?



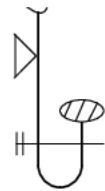
A.



B.



C.

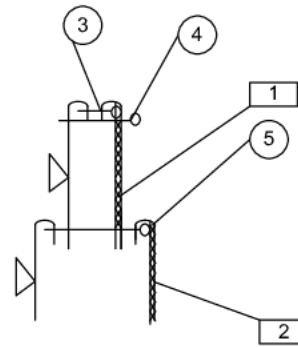


D.

Zadanie 22.

Którą czynność należy wykonać po zszyciu kołnierza wierzchniego ze spodnim?

- A. Stębnowanie stójki.
- B. Podklejenie kołnierza.
- C. Stębnowanie kołnierza.
- D. Doszycie stójki do kołnierza.

**Zadanie 23.**

Które wymiary należy uwzględnić przy obliczeniu zużycia tkaniny o szerokości 150 cm na kostium damski dla klientki o wymiarach 164/88/92?

- A. Długość spódnicy, długość zakietu, obwód bioder.
- B. Długość spódnicy, długość zakietu, długość rękawa.
- C. Obwód klatki piersiowej, długość zakietu, obwód bioder.
- D. Długość spódnicy, obwód klatki piersiowej, obwód bioder.

Zadanie 24.

Jakie będzie zużycie tkaniny wełnianej o szerokości 90 cm, przeznaczonej na spódnicę podstawową o długości 70 cm dla klientki o wymiarach 164/72/96?

- A. 70 cm
- B. 77 cm
- C. 154 cm
- D. 160 cm

Zadanie 25.

Dla której tkaniny przeznaczonej na bluzkę damską zużycie będzie największe?

- A. Tkaniny gładkiej.
- B. Tkaniny w groszki.
- C. Tkaniny w drobne, małe kwiatki.
- D. Tkaniny w jednokierunkowe duże wzory.

Zadanie 26.

Przed rozkrojem tkaniny typu flausz przeznaczonej na zakiet szablonu układa się

- A. wzdłuż wątku.
- B. wzdłuż osnowy.
- C. w dwóch kierunkach.
- D. wzdłuż osnowy i wątku.

Zadanie 27.

Do mocowania kieszeni klinowych w spodniach należy zastosować

- A. pikówkę.
- B. ryglówkę.
- C. dziurkarke.
- D. fastrygówkę.

Zadanie 28.

Do zszycia szwów ramieniowych w sukni z dzianiny o splocie trykotu należy zastosować maszynę

- A. stębnową.
- B. zygzakową.
- C. fastrygową.
- D. łańcuszkową.

Zadanie 29.

Przyrząd przedstawiony na rysunku należy zastosować do

- A. lamowania dekoltu w sukni.
- B. wszycia zamka do spódnicy.
- C. marszczenia rękawa z bufką.
- D. wykonania obrębu w apaszcze.

**Zadanie 30.**

Którego przyrządu pomocniczego należy użyć do pikowania sportowej kamizelki damskiej z laminatu?

- A. Zwijacza.
- B. Lamownika.
- C. Stopki obrębiającej.
- D. Linijki odległościowej.

Zadanie 31.

Przyczyną zrywania się nici górnej może być

- A. zanieczyszczony bębenek.
- B. niewłaściwy docisk stopki.
- C. za duże naprężenie nici górnej.
- D. zniszczone ostrza ząbków transportera.

Zadanie 32.

Lniane płótno, którego używa się do prasowania na mokro, to

- A. teflon.
- B. prasulec.
- C. nawilżacz.
- D. zaparzaczką.

Zadanie 33.

Bluzkę damską z wiskozy, która ma wszywkę ze znakiem żelazka z dwiema kropkami, należy prasować w temperaturze

- A. 110°C
- B. 150°C
- C. 180°C
- D. 200°C

Zadanie 34.

Operacja obróbki parowo-ciepłej, polegająca na przewinięciu szwu na jedną stronę i utrwalenie go w tym położeniu, to

- A. sprasowanie.
- B. wprasowanie.
- C. zaprasowanie.
- D. rozprasowanie.

Zadanie 35.

Jaka jest przyczyna błędu występującego w spódnicy, przedstawionej na rysunku?

- A. Spódnica jest za szeroka na linii talii.
- B. Spódnica jest za szeroka na linii bioder.
- C. Linia dołu spódnicy jest nieprawidłowa.
- D. Podkroj na linii talii jest nieprawidłowy.

**Zadanie 36.**

W celu usunięcia błędu w rękawie bluzki przedstawionej na rysunku należy

- A. obniżyć główkę rękawa.
- B. pogłębić podkroj rękawa.
- C. zwęzić rękaw na linii pachy.
- D. poszerzyć rękaw na linii pachy.

**Zadanie 37.**

W celu wydłużenia spódnicy należy do linii dołu doszyć

- A. falbankę.
- B. lamówkę.
- C. obłożenie.
- D. wypustkę.

Zadanie 38.

Żle układający się rękaw powstaje w wyniku

- A. niezdekatyzowania materiału.
- B. niedokładnego procesu prasowania.
- C. niewłaściwego wszycia do podkroju pachy.
- D. zastosowanie niewłaściwej techniki klejenia.

Zadanie 39.

Do punktu usługowego zgłosiła się klientka z prośbą o wszycie zamka błyskawicznego do spódnicy i skrócenie jej o 7 cm. Jaka będzie cena usługi według cennika przedstawionego w tabeli?

- A. 15,00 zł
- B. 21,00 zł
- C. 28,00 zł
- D. 34,00 zł

Lp.	Wyszczególnienie usługi	Cena usługi [zł]
1.	Poszerzenie lub zwężenie wyrobu.	13,00
2.	Skrócenie lub wydłużenie długości wyrobu, rękawa, nogawki.	10,00
3.	Wszycie zamka.	18,00

Zadanie 40.

Przeróbka bluzki polega na naszyciu kieszeni na lewy przód oraz przyszyciu 5 nowych guzików. Jaka będzie cena usługi, jeśli cena 1 guzika wynosi 1,00 zł, a koszt robocizny oszacowano na kwotę 40,00 zł?

- A. 40,00 zł
- B. 45,00 zł
- C. 50,00 zł
- D. 55,00 zł