

Nazwa kwalifikacji: **Zarządzanie środkami technicznymi podczas realizacji procesów transportowych**

Oznaczenie kwalifikacji: **A.31**

Wersja arkusza: **X**

*Arkusz zawiera informacje prawnie chronione  
do momentu rozpoczęcia egzaminu*

**A.31-X-15.01**

Czas trwania egzaminu: **60 minut**

## EGZAMIN POTWIERDZAJĄCY KWALIFIKACJE W ZAWODZIE

**Rok 2015**

**CZĘŚĆ PISEMNA**

Układ graficzny © CKE 2015

### Instrukcja dla zdającego

1. Sprawdź, czy arkusz egzaminacyjny zawiera 11 stron. Ewentualny brak stron lub inne usterki zgłoś przewodniczącemu zespołu nadzorującego.
2. Do arkusza dołączona jest KARTA ODPOWIEDZI, na której w oznaczonych miejscach:
  - wpisz oznaczenie kwalifikacji,
  - zamaluj kratkę z oznaczeniem wersji arkusza,
  - wpisz swój numer *PESEL*\*,
  - wpisz swoją datę urodzenia,
  - przyklej naklejkę ze swoim numerem *PESEL*.
3. Arkusz egzaminacyjny zawiera test składający się z 40 zadań.
4. Za każde poprawnie rozwiązane zadanie możesz uzyskać **1 punkt**.
5. Aby zdać część pisemną egzaminu musisz uzyskać co najmniej **20 punktów**.
6. Czytaj uważnie wszystkie zadania.
7. Rozwiązania zaznaczaj na KARCIE ODPOWIEDZI długopisem lub piórem z czarnym tuszem/atramentem.
8. Do każdego zadania podane są cztery możliwe odpowiedzi: A, B, C, D. Odpowiada im następujący układ krerek w KARCIE ODPOWIEDZI:

A	B	C	D
---	---	---	---

9. Tylko jedna odpowiedź jest poprawna.
10. Wybierz właściwą odpowiedź i zamaluj kratkę z odpowiadającą jej literą – np., gdy wybrałeś odpowiedź „A”:

■	B	C	D
---	---	---	---

11. Staraj się wyraźnie zaznaczać odpowiedzi. Jeżeli się pomylisz i błędnie zaznaczysz odpowiedź, otocz ją kółkiem i zaznacz odpowiedź, którą uważasz za poprawną, np.

●	B	C	■
---	---	---	---

12. Po rozwiązaniu testu sprawdź, czy zaznaczyłeś wszystkie odpowiedzi na KARCIE ODPOWIEDZI i wprowadziłeś wszystkie dane, o których mowa w punkcie 2 tej instrukcji.

**Pamiętaj, że oddajesz przewodniczącemu zespołu nadzorującego tylko KARTĘ ODPOWIEDZI.**

***Powodzenia!***

\* w przypadku braku numeru *PESEL* – seria i numer paszportu lub innego dokumentu potwierdzającego tożsamość

### Zadanie 1.

Prawa i obowiązki zastrzeżone w kontrakcie handlowym, związane z organizowaniem transportu towarów, pokryciem kosztów wynikających z ich przewozu, ubezpieczenia i odpraw celnych to

- A. kontyngent.
- B. akredytywa.
- C. gestia transportowa.
- D. kongestia transportowa.

### Zadanie 2.

Zgodnie z obowiązującym prawem, formuła handlowa *franco* oznacza, że towar jest dostarczany na miejsce wskazane przez

- A. załadowcę.
- B. kupującego.
- C. przewoźnika.
- D. sprzedającego.

### Zadanie 3.

Dostęp do zawodu kierowcy wykonującego przewozy drogowe w Polsce w sposób kompleksowy reguluje

- A. Kodeks cywilny.
- B. Prawo przewozowe.
- C. Prawo o ruchu drogowym.
- D. Ustawa o transporcie drogowym.

### Zadanie 4.

Międzynarodowe przewozy drogowe towarów niebezpiecznych reguluje Umowa

- A. ATP.
- B. ADR.
- C. CMR.
- D. AETR.

### Zadanie 5.

Licencji na wykonywanie zarobkowego transportu drogowego udziela się na czas określony, **nie krótszy** niż

- A. 1 rok i nie dłuższy niż 10 lat.
- B. 2 lata i nie dłuższy niż 50 lat.
- C. 5 lat i nie dłuższy niż 40 lat.
- D. 5 lat i nie dłuższy niż 50 lat.

### Zadanie 6.

Przedstawiony na rysunku piktogram, umieszczony na samochodzie, informuje o przewożeniu materiału

- A. trującego.
- B. toksycznego.
- C. szkodliwego dla środowiska.
- D. utylizowanego ekologicznie.



### Zadanie 7.

Zapisy zawarte w Konwencji Wiedeńskiej dotyczą

- A. dopuszczalnej prędkości jazdy.
- B. zasad korzystania z karnetu CDP.
- C. jednolitych zasad ruchu drogowego.
- D. zapobiegania zanieczyszczeniu morza przez statki.

### Zadanie 8.

W przypadku, gdy gestia transportowa na głównym odcinku przewozu należy do kupującego, to należy zastosować formułę INCOTERMS 2010

- A. DAP
- B. DDP
- C. DAT
- D. EXW

### Zadanie 9.

Który rodzaj umowy zawartej pomiędzy współpracującymi przedsiębiorstwami należy zastosować w sytuacji, gdy jedna ze stron zobowiązuje się do przygotowania, wysłania i przewozu przesyłki?

- A. Umowę spedycji.
- B. Umowę przewozu.
- C. Umowę agencyjną.
- D. Umowę przechowania.

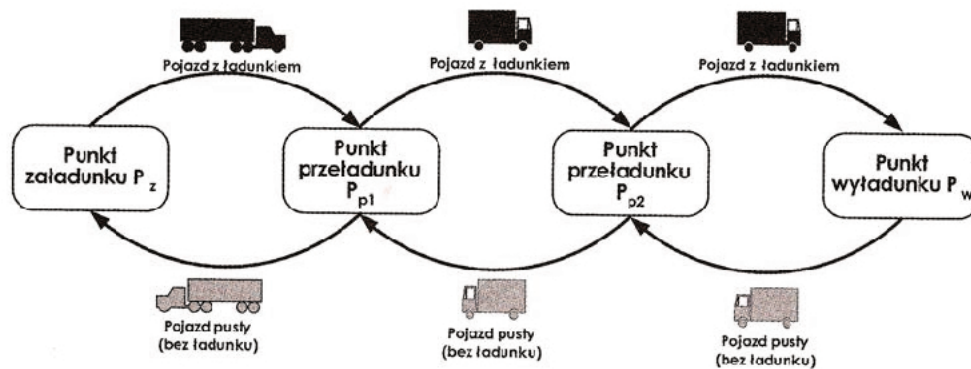
### Zadanie 10.

Proces łączenia niewielkich przesyłek (między innymi od różnych dostawców, dla różnych odbiorców) w celu transportu ich w jednym kontenerze to

- A. konsolidacja.
- B. dekonsolidacja.
- C. zlecenie spedycyjne.
- D. potrzeba transportowa.

**Zadanie 11.**

Schemat przedstawia realizację przewozów w modelu



- A. obwodowym.
- B. sztafetowym.
- C. wahadłowym.
- D. promienistym.

**Zadanie 12.**

Zgodnie z obowiązującymi przepisami w tachografy muszą być wyposażone pojazdy do przewozu ładunków, których dopuszczalna masa całkowita wraz z przyczepą przekracza

- A. 3,0 t
- B. 3,5 t
- C. 7,5 t
- D. 12,0 t

**Zadanie 13.**

W celu monitorowania pojazdów i ładunków stosuje się technologię wykorzystującą fale radiowe, którą określa się skrótem

- A. ERP
- B. GTIN
- C. RFID
- D. SSCC

**Zadanie 14.**

Który z przykładów GS1-128 przedstawia numer identyfikacyjny SSCC?

- A. (00)006141411234567890
- B. (420)45458(401)541234550127201
- C. (02)05901234567015(17)140202(37)40
- D. (01)03123451234569(15)121224(10)LV111

**Zadanie 15.**

Etykieta logistyczna GS1 służy do

- A. identyfikacji jednostek ładunkowych posiadających specjalny status.
- B. oznaczania i identyfikacji kontenerów, naczep i nadwozi wymiennych.
- C. oznaczenia jednostek logistycznych w standardowy sposób dla potrzeb wszystkich uczestników łańcucha dostaw.
- D. oznaczenia jednostek logistycznych uformowanych w sposób wymagający specjalnych czynności obsługowych w transporcie.

**Zadanie 16.**

Która z gałęzi transportu wykazuje najkorzystniejsze dostosowanie sieci dróg do rozmieszczenia rynków zaopatrzenia i zbytu?

- A. Transport morski.
- B. Transport lotniczy.
- C. Transport kolejowy.
- D. Transport samochodowy.

**Zadanie 17.**

Który z kontenerów służy do przewozu ładunków sypkich?



A.



B.



C.



D.

**Zadanie 18.**

Chcąc zawrzeć umowę o przewóz przesyłek skonsolidowanych transportem lotniczym, należy wystawić zbiorczy list przewozowy

- A. IATA DGR
- B. Bill of Lading.
- C. House Air Waybill.
- D. Master Air Waybill.

**Zadanie 19.**

Przedstawione logo – "Transports Internationaux Routiers" dotyczy tranzytu towarów w transporcie międzynarodowym



- A. samochodowym.
- B. intermodalnym.
- C. lotniczym.
- D. kolejowym.

**Zadanie 20.**

Odbiorca wskazany w krajowym samochodowym liście przewozowym kwituje odbiór towaru na egzemplarzu zwanym

- A. cedułą listu przewozowego.
- B. grzbietem listu przewozowego.
- C. oryginałem listu przewozowego.
- D. wtórnikami listu przewozowego.

**Zadanie 21.**

Cena netto usługi transportowej wynosi 1 100,00 złotych. Usługa transportowa objęta jest stawką VAT 23%. Przedsiębiorstwo transportowe udzieliło klientowi 5% rabat liczony od ceny netto. Ile wynosi kwota brutto wykazana na fakturze VAT?

- A. 1 045,00 zł
- B. 1 285,35 zł
- C. 1 353,00 zł
- D. 1 420,65 zł

**Zadanie 22.**

Do podstawy kalkulacji ceny za transport ładunku **nie zalicza** się

- A. amortyzacji pojazdu.
- B. składki ZUS kierownictwa firmy.
- C. kwoty mandatów za wykroczenia drogowe.
- D. czynszu za najem pomieszczeń firmy przewozowej.

**Zadanie 23.**

Dopuszczalna wysokość pojazdu samochodowego łącznie z ładunkiem zgodnie z polskimi przepisami wynosi

- A. 4,0 m
- B. 4,2 m
- C. 4,3 m
- D. 4,5 m

### Zadanie 24.

Zgodnie z ustawą o czasie pracy kierowców, maksymalny czas trwania nieprzerwanej jazdy wynosi

- A. 4,5 godziny.
- B. 5,0 godzin.
- C. 9,0 godzin.
- D. 10,0 godzin.

### Zadanie 25.

Która konwencja reguluje warunki międzynarodowych przewozów szybko psujących się artykułów żywnościowych i specjalnych środków transportu przeznaczonych do ich przewozu?

- A. ATA
- B. ATP
- C. COTIF
- D. SOLAS

### Zadanie 26.

Przepakowywanie, sortowanie, segregację w portach morskich, rzecznych, lotniczych, punktach odprawy celnej oraz magazynach celnych zalicza się do czynności spedycyjnych

- A. wykonawczych występujących po przewozie.
- B. wykonawczych występujących przed przewozem.
- C. organizacyjnych występujących przed przewozem.
- D. wykonawczych występujących w trakcie procesu transportowego.

### Zadanie 27.

Do Intermodalnych Jednostek Transportowych UTI **nie należą**

- A. naczepy siodłowe.
- B. kontenery wielkie.
- C. paletowe jednostki ładunkowe.
- D. nadwozia samochodowe wymienne.

### Zadanie 28.

Statki żeglugi morskiej o poziomym systemie przeładunkowym do przewozu znormalizowanych kontenerów zwane są

- A. lo-lo.
- B. ro-ro.
- C. masowcami.
- D. drobnicowcami.

**Zadanie 29.**

W systemie Ro-La (Rollende Landstrasse – ruchomej drogi) załadunek pojazdów na wagony niskopodwoziowe odbywa się zawsze poziomo poprzez najazd pojazdu

- A. tyłem na rampę boczną.
- B. tyłem na rampę czołową.
- C. przodem na rampę boczną.
- D. przodem na rampę czołową.

**Zadanie 30.**

Na podstawie tabeli określ, ile platform kolejowych o długości ładunkowej 18 660 mm należy podstawić do załadunku 6-ciu kontenerów typu 1B.

- A. 1 platformę kolejową.
- B. 3 platformy kolejowe.
- C. 6 platform kolejowych.
- D. 9 platform kolejowych.

Typ kontenera	Podstawowe wymiary w mm		
	Długość	Szerokość	Wysokość
1A	12 192	3 438	2 438
1B	9 125	3 438	2 438
1C	6 058	3 438	2 438
1D	2 991	3 438	2 438

**Zadanie 31.**

System transportu bimodalnego polega na przewozie

- A. naczep siodłowych wraz z ciągnikami na wagonach kolejowych niskopodwoziowych.
- B. specjalnych naczep samochodowych bez przeładunku ich zawartości po torach kolejowych na specjalnych wózkach wagonowych.
- C. samochodów ciężarowych jednoczłonowych i z przyczepami, kierowcy towarzyszą pojazdom, zajmując miejsca w wagonie sypialnym.
- D. naczep siodłowych, przyczep i nadwozi wymiennych na wagonach kolejowych, kierowcy i ciągniki nie towarzyszą przewożonym ładunkom.

**Zadanie 32.**

Wagon-platformę, przedstawiony na rysunku, należy zastosować do przewozu


- A. drewna.
- B. kontenerów.
- C. samochodów.
- D. ciężkich maszyn.





### Zadanie 33.

Który ze środków przeładunkowych stosowany jest do przemieszczania kontenerów?



### Zadanie 34.

Do przewozu ładunków ponadgabarytowych i ciężkich **nie nadają** się

- A. nadwozia wymienne.
- B. kontenery platformy.
- C. naczepy teleskopowe.
- D. przyczepy niskopodwoziowe.

### Zadanie 35.

Który rodzaj kontenera jest przeznaczony do przewozu ładunków przekraczających wysokość kontenera standardowego lub których nie można załadować do standardowego kontenera przez drzwi ze względów manipulacyjnych?

- A. Box.
- B. Frigo.
- C. Tank Generator.
- D. Open Top.

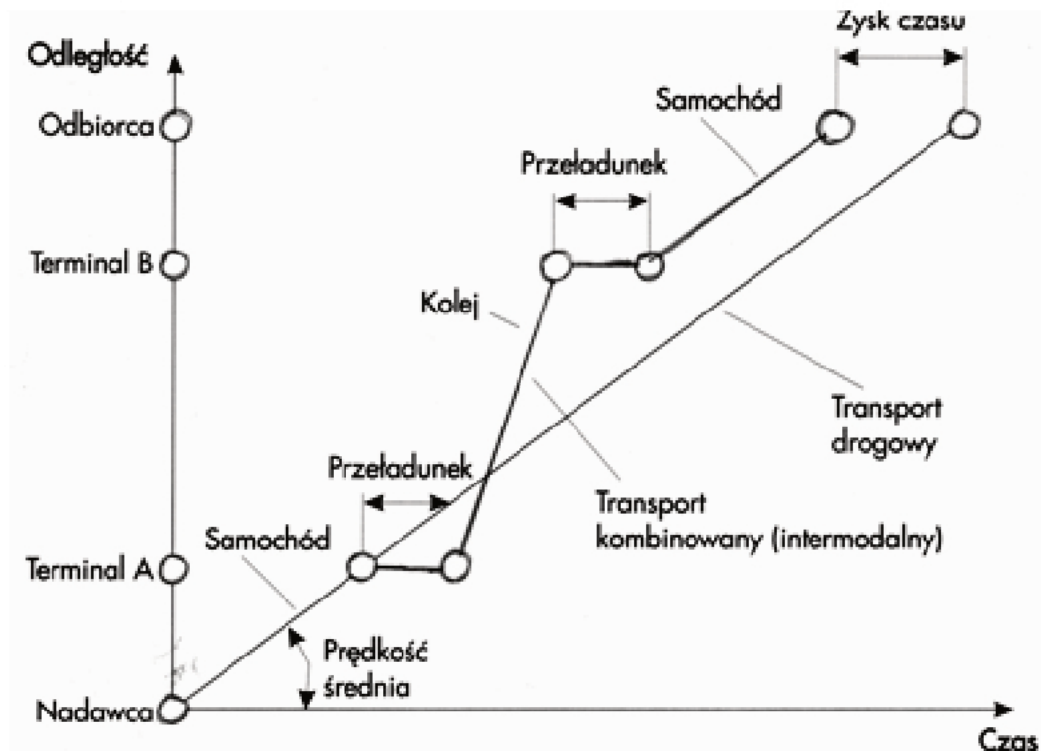
### Zadanie 36.

Do przewozu ładunków masowych luzem służą wagony

- A. chłodnie.
- B. węglarki.
- C. platformy.
- D. bagażowe.

**Zadanie 37.**

Rysunek przedstawia czas i drogę w transporcie kombinowanym. Z rysunku wynika, że



- A. samochód ma większą prędkość przewozu.
- B. pociąg ma większą prędkość przewozu.
- C. samochód przewozi większy ładunek.
- D. pociąg przewozi większy ładunek.

**Zadanie 38.**

Przedsiębiorstwo transportowe przyjęło zlecenie przewozu ładunku na odległość 600 km. Stawka kilometrowa wynosi 2,50 zł/km. Ile wyniesie podatek VAT od wartości usługi, jeżeli klientowi udzielono 10% rabatu wartości netto, a usługa jest objęta 23% stawką podatku od towarów i usług?

- A. 310,50 zł
- B. 322,00 zł
- C. 345,00 zł.
- D. 379,50 zł

**Zadanie 39.**

Środkiem transportu służącym do przewozu osób, wyposażonym w miejsca siedzące o wysokim standardzie wygody oraz wydzieloną część przeznaczoną do obsługi w zakresie zaspokajania potrzeb konsumpcyjnych i fizjologicznych podróżnych, jest

- A. autokar.
- B. autobus.
- C. minibus.
- D. mikrobus.

**Zadanie 40.**

Różnicowanie pionowe stawek taryfowych odbywa się ze względu na

- A. cechy ładunku.
- B. długość trasy przewozowej.
- C. pojemność środka transportowego.
- D. sposób realizacji usługi transportowej.