

Nazwa kwalifikacji: **Prowadzenie działalności handlowej**
Oznaczenie kwalifikacji: **A.22**
Wersja arkusza: **X**

A.22-X-19.01

Czas trwania egzaminu: **60 minut**

EGZAMIN POTWIERDZAJĄCY KWALIFIKACJE W ZAWODZIE
Rok 2019
CZEŚĆ PISEMNA

Instrukcja dla zdającego

- Sprawdź, czy arkusz egzaminacyjny zawiera 15 stron. Ewentualny brak stron lub inne usterki zgłoś przewodniczącemu zespołu nadzorującego.
- Do arkusza dołączona jest KARTA ODPOWIEDZI, na której w oznaczonych miejscach:
 - wpisz oznaczenie kwalifikacji,
 - zamaluj kratkę z oznaczeniem wersji arkusza,
 - wpisz swój numer PESEL*,
 - wpisz swoją datę urodzenia,
 - przyklej naklejkę ze swoim numerem PESEL.
- Arkusze egzaminacyjny zawiera test składający się z 40 zadań.
- Za każde poprawnie rozwiązane zadanie możesz uzyskać 1 punkt.
- Aby zdać część pisemną egzaminu musisz uzyskać co najmniej 20 punktów.
- Czytaj uważnie wszystkie zadania.
- Rozwiązania zaznaczaj na KARCIE ODPOWIEDZI długopisem lub piórem z czarnym tuszem/atramentem.
- Do każdego zadania podane są cztery możliwe odpowiedzi: A, B, C, D. Odpowiada im następujący układ krerek w KARCIE ODPOWIEDZI:

A	B	C	D
---	---	---	---

- Tylko jedna odpowiedź jest poprawna.
- Wybierz właściwą odpowiedź i zamaluj kratkę z odpowiadającą jej literą – np., gdy wybrałeś odpowiedź „A”:

<input checked="" type="checkbox"/>	B	C	D
-------------------------------------	---	---	---

- Staraj się wyraźnie zaznaczać odpowiedzi. Jeżeli się pomylisz i błędnie zaznaczysz odpowiedź, otocz ją kółkiem i zaznacz odpowiedź, którą uważasz za poprawną, np.

<input checked="" type="checkbox"/>	B	C	<input checked="" type="checkbox"/>
-------------------------------------	---	---	-------------------------------------

- Po rozwiązaniu testu sprawdź, czy zaznaczyłeś wszystkie odpowiedzi na KARCIE ODPOWIEDZI i wprowadziłeś wszystkie dane, o których mowa w punkcie 2 tej instrukcji.

Pamiętaj, że oddajesz przewodniczącemu zespołu nadzorującego tylko KARTĘ ODPOWIEDZI.

Powodzenia!

* w przypadku braku numeru PESEL – seria i numer paszportu lub innego dokumentu potwierdzającego tożsamość

Zadanie 1.

Którą z wymienionych technik badań kwestionariuszowych należy zastosować, jeżeli przeprowadzający badanie posiada dane teleadresowe respondentów i zależy mu na szybkim uzyskaniu odpowiedzi na trzy krótkie pytania?

- A. Ankietę pocztową.
- B. Ankietę audytoryjną.
- C. Wywiad bezpośredni.
- D. Wywiad telefoniczny.

Zadanie 2.

Który z zewnętrznych środków upowszechniania reklamy powinien zastosować osiedlowy sklep spożywczy, aby poinformować klientów o obowiązującej w określonym dniu promocyjnej cenie kiełbasy podsuszanej?

- A. Sztyl.
- B. Stand.
- C. Billboard.
- D. Citylight.

Zadanie 3.

Sprzedawca zamierzający wzmocnić w nabywcach przekonanie, że kupowany przez nich towar jest jeszcze lepszej jakości, modny i bardzo pożądanym, powinien zastosować reklamę

- A. edukacyjną.
- B. utrwalającą.
- C. informacyjną.
- D. konkurencyjną.

Zadanie 4.

Hurtownia planuje poszerzyć ofertę sprzedaży towarów, których sposób użytkowania wymaga specjalistycznej prezentacji. Z którego narzędzia promocji powinna skorzystać w pierwszej kolejności, aby zachęcić klientów do zakupu?

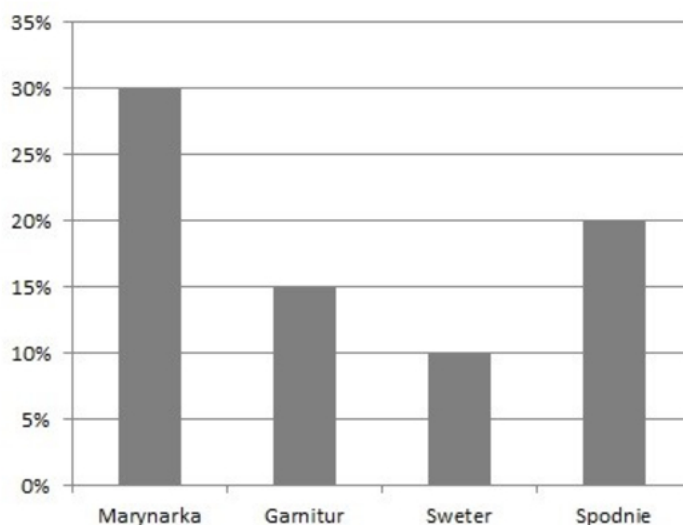
- A. Public relations.
- B. Sprzedaży osobistej.
- C. Promocji sprzedaży.
- D. Reklamy zewnętrznej.

Zadanie 5.

Na podstawie wyników badań rynku zaprezentowanych na wykresie, wskaż rodzaj odzieży męskiej, której zakup powinno przedsiębiorstwo handlowe ograniczyć w największym stopniu w 2019 roku.

- A. Sweter.
- B. Spodnie.
- C. Garnitur.
- D. Marynarka.

Spadek zapotrzebowania na odzież męską w roku 2019 w porównaniu z rokiem poprzednim

**Zadanie 6.**

Wyszczególnienie	botki	klapki	sandały	czółenka
Zmiana wielkości zapotrzebowania na obuwie w porównaniu z rokiem poprzednim	10%	-15%	0%	5%

W tabeli przedstawiono informacje na temat procentowej zmiany wielkości zapotrzebowania na obuwie. Przedsiębiorstwo, chcąc utrzymać sprzedaż wszystkich towarów co najmniej na poziomie wielkości sprzedaży z roku poprzedniego, powinno podjąć decyzję o zintensyfikowaniu w pierwszej kolejności działań promujących sprzedaż

- A. botków.
- B. klapków.
- C. czółenek.
- D. sandałów.

Zadanie 7.

W której części planu marketingowego należy zamieścić informacje o sposobach przepływu towarów?

- A. W zasadach kontroli.
- B. W strategiach dystrybucji.
- C. W opisie sytuacji rynkowej.
- D. W streszczeniu dla kierownictwa.

Zadanie 8.**Fragment Polskiej Klasyfikacji Wyrobów i Usług**

Symbol PKWiU	Nazwa grupowania (wybrane pozycje)
46.41.12.0	Sprzedaż hurtowa tkanin
46.41.13.0	Sprzedaż hurtowa pościeli, zasłon, firanek oraz różnorodnych artykułów użytku domowego z materiałów tekstylnych
46.42.11.0	Sprzedaż hurtowa odzieży
46.42.12.0	Sprzedaż hurtowa obuwia

Na podstawie zamieszczonego fragmentu klasyfikacji wskaż symbol PKWiU właściwy dla sprzedaży hurtowej firanek i zasłon.

- A. 46.41.12.0
- B. 46.41.13.0
- C. 46.42.11.0
- D. 46.42.12.0

Zadanie 9.**Fragment pisma**

(...) <p>Pozostałe warunki:</p> <ul style="list-style-type: none"> – termin dostawy: 20.01.2019 r., – płatność przelewem w terminie 14 dni, – towary wraz z fakturą prosimy przesłać do siedziby naszej firmy. (...)

Dla którego z wymienionych pism charakterystyczny jest zapis przytoczony w ramce?

- A. Zamówienia towarów.
- B. Zapytania ofertowego.
- C. Zlecenia dostawy.
- D. Oferty handlowej.

Zadanie 10.

Która z wymienionych form sprzedaży będzie najkorzystniejsza dla przedsiębiorcy zamierzającego otworzyć osiedlowy sklep spożywczo-przemysłowy?

- A. Specjalna.
- B. Tradycyjna.
- C. Akwizycyjna.
- D. Preselekcyjna.

Zadanie 11.**Fragment oferty hurtowni**

Hurtownia Artykułów Kosmetycznych

ul. Wesola 13, 05-140 Serock

tel. 608 400 300

Oferta handlowa ważna od 01.01.2019 r. do 01.02.2019 r.

Lp.	Rodzaj towaru	Jednostkowa cena sprzedaży netto w zł
1.	Krem do rąk	10,80
2.	Krem pod oczy	21,50
3.	Żel pod prysznic	12,40
4.	Szampon do włosów	15,30

Do podanych cen należy doliczyć 23% podatku VAT.

Pozostałe warunki sprzedaży:

- bezpłatny dowóz towarów przy zamówieniu powyżej 1 500,00 zł,
- termin realizacji 4 dni robocze,
- płatność przelewem w terminie 21 dni.

Który z elementów przedstawionej oferty hurtowni **nie podlega** negocjacom handlowym?

- A. Sposób płatności.
- B. Stawka podatku VAT.
- C. Termin zapłaty faktury.
- D. Warunki transportu towaru.

Zadanie 12.

Sprzedawca	Firma	Hurtownia DANMAL sp. z o.o.				FAKURA Nr 130/01/2019	Miejscowość: Poznań			
	Adres	ul. Krótka 5, 61-615 Poznań					Data wystawienia faktury:	10.01.2019 r.		
	NIP						Dzień dokonania (zakończenia) dostawy; wykonania usługi; otrzymania zaliczki: 10.01.2019 r.			
Nabywca	Firma (Imię i Nazwisko):	Sklep Wnętrza Maria Majewska								
	Adres	ul. Klonowa 1, 62-300 Września				NIP 7892211654				
Lp.	Nazwa towaru	Podstawa prawna zwolnienia od podatku	J.m.	Ilość	Cena jednostkowa bez podatku	Wartość towaru bez podatku	Stawka podatku VAT	Kwota podatku VAT	Wartość towaru z podatkiem	
1.	Farba ceramiczna 5 l		szt.	8	55,00 zł	440,00 zł	23%	101,20 zł	541,20 zł	
2.	Farba lateksowa 10 l		szt.	12	46,00 zł	552,00 zł	23%	126,96 zł	678,96 zł	
Sposób zapłaty: <u>przelew</u> Termin zapłaty: <u>14 dni</u>					Zestawienie sprzedaży wg stawek podatku	992,00 zł	23%	228,16 zł	1 220,16 zł	
W Banku: <u>BZ WBK SA</u>							8%			
Nr konta: <u>03 1090 4547 0003 0440 5544 5237</u>							5%			
Do zapłaty: <u>1 220 zł 16 gr</u>							0%			
Słownie: <u>jeden tysiąc dwieście dwadzieścia złotych 16/100</u>							zw.			
					RAZEM	992,00 zł		228,16 zł	1 220,16 zł	
					Tomasz Roszak <i>podpis osoby</i> <i>upoważnionej do wystawienia faktury</i>					

Który dokument należy wystawić, aby skorygować błąd występujący w przedstawionej fakturze?

- A. Notę odsetkową.
- B. Notę korygującą.
- C. Fakturę korygującą – zwiększającą.
- D. Fakturę korygującą – zmniejszającą.

Zadanie 13.

Który dokument należy sporządzić, gdy strony transakcji handlowej ustaliły ostateczne warunki sprzedaży, sposób wydawania towaru oraz kwestie dotyczące reklamacji?

- A. Zamówienie.
- B. List intencyjny.
- C. Ofertę handlową.
- D. Umowę handlową.

Zadanie 14.

Oblicz cenę sprzedaży brutto towaru opodatkowanego stawką podatku VAT 8%, jeżeli cena zakupu netto wynosi 50,00 zł, a przedsiębiorstwo handlowe stosuje 20% marżę liczoną od ceny zakupu.

- A. 54,00 zł
- B. 60,00 zł
- C. 64,80 zł
- D. 67,50 zł

Zadanie 15.

Hurtownia otrzymała cztery oferty zakupu towaru X. W której ofercie zaproponowano hurtowni najkorzystniejsze warunki?

Oferta	Jednostkowa cena zakupu	Rabat	Termin realizacji zamówienia	Termin zapłaty	Transport
A.	220,00 zł	5% przy zakupie powyżej 10 szt.	7 dni	14 dni	na koszt kupującego
B.	240,00 zł	3% przy zakupie powyżej 10 szt.	14 dni	14 dni	na koszt kupującego
C.	210,00 zł	5% przy zakupie powyżej 5 szt.	3 dni	21 dni	na koszt sprzedającego
D.	210,00 zł	5% przy zakupie powyżej 5 szt.	5 dni	7 dni	na koszt sprzedającego

Zadanie 16.

W której części magazynu należy umieścić towary z grupy towarowej C, zakwalifikowane do tej grupy na podstawie przeprowadzonej analizy ABC według częstości pobrań towarów z magazynu?

- A. Najbliżej od wyjścia.
- B. Najdalej od strefy wydań.
- C. Na początku strefy kompletacji.
- D. Na początku strefy składowania.

Zadanie 17.**Fragment kartoteki wartościowo-ilościowej**

Data	Symbol dowodu	Cena w zł	Ilość w szt.		Stan w szt.	Wartość w zł	
			przychód	rozchód		przychód	rozchód
02.01.2019	Pz	1,35	200		200	270,00	
07.01.2019	Pz	1,50	150		350	225,00	
08.01.2019	Wz			100	250		

Wyznacz wartość rozchodu towarów zgodnie z metodą wyceny FIFO na podstawie informacji w przedstawionej kartotece wartościowo-ilościowej.

- A. 135,00 zł
- B. 150,00 zł
- C. 200 00,zł
- D. 250,00 zł

Zadanie 18.

Kierownik hurtowni planuje wydawać z magazynu i rozliczać w pierwszej kolejności towary kupione najwcześniej. Którą metodę rozchodu zapasów powinien zastosować?

- A. LIFO
- B. FIFO
- C. FEFO
- D. LOFO

Zadanie 19.

Dokument magazynowy Wz potwierdza

- A. przyjęcie do magazynu zwrotu towaru.
- B. przyjęcie do magazynu wyrobów gotowych.
- C. wydanie z magazynu sprzedanych towarów.
- D. wydanie z magazynu materiałów do produkcji.

Zadanie 20.**Stan magazynowy czekolady mlecznej**

Lp.	Nazwa towaru	Jednostka miary	Stan magazynowy	Zapasy minimalny	Zapasy maksymalny
1.	Czekolada mleczna	szt.	55	20	40

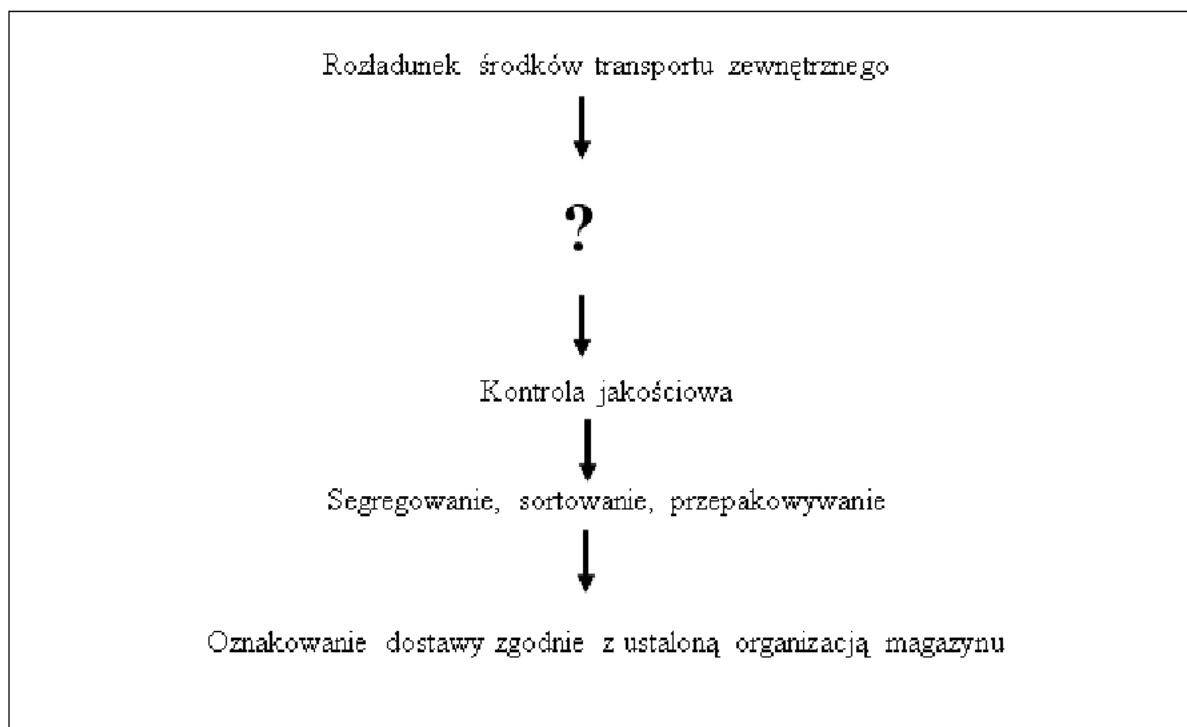
Na który rodzaj zapasu wskazuje przedstawiony stan magazynowy czekolady mlecznej?

- A. Zbędny.
- B. Nadmierny.
- C. Minimalny.
- D. Maksymalny.

Zadanie 21.

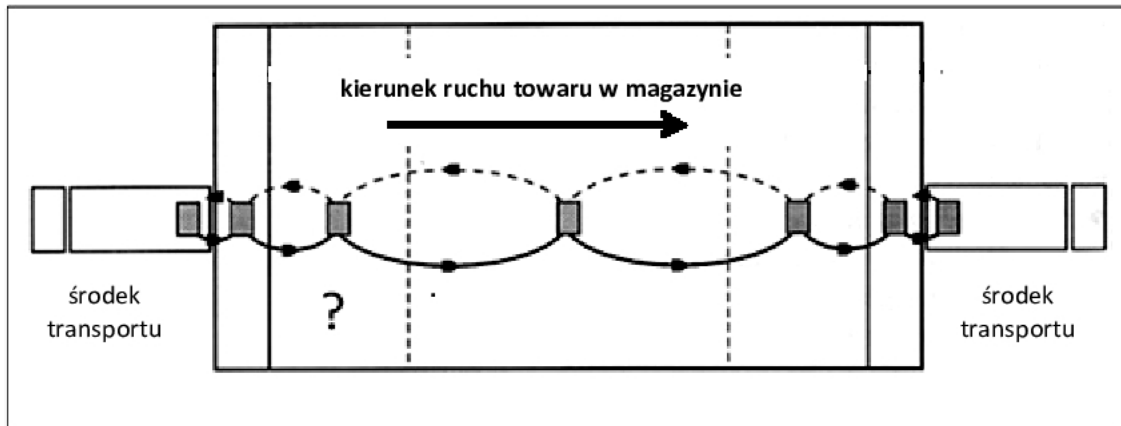
Pracownik odpowiedzialny za ilościowy odbiór proszków do prania powinien sprawdzić w pierwszej kolejności

- A. zapach towaru.
- B. sposób oznaczenia towaru.
- C. zgodność ilości towaru z zamówieniem.
- D. zgodność ilości towaru z dokumentami dostawy.

Zadanie 22.**Schemat czynności magazynowych**

Której czynności, wykonywanej w magazynowej strefie przyjęć towaru, brakuje w miejscu oznaczonym znakiem „?” w przedstawionym schemacie?

- A. Kontroli ilościowej towaru.
- B. Formowania jednostek wysyłkowych.
- C. Formowania partii towaru do wydania.
- D. Załadunku na środki transportu zewnętrznego.

Zadanie 23.**Schemat stref czynności manipulacyjnych magazynu**

Którą strefę magazynową zaznaczono znakiem „?” na przedstawionym schemacie zagospodarowania przestrzeni magazynowej?

- A. Wydań.
- B. Przyjęć.
- C. Składowania.
- D. Kompletacji.

Zadanie 24.

Lp.	Nazwa towaru lub usługi	J.m.	Ilość	Cena bez podatku VAT	Wartość bez podatku VAT	Stawka podatku VAT w %	Kwota podatku VAT	Wartość sprzedaży z podatkiem VAT
1.	Teczka kartonowa	szt.	10	2,80	28,00	23	6,44	
2.	Długopis BK- 88 czarny	szt.	20	4,80	96,00	23	22,08	
3.	Toner do drukarki TN 22	szt.	1	441,32	441,32	23	101,50	
Sposób zapłaty: <i>Przelew 7 dni</i>					565,32	23		
Do zapłaty				Zestawienie sprzedaży wg stawek podatku		8		
Słownie w zł						5		
<i>Korneliusz Mastowski</i> podpis osoby upoważnionej do wystawienia faktury						0		
						zw.		
RAZEM					565,32	x		

Na podstawie przedstawionego fragmentu faktury ustal ile wynosi łączna wartość towarów brutto.

- A. 130,02 zł
- B. 441,32 zł
- C. 565,32 zł
- D. 695,34 zł

Zadanie 25.

Która z zasad rachunkowości zakłada, że działalność jednostek ma być ujęta w wyznaczonych jednostkach czasu, np. miesiąc, rok obrotowy?

- A. Ciągłości.
- B. Istotności.
- C. Memoriału.
- D. Periodyzacji.

Zadanie 26.

Wypłatę z kasy zaliczki pracownikowi na zakup materiałów biurowych należy zaewidencjonować na kontach

- A. *Kasa* po stronie Wn, *Pozostałe rozrachunki z pracownikami* po stronie Ma.
- B. *Pozostałe rozrachunki z pracownikami* po stronie Wn, *Kasa* po stronie Ma.
- C. *Rachunek bieżący* po stronie Wn, *Pozostałe rozrachunki z pracownikami* po stronie Ma.
- D. *Pozostałe rozrachunki z pracownikami* po stronie Wn, *Rachunek bieżący* po stronie Ma.

Zadanie 27.

Operację gospodarczą *Lista płac – naliczono wynagrodzenie brutto pracownikom* należy zaewidencjonować na kontach

- A. *Wynagrodzenia* po stronie Wn, *Pozostałe rozrachunki* po stronie Ma.
- B. *Pozostałe rozrachunki* po stronie Wn, *Wynagrodzenia* po stronie Ma.
- C. *Rozrachunki z tytułu wynagrodzeń* po stronie Wn, *Wynagrodzenia* po stronie Ma.
- D. *Wynagrodzenia* po stronie Wn, *Rozrachunki z tytułu wynagrodzeń* po stronie Ma.

Zadanie 28.

Inwestycje długoterminowe 50 000,00 Sp.	Kredyty bankowe Sp. 80 000,00	Rozliczenie zakupu Sp. 5 000,00 7 000,00 Sp.
Towary Sp. 200 000,00	Rozrachunki z odbiorcami Sp. 10 000,00	Kapitał udziałowy 178 000,00 Sp.

Które konta księgowo zostały błędnie otwarte?

- A. *Towary* i *Rozrachunki z odbiorcami*.
- B. *Kapitał udziałowy* i *Rozliczenie z zakupu*.
- C. *Inwestycje długoterminowe* i *Kredyty bankowe*.
- D. *Rozrachunki z odbiorcami* i *Rozliczenie z zakupu*.

Zadanie 29.

Obrót kredytowy na przedstawionym koncie księgowym *Towary* wynosi

- A. 15500,00
- B. 19400,00
- C. 25000,00
- D. 34900,00

Towary			
Sp)	25 000,00	8 000,00	(1
3)	9 900,00	7 500,00	(2

Zadanie 30.

Pozycja	Wartość w walucie obcej	Kurs waluty obcej	
		z dnia otrzymania kredytu	z dnia spłaty kredytu
Kredyt bankowy	10 000,00 EUR	3,9816	4,3816

W tabeli przedstawiono informację dotyczącą zaciągniętego kredytu bankowego w walucie obcej. W wyniku spłaty kredytu bankowego powstała

- A. ujemna różnica kursowa w wysokości 4 000,00 zł.
- B. dodatnia różnica kursowa w wysokości 4 000,00 zł.
- C. ujemna różnica kursowa w wysokości 39 816,00 zł.
- D. dodatnia różnica kursowa w wysokości 43 816,00 zł.

Zadanie 31.

Lp.	AKTYWA	Wartość w zł	Lp.	PASYWA	Wartość w zł
1.	Środki trwałe	70 000,00	1.	Kapitał zakładowy	90 000,00
2.	Towary	20 000,00	2.	Zysk netto	5 000,00
3.	Należności od odbiorców	5 000,00	3.	Kredyty i pożyczki	2 000,00
4.	Środki pieniężne w kasie	1 000,00	4.	Zobowiązania krótkoterminowe	3 000,00
5.	Środki pieniężne na rachunku bankowym	4 000,00			
RAZEM		100 000,00	RAZEM		100 000,00

Na podstawie danych z bilansu przedsiębiorstwa handlowego sporządzonego na dzień 31.12.2018 r. oblicz wysokość kapitału własnego przedsiębiorstwa.

- A. 90 000,00 zł
- B. 95 000,00 zł
- C. 97 000,00 zł
- D. 98 000,00 zł

Zadanie 32.

Podczas inwentaryzacji stwierdzono w kasie niedobór gotówki, którego przyczyn nie ustalono. Rozliczenie tego niedoboru należy księgować po stronie Ma na koncie *Rozliczenie niedoborów i szkód* oraz po stronie Wn na koncie

- A. *Pozostałe rozrachunki.*
- B. *Pozostałe koszty operacyjne.*
- C. *Pozostałe przychody operacyjne.*
- D. *Pozostałe rozrachunki z pracownikami.*

Zadanie 33.

Podczas inwentaryzacji ustalono następujące różnice inwentaryzacyjne:

- nadwyżka długopisów PENTEL 0,7 mm 100 szt. po 30 zł/szt.
- niedobór długopisów PENTEL 0,5 mm 80 szt. po 24 zł/szt.

Komisja inwentaryzacyjna, po analizie stwierdzonych różnic inwentaryzacyjnych, podjęła decyzję o skompensowaniu różnic. Ile wyniesie wartość kompensaty?

- A. 1 920,00 zł
- B. 2 400,00 zł
- C. 3 000,00 zł
- D. 4 920,00 zł

Zadanie 34.

W przedsiębiorstwie handlowym na koniec miesiąca podatek VAT naliczony wyniósł 5 700,00 zł, natomiast podatek VAT należny 7 700,00 zł. W podsumowaniu obliczeń w deklaracji VAT-7 należy wykazać

- A. należność od Urzędu Skarbowego w kwocie 5 700,00 zł.
- B. należność od Urzędu Skarbowego w kwocie 2 000, 00 zł.
- C. zobowiązanie wobec Urzędu Skarbowego w kwocie 7 700,00 zł.
- D. zobowiązanie wobec Urzędu Skarbowego w kwocie 2 000,00 zł.

Zadanie 35.

Na podstawie danych zapisanych w tabeli ustal kwotę podatku VAT, którą przedsiębiorca powinien odprowadzić do urzędu skarbowego, przy założeniu, że sprzedał 100% zakupionego towaru i rozlicza się z podatku VAT w okresach miesięcznych.

- A. 2 300,00 zł
- B. 4 151,50 zł
- C. 5 750,00 zł
- D. 8 050,00 zł

Wartość netto zakupionych towarów	25 000,00 zł
Stawka podatku VAT	23%
Zrealizowana marża na sprzedaży towarów liczona od ceny zakupu	40%
Podatek VAT naliczony (do odliczenia)	5 750,00 zł

Zadanie 36.

Hurtownia GRETA sp. z o.o. ul. Prosta 32 60-197 Poznań NIP 7790012555	Poznań, dnia 28 grudnia 2018 r. Sklep Wielobranżowy MIX sp. z o.o. ul. Solna 24 60-197 Poznań NIP 7791124112							
NOTA ODSETKOWA Nr 1/12/2018								
Na podstawie umowy o dostawę towarów z dnia 01.10.2018 r. wzywamy Państwa do uregulowania, tytułem odsetek za opóźnienie w zapłacie za fakturę sprzedaży towarów, kwoty: 203,00 zł (słownie: dwieście trzy złote) zgodnie z podanym niżej obliczeniem:								
Lp.	Nr faktury	Data faktury	Kwota faktury w zł	Termin płatności	Data zapłaty	Liczba dni zwłoki	Stawka % odsetek	Kwota odsetek w zł
1.	62/10/2018	08.10.2018 r.	14 500,00	22.10.2018 r.	24.12.2018 r.	64	8	203,00
RAZEM								203,00
Wymienioną kwotę prosimy przekazać na rachunek nr 03 1090 4417 0000 0000 1200 7879 w ciągu 14 dni od daty otrzymania niniejszego wezwania.								
Prezes Zarządu <i>Mirosława Madej</i>								

Zamieszczony dowód księgowy jest podstawą naliczenia w księgach handlowych

- A. przychodów finansowych w Sklepie Wielobranżowym MIX sp. z o.o.
- B. pozostałych przychodów operacyjnych w Sklepie Wielobranżowym MIX sp. z o.o.
- C. przychodów finansowych w Hurtowni GRETA sp. z o.o.
- D. kosztów finansowych w Hurtowni GRETA sp. z o.o.

Zadanie 37.**Wielkość sprzedaży towarów w Hurtowni *MARIA***

Lp.	Wyszczególnienie	Liczba towarów w szt.
1.	Towar K	5 000
2.	Towar L	3 000
3.	Towar M	500
4.	Towar N	1 500

Na podstawie informacji zawartych w tabeli ustal, jaką procentową część sprzedaży towarów hurtowni stanowi sprzedaż towaru L.

- A. 5%
- B. 15%
- C. 30%
- D. 50%

Zadanie 38.**Przychody i zyski przedsiębiorstwa handlowego w latach 2015-2018**

Rok	Zysk netto w zł	Przychody ze sprzedaży w zł
2015	13 000,00	170 000,00
2016	19 000,00	190 000,00
2017	14 000,00	180 000,00
2018	13 000,00	190 000,00

Na podstawie danych zawartych w tabeli określ, w którym roku przedsiębiorstwo handlowe uzyskało największy zysk netto z 1 złotówki przychodu ze sprzedaży.

- A. W 2015 roku.
- B. W 2016 roku.
- C. W 2017 roku.
- D. W 2018 roku.

Zadanie 39.**Fragment sprawozdania finansowego**

1.	Środki trwałe	60 000,00	1.	Kapitał zakładowy	400 000,00
2.	Towary	450 000,00	2.	Kapitał zapasowy	110 000,00
3.	Należności od odbiorców	20 000,00	3.	Kapitał rezerwowy	80 000,00
4.	Rachunek bieżący	60 000,00			
Suma bilansowa		590 000,00	Suma bilansowa		590 000,00

Który element sprawozdania finansowego przedstawia zamieszczony fragment tego dokumentu?

- A. Bilans ruchu.
- B. Bilans przedsiębiorstwa.
- C. Rachunek zysków i strat.
- D. Rachunek przepływów pieniężnych.

Zadanie 40.

Przedsiębiorstwo handlowe w okresie najbliższych pięciu lat zamierza poszerzyć asortyment sprzedawanych towarów. W którym planie należy uwzględnić realizację zamierzonych celów?

- A. Operacyjnym wycinkowym.
- B. Operacyjnym problemowym.
- C. Strategicznym wycinkowym.
- D. Strategicznym problemowym.