

Nazwa kwalifikacji: **Prowadzenie działalności handlowej**

Oznaczenie kwalifikacji: **A.22**

Wersja arkusza: **X**

A.22-X-15.08

Czas trwania egzaminu: **60 minut**

EGZAMIN POTWIERDZAJĄCY KWALIFIKACJE W ZAWODZIE

Rok 2015

CZĘŚĆ PISEMNA

Instrukcja dla zdającego

1. Sprawdź, czy arkusz egzaminacyjny zawiera 14 stron. Ewentualny brak stron lub inne usterki zgłoś przewodniczącemu zespołu nadzorującego.
2. Do arkusza dołączona jest KARTA ODPOWIEDZI, na której w oznaczonych miejscach:
 - wpisz oznaczenie kwalifikacji,
 - zamaluj kratkę z oznaczeniem wersji arkusza,
 - wpisz swój numer PESEL*,
 - wpisz swoją datę urodzenia,
 - przyklej naklejkę ze swoim numerem PESEL.
3. Arkusz egzaminacyjny zawiera test składający się z 40 zadań.
4. Za każde poprawnie rozwiązane zadanie możesz uzyskać 1 punkt.
5. Aby zdać część pisemną egzaminu musisz uzyskać co najmniej 20 punktów.
6. Czytaj uważnie wszystkie zadania.
7. Rozwiązania zaznaczaj na KARCIE ODPOWIEDZI długopisem lub piórem z czarnym tuszem/atramentem.
8. Do każdego zadania podane są cztery możliwe odpowiedzi: A, B, C, D. Odpowiada im następujący układ krerek w KARCIE ODPOWIEDZI:

| | | | |
|---|---|---|---|
| A | B | C | D |
|---|---|---|---|

9. Tylko jedna odpowiedź jest poprawna.
10. Wybierz właściwą odpowiedź i zamaluj kratkę z odpowiadającą jej literą – np., gdy wybrałeś odpowiedź „A”:

| | | | |
|-------------------------------------|---|---|---|
| <input checked="" type="checkbox"/> | B | C | D |
|-------------------------------------|---|---|---|

11. Staraj się wyraźnie zaznaczać odpowiedzi. Jeżeli się pomylisz i błędnie zaznaczysz odpowiedź, otocz ją kółkiem i zaznacz odpowiedź, którą uważasz za poprawną, np.

| | | | |
|-------------------------------------|---|---|-------------------------------------|
| <input checked="" type="checkbox"/> | B | C | <input checked="" type="checkbox"/> |
|-------------------------------------|---|---|-------------------------------------|

12. Po rozwiązaniu testu sprawdź, czy zaznaczyłeś wszystkie odpowiedzi na KARCIE ODPOWIEDZI i wprowadziłeś wszystkie dane, o których mowa w punkcie 2 tej instrukcji.

Pamiętaj, że oddajesz przewodniczącemu zespołu nadzorującego tylko KARTĘ ODPOWIEDZI.

Powodzenia!

* w przypadku braku numeru PESEL – seria i numer paszportu lub innego dokumentu potwierdzającego tożsamość

Zadanie 1.

Zewnętrznym, wtórnym źródłem informacji dla działu zamówień przedsiębiorstwa handlowego jest

- A. raport fiskalny za okres miesięczny.
- B. zestawienie z Rocznika Statystycznego Polski.
- C. zestawienie uwzględniające sprzedaż według asortymentu.
- D. raport z badań przeprowadzonych na zlecenie przedsiębiorstwa.

Zadanie 2.

Którą technikę badań ankietowych należy zastosować, jeżeli podstawowym kryterium jej wyboru są niskie koszty przeprowadzenia?

- A. Ankietę prasową.
- B. Ankietę pocztową.
- C. Ankietę rozdawaną przez pracownika agencji reklamowej.
- D. Ankietę internetową na stronach popularnych przeglądarek.

Zadanie 3.

Która z reklam **nie jest** przejawem nieuczciwej konkurencji zgodnie z przytoczonymi przepisami?

Fragment ustawy o zwalczaniu nieuczciwej konkurencji

(...)

Art. 16. 1. Czynem nieuczciwej konkurencji w zakresie reklamy jest w szczególności:

- 1) reklama sprzeczna z przepisami prawa, dobrymi obyczajami lub uchybiająca godności człowieka;
- 2) reklama wprowadzająca klienta w błąd i mogąca przez to wpłynąć na jego decyzję co do nabycia towaru lub usługi;
- 3) reklama odwołująca się do uczuć klientów przez wywoływanie lęku, wykorzystywanie przesądów lub łatwowierności dzieci;
- 4) wypowiedź, która, zachęcając do nabywania towarów lub usług, sprawia wrażenie neutralnej informacji;
- 5) reklama, która stanowi istotną ingerencję w sferę prywatności, w szczególności przez uciążliwe dla klientów nagabywanie w miejscach publicznych, przesyłanie na koszt klienta niezamówionych towarów lub nadużywanie technicznych środków przekazu informacji.

6) (uchylony).

(...)

- A. Ukryta.
- B. Uciążliwa.
- C. Nierzeczowa.
- D. Porównawcza.

Zadanie 4.

Na plakacie przedstawiono reklamę

- A. społeczną.
- B. teaserową.
- C. podprogową.
- D. porównawczą.

**Zadanie 5.**

Którą reklamę powinno zastosować przedsiębiorstwo zamierzające przekonać obecnych klientów, że dokonali właściwego wyboru szamponu do włosów?

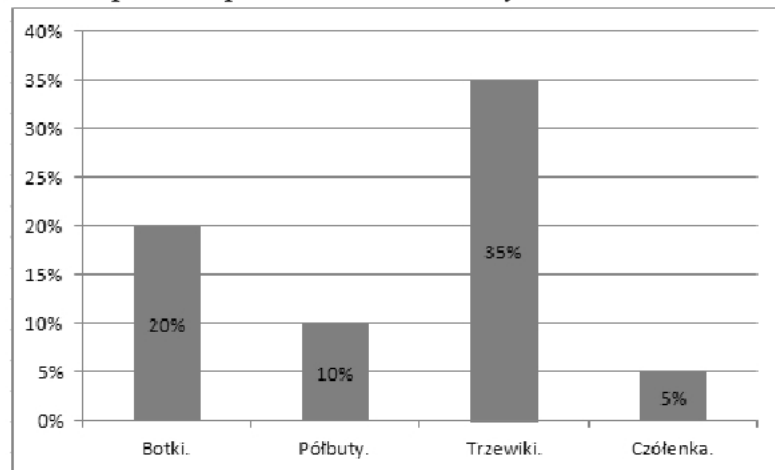
- A. Nakłaniającą.
- B. Informacyjną.
- C. Wzmacniającą.
- D. Konkurencyjną.

Zadanie 6.

Przedsiębiorstwo handlowe, biorąc pod uwagę informacje przedstawione na wykresie, powinno ograniczyć zamówienia od dostawców na rok 2015 butów typu

- A. botki.
- B. półbuty.
- C. trzewiki.
- D. czółenka.

Spadek zapotrzebowania na buty w roku 2015

**Zadanie 7.**

Na podstawie informacji przedstawionych w tabeli ustal, do której grupy wiekowej powinno skierować przedsiębiorstwo swoją ofertę, jeżeli kryterium wyboru jest liczebność grupy wiekowej.

- A. Dwudziestolatków.
- B. Trzydziestolatków.
- C. Czterdziestolatków.
- D. Pięćdziesięciolatków.

| Grupa wiekowa | Skumulowany wskaźnik struktury (%) |
|------------------------|------------------------------------|
| Dwudziestolatkowie | 10 |
| Trzydziestolatkowie | 50 |
| Czterdziestolatkowie | 70 |
| Pięćdziesięciolatkowie | 100 |

Zadanie 8.

Na ocenę słabych i mocnych stron przedsiębiorstwa pozwala analiza

- A. SWOT.
- B. portfolio.
- C. portfelowa.
- D. 5 sił Portera.

Zadanie 9.

Do której podklasy należy działalność gospodarcza z dominującą sprzedażą artykułów spożywczych?

Fragment klasyfikacji PKD

| grupa/klasa/podklasa | Nazwa grupowania | Opis dodatkowy |
|----------------------|--|---|
| 47.1 | Sprzedaż detaliczna prowadzona w niewyspecjalizowanych sklepach | |
| 47.11 | Sprzedaż detaliczna prowadzona w niewyspecjalizowanych sklepach z przewagą żywności, napojów i wyrobów tytoniowych | |
| 47.11.Z | Sprzedaż detaliczna prowadzona w niewyspecjalizowanych sklepach z przewagą żywności, napojów i wyrobów tytoniowych | Podklasa ta obejmuje sprzedaż detaliczną różnego rodzaju towarów, wśród których przeważa żywność, napoje i wyroby tytoniowe. Poza sprzedażą ww. artykułów jako głównej działalności handlowej, prowadzi się także sprzedaż innych towarów, takich jak: odzież, meble, urządzenia gospodarstwa domowego, artykuły metalowe, kosmetyki itp. |
| 47.19 | Pozostała sprzedaż detaliczna prowadzona w niewyspecjalizowanych sklepach | |
| 47.19.Z | Pozostała sprzedaż detaliczna prowadzona w niewyspecjalizowanych sklepach | Podklasa ta obejmuje: <ul style="list-style-type: none"> • sprzedaż detaliczną różnego rodzaju towarów, wśród których żywność, napoje i wyroby tytoniowe nie zajmują dominującej pozycji, • działalność domów towarowych prowadzących sprzedaż towarów, takich jak: odzież, meble, urządzenia gospodarstwa domowego, artykuły metalowe, kosmetyki, biżuteria, zabawki, artykuły sportowe itp. |

- A. 47.1
- B. 47.11
- C. 47.11.Z
- D. 47.19.Z

Zadanie 10.

Wyszków, 09.06.2015 r.

Sprawa: Oferta

Szanowni Państwo!

W odpowiedzi na Państwa zapytanie ofertowe nr 1/06/2015 z dnia 02.06.2015 r. przedstawiamy aktualną ofertę sprzedaży bluzek.

| Nazwa artykułu | Cena sprzedaży netto w zł | Stawka podatku VAT |
|--------------------------|---------------------------|--------------------|
| Bluzka damska bawełniana | 100,00 | 23% |
| Bluzka młodzieżowa len | 62,50 | 23% |

Przy zakupie powyżej 1 000 zł hurtownia stosuje bezpłatny dowóz w granicach miasta.

Przy zakupie powyżej 10 000 zł hurtownia stosuje rabat w wysokości 5%.

Termin realizacji zamówień 7 dni, liczone od dnia potwierdzenia zamówienia.

Termin płatności 14 dni od dnia wystawienia faktury.

Oferta obowiązuje do końca bieżącego miesiąca.

Z poważaniem

Wiktoria Przybyły

W przedstawionej ofercie handlowej brakuje

- A. podpisu oferenta.
- B. daty sporządzenia oferty.
- C. numeru zapytania ofertowego.
- D. danych identyfikujących oferenta.

Zadanie 11.

Którą formę sprzedaży powinien zastosować sprzedawca ekskluzywnych towarów, jeżeli zamierza stosować podwyższony standard obsługi klientów oczekujących profesjonalnego doradztwa?

- A. Komisową.
- B. Tradycyjną.
- C. Wysyłkową.
- D. Samoobsługową.

Zadanie 12.

Który z elementów oferty hurtowni **nie podlega** negocjacom handlowym?

Fragment oferty hurtowni

| Lp. | Nazwa towaru | J.m. | Cena netto za opakowanie zbiorcze |
|-----|-------------------------|--------------------|-----------------------------------|
| 1 | Woda mineralna Alpejska | Zgrzewka – 6 szt. | 15,00 zł |
| 2 | Woda źródłana Rosa | Zgrzewka – 10 szt. | 20,00 zł |

- Przy zakupie powyżej 100 zgrzewek stosujemy rabat 10%.
- Bezpłatny dowóz towarów w dniu zakupu przy zakupie powyżej 1 000 zł.
- Termin realizacji zamówienia: 10 dni.
- Termin płatności: 21 dni od dnia wystawienia faktury.

- A. Termin zapłaty faktury.
- B. Warunki transportu towaru.
- C. Wysokość udzielanego rabatu.
- D. Ilość sztuk w opakowaniu zbiorczym.

Zadanie 13.

Notę korygującą wystawia

- A. nabywca towaru, który otrzymał fakturę zawierającą błędną ilość zamówionego towaru.
- B. sprzedawca towaru, który wystawił fakturę zawierającą błędną ilość zamówionego towaru.
- C. nabywca towaru, który otrzymał fakturę zawierającą błędny numer NIP.
- D. sprzedawca towaru, który wystawił fakturę zawierającą błędny numer NIP.

Zadanie 14.

Który z warunków umowy sprzedaży **nie dotyczy** sprzedaży konsumenckiej?

- A. Kupującym jest hurtownia.
- B. Przedmiotem sprzedaży jest ruchomość.
- C. Kupujący nabywa towar w celu niezwiązanym z działalnością zawodową.
- D. Sprzedawca dokonuje sprzedaży w zakresie prowadzenia działalności gospodarczej.

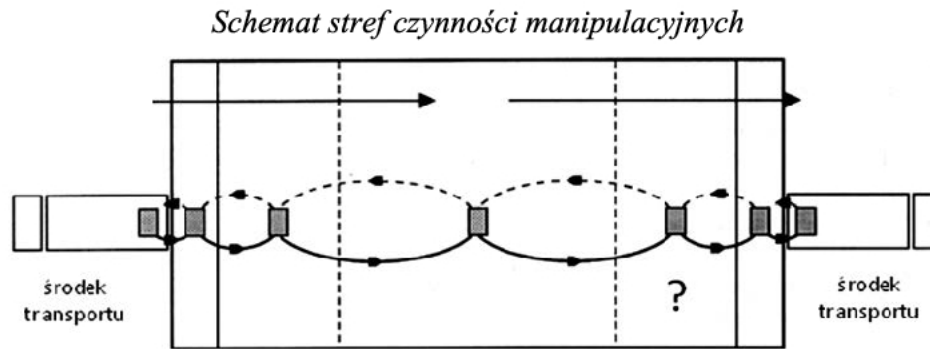
Zadanie 15.

Ile wynosi cena sprzedaży netto spółnicy, jeżeli jednostkowy koszt jej wytworzenia wynosi 40,00 zł, a narzut zysku stanowi 20% kosztu wytworzenia?

- A. 32,00 zł
- B. 48,00 zł
- C. 50,00 zł
- D. 60,00 zł

Zadanie 16.

Na przedstawionym schemacie zagospodarowania przestrzeni magazynowej znakiem zapytania zaznaczono



- A. strefę przyjęć.
- B. strefę składowania.
- C. front przeładunkowy przyjęć.
- D. front przeładunkowy wydań.

Zadanie 17.

Ile wynosi wartość rozchodu towarów zgodnie z metodą wyceny LIFO?

Fragmenc kartoteki wartościowo-ilościowej

| Data | Symbol dowodu | Cena (zł) | Ilość | | Stan | Wartość | |
|------------|---------------|-----------|----------|---------|------|----------|---------|
| | | | przychód | rozchód | | przychód | rozchód |
| 01.06.2015 | Pz | 2,00 | 250 | | 300 | 500,00 | |
| 10.06.2015 | Pz | 2,20 | 200 | | 500 | 440,00 | |
| 10.06.2015 | Wz | | | 100 | 400 | | |

- A. 200,00 zł
- B. 220,00 zł
- C. 800,00 zł
- D. 880,00 zł

Zadanie 18.

Zgodnie z zasadą FIFO jako pierwsza zostanie wydana z magazynu dostawa towarów

- A. najtańszych.
- B. najdroższych.
- C. otrzymanych najpóźniej.
- D. otrzymanych najwcześniej.

Zadanie 19.

W przedstawionej kartotece błędnie dokonano zapisu z datą

| KARTOTEKA MAGAZYNOWA | | | | | | |
|---|------------|-----------------------|---|----------|---------------------------------|------|
| Hurtownia Odzieży Młodzieżowej TOP LANS s. c. ul. Mazowiecka 22 07-200 Wyszaków | | | Nazwa: spodnie damskie krótkie, bawełniane | | INDEKS 12365490 | |
| | | | | | Marża: 20% | |
| | | | | | Metoda liczenia marży: W STU | |
| Jednostka miary: szt. | | | Cena zakupu netto: 60,00 zł | | | |
| Lp. | Data | Symbol i numer dowodu | Przeznaczenie | Przychód | Rozchód | Stan |
| 1. | 30.05.2015 | Pz 20/05/2015 | do sprzedaży | 110 | ----- | 110 |
| 2. | 06.06.2015 | Wz 01/06/2015 | sprzedaż | ----- | 30 | 80 |
| 3. | 10.06.2015 | Pz 11/06/2015 | do sprzedaży | 100 | ----- | 180 |
| 4. | 16.06.2015 | Wz 02/06/2015 | sprzedaż | 50 | ----- | 230 |

- A. 30.05.2015
- B. 06.06.2015
- C. 10.06.2015
- D. 16.06.2015

Zadanie 20.

Pracownik magazynu dostawcy ma przeprowadzić kontrolę stopnia dojrzałości owoców. Która z metod badania powinna zostać wykorzystana?

- A. Fizyczna.
- B. Sensoryczna.
- C. Konsumenckiej oceny.
- D. Doświadczalnego użytkowania.

Zadanie 21.

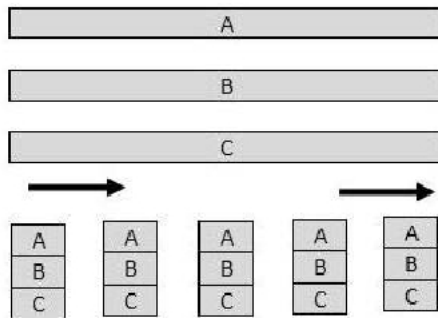
Które urządzenie systemu zabezpieczeń towarów przed kradzieżą przedstawiono na zdjęciu?

- A. Safer.
- B. Dezaktywator.
- C. Szyba alarmowa.
- D. Lustro weneckie.

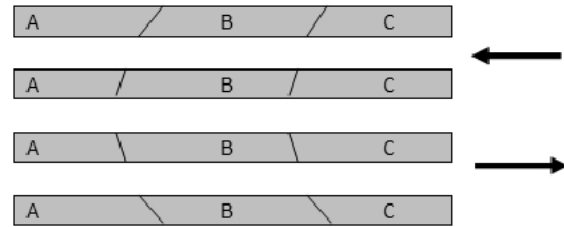


Zadanie 22.

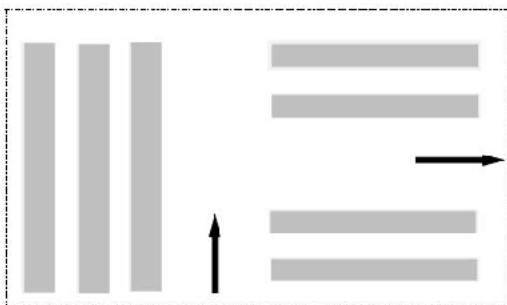
Na którym schemacie przedstawiono workowy układ technologiczny magazynu?



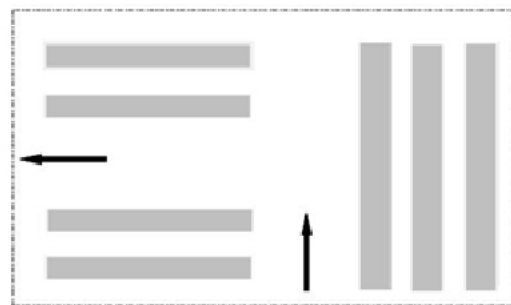
A.



B.



C.



D.

Zadanie 23.

Klient nabywa prawo do reklamacji z tytułu rękojmi, gdy

- A. otrzyma kupiony towar i dokument gwarancyjny.
- B. uzyska ustne zapewnienie sprzedawcy o zgodności towaru z umową.
- C. uzyska pisemne zapewnienie sprzedawcy o zgodności towaru z umową.
- D. otrzyma kupiony towar i paragon fiskalny lub inny dokument potwierdzający zakup.

Zadanie 24.

Hurtownia sprzedała towary za gotówkę. Wydanie sprzedanych towarów na podstawie dowodu Wz należy zaewidencjonować na kontach

- A. *Kasa* po stronie Wn, *Towary* po stronie Ma.
- B. *Rozliczenie zakupu* po stronie Wn, *Towary* po stronie Ma.
- C. *Wartość sprzedanych towarów w cenie zakupu* po stronie Wn, *Towary* po stronie Ma.
- D. *Towary* po stronie Wn, *Wartość sprzedanych towarów w cenie zakupu* po stronie Ma.

Zadanie 25.

Na którym koncie błędnie zapisano saldo początkowe?

| KASA | |
|------------|----|
| Sp.) 5 000 | |
| | A. |

| TOWARY | |
|------------|----|
| Sp.) 8 000 | |
| | B. |

| KAPITAŁ ZAKŁADOWY | |
|-------------------|-------------|
| | 50 000 Sp.) |
| | C. |

| WARTOŚCI NIEMATERIALNE I PRAWNE | |
|------------------------------------|------------|
| | 2 000 Sp.) |
| | D. |

Zadanie 26.

Operacja gospodarcza o treści „spłacono zobowiązania wobec dostawców z rachunku bieżącego jednostki” spowoduje zmianę obrotów na kontach

- A. *Rachunek bieżący (zwiększenie), Rozrachunki z dostawcami (zwiększenie).*
- B. *Rachunek bieżący (zwiększenie), Rozrachunki z dostawcami (zmniejszenie).*
- C. *Rachunek bieżący (zmniejszenie), Rozrachunki z dostawcami (zwiększenie).*
- D. *Rachunek bieżący (zmniejszenie), Rozrachunki z dostawcami (zmniejszenie).*

Zadanie 27.

Na podstawie zapisów na kontach ustal, ile wyniesie wartość bilansowa towarów na koniec roku.

| TOWARY | |
|-----------|--|
| 37 500,00 | |

| ODCHYLENIA OD CEN EWIDENCYJNYCH TOWARÓW | |
|--|----------|
| | 1 050,00 |
| | 1 450,00 |

- A. 36 450,00 zł
- B. 35 050,00 zł
- C. 35 000,00 zł
- D. 37 500,00 zł

Zadanie 28.

Do pozostałych kosztów operacyjnych w przedsiębiorstwie handlowym zalicza się

- A. zakup akcji.
- B. odsetki budżetowe.
- C. ujemne różnice kursowe.
- D. nieodpłatne przekazanie towarów.

Zadanie 29.

Jednostka handlowa sprzedała fotel w cenie sprzedaży netto 1 200,00 zł, realizując marżę w wysokości 20% ceny sprzedaży netto. Ile wyniosła zrealizowana marża?

- A. 240,00 zł
- B. 300,00 zł
- C. 1 440,00 zł
- D. 1 500,00 zł

Zadanie 30.

W tabeli zamieszczono wyniki inwentaryzacji przeprowadzonej w hurtowni owoców.

| L.p. | Nazwa towaru | Cena jednostkowa | Stan według: | |
|------|--------------|------------------|----------------|--------------------|
| | | | Spisu z natury | Zapisów księgowych |
| 1. | Cytryny | 2,50 zł/kg | 700 kg | 1 000 kg |
| 2. | Mandarynki | 3,00 zł/kg | 800 kg | 850 kg |
| 3. | Pomarańcze | 4,00 zł/kg | 900 kg | 890 kg |

Ustal na podstawie danych w tabeli wartość różnic inwentaryzacyjnych.

- A. Niedobór cytryn 750 zł, niedobór mandarynek 150 zł, nadwyżka pomarańczy 40 zł.
- B. Nadwyżka cytryn 750 zł, niedobór mandarynek 150 zł, niedobór pomarańczy 40 zł.
- C. Niedobór cytryn 750 zł, nadwyżka mandarynek 150 zł, nadwyżka pomarańczy 40 zł.
- D. Nadwyżka cytryn 750 zł, nadwyżka mandarynek 150 zł, niedobór pomarańczy 40 zł.

Zadanie 31.

Stwierdzony niedobór towarów w granicach norm i limitów to niedobór

- A. zawiniony, sporny.
- B. niezawiniony, naturalny.
- C. nadzwyczajny, naturalny.
- D. nadzwyczajny, bezsporny.

Zadanie 32.

Dane z rachunku zysków i strat Hurtowni Nawozów *DOBRY PLON* przedstawiały się następująco:

| | |
|-------------------|---------------|
| – suma przychodów | 7 000 000 zł, |
| – suma kosztów | 6 500 000 zł, |
| – zysk brutto | 500 000 zł. |

Zysk netto tej hurtowni, jeżeli płaci ona 19% podatek dochodowy, wyniósł

- A. 95 000 zł
- B. 405 000 zł
- C. 500 000 zł
- D. 595 000 zł

Zadanie 33.

Magazynier w kwietniu 2015 r. przepracował 50 godzin w porze nocnej. Stawka godzinowa wynikająca z minimalnego wynagrodzenia w roku 2015 wynosi 10,42 zł. Oblicz dodatek za pracę w godzinach nocnych magazyniera.

Fragment Kodeksu Pracy

- A. 2,08 zł
- B. 104,00 zł
- C. 260,50 zł
- D. 521,00 zł

Art. 151⁸

§ 1. Pracownikowi wykonującemu pracę w porze nocnej przysługuje dodatek do wynagrodzenia za każdą godzinę pracy w porze nocnej w wysokości 20% stawki godzinowej wynikającej z minimalnego wynagrodzenia za pracę, ustalanego na podstawie odrębnych przepisów.

(...)

Zadanie 34.

Ile wyniesie wynagrodzenie magazyniera za niedzielę, w którą przepracował 8 godzin, jeżeli jego podstawowa stawka godzinowa wynosi 18,00 zł, a pracodawca nie był mu w stanie udzielić w zamian dnia wolnego?

Fragment Kodeksu Pracy

- A. 144,00 zł
- B. 288,00 zł
- C. 216,00 zł
- D. 432,00 zł

Art. 151¹

§ 1. Za pracę w godzinach nadliczbowych, oprócz normalnego wynagrodzenia, przysługuje dodatek w wysokości;

1) 100% wynagrodzenia – za pracę w godzinach nadliczbowych przypadających:

- a) w nocy,
- b) w niedziele i święta niebędące dla pracownika dniami pracy, zgodnie z obowiązującym go rozkładem czasu pracy,
- c) w dniu wolnym od pracy udzielonym pracownikowi w zamian za pracę w niedziele lub w święto, zgodnie z obowiązującym go rozkładem czasu pracy,

2) 50% wynagrodzenia – za pracę w godzinach nadliczbowych przypadających w każdym innym dniu niż określony w pkt. 1.

(...)

Zadanie 35.

Na podstawie fragmentu Ewidencji sprzedaży, ustal wartość łączną podatku należnego VAT.

Ewidencja sprzedaży-fragment

| Rodzaj sprzedaży | | | | | | | |
|---|-------------|--------------------------|-------------|--------------------------|-------------|-------------------|-------------------------|
| Dostawa towarów i świadczenie usług na terytorium kraju | | | | | | | |
| OPODATKOWANA | | | | | | stawką 0% (zł) | Zwolniona od podatku |
| stawką 23% | | stawką 8% | | stawką 5% | | | |
| wartość netto (zł) | VAT (zł) | wartość netto (zł) | VAT (zł) | wartość netto (zł) | VAT (zł) | | |
| 2000,00 | 460,00 | 3 000,00 | 240,00 | | | | |
| | | | | | | | |

- A. 240,00 zł
- B. 460,00 zł
- C. 700,00 zł
- D. 1 150,00 zł

Zadanie 36.

Ile wynosi kwota, którą należy wpisać na załączonej fakturze korygującej w pozycji „Razem do zwrotu”?

Fragmenc faktury korygującej

| Lp. | Nazwa | Ilość | J.m. | Rabat [%] | Cena netto | Wartość netto | VAT [%] | VAT | Wartość brutto |
|-----|------------------------|--------|------|-----------|------------|---------------|---------|---------|----------------|
| 1 | Koszula męska tworzywo | 100,00 | szt. | 0,00 | 30,00 | 3 000,00 | 23 | 690,00 | 3 690,00 |
| 2 | Korekta | -20,00 | szt. | 0,00 | 30,00 | -600,00 | 23 | -138,00 | -738,00 |
| 3 | Po korekcie | 80,00 | szt. | 0,00 | 30,00 | 2 400,00 | 23 | 552,00 | 2 952,00 |

| Według stawki VAT | Wartość netto | Kwota VAT | Wartość brutto | | |
|----------------------------|---------------|-----------|----------------|--|--|
| Podstawowy podatek VAT 23% | 3 000,00 | 690,00 | 3 690,00 | | |
| Korekta: | -600,00 | -138,00 | -738,00 | | |
| Po korekcie: | 2 400,00 | 552,00 | 2 952,00 | | |
| Razem korekta: | -600,00 | -138,00 | -738,00 | | |
| Razem po korekcie: | 2 400,00 | 552,00 | 2 952,00 | | |

| | | | | | |
|-------------------------|--|--|--|--|--|
| Razem do zwrotu: | | | | | |
|-------------------------|--|--|--|--|--|

- A. 600,00 zł
- B. 738,00 zł
- C. 2 400,00 zł
- D. 2 952,00 zł

Zadanie 37.

Ile wyniosą planowane przychody w roku 2015, jeżeli zakłada się, że nastąpi spadek sprzedaży towarów o 20% w stosunku do roku 2014?

- A. 16 000,00 zł
- B. 96 000,00 zł
- C. 100 000,00 zł
- D. 144 000,00 zł

Wielkość sprzedaży i ceny towarów

| Lp. | Wyszczególnienie | Rok 2014 |
|-----|---------------------------|-------------|
| 1 | Ilość sprzedanych towarów | 20 000 szt. |
| 2 | Cena jednostkowa towaru | 6,00 zł |

Zadanie 38.

Przedsiębiorstwo odnawia zapas towarów co 15 dni. Jeżeli wielkość sprzedaży w kwartale wynosi 120 000 zł oznacza to, że

- A. zapas przeciętny wynosi 20 000 zł.
- B. zapas końcowy wynosi 20 000 zł.
- C. zapas początkowy wynosi 20 000 zł.
- D. zapas maksymalny wynosi 20 000 zł.

Zadanie 39.*Fragment sprawozdania*

| | |
|-----------|--|
| A. | Przychody netto ze sprzedaży i zrównane z nimi, w tym |
| | – od jednostek powiązanych |
| I. | Przychody netto ze sprzedaży produktów |
| II. | Zmiana stanu produktów (zwiększenie – wartość dodatnia; zmniejszenie – wartość ujemna) |
| III. | Koszt wytworzenia produktów na własne potrzeby jednostki |
| IV. | Przychody netto ze sprzedaży towarów i materiałów |
| B. | Koszty działalności operacyjnej |
| I. | Amortyzacja |
| II. | Zużycie materiałów i energii |
| III. | Usługi obce |
| IV. | Podatki i opłaty, w tym: |
| | – podatek akcyzowy |
| V. | Wynagrodzenia |
| VI. | Ubezpieczenia społeczne i inne świadczenia dla pracowników |
| VII. | Pozostałe koszty rodzajowe |
| VIII. | Wartość sprzedanych towarów i materiałów |

Przedstawiony fragment sprawozdania to

- A. bilans ruchu.
- B. bilans różnic.
- C. rachunek zysków i strat.
- D. rachunek przepływów pieniężnych.

Zadanie 40.

Część biznes planu – plan techniczny zawiera informacje dotyczące

- A. całkowitych kosztów realizacji przedsięwzięcia i źródeł jego finansowania.
- B. majątku produkcyjnego, zarysu strategii produkcji oraz specyfikacji kosztów związanych z przedsięwzięciem.
- C. etapów realizacji zadań, które przedsiębiorstwo ma wykonać w związku z prowadzoną działalnością.
- D. sieci sprzedawców hurtowych i detalicznych, z którymi przedsiębiorstwo zamierza współpracować przy realizacji przedsięwzięcia.

