

**Arkusz zawiera informacje prawnie chronione do momentu rozpoczęcia egzaminu**

Układ graficzny © CKE 2019

**CKE** **CENTRALNA  
KOMISJA  
EGZAMINACYJNA**

Nazwa kwalifikacji: **Wytwarzanie wyrobów stolarskich**  
Oznaczenie kwalifikacji: **A.13**  
Numer zadania: **01**  
Wersja arkusza: **SG**

Wypełnia zdający

Miejsce na naklejkę z numerem PESEL i z kodem ośrodka

Numer PESEL zdającego\*

--	--	--	--	--	--	--	--	--	--	--	--	--	--	--	--	--	--	--	--

**A.13-01-20.01-SG**

Czas trwania egzaminu: **180 minut**

## **EGZAMIN POTWIERDZAJĄCY KWALIFIKACJE W ZAWODZIE**

**Rok 2020**

**CZĘŚĆ PRAKTYCZNA**

**PODSTAWA PROGRAMOWA  
2012**

### **Instrukcja dla zdającego**

1. Na pierwszej stronie arkusza egzaminacyjnego wpisz w oznaczonym miejscu swój numer PESEL i naklej naklejkę z numerem PESEL i z kodem ośrodka.
2. Na **KARCIE OCENY** w oznaczonym miejscu przyklej naklejkę z numerem PESEL oraz wpisz:
  - swój numer PESEL\*,
  - oznaczenie kwalifikacji,
  - numer zadania,
  - numer stanowiska.
3. **KARTĘ OCENY** przekaz zespołowi nadzorującemu.
4. Sprawdź, czy arkusz egzaminacyjny zawiera 9 stron i nie zawiera błędów. Ewentualny brak stron lub inne usterki zgłoś przez podniesienie ręki przewodniczącemu zespołu nadzorującego.
5. Zapoznaj się z treścią zadania oraz stanowiskiem egzaminacyjnym. Masz na to 10 minut. Czas ten nie jest wliczany do czasu trwania egzaminu.
6. Czas rozpoczęcia i zakończenia pracy zapisze w widocznym miejscu przewodniczący zespołu nadzorującego.
7. Wykonaj samodzielnie zadanie egzaminacyjne. Przestrzegaj zasad bezpieczeństwa i organizacji pracy.
8. Jeżeli w zadaniu egzaminacyjnym występuje polecenie „zgłoś gotowość do oceny przez podniesienie ręki”, to zastosuj się do polecenia i poczekaj na decyzję przewodniczącego zespołu nadzorującego.
9. Po zakończeniu wykonania zadania pozostaw rezultaty oraz arkusz egzaminacyjny na swoim stanowisku lub w miejscu wskazanym przez przewodniczącego zespołu nadzorującego.
10. Po uzyskaniu zgody zespołu nadzorującego możesz opuścić salę/miejsce przeprowadzania egzaminu.

***Powodzenia!***

\* w przypadku braku numeru PESEL – seria i numer paszportu lub innego dokumentu potwierdzającego tożsamość

## Zadanie egzaminacyjne

Wykonaj szafkę nocną zgodnie z dokumentacją rysunkową zamieszczoną w arkuszu egzaminacyjnym. Formatki na elementy szafki zostały częściowo przygotowane i znajdują się na stanowisku egzaminacyjnym.

Wykonaj cięcie elementów, zachowując dokładność  $\pm 1$  mm. Formatki z płyty wiórowej na ściany boczne, wieńiec dolny i półkę szafki wymagają cięcia na długość. Formatka z płyty pilśniowej twardej lakierowanej białej na ścianę tylną wymaga cięcia na długość i na szerokość.

Oklej taśmą obrzeżową wąskie powierzchnie przednie w ścianach bocznych, wieńcu dolnym i półce oraz wąskie powierzchnie przednie i boczne w wieńcu górnym.

Wytrasuj i wywierć gniazda na kołki w wieńcu górnym, ścianach bocznych i w wieńcu dolnym oraz gniazda na podpórki pod półki w ścianach bocznych.

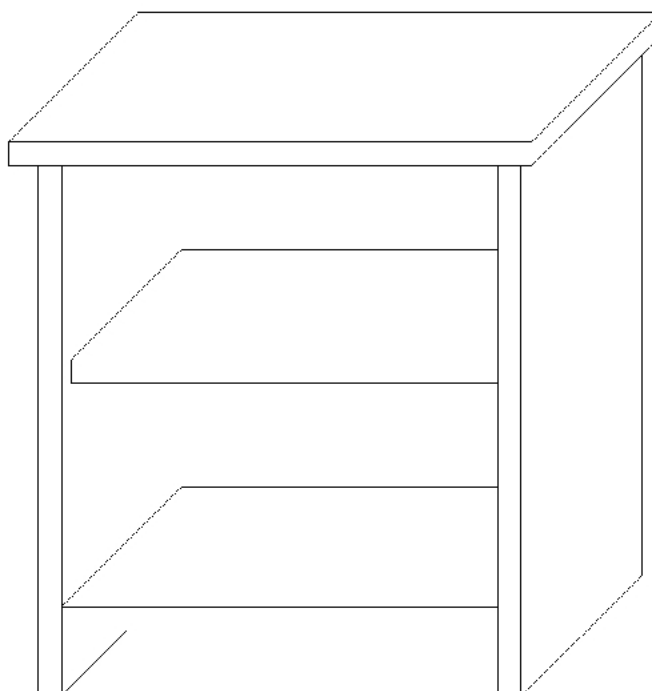
Wyfrezuj wręgi na ścianę tylną w ścianach bocznych. Wręg na ścianę tylną w wieńcu górnym został już wykonany.

*Uwaga! Po wykonaniu obróbki elementów szafki nocnej zgłoś, przez podniesienie ręki, gotowość do montażu wyrobu. Po uzyskaniu zgody przystąp do wykonywania czynności związanych z montażem wyrobu.*

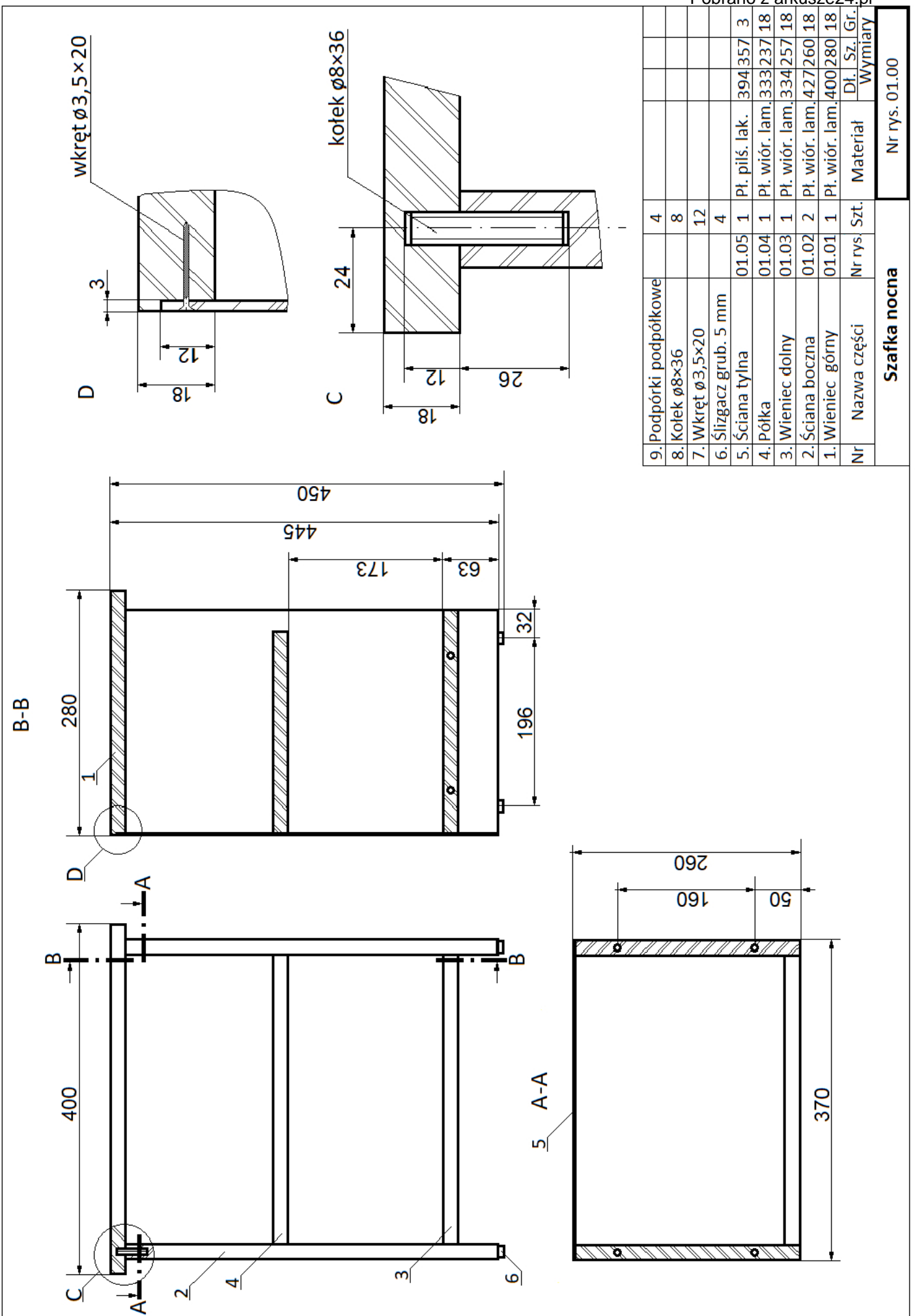
Dopasuj i sklej elementy korpusu. Ścianę tylną zamocuj do korpusu szafki za pomocą wkrętów po uprzednim wytrasowaniu i przewierceniu otworów. Oczyszcz wyrób z kurzu i resztek kleju. Zamocuj ślizgacze do ścian bocznych szafki. Półkę szafki zamontuj na podpórkach.

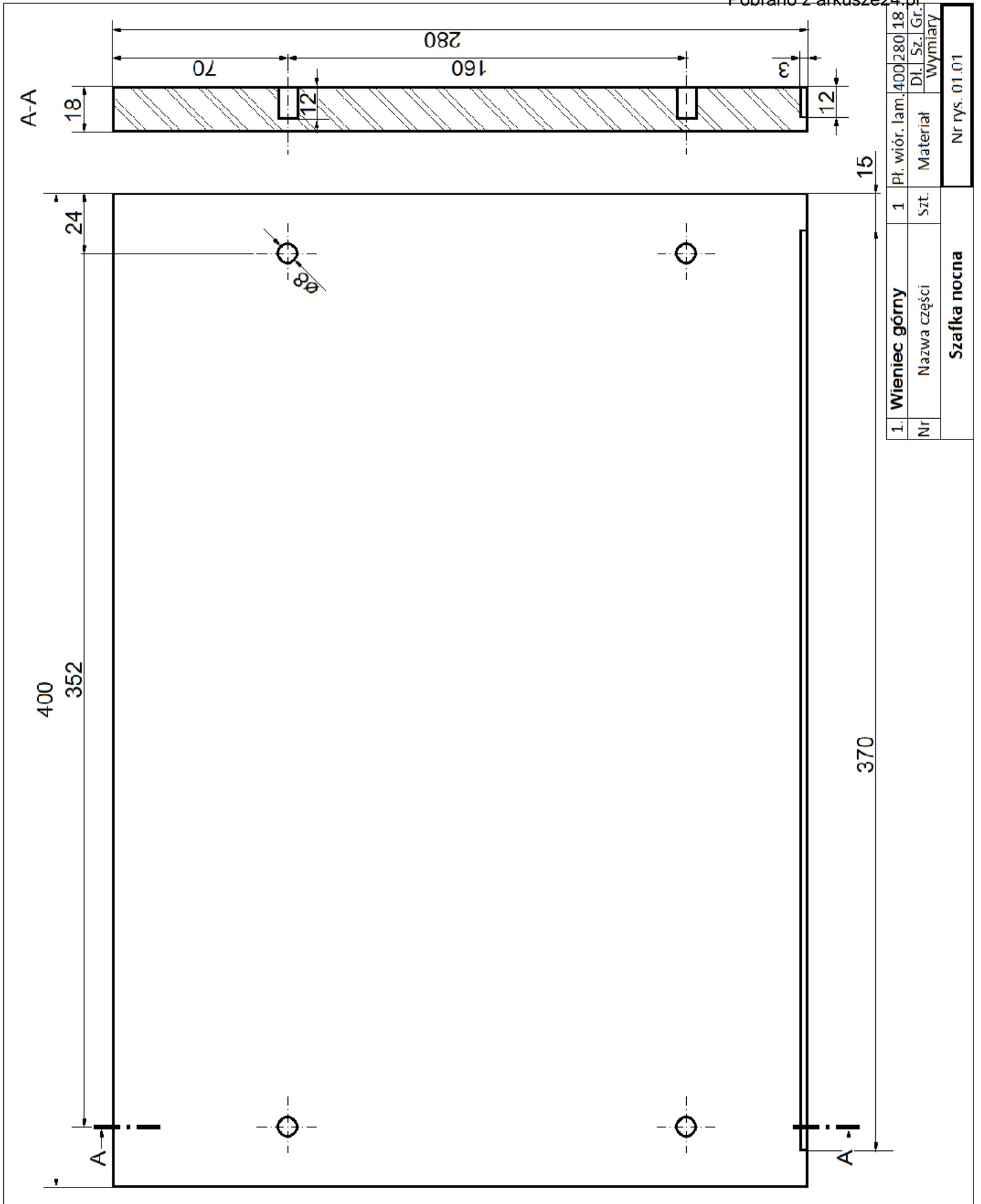
Zadanie wykonaj na stanowisku egzaminacyjnym wyposażonym w niezbędne materiały, narzędzia i sprzęt. Przestrzegaj zasad organizacji pracy, przepisów bezpieczeństwa i higieny pracy oraz ochrony środowiska.

Po zakończeniu pracy oczyszcz narzędzia i sprzęt, uporządkuj stanowisko egzaminacyjne, odpady posegreguj i umieść w odpowiednich pojemnikach.

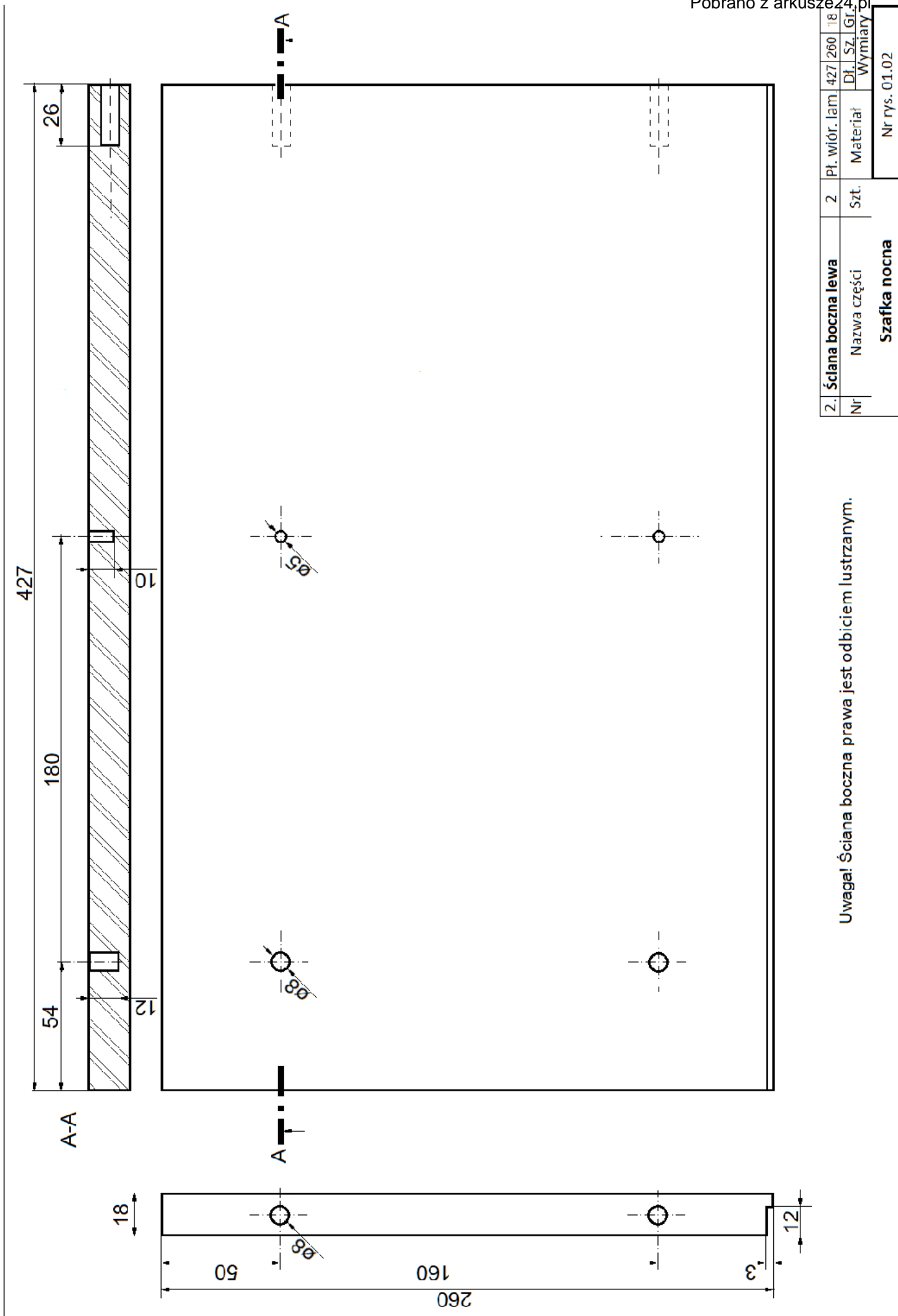


**Szafka nocna – rysunek poglądowy**



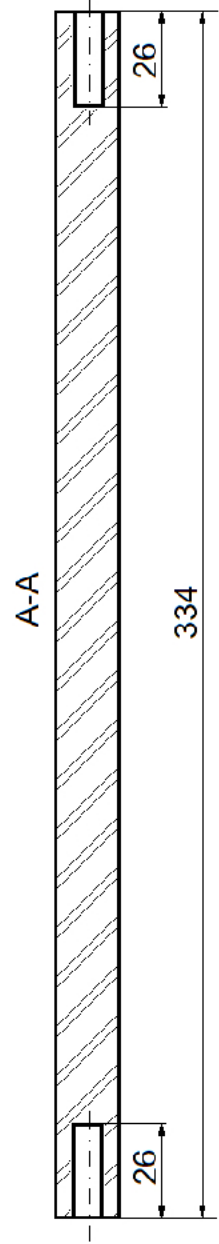

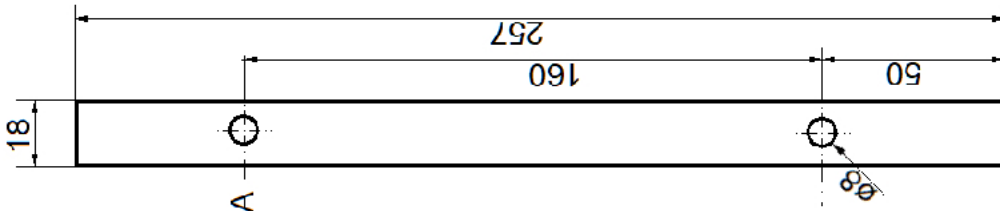


1. Wieniec górny		Pł. wior. lam.	400	280	18
Nr	Nazwa części	Szt.	Materiał	Wymiary	Nr rys. 01.01
	<b>Szafka nocna</b>				




Uwaga! Ściana boczna prawa jest odbiciem lustrzanym.

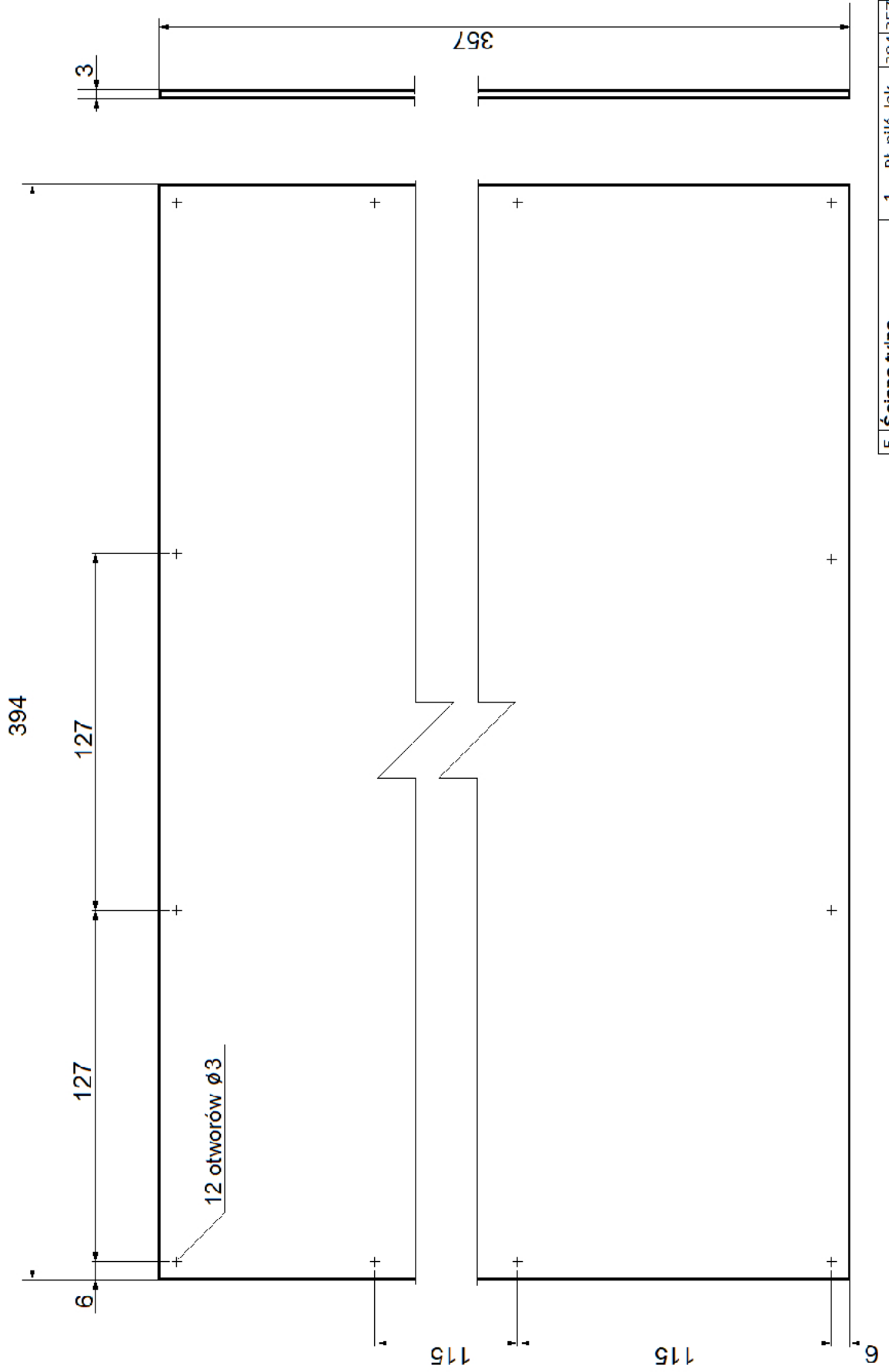
Nr	Ściana boczna lewa	2	Pł. wiór. lam	427	260	18
	Nazwa części <td>Szt. <td>Materiał <td>Dł. Sz. <td>Gr. <td>Wymiary </td></td></td></td></td>	Szt. <td>Materiał <td>Dł. Sz. <td>Gr. <td>Wymiary </td></td></td></td>	Materiał <td>Dł. Sz. <td>Gr. <td>Wymiary </td></td></td>	Dł. Sz. <td>Gr. <td>Wymiary </td></td>	Gr. <td>Wymiary </td>	Wymiary
	<b>Szafka nocna</b>					Nr rys. 01.02



3.1. Wieniec dolny		1	Pł. wiór. lam.	334	257	18	
Nr	Nazwa części	Szt.	Materiał	Dł.	Sz.	Gł.	
	<b>Szafka nocna</b>						
						Wymiary	
						Nr rys. 01.03	



4.	Półka	1	Pł. wiór. lam.	333	237	18
Nr	Nazwa części	Szt.	Materiał	Dł.	Sz.	Gł.
	<b>Szafka nocna</b>					<b>Wymiary</b>
						Nr rys. 01.04



5.	Ściana tylna	1	Pł. pilś. lak.	394/357	3
Nr	Nazwa części	Szt.	Materiał	Dł. Sz. Gr.	Wymiary
<b>Szafka nocna</b>					Nr rys. 01.05



**Czas przeznaczony na wykonanie zadania wynosi 180 minut.**

**Ocenić będą 2 rezultaty:**

- elementy szafki nocnej przygotowane do montażu,
- szafka nocna

oraz

przebieg wykonania szafki nocnej.