

Nazwa kwalifikacji: **Wykonywanie usług krawieckich**
Oznaczenie kwalifikacji: **A.12**
Wersja arkusza: **X**

A.12-X-18.06Czas trwania egzaminu: **60 minut**

EGZAMIN POTWIERDZAJĄCY KWALIFIKACJE W ZAWODZIE
Rok 2018
CZEŚĆ PISEMNA

Instrukcja dla zdającego

1. Sprawdź, czy arkusz egzaminacyjny zawiera 10 stron. Ewentualny brak stron lub inne usterki zgłoś przewodniczącemu zespołu nadzorującego.
2. Do arkusza dołączona jest KARTA ODPOWIEDZI, na której w oznaczonych miejscach:
 - wpisz oznaczenie kwalifikacji,
 - zamaluj kratkę z oznaczeniem wersji arkusza,
 - wpisz swój numer PESEL*,
 - wpisz swoją datę urodzenia,
 - przyklej naklejkę ze swoim numerem PESEL.
3. Arkusz egzaminacyjny zawiera test składający się z 40 zadań.
4. Za każde poprawnie rozwiązane zadanie możesz uzyskać 1 punkt.
5. Aby zdać część pisemną egzaminu musisz uzyskać co najmniej 20 punktów.
6. Czytaj uważnie wszystkie zadania.
7. Rozwiązania zaznaczaj na KARCIE ODPOWIEDZI długopisem lub piórem z czarnym tuszem/atramentem.
8. Do każdego zadania podane są cztery możliwe odpowiedzi: A, B, C, D. Odpowiada im następujący układ kratek w KARCIE ODPOWIEDZI:

A	B	C	D
---	---	---	---

9. Tylko jedna odpowiedź jest poprawna.
10. Wybierz właściwą odpowiedź i zamaluj kratkę z odpowiadającą jej literą – np., gdy wybrałeś odpowiedź „A”:

■	B	C	D
---	---	---	---

11. Staraj się wyraźnie zaznaczać odpowiedzi. Jeżeli się pomylisz i błędnie zaznaczysz odpowiedź, otocz ją kółkiem i zaznacz odpowiedź, którą uważasz za poprawną, np.

⊙ ■	B	C	■
-----	---	---	---

12. Po rozwiązaniu testu sprawdź, czy zaznaczyłeś wszystkie odpowiedzi na KARCIE ODPOWIEDZI i wprowadziłeś wszystkie dane, o których mowa w punkcie 2 tej instrukcji.

Pamiętaj, że oddajesz przewodniczącemu zespołu nadzorującego tylko KARTĘ ODPOWIEDZI.

Powodzenia!

* w przypadku braku numeru PESEL – seria i numer paszportu lub innego dokumentu potwierdzającego tożsamość

Zadanie 1.

Do wykonania form kamizelki damskiej poprzez modelowanie form przodu i tyłu bluzki damskiej dopasowanej jest niezbędne, poza wymiarami ciała, określenie długości kamizelki i oznaczenie

- A. miejsc naszywania kieszeni.
- B. miejsc wykonania zapięcia.
- C. kształtu linii modelowej dekolту i dołu.
- D. punktów spotkań na krawędziach elementów.

Zadanie 2.

Którą tkaninę należy zastosować do wykonania wyrobu odzieżowego przedstawionego na rysunku?

- A. Batyst.
- B. Satynę.
- C. Flanelę.
- D. Popelinę.

**Zadanie 3.**

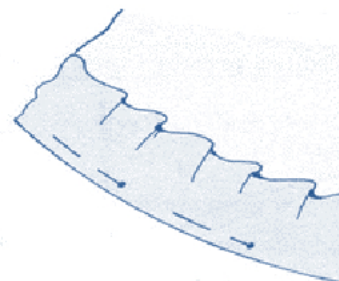
Do wykonania form podstawowej spódnicy damskiej niezbędne jest wykonanie pomiarów krawieckich oznaczonych symbolami

- A. ZTv, obt, opx
- B. ZWo, obt, ot
- C. TKo, ou, obt
- D. ZKo, ot, obt

Zadanie 4.

Którym ścięciem ręcznym, zachowując niewidoczność przeszycia po prawej stronie, krawiec powinien wykończyć dół skróconej spódnicy, który zgodnie z przedstawionym rysunkiem, został podwinięty i zamocowany szpilkami wzdłuż linii podwinięcia?

- A. Łańcuszkowym.
- B. Krzyżykowym.
- C. Zakopiańskim.
- D. Dzierganym.



Zadanie 5.

Oblicz zużycie materiału o szerokości 160 cm przeznaczonego na spodnie o długości 80 cm dla klienta o obwodzie bioder wynoszącym 100 cm.

- A. 80 cm
- B. 88 cm
- C. 100 cm
- D. 108 cm

Zadanie 6.

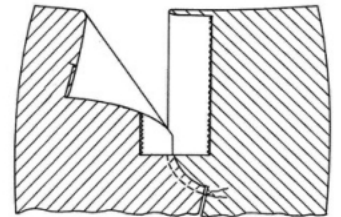
Tabele wielkości odzieży dla dzieci i młodzieży opracowane na podstawie wyników pomiarów antropometrycznych wykonanych dla populacji polskiej w XX wieku są uporządkowane według

- A. wielkości.
- B. typów figur.
- C. wymiarów ciała.
- D. grup wiekowych.

Zadanie 7.

Wymianę zamka błyskawicznego w spodniach damskich należy rozpocząć od wyprucia zamka błyskawicznego uszkodzonego, a następnie doszyć lewą część nowego zamka do lewej nogawki

- A. 0,5 cm od górnej krawędzi nogawki.
- B. wzdłuż linii doszycia wyprutego zamka.
- C. $\pm 0,2$ cm od linii doszycia wyprutego zamka.
- D. w połowie odległości krawędzi nogawki i linii doszycia wyprutego zamka.

**Zadanie 8.**

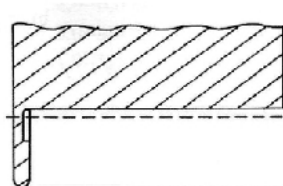
Wielkość dodatku konstrukcyjnego (luzu odzieżowego) w obwodzie klatki piersiowej (opx) odzieży damskiej przeznaczonej na górną część ciała jest największa dla

- A. płaszcza.
- B. żakietu.
- C. bluzki.
- D. sukni.

Zadanie 9.

Dół wyrobu odzieżowego, zgodnie z przedstawionym rysunkiem, powinien być wykończony szwem

- A. lamującym.
- B. obrębającym.
- C. zakładkowym.
- D. obrzucającym.



Zadanie 10.

Ile wynosi standardowy dodatek, który należy dodać do krawędzi form koszuli damskiej na szwy boczne?

- A. 4 cm
- B. 3 cm
- C. 2 cm
- D. 1 cm

Zadanie 11.

Zamek kryty stosuje się jako zapięcie w

- A. sukience popołudniowej.
- B. spodniach roboczych.
- C. bluzie dresowej.
- D. cienkiej kurtce.

Zadanie 12.

Wskaż główne zastosowanie nitów w spodniach typu jeans.

- A. Elementy ozdobne.
- B. Łączenie elementów.
- C. Wzmocnienie kieszeni.
- D. Ochrona przed zniszczeniem.

Zadanie 13.

Na rysunku przedstawiono modelowanie sukienki damskiej

- A. na sylwetce.
- B. na manekinie krawieckim.
- C. za pomocą siatki konstrukcyjnej.
- D. za pomocą formy konstrukcyjnej.

**Zadanie 14.**

Od której czynności należy rozpocząć wymianę zamka błyskawicznego w przedstawionym na rysunku wyrobie?

- A. Od wyprucia starego zamka.
- B. Od przyszycia prawej części nowego zamka.
- C. Od wszycia nowego zamka błyskawicznego.
- D. Od upięcia lewej części nowego zamka i przyszycia.



Zadanie 15.


Oblicz koszt wykonania spodni o długości 100 cm dla obwodu bioder (obt) 90 cm, jeśli cena 1 m tkaniny o szerokości 140 cm wynosi 50,00 zł, cena wykonania usługi 30,00 zł, koszty zakładowe 10,00 zł, a koszt dodatków to 15,00 zł?

- A. 100,00 zł
- B. 110,00 zł
- C. 120,00 zł
- D. 130,00 zł

Zadanie 16.

Spódnice kloszową ze śladami przypaleń w części dolnej można naprawić, inspirując się fasonem spódnicy przedstawionej na rysunku poprzez

- A. rozłożenie fałd.
- B. wycięcie „zębów”.
- C. doszycie trójkątów.
- D. ułożenie drapowań.

**Zadanie 17.**

Nakład utworzony ze 100 warstw materiału, przygotowany do produkcji wykrojów sukienki w kilku rozmiarach, w tradycyjnie zorganizowanym procesie rozkroju należy w pierwszym etapie podzielić na

- A. sekcje.
- B. elementy.
- C. rozmiary.
- D. wielkości.

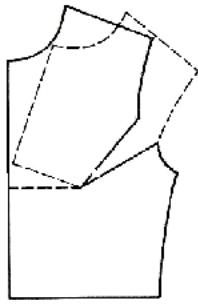
Zadanie 18.

Do odcinania warstw materiału przy ręcznym tworzeniu nakładu można zastosować

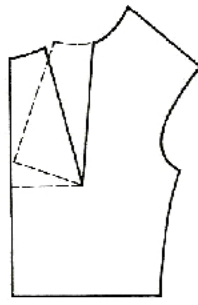
- A. krajarkę z nożem pionowym.
- B. krajarkę z nożem okrągłym.
- C. nóż elektryczny.
- D. nożyce ręczne.

Zadanie 19.

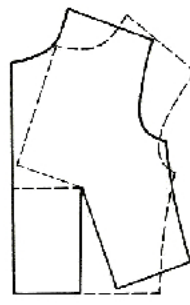
Na którym rysunku przedstawiono sposób przemieszczenia na formie przodu bluzki damskiej konstrukcyjnej zaszewki piersiowej na linię boku?



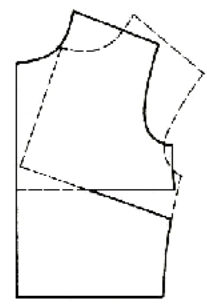
A.



B.



C.



D.

Zadanie 20.

Do wykonania w zakładzie usługowym zleconej przez klienta przeróbki obejmującej dopasowanie sztucznego futra są niezbędne

- A. formy przodu i tyłu futra.
- B. katalogi i żurnale mody.
- C. rysunek modelu futra.
- D. wymiary klienta.

Zadanie 21.

Który układ szablonów należy zastosować dla sukienki z jednobarwnej tkaniny bawełnianej?

- A. Łączony.
- B. Mieszany.
- C. Dwukierunkowy.
- D. Wielokierunkowy.

Zadanie 22.


Do łączenia elementów odzieży z dzianiny w usługowym zakładzie konfekcyjnym można zastosować maszynę stębnową

- A. zygzakową.
- B. czółenkową.
- C. łańcuszkową.
- D. wieloczynnościową.

Zadanie 23.

Do uszycia mankietu przedstawionego na rysunku należy zastosować

- A. stębnówkę łańcuszkową.
- B. stębnówkę zwykłą.
- C. fastrygówkę.
- D. łączarkę.



Zadanie 24.

Oczka dzianin łatwo się prują, dlatego w procesie konfekcjonowania wyrobów dziewiarskich należy między innymi

- A. stosować maszyny szyjące ścięgami nieelastycznymi.
- B. poddawać stabilizacji termicznej wyroby gotowe.
- C. dokładnie zszywać i obrzucać krawędzie szwów.
- D. stosować operacje obróbki parowo-ciepłej.

Zadanie 25.

Do wzmocnienia wlotów kieszeni można zastosować maszynę szyjącą ścięgiem

- A. krytym.
- B. stębnowym.
- C. zygzakowym.
- D. łańcuszkowym.

Zadanie 26.

Które pomiary są niezbędne do wykonania przeróbki obejmującej skrócenie i zwężenie spódnicy o fasonie przedstawionym na rysunku?

- A. TD, ot
- B. ot, obt
- C. TD, obt
- D. ZWo, obt

**Zadanie 27.**

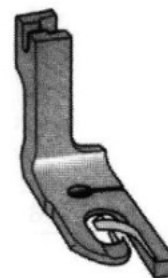
Do końcowego prasowania płaszczy wytwarzanych w zakładzie konfekcyjnym można zastosować

- A. żelazko z wytwornicą pary.
- B. manekin prasowniczy.
- C. automat prasowniczy.
- D. prasę specjalną.

Zadanie 28.

Na rysunku przedstawiono stopkę specjalną do maszyny stębnowej stosowaną do

- A. prowadzenia taśmy.
- B. marszczenia materiału.
- C. wykonywania obrębów.
- D. doszywania podtrzymywaczy.



Zadanie 29.

Przed przystąpieniem do pracy na maszynie szwalniczej należy sprawdzić, czy jest ona wyposażona w

- A. osłonę igły.
- B. zestaw stopek.
- C. szpulkę z nićmi.
- D. ząbki transportujące.

Zadanie 30.

Wskaż jedną z przyczyn, występowania podczas szycia, nieprawidłowego wiązania ściegu stębnowego (w postaci luźnej nici górnej), przedstawionego na rysunku.

- A. Poluzowane talerzyki naprężacza.
- B. Słabe napięcie nici dolnej.
- C. Podniesiona stopka.
- D. Skrzywiona igła.

**Zadanie 31.**

Którą metodą przeprowadza się kontrolę jakości naprawionego wyrobu odzieżowego?

- A. Laboratoryjną.
- B. Za pomocą lupy.
- C. Organoleptyczną.
- D. Za pomocą mikroskopu.

Zadanie 32.

Określ przyczyny błędu występującego w przodach spodni przedstawionych na rysunku.

- A. Przody są za długie w stosunku do tyłu.
- B. Za głęboki podkrój szwu siedzeniowego.
- C. Nogawka tyłu jest za wąska w stosunku do przodu.
- D. Nogawka przednia jest za szeroka w talii i biodrach.

**Zadanie 33.**

W jaki sposób można usunąć błąd występujący w rękawie bluzki przedstawionej na rysunku?

- A. Zwęzić rękaw.
- B. Skrócić rękaw.
- C. Ściąć kulę rękawa.
- D. Przesunąć rękaw do przodu.



Zadanie 34.

Który zestaw maszyn należy zastosować do wykończenia góry spódnicy paskiem?

- A. Klejarkę, overlock 5-nitkowy, ryglówkę.
- B. Klejarkę, overlock 3-nitkowy, stębnówkę.
- C. Prasę, overlock 3-nitkowy, maszynę łańcuszkową.
- D. Żelazko elektryczno-parowe, overlock 5-nitkowy, zygzakówkę.

Zadanie 35.

Wskaż przyczynę zrywania się nici górnej podczas szycia.

- A. Duży docisk stopki.
- B. Uszkodzone żądło igły.
- C. Źle nawleczona nić górna.
- D. Niewłaściwe nawleczenie nici w chwytaczu.

Zadanie 36.

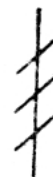
Aby usunąć błędy występujące w tyle bluzki przedstawionej na rysunku, należy

- A. skrócić tył górą.
- B. wydłużyć przody.
- C. pogłębić podkroje pachy w tyle.
- D. poszerzyć bluzkę na linii boków.

**Zadanie 37.**

Znak umowny przedstawiony na rysunku stosowany do oznaczania poprawek w krawiectwie miarowym oznacza

- A. zwężenie boków.
- B. skrócenie wyrobu.
- C. poszerzenie boków.
- D. przesunięcie szwów.

**Zadanie 38.**

Po zakończeniu szycia na maszynie stębnowej nić można odciąć od szwu, jeżeli

- A. igła jest w górnym położeniu, stopka podniesiona.
- B. igła i podciągacz nici są w dolnym położeniu.
- C. naprężacz talerzykowy jest zaciśnięty.
- D. igła i stopka są opuszczone.

Zadanie 39.

W ubiorach typu body przeznaczonych dla dzieci stosuje się zapięcia na

- A. napy.
- B. haftki.
- C. zamek kryty.
- D. guziki z 2 dziurkami.

Zadanie 40.

Na stanowisku kontroli jakości gotowych wyrobów odzieżowych powinny znajdować się między innymi

- A. manekin i zamówienie.
- B. narzędzia i przybory do szycia.
- C. taśmy pomiarowe i zlecenie produkcyjne.
- D. dokumentacja techniczna i zatwierdzony model.