

Nazwa kwalifikacji: **Wykonywanie usług krawieckich**Oznaczenie kwalifikacji: **A.12**Wersja arkusza: **X**

*Arkusz zawiera informacje prawnie chronione
do momentu rozpoczęcia egzaminu*

A.12-X-14.01Czas trwania egzaminu: **60 minut**

Układ graficzny © CKE 2013

EGZAMIN POTWIERDZAJĄCY KWALIFIKACJE W ZAWODZIE
Rok 2014
CZĘŚĆ PISEMNA

Instrukcja dla zdającego

1. Sprawdź, czy arkusz egzaminacyjny zawiera 10 stron. Ewentualny brak stron lub inne usterki zgłoś przewodniczącemu zespołu nadzorującego.
2. Do arkusza dołączona jest KARTA ODPOWIEDZI, na której w oznaczonych miejscach:
 - wpisz oznaczenie kwalifikacji,
 - zamaluj kratkę z oznaczeniem wersji arkusza,
 - wpisz swój numer *PESEL**,
 - wpisz swoją datę urodzenia,
 - przyklej naklejkę ze swoim numerem *PESEL*.
3. Arkusz egzaminacyjny zawiera test składający się z 40 zadań.
4. Za każde poprawnie rozwiązane zadanie możesz uzyskać **1 punkt**.
5. Aby zdać część pisemną egzaminu musisz uzyskać co najmniej **20 punktów**.
6. Czytaj uważnie wszystkie zadania.
7. Rozwiązania zaznaczaj na KARCIE ODPOWIEDZI długopisem lub piórem z czarnym tuszem/atramentem.
8. Do każdego zadania podane są cztery możliwe odpowiedzi: A, B, C, D. Odpowiada im następujący układ krerek w KARCIE ODPOWIEDZI:

A	B	C	D
---	---	---	---

9. Tylko jedna odpowiedź jest poprawna.
10. Wybierz właściwą odpowiedź i zamaluj kratkę z odpowiadającą jej literą – np., gdy wybrałeś odpowiedź „A”:

■	B	C	D
---	---	---	---

11. Staraj się wyraźnie zaznaczać odpowiedzi. Jeżeli się pomylisz i błędnie zaznaczysz odpowiedź, otocz ją kółkiem i zaznacz odpowiedź, którą uważasz za poprawną, np.

⊙	B	C	■
---	---	---	---

12. Po rozwiązaniu testu sprawdź, czy zaznaczyłeś wszystkie odpowiedzi na KARCIE ODPOWIEDZI i wprowadziłeś wszystkie dane, o których mowa w punkcie 2 tej instrukcji.

Pamiętaj, że oddajesz przewodniczącemu zespołu nadzorującego tylko KARTĘ ODPOWIEDZI.

Powodzenia!

* w przypadku braku numeru *PESEL* – seria i numer paszportu lub innego dokumentu potwierdzającego tożsamość

Zadanie 1.

Obwód klatki piersiowej przez piersi zapisuje się za pomocą symbolu

- A. obt
- B. opx
- C. XIXI
- D. XcXc

Zadanie 2.

Pomiary dokonywane w dowolnym kierunku szerokości lub długości po liniach krzywych, to

- A. łuki
- B. odcinki.
- C. obwody.
- D. głębokości.

Zadanie 3.

Poziomo, w miejscu największego przewężenia tułowia mierzymy obwód

- A. szyi.
- B. pasa.
- C. klatki piersiowej przez piersi.
- D. bioder z uwzględnieniem wypukłości brzucha.

Zadanie 4.

Dla potrzeb krawiectwa miarowego pomiaru wysokości krocza dokonuje się przy pomocy

- A. tablicy pomiarowej i antropometru.
- B. antropometru i linijki długości 50 cm.
- C. taśmy centymetrowej i tablicy pomiarowej.
- D. taśmy centymetrowej i linijki długości 50 cm.

Zadanie 5.

Którą z wymienionych tkanin przeznaczysz do wykonania bielizny niemowlęcej np. kaftanika?

- A. Taftę.
- B. Batyst.
- C. Flausz.
- D. Drelich.

Zadanie 6.

Rękawówka – podszywka o przeznaczeniu specjalnym, stosowana do wykańczania rękawów np. w marynarkach męskich, to tkanina

- A. z elany o splocie płóciennym tkana w kratę.
- B. z jedwabiu wiskozowego o splocie płóciennym.
- C. bawełniana o splocie skośnym łamanym lub skośnym wzmocnionym.
- D. z jedwabiu wiskozowego o splocie atlasowym, tkana w białe i czarne paski.

Zadanie 7.

Czynniki wpływające na własności użytkowe tkanin to:

- A. śliskość, strzępienie się, właściwości termiczne.
- B. odporność na ścieranie, wytrzymałość na rozciąganie.
- C. higroskopijność, przepuszczalność powietrza, właściwości cieplne.
- D. trwałość wymiarów, odporność na zagniecenia, odporność na zmechanienia.

Zadanie 8.

Oblicz, zużycie materiału do wykonania jednorzędowego żakietu z gładkiej tkaniny wełnianej o szerokości 140 cm dla klientki, której wymiary wynoszą:

- A. 123 cm
- B. 135 cm
- C. 188 cm
- D. 207 cm

obwód klatki piersiowej – 92 cm
obwód bioder – 96 cm
długość żakietu – 65 cm
długość rękawa – 58 cm

Zadanie 9.

Kształt części powierzchni wyrobu odzieżowego zgodny z projektem, a powstały w wyniku modelowania, to

- A. układ kroju.
- B. forma modelowa.
- C. rysunek modelowy.
- D. szablon podstawowy.

Zadanie 10.

Wykonując szablon należy wyznaczyć dodatki na szwy i podwinięcia. Wielkość tych dodatków zależy od

- A. rodzaju odzieży i typu sylwetki.
- B. typu sylwetki i rodzaju materiału.
- C. rodzaju materiału i sposobu łączenia elementów.
- D. funkcji odzieży i obowiązujących kierunków mody.

Zadanie 11.

Jaka jest wielkość dodatku na szew, w kołnierzu bluzki z tkaniny bawełnianej?

- A. 0,1 cm
- B. 0,5 cm
- C. 1,5 cm
- D. 2,5 cm

Zadanie 12.

Układ linii konstrukcyjnych, w którym odcinki między punktami konstrukcyjnymi oznaczone symbolami określają wielkość odzieży, to

- A. konstrukcja odzieży.
- B. forma konstrukcyjna.
- C. siatka konstrukcyjna.
- D. standard konstrukcji.

Zadanie 13.

Wykonując modelowanie sukni damskiej princeski, konstrukcyjną zaszewkę piersiową należy przenieść na linię

- A. barku.
- B. boku.
- C. podkroju szyi.
- D. podkroju pachy.

Zadanie 14.

Określ podstawowe wymiary do wykonania konstrukcji i modelowania spódnicy z połowy koła.

- A. Obwód bioder, obwód pasa.
- B. Wysokość talii, obwód pasa.
- C. Obwód pasa, długość spódnicy.
- D. Wysokość kolana, obwód bioder.

Zadanie 15.

Wyznacz szerokość zaszewki boku w spódnicy podstawowej dla klientki o wymiarach: obwód pasa = 72,0 cm, obwód bioder = 96,0 cm.

- A. 8 cm
- B. 6 cm
- C. 2 cm
- D. 4 cm

Zadanie 16.

Kołnierzem, którego konstrukcja oparta jest na podstawie wykreślonego kąta prostego jest kołnierz

- A. szalowy.
- B. marynarski.
- C. okrągły be-be.
- D. koszulowy na stójce.

Zadanie 17.

W celu sporządzenia prawidłowego układu kroju na tkaninie z okrywą włosową, szablon należy ułożyć

- A. w jednym kierunku; dopuszczalne są odchylenia od nitki prostej.
- B. w dwóch kierunkach; dopuszczalne są odchylenia od nitki prostej.
- C. w jednym kierunku; oznaczona na szablonach nitka prosta powinna być ułożona równolegle do nitek osnowy.
- D. w dwóch kierunkach, oznaczona na szablonach nitka prosta powinna być ułożona równolegle do nitek osnowy.

Zadanie 18.


Dwukierunkowy układ szablonów można zastosować do krojenia tkaniny

- A. wełnianej z długim włosem.
- B. jedwabnej z wyraźnym połyskiem.
- C. podszejkowej o splocie płóciennym.
- D. bawełnianej o asymetrycznym wzorze.

Zadanie 19.

Jaki ścieg maszynowy przedstawiono na rysunku?

- A. Stębnowy prosty dwunitkowy.
- B. Stębnowy zygzakowy dwunitkowy.
- C. Łańcuszkowy obrzucający trzynitkowy.
- D. Łańcuszkowy jednoigłowy dwunitkowy.



Zadanie 20.

Dziurkę w płaszczu z tkaniny wełnianej wykonasz na

- A. dziurkarce bieliźnianej.
- B. stębnówce dwuigłowej.
- C. dziurkarce odzieżowej.
- D. stębnówce zygzakowej.

Zadanie 21.

Do oprzyrządowania stębnówki **nie należy**

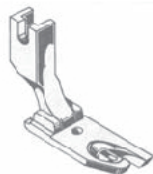
- A. zwijacz.
- B. lamownik.
- C. linijka magnetyczna.
- D. podkładka teflonowa.

Zadanie 22.

Którą ze stoppek stosuje się do wszywania zamków błyskawicznych?



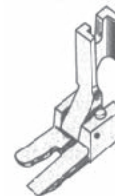
A.



B.



C.



D.

Zadanie 23.

Przyczyną niewłaściwego wiązania ściegu maszynowego jest

- A. nieprawidłowo dobrany docisk stopki.
- B. wyszczerbiony otwór w płytce ścięgowej.
- C. regulator długości ściegu ustawiony na zero.
- D. niewłaściwe naprężenie nitki dolnej lub górnej.

Zadanie 24.

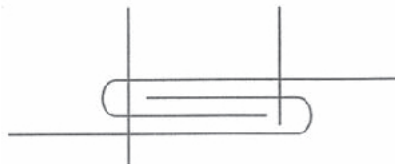
Szew obrzucający jest szwem

- A. łączącym.
- B. klejonym.
- C. brzegowym.
- D. zgrzewanym.

Zadanie 25.

Rysunek przedstawia graficzny schemat szwu

- A. zwykłego.
- B. francuskiego.
- C. bieliźnianego.
- D. wpuszczanego.

**Zadanie 26.**

Przygotowując bluzkę do pierwszej miary należy

- A. zszyć na maszynie oraz rozprasować zaszewki, szwy i rękawy.
- B. zszyć zaszewki, sfastrygować szwy modelowe oraz lewy rękaw.
- C. sfastrygować zaszewki, szwy modelowe, ramiona oraz prawy rękaw.
- D. sfastrygować zaszewki, szwy modelowe oraz przyfastrygować kołnierz.

Zadanie 27.

Które czynności podczas szycia spodni wykończonych w talii paskiem z podtrzymywaczami, należy wykonać jako pierwsze?

- A. Wszyć pasek i podtrzymywacze.
- B. Wszyć zamek błyskawiczny z listewką.
- C. Zszyć zaszewki, szwy boczne i wewnętrzne nogawek.
- D. Zszyć zaszewki, naszyć kieszenie, wszyć pasek i zamek błyskawiczny.

Zadanie 28.

Obróbka klejowa odzieży polegająca na łączeniu z wkładem klejowym drobnych elementów w celu uzyskania usztywnienia i stabilizacji kształtów, to technika

- A. małych wklejek.
- B. tymczasowych połączeń.
- C. wkładów sztywnikowych.
- D. klejowych wkładów konstrukcyjnych.

Zadanie 29.

Stanowisko do prasowania ręcznego oprócz deski do prasowania i żelazka jest wyposażone również w

- A. prasę płytową i zaparzaczkę.
- B. rękawnik i poduszki do prasowania.
- C. prasulce, nożyczki i taśmę centymetrową.
- D. manekin parowo-powietrzny i szczotkę do prasowania.

Zadanie 30.

Zalecana temperatura żelazka do prasowania tkanin z jedwabiu naturalnego wynosi

- A. 280÷300°C
- B. 180÷220°C
- C. 140÷160°C
- D. 115÷140°C

Zadanie 31.

W celu zapobieżenia kurczeniu się odzieży w procesie obróbki i użytkowania, tkaninę poddajemy

- A. sprasowaniu.
- B. dekatyzowaniu.
- C. odprasowaniu.
- D. zaprasowaniu.

Zadanie 32.

Sprawdzanie ogólnej estetyki ubioru, prawidłowego rozmieszczenia dziurek i staranności prasowania to elementy kontroli

- A. form i wykrojów.
- B. międzyoperacyjnej.
- C. gotowego wyrobu odzieżowego.
- D. wykonania elementów odzieży.

Zadanie 33.

Który ze znaków określających warunki prasowania oznacza: *maksymalna temperatura prasowania 110°C*?



A.



B.



C.



D.

Zadanie 34.

Skład surowcowy tkanin można rozpoznać na podstawie koloru nitek w kraje. Wełna i włókna wełniane oznacza się za pomocą nitek w kolorze

- A. żółtym.
- B. zielonym.
- C. niebieskim.
- D. czerwonym.

Zadanie 35.

Podstawową przyczyną powstawania fałd poziomych na główce rękawa jest zbyt

- A. szeroki rękaw.
- B. długie ramię bluzki.
- C. głęboki podkrój pachy.
- D. wysoka główka rękawa.

Zadanie 36.

Spódnica prosta zapinana z tyłu na zamek błyskawiczny i wykończona paskiem jest za szeroka w pasie o 3 cm, a w biodrach o 4 cm. W celu dopasowania spódnicy do figury klientki należy:

- A. odpruć pasek, pogłębić zaszewki w przodzie i w tyle, skrócić pasek, wszyć pasek do spódnicy.
- B. odpruć pasek, zwęzić spódnice w szwach bocznych na odcinku od linii talii do linii bioder, wszyć pasek do spódnicy.
- C. odpruć pasek, zwęzić spódnice w szwach bocznych na całej długości, skrócić pasek i wszyć pasek do spódnicy.
- D. odpruć pasek w tyle spódnicy, wypruć zamek błyskawiczny, zwęzić spódnice w szwie środkowym tyłu, wszyć zamek i pasek do spódnicy.

Zadanie 37.

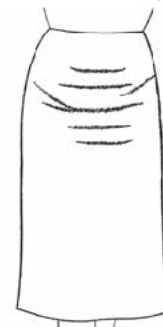
Do wykończenia dołu rękawa bluzki wizytowej w celu wydłużenia zbyt krótkiego rękawa można zastosować

- A. obręb.
- B. falbankę.
- C. lamówkę.
- D. ściąg dziergany.

Zadanie 38.

W celu wykonania przeróbki spódnicy lnianej, w której tworzą się poprzeczne fałdy w przodzie, należy

- A. skrócić przód na linii dołu.
- B. pogłębić podkrój przodu na linii pasa.
- C. poszerzyć przód i tył na linii pasa i bioder.
- D. pogłębić podkrój tyłu i przodu na linii pasa.



Zadanie 39.

Naprawa błędu w postaci fałd zachodzących na siebie w dole spódnicy polega na

- A. sprasowaniu kantów fałd.
- B. podwyższeniu linii pasa z przodu.
- C. pogłębieniu podkroju pasa z przodu.
- D. wypuszczeniu zapasu w szwie bocznym.

**Zadanie 40.**

Jaki jest koszt wykonania usługi polegającej na skróceniu spódnicy i wymianie podszewki w spódnicy, jeśli podszewka do punktu usługowego została dostarczona przez klientkę?

- A. 25 zł
- B. 30 zł
- C. 40 zł
- D. 50 zł

Cennik usług krawieckich			
Skracanie		Wymiana podszewki	
spódnica	15 zł	spódnica	25 zł + materiał
spodnie	20 zł	żakiet	80 zł + materiał
rękawy	30 zł	kurtka	80 zł + materiał

